

第一部分 常识判断

根据题目要求，在四个选项中选出一个最恰当的答案。

请开始答题：

1. “四个全面”是党中央治国理政的全新战略布局，奏响了实现中华民族伟大复兴中国梦的强劲旋律。“四个全面”是指（ ）。
 - A. 全面建成小康社会、全面深化改革、全面推进依法治国、全面从严治党
 - B. 全面建设生态文明、全面对外开放、全面推进经济转型、全面治理腐败
 - C. 全面建设文化强国、全面深化改革、全面推进依法治国、全面治理环境
 - D. 全面建成小康社会、全面对外开放、全面推进农村改革、全面从严治党
2. 习近平总书记在党的群众路线教育实践活动总结大会上的讲话中指出：“‘知屋漏者在宇下，知政失者在草野。’让群众满意是我们党做好一切工作的价值取向和根本标准，群众意见是一把最好的尺子。”这一党建理念所依据的哲理是（ ）。
 - A. 人民群众是实践主体、生产力主体、历史创造者
 - B. 社会基本矛盾决定社会发展的基本性质和总趋势
 - C. 上层建筑适应经济基础需要是社会发展的基本规律
 - D. 社会历史发展是无数个人力量的合力作用的结果
3. 孟子曰：“夫物之不齐，物之情也。或相倍蓰，或相什百，或相千万。子比而同之，是乱天下也。”其哲学寓意是（ ）。
 - A. 事物之间或事物内部普遍存在矛盾
 - B. 矛盾双方在一定条件下可相互转化
 - C. 内部矛盾总是事物发展的根本动力
 - D. 矛盾着的事物及每个侧面各有特点
4. 农民说，幸福就是庄稼收成好，收入增加；职业经理人认为，最幸福的事情就是把公司做成一个世界品牌；教师认为，培养出优秀学生就是最幸福的事。可见，不同的人对幸福的诠释不同，这说明（ ）。
 - A. 价值判断依据事实，具有真理性
 - B. 价值判断因时而异，具有历史性
 - C. 价值判断因人而异，具有主观性
 - D. 价值判断没有规律，具有盲目性
5. 下列企业的行为，违背法律规定的是（ ）。
 - A. 某印染企业排污前依照法律规定上缴环境保护税，不缴排污费
 - B. 某石化企业取得排污许可证，只按照许可证的要求排放污染物
 - C. 某橡胶厂排污导致突发环境事件，未通报可能受到危害的居民
 - D. 某家禽屠宰场属一般排污企业，未向社会公开其污染物的名称
6. 竹枝词是风土诗的一种，保存了大量有价值的第一手资料。如要了解近代上海开埠后的商业活动，可选用的竹枝词是（ ）。
 - A. 田家妇女帮农作，镇市夫男晓女工。蓬首晨兴遥入市，归家手挈米和盐
 - B. 北口山头民力忙，耕牛无恙乐平康。一鞭残照吹横笛，蚕豆青青麦半黄
 - C. 菜圃瓜畦拓百弓，杭家村北夕阳红。楝花倒覆三间屋，酒幔低垂十里风
 - D. 南北分开两市忙，南为华界北洋场。有城不若无城富，第一繁华让此方
7. 近年来，汉式婚礼渐成时尚的婚礼形态。下列关于汉式婚礼相关仪节的寓意，解释错误的是（ ）。
 - A. 男须送女一赘见礼物，多为大雁，寓意不离不弃
 - B. 夫妇各剪一缕青丝以红缨结起来，寓意永结同好
 - C. 夫妇共饮一匏酒后将匏一剖为二，寓意阴阳相生
 - D. 夫妇共食一鼎所盛装的一牲之肉，寓意尊卑相同

8. 经考古工作者发掘考证，礼制很早就已经出现了。《说文解字·示部》云：“礼：履也……从示从豊”，又云：“示：天垂象，见吉凶，所以示人也。”《甲骨文字集释》云：“事神之器则为豊。”由此可以推断，礼的原义是（ ）。
- A. 分等别贵贱
B. 谦卑爱臣民
C. 处世慎言行
D. 敬神以祈福
9. 某些影视作品在创作过程中因缺乏考证，有时存在违背史实的错误，下列影视片段不符合史实的是（ ）。
- A. 岳飞激愤地说：“身为南宋子民，定当以抗金报国为己任。”
B. 隋炀帝笑曰：“择日朕将乘龙舟巡游大运河，众爱卿同往。”
C. 李白大声疾呼：“安能摧眉折腰事权贵，使我不得开心颜！”
D. 戚继光慷慨陈词：“此番出兵，责任重大，必将扫平倭寇。”
10. 吉林雾凇形成的条件是（ ）。
- A. 松花江江心常年不封冻，容易形成大量水蒸气
B. 松花湖作为人工湖泊处于十分独特的地理位置
C. 丰满水电站放出的暖水与冷空气间的相互作用
D. 松花江吉林市段河道变窄，水流湍急形成大雾
11. 对以下西方著名典故的喻指，解释错误的是（ ）。
- A. 潘多拉的盒子——造成灾害的根源
B. 诺亚方舟——世外仙境，也指避世隐居的地方
C. 斯芬克斯之谜——复杂、神秘、难以理解的问题
D. 达摩克利斯剑——潜在的随时可能发生的危机
12. 犹太人有句名言：没有卖不出去的豆子。卖豆子的农民如果没卖出豆子，可以加水让它发芽，几天后就可以卖豆芽；如果豆芽卖不动，干脆让它长大些卖豆苗；如果豆苗卖不动，可以移植到花盆卖盆景；如果盆景卖不动，那么就把它移植到泥土里，几个月后，它就会长出许多豆子。要实现从商品到货币的转化，卖豆子的农民应该（ ）。
- A. 在制成盆景时卖出
B. 在能够卖掉时卖出
C. 在结出豆子时卖出
D. 在价格最高时卖出

15. 古人常依据自己的名取字，所取的字多与名含义相同或属同义联想，但也有的字与名反义相对。下列属于字与名反义相对的一项是（ ）。
- A. 班固，字孟坚；杜甫，字子美
B. 关羽，字云长；贾岛，字浪仙
C. 韩愈，字退之；朱熹，字元晦
D. 周瑜，字公瑾；曾巩，字子固
16. 某新闻媒体欲结合12月份的重要纪念日、活动日等时间节点，推出系列公益广告，这些公益广告主题可以是（ ）。
- A. 防范艾滋病、宣传宪法、公祭南京大屠杀死难者同胞
B. 防范艾滋病、节约用水、纪念香港回归
C. 关爱残疾人、节约粮食、纪念澳门回归
D. 宣传劳动法、保障人权、纪念辛亥革命
17. 大量议案、提案是每年两会的焦点。关于议案与提案的区别，下列说法错误的是（ ）。
- A. 议案用于人大会议，提案用于政协会议
B. 议案一经通过便具有法律效力，提案没有法律效力
C. 议案内容应在受案者职权范围内，提案不限内容
D. 议案可由个人提出，提案必须由团体提出
18. 雨后晴朗的月夜，为了防止踩到地上的积水，下列判断正确的是（ ）。
- A. 迎着月光走，地上发亮处是水；背着月光走，地上暗处是水
B. 迎着月光走或背着月光走，都应该是地上暗处是水
C. 迎着月光走或背着月光走，都应该是地上发亮处是水
D. 迎着月光走，地上暗处是水；背着月光走，地上发亮处是水
19. 雷雨天躲在室内，有时也容易遭到雷击。下列关于室内预防雷击的说法，错误的是（ ）。
- A. 关闭门窗可以阻止球形雷电进入
B. 靠墙壁的位置比房间中央更安全
C. 不宜靠近电器设备以及使用电器
D. 不使用淋浴冲凉或触摸金属管道
20. 变色龙的体色随环境颜色而变化，这是生物与环境相适应的一种现象。下列现象与此不相类似的是（ ）。
- A. 枯叶蝶停在树上像枯叶
B. 蚯蚓活动使土壤松弛
C. 仙人掌的叶退化成针形
D. 竹节虫外形酷似竹节

第二部分 言语理解与表达

本部分包括表达与理解两方面的内容。请根据题目要求，在四个选项中选出一个最恰当的答案。

请开始答题：

21. “一带一路”是“丝绸之路经济带”和“21世纪海上丝绸之路”的简称。它借用古代“丝绸之路”的历史_____，高举和平发展的旗帜，主动地发展与沿线国家的经济合作伙伴关系，共同打造政治_____、经济_____、文化_____的利益共同体、命运共同体和责任共同体。
填入划横线部分最恰当的一项是（ ）。
- A. 符号 互信 融合 包容
B. 传说 相助 相扶 共荣
C. 故事 互帮 共通 相融
D. 典故 共存 互助 互动
22. “北师大保安考上研究生”这件事之所以引发关注，就在于它的稀缺，这也从侧面说明阶层固化导致_____的_____不够充分。
填入划横线部分最恰当的一项是（ ）。
- A. 向上 社会流动
B. 纵向 社会流动
C. 上下 阶层流动
D. 向上 人口流动
23. 特立独行的人生，无法被标签化定格，作家张贤亮即如是。2014年9月27日下午，张贤亮猝然病逝，“灵与肉”已经安息，可是在要“_____”的时刻，却似乎没有哪个标签能准确无虞地概括其一生：“新中国首个突破‘性禁区’的作家”“伤痕文学的代表人物”“中国先锋文学第一把火的点燃者”“一个成功出卖荒凉的人”。似乎只有把这些都合起来，才能拼凑出其遍是棱角的人生切面。
填入划横线部分最恰当的一项是（ ）。
- A. 曲终人散
B. 水落石出
C. 尘埃落定
D. 结案陈词
24. 中国女性自古就有节俭的传统，总觉得“等有了更好的工作”“等有了房子”“等攒了更多的钱”“等孩子长大了”之后才能享福。殊不知，她们一直在_____幸福，却难得真正_____幸福，实际上等于消灭了幸福。
填入划横线部分最恰当的一项是（ ）。
- A. 预约 享受
B. 约定 享受
C. 预订 消受
D. 预定 消受
25. 事实上，社会上自称“收入低”的群体很多，很少有人对自己目前的薪资水平完全满意。有代表委员认为，若要让人们普遍有“_____”而不是“_____”，应加大收入分配改革的力度，在全社会建立起合理的薪酬体系，同时尽快完善社会保障网。
填入划横线部分最恰当的一项是（ ）。
- A. 满足感 期待感
B. 幸福感 空虚感
C. 满意度 不满意
D. 获得感 没底感
26. 春天时，湖水涨满，湖天一色，船行湖中，如行天上；秋日里，山色斑斓，山景如画，人游山中，如行画中。
根据语境，以“春水船如天上坐”为上联，最贴切的下联是（ ）。
- A. 秋色人如画中行
B. 秋山人似画中游
C. 秋日人行景中画
D. 秋景人若行画中

27. 下列语句表达有误的一项是（ ）。
- A. 在此背景下，亚洲国家能否继续发展的关键在于正视历史、妥善处理分歧，聚焦共同利益。把互利共赢的合作愿望落到实处
- B. 年会专门设计了一个“超越冷战思维：新的亚太安全观”分会，就是希望倡导通过对话协商和平解决国家间争端，反对动辄使用武力和以武力相威胁，希望推动走出一条各国共建、共享、共赢的安全之路
- C. 我们就亚洲基础设施投资银行与金砖国家开发银行专门设置了一场分论坛。中国倡议建设亚投行以来，许多国家积极呼应
- D. 我们围绕“亚洲命运共同体”设置了众多议题，目的就是想挖掘地区经济体在不同领域有何共同利益，尝试从它们各自的角度来诠释亚洲面临哪些共同挑战和共同机遇
28. 下列括号内的俗语使用不正确的一项是（ ）。
- A. 先进后进只是相对而言，（尺有所短，寸有所长），班级各有千秋，我们班虽是先进集体，但也有不足
- B. 面对各路强手，17岁小将龙清泉（初生牛犊不怕虎），顽强拼搏，勇夺奥运举重金牌
- C. 运输队长说：“（不入虎穴，焉得虎子），时间再紧，我们也要把这批物资按时送到边防站。”
- D. 齐白石经过“（不教一日闲过）”的努力才成为国画大师，可谓十年一剑，功夫不负苦心人
29. 我和父亲感情极深，但直至他老人家临终我都没能说一句“爸爸我爱你”，不是不想说而是说不出口。我二十几岁时看西方电影，见外国人搂着老父亲说“爸爸我爱你”，心中感慨万分，就决心在儿子身上试验。当儿子可以交流的时候，我就和儿子深情地说：“儿子，爸爸爱你，你得说，我爱爸爸。”不懂事的儿子就此和我共同与传统的含蓄文化抗衡，天天上演国人觉得很肉麻的一幕。这是一场文化与制度博弈的试验。10年后，试验有了结果，儿子小学四年级的一天，我把他摁在床上深情地说：“儿子，爸爸爱你！”儿子毫不犹豫地对我说：“少来这一套！”
- 这段文字最想说明的是（ ）。
- A. 我国传统文化中有含蓄表达的积习 B. 父子之间的感情交流须契合传统文化
- C. 制度与作为社会背景的文化抗衡往往徒劳 D. 东方的含蓄与西方的直白是一种文化差异
30. 哈佛大学经过25年的跟踪调查发现，3%的人有十分清晰的长期目标，几乎都成了社会各界顶尖成功人士，其中不乏白手创业者、行业领袖、社会精英；10%的人有比较清晰的短期目标，大都生活在社会的中上层，成为各行各业不可缺少的专业人士，如医生、律师、工程师、高级主管等；60%的人目标模糊，几乎都生活在社会的中下层面，只能安稳地生活与工作，但都没有什么特别的成绩；27%的人没有目标，几乎都生活在社会最底层。常常失业，靠社会救济，并且常常抱怨他人，抱怨社会。
- 根据文字，哈佛大学调查的是（ ）。
- A. 目标与生活态度的关系 B. 目标对人生的重要程度
- C. 目标对人生的不同影响 D. 目标与社会阶层的关系
31. 下列描写古代女子花容月貌的诗句中，没有使用比喻修辞手法的是（ ）。
- A. 玉容寂寞泪阑干，梨花一枝春带雨
- B. 闲静时如娇花照水，行动处似弱柳扶风
- C. 翩若惊鸿，婉若游龙，荣曜秋菊，华茂青松
- D. 北方有佳人，绝世而独立。一顾倾人城，再顾倾人国

32. ①在辽阔的关东大地，三大怪之一是姑娘叼个大烟袋，旧时老一些的女人都是略有一支两支的
②另外，一支烟袋往出一伸，往往把家里上下或祖上的繁华气派也一并展览
③大烟袋中间为柄，柄须中空，一头上装烟的锅子，这锅子比铜钱大得多，另一头是烟嘴
④这烟袋还有一用，就是用来打小孩，小孩不听话，即使那祖母本来坐得有几尺远，也能伸出烟袋打到
⑤在上一个年代里生活的女人，也未必是人人都爱烟袋，也许只是风气使然
⑥此地烟袋特指装了烟的长柄器具，而非男人们随身携烟之口袋，有一尺或者两尺多长，拇指头粗细
将以上6个句子重新排列，语序正确的是（ ）。
- A. ⑤①③⑥④② B. ④③⑥①⑤②
C. ①⑥③⑤②④ D. ③⑥⑤④②①
33. 中国已经是全球智库大国，但很多机构并不是真的智库。从国内外经验来看，成功的智库大都具有独立性、专业性和有效性等特点。独立性表示政策主张不受资助者、利益集团的影响；专业性要求政策建议既有严谨的学术基础，又有很强的可操作性；而有效性则是指研究人员能够真正影响政府的决策。为了让“中国特色新型智库”发挥应有的作用，政府应该考虑在决策程序、税收政策和智库体制等方面进行一些改革，智库需要_____。
填在横线处最恰当的句子是（ ）。
- A. 把质量问题放在首位 B. 采取相对灵活的综合评估方法
C. 特别防范一些错误的认识和倾向 D. 逐步建立一些必要的行业规范与准则
34. “男性蠢货理论”研究显示，大部分男性的确倾向于冒不必要的风险，且常常做出蠢事。医院急救中心的记录和死亡率统计都能印证这一研究结果。比起女性，男性更易受到意外伤害，在运动中受伤，或遭遇交通事故。造成这种男女差异的有文化和社会经济因素，例如男性参与危险性体育运动的机会更多。但也存在一种所谓“蠢货风险”，即毫无意义的风险，而心甘情愿冒这种风险的往往都是男性。研究人员已搜罗到大量奇闻轶事来佐证这个理论，但他们还希望对男女差异进行系统性分析。
这段文字未暗示的信息是（ ）。
- A. 女性比男性智商高 B. 社会角色的差异是男性甘愿冒险的因素之一
C. 目前还未对“蠢货理论”进行科学地论证 D. 女性很少去冒毫无意义的风险
35. 有时你剪了一个失败的发型，觉得简直无脸见人，结果遇到熟人，别人也就是轻描淡写一句“剪头发啦”。或许我们都一厢情愿地放大了别人的看法，或许我们以为别人都在目不转睛地盯着我们。而那看法和目光，像一个无形的牢笼一样束缚了我们的行为和思想。但事实是，别人没有那么在意你。你以为的别人的目光和看法，只是自己对自己的判断和投射。你把自己的恐惧放大，然后躲在那个巨大的阴影里畏缩不前。
这段文字最合适的标题是（ ）。
- A. 其实，没有别人的目光 B. 其实，你可以勇敢
C. 其实，没有长期的关注 D. 其实，你渴望认同
36. 下列各句中有歧义的一句是（ ）。
- A. 生物航煤生产技术方兴未艾，专利储备战却已悄然展开，美国埃克森美孚、法国道达尔、芬兰耐斯特石油等企业已经在中国提交相关专利申请，相关技术的专利储备战已经悄然展开
B. 1999年，世界小行星协会给了张学友一个机会，命名一颗小行星为“MAY”
C. 2015年4月9日下午，李克强总理来到长春市南部新城综合枢纽工程现场，下到深达16.5米的施工地点考察
D. 近些年，公众对一些政府主导建设项目的集体抵制时常涌现，其中很重要的原因就是个别地方政府失去了公信力

37. 1927年胡适先生写道：“有一个时期，麻将竟成了西洋社会里最时髦的一种游戏，中国留学生没有钱的可以靠教麻将吃饭挣钱。”中国是麻将的发源地，但世界上惟一一家麻将博物馆却坐落在日本。博物馆展示着收集来的1万多册中日欧美麻将书籍、麻将桌、麻将器具和形形色色的麻将牌。展台按地域分，中国是麻将的发源地，日本有发达的麻将文化，美国曾爆发过麻将热，欧洲麻将则成为贵人的游艺。按主题分，有麻将与人类和平、麻将与印章、麻将与历史、麻将与书籍等。不能从这段文字直接推出的结论是（ ）。
- A. 麻将虽然源于中国却属于世界
B. 中国人更痴迷于麻将的浅层次娱乐活动
C. 日本比中国更重视麻将的文化价值
D. 中国留学生对传播麻将文化功不可没
38. 春节期间，duang“震碎”无数网友的眼睛。作为2015年开年第一个爆红的“字”，网友张口闭口不duang一下，似乎都不好意思跟人打招呼。然而，随着近年来这类网络新说法的日益增多，很多人开始担忧它们对传统汉字和传统文化的冲击，并建议应该规范汉字的使用。其实，汉字文化的演变本来就是一个继承与发展的动态过程，这些网络新说法，作为当下社会发展的映照，从一个侧面说明我们的汉字文化是一种充满活力的、可再生的文化体系。如果真的有一些说法被留下来了，也不失为一件悦事。概括文段语义，最恰当的一项是（ ）。
- A. 文字传承有自身规律，无需谈“新”色变
B. 新说法的涌现不会冲击传统文化，甚至还丰富了汉字文化体系
C. 汉字的极大丰富说明汉字文化具有极大的可再生能力
D. 随着大量新词的产生，应该不断规范汉字的使用
39. 名字这个东西大家都知道很重要，但是现在的重要和以前的重要还是不一样的，以前要八字合，现在则要考虑传播。一个好名字，要好记，也要好传播，而且要注意的是，在传播的时候不能走样，不能引起误读，若能给人留下好的印象，就非常完美了。这段文字意在说明（ ）。
- A. 一个好名字，起码要八字合
B. 一个好名字，其印象分要高
C. 一个好名字，其传播力要强
D. 一个好名字，不能有歧义
40. 老话“时间如流水”可能是错的。一个新的理论称，时间并不是向前流逝的，相反，时间中的一切都是始终存在的。该理论称，如果我们“俯瞰”宇宙，那么我们将看到时间是向着所有方向延伸的，正如我们此刻看到的太空。这个有趣的理论是由麻省理工学院的哲学副教授布拉德福德·斯科博士提出的。他认为时间并非从我们身边驶过并永远消失不见——相反，它们存在于时空的不同位置。下列语句中，符合这一理论的说法是（ ）。
- A. 我们在时间中穿行，就像一艘船在水上航行
B. 时间是对称的，在另一个宇宙中的智慧体看来，我们宇宙的时间是后退的
C. 你在时间中被展开，类似于你在空间中被展开的那样，我们并非处于单一的时间中
D. 现在是一个“焦点”。从过去移动至未来，我们处于这个焦点之中，并随着它前进
41. 春秋时期，鲁国上卿大夫季文子掌握国政和统兵之权，却“家无衣帛之妾，厩无食粟之马、府无金玉”。仲孙它提醒他，这样有损国家气派，吝啬而不体面。季文子回答，国家形象的维系要靠高尚品德，而非美妾良马，“若独贪于奢侈，好于文章，是不德也。”这则故事能给当今公务员带来的启示是（ ）。
- A. 生活俭朴，官员才能维护国家形象
B. 为政以德，勤俭自律，官员要注重个人品行修养
C. 联系群众，放下身段到群众中去
D. 合理用权，权为民所用而不是以权谋私

42. “红头文件”并非法律用语，是老百姓对“各级政府机关”（多指中央一级）下发的带有大红字标题和红色印章的文件的俗称。“红头文件”始于西魏时期，当时有位政治家苏绰擅长算术。据《周书·苏绰传》记载：“绰始制方案程式，朱出墨入，及计账户籍之法。”“朱出墨入”，指的是朝廷发出的文书是用朱（红色）标，下面上呈的文书是用墨（黑色）标，界限严明。
- 根据文字，以下说法错误的是（ ）。
- A. “朱出墨入”的文书程式创于西魏
B. 古代朝廷发出的文书似于今天的“红头文件”
C. “红头文件”之称不是专业用语
D. “红头文件”的叫法起源于西魏时期
43. 在微信的《使用条款和隐私政策》里明确写着：“腾讯保留因业务发展需要，单方面对本服务的全部或部分服务内容在任何时候不经任何通知的情况下变更、暂停、限制、终止或撤销腾讯微信服务的权利，用户需承担此风险。”这意味着，哪天腾讯突然关闭微信了，他无需负担任何责任。在免费时代，真正的减免只是“价格”。作为交换，仍需付出其他“代价”，可能是安全，也可能是隐私。爱因斯坦曾说过：“有时候一个人为了不花钱得到的东西付出的代价最高。”即使如此，或许已没有回头路。
- 下列俗语中，与这段文字主旨相符的是（ ）。
- A. 丢下西瓜捡芝麻
B. 吃人嘴短，拿人手软
C. 苍蝇不叮无缝蛋
D. 世上没有免费的午餐
44. 森林还是_____。在一个森林环抱、绿树成荫的城市里，这个功能最明显。这里，人们不但会感到空气清新，还会感受到它的温度和湿度方面的双重影响。冬季，它能挡风御寒，既可使寒冷的气温不致降得过低，又可使冬天不至于过分干燥；夏季，它能吸收一部分太阳辐射，形成绿地里良好的小气候，为人们创造凉爽、舒适的生产、生活环境。
- 填入划横线部分最恰当的一项是（ ）。
- A. 一台超能吸尘器
B. 一个大型滤清器
C. 一部巨大的空调机
D. 一座城市大氧吧
45. 东晋名臣陶侃早年曾是一名县吏。一次，一位家里很有势力的同僚托陶侃帮忙办点事，因为违反朝廷法令而被陶侃拒绝了。同僚被拒绝后，又气又恼，不仅四处散播陶侃受贿的谣言，而且常常在县衙当着众人的面对陶侃冷嘲热讽，让陶侃大为头疼。这一年，县里发生旱灾，同僚对陶侃的攻击也逐渐升级，很多人劝陶侃辞职。然而，陶侃还是选择积极研究应对旱灾的方法，并得到州官的采纳。灾情得到了有效的控制后，陶侃被州官举荐到朝廷。
- 下列关于从政为官之道的名言，与这段文字内容无关的是（ ）。
- A. 以权力合者，权力尽而交疏
B. 慎终如始，则无败事
C. 上交不谄，下交不骄，则可以有为也
D. 想谗邪，则思正身以黜恶
46. 一项新研究发现，低温能通过将所谓的“坏”脂肪转化为“好”脂肪帮助人体燃烧卡路里。这一理论基于两种脂肪的不同特性。我们都再熟悉不过的讨厌的白色脂肪会吸收额外的卡路里并将它们储存在肚子、腰间和大腿中。但成年人还有少量的另一种“健康脂肪”，这种褐色脂肪专门燃烧卡路里同时产生热量。婴儿有大量褐色脂肪来保暖，褐色脂肪多的成年人也更苗条。
- 下列在文中没有提及的是（ ）。
- A. 褐色脂肪是一种“健康脂肪”
B. 成年人体内既有白色脂肪也有褐色脂肪
C. 低温能够将白色脂肪转变成褐色脂肪
D. 婴儿体内的褐色脂肪更多

47. 人是生活在一定的社会场域之中的。从传播的角度看，一举手一投足，都是一种表达。观其行再晓其人，公众就是通过外在举止了解行为人的。举止代表什么意义，解释权往往不在自己，对于公众人物尤其如此。就拿前阵子某市领导打伞观看学生淋雨做操的事件来说，可能领导平时也是爱孩子的，到学校也不过是正常的工作，可对比画面凝固下来，传递出的形象就由不得他了。

这段文字意在强调（ ）。

- A. 舆论对公众人物具有极其重要的作用
- B. 公众人物更容易暴露在舆论危墙之下
- C. 舆论主导的公众形象未必与公众人物自身相一致
- D. 公众人物更应注重自身形象

48. 微软的智能手表抢占了去年圣诞销售季，但是，它与消费者的蜜月期不会持续很久。在苹果智能手表于今年春天问世之后，较昂贵的可穿戴设备则将由苹果公司主宰。原因之一是苹果的品牌效应，另一个原因则是苹果手表比微软的智能手表更专注于成为一个第三方应用程序平台。2015年，人们会把购买苹果手表视为地位的象征，类似于他们的首台iPhone或iPad。不过到2016年，苹果手表则需要证明，自己能做的不仅仅是测算心率、收到文本时发出提示音或显示时间。

根据这段文字，可以看出作者的意图是（ ）。

- A. 预言苹果手表的市场前景
- B. 预测苹果手表的多功能发展趋势
- C. 提高公众对苹果手表的期待值
- D. 激发公众对苹果手表的想象力

49. 去年年底以来，专车服务迅速成为人们热议的话题。借助互联网平台的“专车”，选择更加多样化、体验明显改善：预约时间、上门接送、乘坐舒适、多种车型和价位……方便、舒适的专车服务，成为缓解城市居民出行难的“及时雨”。但是，也有消费者提出担忧，最多集中在安全方面。专车上并未安装GPS定位系统，也没有强制的保险和车辆安全性能检测，出现纠纷后会出现“求助无门”的现象。

这段文字意在强调（ ）。

- A. 专车服务模式的创新
- B. 相关部门监管的缺失
- C. 专车市场的机遇与挑战
- D. 专车市场的发展瓶颈

50. 《庄子》中有这样一则故事。庄子找监河侯借粮，监河侯说：“好啊，我很快就要收租税了，到时候可以借给你三百黄金。”庄子就给监河侯讲了一个寓言：我昨天来的时候，半路上听到有呼救的声音。我回头一看，发现车辙里有一条鲫鱼。我问它，你喊什么呀？鲫鱼答道，我是东海里的水族，您可有“斗升之水”，来救救我的性命吗？我说，行呵，我正要到南方去游说吴越的国王，让他引“西江之水”救济你。这条可怜的鱼说，要是那样的话，你干脆到干鱼铺去找我。

下列选项中与庄子所讲的故事寓意最为贴切的是（ ）。

- A. 口惠而实不至
- B. 授之以鱼，不如授之以渔
- C. 好钢用在刀刃上
- D. 远水解不了近渴

一、阅读下面的短文，回答51-55题：

我和朋友圈的人聊起各自小时候的故事时，他们会觉得我老爸对我的苛刻要求很过分，因为他们从小到大在家听到的都是表扬和鼓励，很少被家长严厉地批评。在他们看来，我爸带给我的都是负能量。我对他们说：“假如你们不是从小在北京长大，而是像我一样，在小县城长大，没有负能量激发你，你就不可能走得出来。”

正能量的关怀适合坦途的赏花者，而负能量的刺激适合绝壁的攀登者。

每一个从负能量包围圈中成功脱逃的人，其间忍受的辛苦都是无法对外人言明的。而一个人每次对自我的极大突破，莫不是源自孤身从负能量的_____中杀出。这个过程对你胆气、心力的锻造，足以让你_____。当然，你也可能就此沉沦、被征服。而万一_____，它给你带来的巨大快感能让你瞬间领悟成长的真谛。当你一个人干掉要吞噬你的整个负能量集团军时，那种成就感绝非正能量的鲜花、掌声、赞扬所能比拟。一场惊心动魄的逆袭要比毫无悬念的完胜精彩太多，也诱人太多。

许多人说：“不要和那些带给你负能量的人在一起。”但我每当回想自己的成长经历时，我更多的是想到那些曾给我带来负能量的人。每一次负能量的冲击波袭来，在令我痛苦的同时也令我迅速成长。

正是那些负能量，让我从充满温情和爱意的童话笔触描绘下的世界里走出，从充满书生气迂腐气的书斋里走出，来独自面对这个庞大、冰冷而陌生的世界。但当我不得不忍痛从跌倒处爬起时，不得不运用自己的力量和意志去揭开真实世界的面纱时，我才慢慢发现，原来真实的世界并非初看时那样，在它庞大、冰冷和陌生的外表下，也潜藏着幽默、温馨和感动。

我因此知道，真实的世界和童话里的世界，未尝不是同一个世界；真实的世界和书斋里的世界，未尝不是同一个世界；（而正能量与负能量，也未尝不是同一种能量。）藏在幕后的上帝，就像双子座的孩子，有着双重性格。上帝摆出一副严肃的面孔，却未尝不是一个狡黠的胆小鬼，而那些负能量，正是用来检验勇敢者和凡夫的试金石。

每个人都希望永远和正能量为伍，但这个世界不能只有白天而没有黑夜。没人能够永远活在正能量的庇护下，最好的成长就是直面负能量，并干掉它们。

51. 依次填入横线处的成语，符合语境、搭配合理的一组是（ ）。

- A. 十面埋伏 绝处逢生 脱胎换骨
B. 绝处逢生 脱胎换骨 十面埋伏
C. 十面埋伏 脱胎换骨 绝处逢生
D. 绝处逢生 十面埋伏 脱胎换骨

52. 下列选项中，不属于文中所阐述的“负能量”的是（ ）。

- A. 家境贫寒造成的自卑
B. 追忆少不更事的感伤
C. 忍受冷嘲热讽的屈辱
D. 饱尝挫折带来的痛苦

53. 对文中划括号的语句理解正确的一项是（ ）。

- A. 能量本身就包含着正负两面，无从选择
B. 作者对自己人生经验的感悟，不具有普遍意义
C. 无论正负能量都有可能成为成长的助力
D. 对于勇敢者和凡夫而言，正负能量都一样

54. 作为选文标题，最恰当的一项是（ ）。

- A. 最好的成长就是直面负能量
B. 负能量的刺激适合绝壁的攀登者
C. 实现人生逆袭的精彩
D. 正能量与负能量可以互相转化

55. 阅读全文，评析或推断不恰当的一项是（ ）。

- A. 正能量不能使人更好地成长
B. 此文针对的是当今社会越来越提倡正能量，逃避负能量的趋势
C. 全文一直以负能量为中心，却带给读者很多正能量
D. 战胜负能量能获得更大的成就感

第三部分 数量关系

在这部分试题中，每道题呈现一段表述数字关系的文字，要求你迅速、准确地计算出答案。
请开始答题：

56. $\frac{1}{2}, \frac{3}{4}, \frac{7}{8}, \frac{15}{16}, ()$

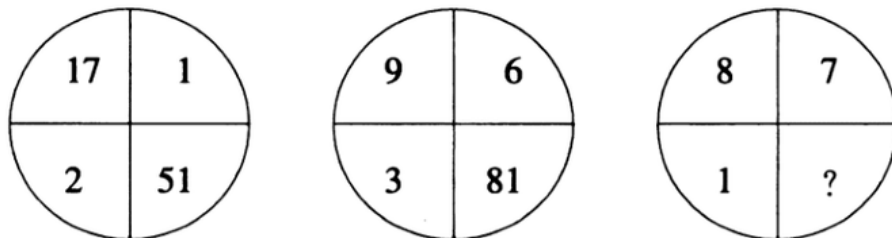
A. 17/32

B. 29/36

C. 19/34

D. 31/32

57.



A. 64

B. 48

C. 56

D. 72

58. -53, 28, 1, 10, 7, ()

A. 9

B. 3

C. 8

D. 13

59. 3, 5, 7, 11, 19, (), 307

A. 23

B. 57

C. 51

D. 37

60. -2.1, -1.3, (), 7.7, (), 23.11

A. 2.5, 14.9

B. 5.7, 15.9

C. 4.5, 11.7

D. 3.5, 15.9

61. 2015年政府工作报告的高频词有26个，“发展”、“改革”两词居前，高频词出现的总次数是“改革”一词出现次数的11.5倍多3，“发展”一词出现的次数比“改革”一词多54次，比高频词出现的总次数的 $\frac{1}{7}$ 多6。则2015年政府工作报告的26个高频词共出现多少次？()

A. 678

B. 854

C. 777

D. 715

62. 两艘船相对划行，一船从A到B顺水，一船从B到A逆水，结果所用时间相同(假设水流速、行船速恒定，快船速是慢船速2倍)。则慢船速是水流速的几倍？()

A. 1

B. 4

C. 3

D. 2

63. 张村村长和李村支书到对方村中调研，两人以相同的速度同时相向出发，2人相遇后，张村村长的速度提高了 $\frac{1}{3}$ ，又用2.5小时到达李村，李村支书的的速度减少了 $\frac{1}{6}$ ，则再用几个小时可到达张村？

()

A. 3

B. 4.5

C. 4

D. 3.5

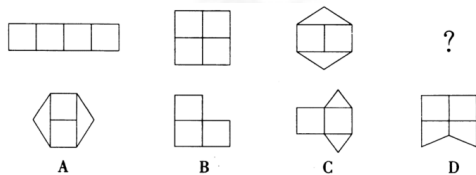
64. “我是歌手”某场比赛由六名首发歌手和一名踢馆歌手抽签决定出场顺序，且规定第一位出场和第七位出场歌手由踢馆歌手和上一场比赛第一名歌手抽取，剩余出场顺序由其他歌手抽取，则本场比赛出场顺序的排列共有多少种情况？（ ）
- A. 240
B. 6000
C. 10080
D. 120
65. 股市融资具有资金放大效应，也有赔本的可能，一股民融资10万元，本钱10万元，全部用于购买股票，融资利息率是6%，卖掉股票得到22万元。则实际盈利利率为（ ）。
- A. 5%
B. 8%
C. 7%
D. 6%

第四部分 判断推理

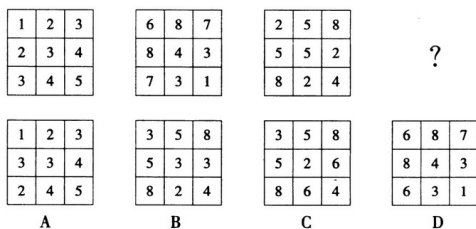
一、图形推理。请按每道题的答题要求作答。

请开始答题：

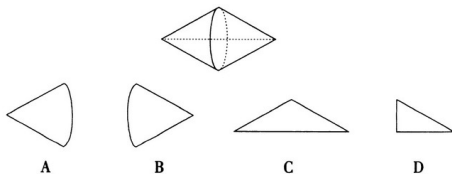
66. 从所给的四个选项中，选择最合适的一个填入问号处，使之呈现一定的规律性（ ）。




67. 从所给的四个选项中，选择最合适的一个填入问号处，使之呈现一定的规律性（ ）。



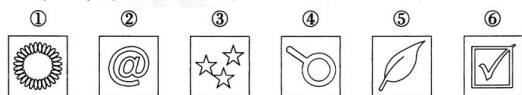
68. 以下立体图是由哪个平面图形绕横轴旋转一周而成的？（ ）



69. 从所给的四个选项中，选择最合适的一个填入问号处，使之呈现一定的规律性（ ）。



70. 把下面的六个图形分为两类，使每一类图形都有各自的共同特征或规律，分类正确的一项是（ ）。



A. ①②③, ④⑤⑥

B. ①④⑥, ②③⑤

C. ①③⑤, ②④⑥

D. ①③④, ②⑤⑥

二、定义判断。每道题先给出定义，然后列出四种情况，要求你严格依据定义，从中选出一个最符合或最不符合该定义的答案。注意：假设这个定义是正确的，不容置疑的。

请开始答题：

71. 通感，又称移觉，就是在描述客观事物时，用形象的语言使感觉转移，将人的听觉、视觉、嗅觉、味觉、触觉等不同感觉彼此挪移转换，将本来表示甲感觉的词语移用来表示乙感觉，使意象更为活泼、新奇的一种修辞格。

根据上述定义，下列没有使用通感的是（ ）。

A. 红杏枝头春意闹

B. 你的眼睛就像天上的星星

C. 余音绕梁，三日不绝

D. 你的歌声真的很甜美

72. 负迁移,是指一种知识技能的掌握干扰或抑制了另一种知识技能的掌握。也就是已掌握的知识经验使新的学习发生了困难。凡新旧刺激物十分相似而又要求学习者做出不同的反应时,就可能发生负迁移现象。
- 根据上述定义,下列属于负迁移的是()。
- A. 已经懂得英语的人,就会很容易地掌握法语
B. 爱好打篮球的小王,耽误了学习文化课的时间
C. 不会骑自行车的人,学习骑摩托车就会很费力
D. 学会汉语拼音,就会对学习英文音标产生干扰
73. 受体失敏现象,是指当长时间用恒定不变的信号刺激细胞时,细胞表面的感受器或受体将会逐步失效,最终的效果是细胞对这种恒定不变的刺激没有响应的生物学现象。
- 根据上述定义,下列属于失敏现象的是()。
- A. 长期工作在机器轰鸣的车间中,最后对车间里的噪音充耳不闻了
B. 随着年纪越来越大,舌头对味道越来越不敏感了
C. 因为患了重感冒,鼻子就什么味道都闻不到了
D. 穿惯了棉质的衣服,对其他材质的就再也穿不惯了
74. 领导权变并非是一种权术,其实质是一切从实际出发,根据领导活动的具体情境,灵活采用合适的领导方式去实现领导价值。在领导活动中权变的是方法和策略,不变的是价值和方向。
- 根据上述定义,下列属于领导权变的是()。
- A. 赵科长把复杂的任务交给了工作能力较强的小张,新来的小陈负责收集资料
B. 张科长在工作中总是当机立断、雷厉风行,可下班回家后就对老婆言听计从
C. 李县长亲自下乡送水,随行人员拍照、录像后,李县长马上乘专车返回县城
D. 王书记刚刚带领干部群众完成抗旱自救工作,又忙着去协调路网建设纠纷
75. 移位不同于易位。只要当本来应该出现在原型结构中某个位置的成分离开原来的位置,跑到结构中其他位置上去了,就是移位,移位后的成分一定可以充当这个结构的句法成分。而易位则是话语中临时追加或补正造成的,易位后的成分不能再分析为这个结构的句法成分。
- 根据上述定义,下列属于移位的是()。
- A. 一只羊跑了→跑了一只羊
B. 大伙笑得肚子都疼了→肚子都疼了,大伙笑得
C. 他大概到家了吧→到家了吧,他大概
D. 这地方太美了→太美了,这地方

三、类比推理。每道题先给出一组相关的词,要求你在备选答案中找出一组与之在逻辑关系上最为贴近,相似或匹配的词。

请开始答题:

76. 人体: 肝脏: 解毒
- A. 动物: 麋鹿: 四不像
B. 广告: 商业广告: 宣传
C. 树木: 叶子: 光合作用
D. 微量元素: 锌: 记忆力
77. 《国富论》: 亚当·斯密
- A. 中山装: 孙中山
B. 《西厢记》: 红娘
C. 加拿大: 白求恩
D. 《史记》: 司马迁
78. 微信: QQ: MSN
- A. 扫描仪: 打印机: 墨盒
B. 搜狐: 新浪: 网易
C. 邮票: 邮件: 邮箱
D. 电脑: 鼠标: 显示屏

79. 叶公好龙：名副其实
- A. 郑人买履：达权通变
B. 邯郸学步：东施效颦
C. 杞人忧天：庸人自扰
D. 愚公移山：持之以恒
80. 竹子对于（ ）相当于兔子对于（ ）
- A. 竹林；兔耳朵
B. 熊猫；草
C. 草本植物；动物
D. 竹笋；狼

四、逻辑判断。每道题给出一段陈述，这段陈述被假设是正确的，不容置疑的。要求你根据这段陈述，选择一个答案。注意：正确的答案应与所给的陈述相符合，不需要任何附加说明即可以从陈述中直接推出。

请开始答题：

81. 电影《星际穿越》里面讲到了五维空间，五维空间的意思就是一个人出生后碰到的事件的所有可能以及所有可能的选择创造出的不同人生所形成的所有的封闭圆环。包含了无数个这种不同选择所造成的不同结果的人生的封闭圆环组成了五维空间。
- 以下最能质疑五维空间存在的是（ ）。
- A. 电影《星际穿越》是科幻作品
B. 空间也具有时间的一维性
C. 人生不能重来
D. 科学家未发现五维空间的存在
82. 意大利帕维亚大学研究显示，刚刚坠入爱河的男女的大脑会发出指令，使人体分泌出一种化学物质，研究人员称这种物质为“爱情荷尔蒙”。这种化学物质令恋爱中的人相互吸引，产生拥抱时的那种安全感和满足感。有科学家认为，爱情荷尔蒙正是产生爱情的原因。
- 以下最能加强上述论证的是（ ）。
- A. “爱情荷尔蒙”能刺激后叶催产素的分泌，但是它在人体内仅仅能够存在大约一年时间
B. 在一些田鼠的脑中，注入一组可以不断增加荷尔蒙感受体的基因，这些田鼠会变得对异性依依不舍
C. 虽然大多数雌鼠都愿意与伴侣在一起，但如果有机会，也会发生“一夜情”，甚至抛弃“丈夫”
D. 科学家正致力于研究如何治疗“感情紊乱”，如孤独症、跟踪他人、强烈的嫉妒感等病态行为
83. 科学家对近140名比利时阿尔茨海默氏症患者进行了跟踪调查，其中半数受试者会说两种语言。结果显示，只说一种语言的患者平均在71岁首次出现阿尔茨海默氏症症状，双语人群则是76岁。
- 根据上述材料，可以推出（ ）。
- A. 掌握两门语言可以延缓认知的老化
B. 不掌握两门语言就不能延缓老年痴呆
C. 只有学习外语才可以防治老年痴呆
D. 长期使用两种语言能防止大脑退化
84. 全球最大的旅游网站TripAdvisor近日公布的“全球女性出游调研报告”显示，43%的中国女性受访者曾独自出游，略高于41%的全球平均水平。在全球近10000名女性受访者当中，有很大一部分女性表示，独自出游给自己带来很多变化，不仅可以领略不同地区的不同文化（36%），还可以使自己更加自信（43%）、更加独立（56%）。与此同时，45%的中国女性受访者还认为，独自出行使她们构建了新的人生观，这一比例远远高于15%的全球平均水平。因此，中国女性较国外的女性更独立。
- 以下最能质疑上述论证的是（ ）。
- A. 网站的统计结果是不具有公信力的
B. 美国女性在很多方面比中国女性更独立
C. 中国的女性婚后还保留着自己的姓氏
D. 独自出游只是衡量独立性的一个方面

85. 为了熟悉各个部门的工作，某部门实施轮岗制度，人事部门的张三、后勤部门的李四、综合办的王五三人进行转岗，其中李四不去人事部。
那么，轮岗的结果是（ ）。
- A. 张三去后勤部，李四去综合办，王五去人事部
B. 张三去综合办，李四去后勤部，王五去人事部
C. 张三去综合办，李四去人事部，王五去后勤部
D. 张三去人事部，李四去综合办，王五去后勤部
86. 某网站近日公布的就业调查统计显示，截至目前，仍有50.9%的大学生未收到用人单位的就业通知。就业压力不小，大学生们对待遇的期望却不低，超过四成的被调查者对月薪的期望是8000-10000元。对此，有专家表示8000-10000元的月薪期望不切实际。
以下哪项如果为真，最能支持专家的观点？（ ）
- A. 被调查的对象中，绝大部分都是硕士生和博士生
B. 另一份调查显示，期望月薪4000-6000元的才是主体
C. 每个人都有表达自身愿望的权利，不应该被嘲笑
D. 报道中就业调查所涉及的区域主要是二三线城市
87. 睡眠监测软件靠谱吗？一款监测睡眠的手机APP，下载后将手机塞在枕头下，早晨醒来，软件就会自动统计数据，全面反馈使用者一夜的睡眠情况。但结果显示，这款睡眠监测软件是没法实现睡眠的准确监测和判断的。
以下哪项如果为真，最不能解释上述矛盾现象？（ ）
- A. 对于90%以上的原发性失眠患者而言，调整睡眠的核心应在于心理
B. 使用睡眠软件时会不自觉地用手机上网聊天，导致过度兴奋睡不着
C. 使用睡眠软件会把正常睡眠中的定时翻身计入浅睡眠或者觉醒时间
D. 手机的光亮会刺激眼睛，影响软件使用者大脑内褪黑素的分泌情况
88. 一则广告，“衣服不搭无所谓，基金不买你心碎。”小方看后说：“我不同意。”
下列最符合小方的意思的是（ ）。
- A. 衣服不搭无所谓，基金不买你不心碎
B. 或者衣服不搭无所谓，或者基金不买你不心碎
C. 如果衣服不搭无所谓，那么基金不买你心碎
D. 如果衣服不搭无所谓，那么基金不买你心碎
89. 小方：“所有河南人都喜欢喝胡辣汤。”
小圆：“李明就是河南人，他就不喜欢喝胡辣汤。”
小方：“好吧，所有‘真正的’河南人都喜欢喝胡辣汤。”
以下最准确指出小方论证中漏洞的是（ ）。
- A. 试图通过修改标准的方式，来维护自己有缺陷的观点
B. 试图通过把个体的特点属性扩大为群体的共有属性来偷换概念
C. 看到别人的论述里面有谬误，就认为别人的观点一定是错误的
D. 试图通过用批评回应批评的方式，免去为自己观点辩护的责任
90. 警方在一起案件的侦破过程中，抓获了甲、乙、丙三个犯罪嫌疑人。
甲说：“乙在说谎。”
乙说：“丙在说谎。”
丙说：“甲和乙都在说谎。”
由此可推知，三个人中说真话的是（ ）。
- A. 甲
B. 乙
C. 丙
D. 都没有

91. 世界卫生组织迄今为止发布的首份预测自杀报告指出，全世界每年有超过80万人自杀，自杀是2012年全球30岁至49岁人群死亡的第五大原因，也是当年全球15至29岁人群死亡的第二大原因。研究发现，许多自杀行为都与某种形式的关系中断有关——一些人得不到社会支持和精神健康护理，甚至与整个社会脱节。
- 据此，可以推出（ ）。
- A. 人际关系对预防自杀至关重要
B. 花更多时间使用社交媒体可预防自杀
C. 罹患精神疾病的人群更容易选择自杀
D. 自杀是全球青年人死亡的第二大原因
92. 肥胖是否是疾病？有专家提出，肥胖是对一系列环境变化（比如饥荒）的正常适应，这在人类历史的很长时间都是如此。容易肥胖的身体没有得病，反而比“自来瘦”的身体效率更高，因此不应把肥胖正式定性为疾病。
- 以下哪项如果为真，最能支持上述论证？（ ）
- A. 肥胖不符合医学上疾病的定义。它没有症状，不涉及身体功能失常，有时也无害
B. 庞大减肥产业影响了肥胖的定性，降低体重指数警戒线值使更多人进入肥胖行列
C. 我们生活在食物更丰富，久坐时间更长的时代，不像过去那样需要尽量储存脂肪
D. 用医学方法处理肥胖可能对患者造成伤害，迫使人们接受不必要甚至没用的“治疗”
93. 一项民意调查结果显示，在1000多名参与投票的网友中，六成网友支持延长女性产假至三年，以便更好地照顾宝宝；四成网友表示反对，认为产假太长，会增加企业负担，进而增加女性就业难度，不可行。
- 以下哪项如果为真，最能质疑上述反对者的观点？（ ）
- A. 企业除了追求利润之外，也应当承担社会责任
B. 女性产假延长的成本，由财政或社保基金来承担
C. 这份调查样本量不够大，不足以代表真正的民意
D. 法律应强制规定企业必须招聘一定比例的女性
94. 为什么只有人类有下巴？一直以来，人们对下巴这一看似毫无用处的附属部位提出了多种不同解释。新研究指出，下巴的进化源于人类牙齿与下颚的萎缩，这是由于烹饪使食物变软所致。
- 以下哪项是上述论证所依赖的假设？（ ）
- A. 下巴出现的时期与人类发明烹饪的时期是重合的
B. 烹饪使人类再无需咀嚼未加工的肉类和植物，因此也无需大颗牙齿
C. 下巴是在人类祖先与灵长类其他分支分离后进化而来的
D. 下巴出现的时期与人类智力出现巨大飞跃的时间重合
95. 在决定孩子上什么课外班的问题上，四位老人发生争执。姥姥说：“学习钢琴比较好。”姥爷说：“如果学习视唱练耳，那么也应该学习钢琴。”奶奶说：“不应该学习钢琴，应该学习视唱练耳。”爷爷说：“不应该学习视唱练耳。”
- 如果四人中只有一人是对的，那么可以推出（ ）。
- A. 不学钢琴，学习视唱练耳
B. 既不学钢琴，也不学视唱练耳
C. 学习钢琴，不学视唱练耳
D. 既学钢琴，又学视唱练耳

第五部分 资料分析

针对下列图、表或文字回答问题。你应根据资料提供的信息进行分析、比较、计算、处理。你可以在题本上运算。

请开始答题：

一、根据以下资料，回答问题。

2014年，全国粗钢产量8.2亿吨，同比增长0.9%，增幅同比下降6.6个百分点。中国粗钢产量占全球比重为49.4%，同比提高0.9个百分点。分地区看，产量增速排名前五的省市分别为宁夏、浙江、江苏、陕西和辽宁，增速分别为17.3%、8.8%、7.6%、6.4%、5%；黑龙江、重庆、云南、北京、山西等14个省市产量同比有所回落，其中黑龙江、重庆、云南分别回落37.6%、11.6%、10.4%。分企业类型看，重点大中型钢铁企业粗钢产量同比增长1.7%；中小钢铁企业粗钢产量同比降低1.8%，占全国粗钢产量比重为20%。

2014年末，我国钢材价格综合指数跌至83.1点，同比下降16.2%。

2014年钢铁原燃料价格下降，62%品位的进口铁矿石到岸价由年初的133.1美元/吨降至年末的68.7美元/吨；焦炭由1425元/吨降至893元/吨。废钢由2445元/吨降至1928元/吨。

2014年，重点统计钢铁企业2014年实现利税1091亿元，增长12.2%；实现利润304亿元，增长40.4%。但行业销售利润率只有0.9%，仍处于工业行业最低水平。

2014年，我国钢铁行业固定资产投资6479亿元，同比下降3.8%。其中黑色金属冶炼及压延业投资4789亿元，下降5.9%；黑色金属矿采选业投资1690亿元，增长2.6%。

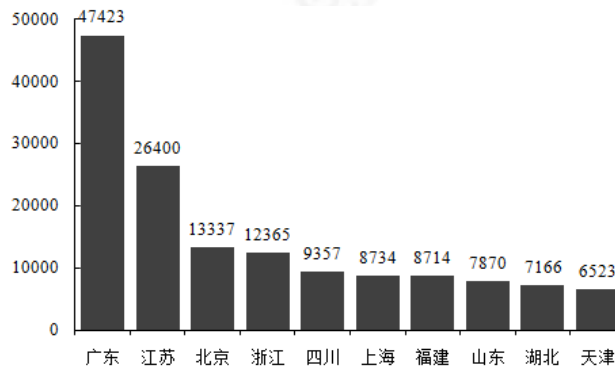
96. 2014年全球粗钢产量约为多少亿吨？（ ）
- A. 16.1
B. 17.5
C. 17.1
D. 16.6
97. 2014年，各省份粗钢产量同比增速由高到低排列的是（ ）。
- A. 宁夏、北京、辽宁
B. 江苏、陕西、辽宁
C. 黑龙江、重庆、云南
D. 黑龙江、浙江、云南
98. 2014年中小钢铁企业粗钢产量占全国粗钢产量比重（ ）。
- A. 高于上年
B. 低于上年
C. 与上年相同
D. 无法推出
99. 与年初相比，2014年末价格下降速度最快的钢铁原燃料，其下降速度为（ ）。
- A. 21%
B. 48%
C. 39%
D. 33%
100. 从上述资料可以得出（ ）。
- A. 2013年，中国粗钢产量占全球比重超过49%
B. 2013年，黑色金属冶炼及压延业投资占钢铁行业固定资产投资比重超过66%
C. 2013年，重点统计钢铁企业实现利润超过250亿元
D. 2013年，中国钢材价格综合指数超过了100点

二、根据以下资料，回答问题。

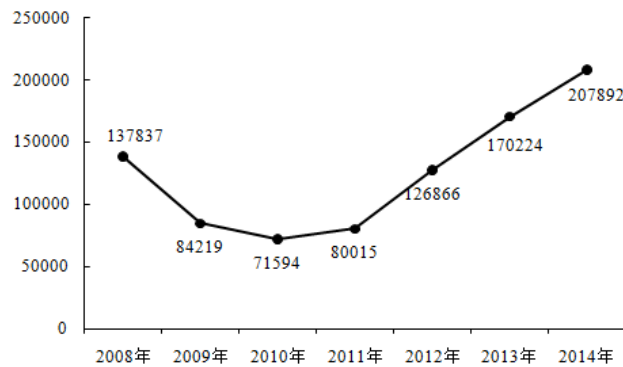
据统计，2014年报考全国社会工作者职业水平考试的人数达20.7万人，比2013年增加近4万人，增幅为22%，可谓场面“火爆”。

2014年全国社工考试报名人数涨幅前五省份

省区市	2013年(单位:人)	2014年(单位:人)
西藏	10	51
海南	234	865
青海	231	613
天津	3105	6523
陕西	1922	3630



2014年全国社工考试报名人数前十省份(单位:人)



2008-2014全国社工考试报名人数(单位:人)

101. 2014年与2008年相比,我国社工考试报名人数增加了约()。
- A. 4万人
B. 12万人
C. 8万人
D. 7万人
102. 2014年与2013年相比,西藏社工考试报名人数提高了()。
- A. 40%
B. 510%
C. 410%
D. 140%
103. 2014年,我国社工考试报名人数排在第六位的是()。
- A. 上海
B. 山东
C. 四川
D. 福建
104. 2014年,陕西省与天津市社工考试报名人数的比例为()。
- A. 0.5: 1
B. 1: 1.8
C. 1: 1.5
D. 0.8: 1
105. 下列说法正确的是()。
- A. 2014年,我国社工考试报名人数增幅同比呈下降态势
B. 2014年,广东省社工考试报名人数多于江苏21623人
C. 2014年,西藏是社工考试报名人数最少的地区,也是增幅最低的地区
D. 2008~2014年间,我国社工考试报名人数最少的年份是2011年