

第一部分 常识判断

根据题目要求，在四个选项中选出一个最恰当的答案。

请开始答题：

1. 近几年，“雾霾天气”频频出现，不仅影响人们的出行，对人体也会造成伤害。各方群众自发团结起来利用各种条件关注雾霾，了解雾霾的来踪去路以及如何降低或消除其影响等，各种相关科普知识都广泛流传。以上体现的哲学原理是：（ ）
A. 外因是事物变化发展的根本原因
B. 实践是认识发展的动力和目的
C. 事物是永恒发展的
D. 事物的质变与量变是同时发生的
2. 北京和张家口联合申办2022年冬季奥运会成功，成为助推中国体育发展的强大力量。近来，北京冬季运动参与的人数渐渐增多，相关人士预测，北京将会有越来越多的冰场、滑雪场。得出该结论的理论依据为：（ ）
A. 消费是生产的结果
B. 生产为消费创造动力
C. 消费是生产的动力
D. 生产决定消费对象
3. 根据“十三五规划”，下列关于未来五年我们的生活将发生的变化，说法错误的是：（ ）
A. 到2020年国内生产总值和城乡居民人均收入比2010年翻两番
B. 我国现行标准下农村贫困人口实现脱贫，贫困县全部摘帽，解决区域性整体贫困
C. 促进人口均衡发展，全面实施一对夫妇可生育两个孩子政策
D. 普及高中阶段教育，率先从建档立卡的家庭经济困难学生实施普通高中免除学杂费
4. 某宝上有商家甲，在其售卖的皮鞋产品上标明“正宗牛皮鞋，头层牛皮假一赔十”。客户乙购买商家甲的皮鞋后，对其材质产生了怀疑，经专业鉴定，结论是该皮鞋材质为“人造革”，客户乙遂要求商家甲履行其“假一赔十”的承诺。对此，下列哪一项正确：（ ）
A. “假一赔十”过分加重了商家甲的负担，属于无效的法律条款
B. “假一赔十”没有被订入合同之中，故对商家甲没有约束力
C. “假一赔十”有失公平，商家甲有权请求法院予以变更或者撤销
D. “假一赔十”是商家甲自愿作出的真实意思表示，应当认定为有效
5. 为加强药品监督管理，保证药品质量，保障人体用药安全，维护人民身体健康和用药的合法权益，药店应当通过药品监督管理部门批准才能设立。药品监督管理部门的批准行为属于：（ ）
A. 行政裁决
B. 行政许可
C. 行政奖励
D. 行政确认
6. 诸子百家，是对春秋、战国、秦汉时期各种学术派别的总称，下列观点属于法家政治思想的是：（ ）
A. 君使臣以礼，臣事君以忠
B. 境内之民，其言谈者必轨于法，为勇者尽之于军
C. 兴天下之利，除天下之害
D. 人法地，地法天，天法道，道法自然
7. 我国的少数民族文化资源非常丰富，其中艺术种类繁多，特点也非常鲜明、突出。下列关于我国少数民族艺术对应错误的是：（ ）
A. 朝鲜族的长鼓舞
B. 彝族的火把节
C. 苗族的长调
D. 哈萨克族的阿肯弹唱

8. 下列影视剧中的历史情景合乎情理的是：（ ）
- A. 周公旦教育成王：“为人君者，当不以物喜，不以己悲”。
- B. 刘备说张飞：“你真是扶不起的阿斗啊！”
- C. 武媚娘给李治信中写到：“身无彩凤双飞翼，心有灵犀一点通。”
- D. 司马相如结巴着对卓文君说：“有妻如此，夫复何求！”
9. 下列历史事件，时间先后顺序排列正确的一项是：（ ）
- A. 玄武门之变——永徽之治——安史之乱
- B. 赤壁之战——官渡之战——淝水之战
- C. 王安石变法——商鞅改革——郑和下西洋
- D. 马可波罗到达中国——鉴真东渡——张骞出使西域
10. 下列成语故事与故事中的主人公对应有误的一项是：（ ）
- A. 负荆请罪——廉颇、蔺相如
- B. 高山流水——管仲、鲍叔牙
- C. 十面埋伏——韩信、项羽
- D. 图穷匕见——荆轲、秦王嬴政
11. 下列中国古代四大名楼与诗文、作者对应错误的是：（ ）
- A. 欧阳修——“居庙堂之高则忧其民，处江湖之远则忧其君”——岳阳楼
- B. 李白——“孤帆远影碧空尽，唯见长江天际流”——黄鹤楼
- C. 王之涣——“欲穷千里目，更上一层楼”——鹳雀楼
- D. 王勃——“落霞与孤鹜齐飞，秋水共长天一色”——滕王阁
12. 下列文学情节和作品对应不正确的一项是：（ ）
- A. 武松打虎——《水浒传》
- B. 哪吒闹海——《封神演义》
- C. 黛玉葬花——《红楼梦》
- D. 范进中举——《三国演义》
13. 古代诗人常有描述气候的诗句，以下诗句与气候影响因素对应不正确的是：（ ）
- A. 人间四月芳菲尽，山寺桃花始盛开——地形
- B. 黄梅时节家家雨，青草池塘处处蛙——海陆分布
- C. 羌笛何须怨杨柳，春风不度玉门关——季风
- D. 二月江南花满枝，他乡寒食远堪悲——纬度位置
14. 下列关于琴棋书画的成语，对应错误的是：（ ）
- A. 琴瑟和鸣：比喻夫妇情笃和好
- B. 棋逢对手：比喻双方本领相当，不相上下
- C. 临池学书：比喻照着样子模仿，实际上并不理解
- D. 画饼充饥：比喻用空想来安慰自己或欺骗别人
15. 下列关于二十四节气的说法正确的是：（ ）
- A. 我国古代用阴历划分二十四节气
- B. 二十四节气能反映季节的变化，指导农事活动
- C. 俗语“夏练三伏”中的“伏”天，是从立夏开始计算的
- D. 春分是二十四节气中的第一个节气，一般在每年2月4日前后

16. 2015年，中国药学家屠呦呦获得诺贝尔医学奖，突出贡献是从中药中提取新型抗疟药青蒿素和双氢青蒿素。屠呦呦表示，她的灵感也是来自我国古代中医药著作。关于我国古代中医药著作说法正确的是：（ ）
- A. 《神农本草经》是中国第一部药物学专著，首次提出“药物治疗学说”、“经络治疗学说”等学说
 - B. 《肘后备急方》，是中国第一部临床急救手册，屠呦呦受该著作启发，成功提取青蒿素
 - C. 《本草纲目》是汉代张仲景所著，是中国古代汉医集大成者，也是一部具有世界性影响的博物学著作
 - D. 《黄帝内经》是中国最早的医学典籍，首次提出了“君臣佐使”的方剂理论
17. 关于生活常识，下列说法正确的是：（ ）
- A. 柿子最好带皮吃，有助于营养吸收
 - B. 吃酸性食物后应该马上刷牙，以保护牙齿
 - C. 晒太阳是一种好的养生方式，能促进人体对钙的吸收
 - D. 松花蛋不宜经常食用，多食容易导致汞中毒
18. 下列关于节能环保，说法正确的是：（ ）
- A. 冰箱内食物存放越少越省电
 - B. 目前我国能效标识等级5的家用电器产品节电水平最高
 - C. 烧菜做饭用煤炉比用液化气更能减少空气污染
 - D. 洗衣服使用无磷洗衣粉，减少污染
19. 下列物理变化过程吸收热量的是：（ ）。
- A. 将氧气压缩储存在钢罐中
 - B. 冬天冰冻的衣服干了
 - C. 猪油在常温下变成固体
 - D. 江边树林的雾凇奇观
20. 下列关于动物的生存绝技，说法错误的是：（ ）。
- A. 枯叶蝶——拟态
 - B. 蝙蝠——回声定位
 - C. 变色龙——警戒色
 - D. 蚯蚓——再生功能

第二部分 言语理解与表达

本部分包括表达与理解两方面的内容。请根据题目要求，在四个选项中选出一个最恰当的答案。

请开始答题：

21. 应该说，干部能上能下，是对干部管理制度的重申，之所以再次重申，是因为过去在干部管理上出现了偏差，特别是干部能上能下制度，_____，导致干部“能上不能下”。
填入划横线部分最恰当的一项是：（ ）
- A. 形同虚设
B. 告朔饩羊
C. 令不虚行
D. 政令不通
22. 《论语·宪问》中把“修己以安百姓”作为修身的至高追求，修身不是_____式的“独善其身”，也不是_____式的“超然物外”，而是勇于负责、敢于担当、兼济天下。依次填入划横线部分最恰当的一项是：（ ）
- A. 置身事外 推卸责任
B. 沽名钓誉 推卸责任
C. 置身事外 指李推张
D. 沽名钓誉 指李推张
23. 《纽约时报》女记者梅纳德曾在2003年出版的《底特律终结》一书中预言：“到2010年，美国三大汽车厂之一将不能以现在的规模存在。”现在看来，这简直是_____。是什么使通用从世界最大的汽车厂一步步走向了破产的结局？填入划横线部分最恰当的一项是：（ ）
- A. 语出惊人
B. 一言中的
C. 一语成讖
D. 金玉良言
24. 中国人常说不要“忘乎所以”，意思就是不要太喜形于色，这样会给别人造成_____。所以中国人的快乐和骄傲都不好表达，只是尽力_____。
依次填入划横线部分最恰当的一项是：（ ）
- A. 压力 掩饰
B. 偏见 节制
C. 误解 控制
D. 伤害 隐瞒
25. 休闲娱乐是许多观众对电影的主要诉求，这_____。但电影还是一种文化艺术，它不仅仅承担着娱乐功能，还具有审美和教育等艺术功能，需要寄托价值和理想。填入划横线部分最恰当的一项是：（ ）
- A. 不容置疑
B. 合情合理
C. 天经地义
D. 无可厚非
26. 道德至上论者的致命_____在于，他们所谓的道德理想可能是建立在非正义基础之上，就像郜艳敏“最美”的背后，是他人对她权利的无情践踏。然而道德至上论者选择了_____，他们将郜艳敏的血泪史演绎成励志温情剧，遵从的逻辑是：虽然郜艳敏遭遇了这些不幸，但她最后抵达了崇高，非正义只是抵达道德的过程。依次填入划横线部分最恰当的一项是：（ ）
- A. 错误 逃避
B. 缺陷 忽视
C. 弱点 掩饰
D. 破绽 回避
27. 童话是尤其特别的一类故事，不仅因为它是说给孩子听的，更因为它来自于_____的口述传统。通常，童话在民间流传的时候，属于每个口述者个人的东西会在转述时被人略去，最后只剩下非常_____的故事，反映的往往是人类心理最原始的部分。依次填入划横线部分最恰当的一项是：（ ）
- A. 源远流长 简洁
B. 代代相传 珍贵
C. 一脉相承 难忘
D. 历史悠久 核心

28. 人是有欲望的动物。和平年代，物欲横流，如果不善于_____欲望，人很容易被欲望左右。贪如火，不遏则_____；欲如水，不遏则_____。领导干部手握权柄，在灯红酒绿的诱惑下，比普通人更容易变成欲望的奴隶。依次填入划横线部分最恰当的一项是（ ）。
- A. 控制 迸发 泛滥
B. 控制 燎原 滔天
C. 修剪 迸发 泛滥
D. 修剪 燎原 滔天
29. 世界上的事物千差万别，人与人也_____。毫无疑问，社会上一定有一部分人的智力、体力是普通人_____的，就像让姚明、刘翔、李娜等选择体育以外的领域是摧残一样，让那些智力超群的孩子_____读书也是莫大的摧残。承认天赋秉性的差异和尊重每一个生命并不矛盾，早在2500多年前孔子就提出“有教无类”、“因材施教”的理念，至今被世人奉为圭臬。依次填入划横线部分最恰当的一项是：（ ）
- A. 迥然不同 望尘莫及 按部就班
B. 迥然不同 望尘莫及 人云亦云
C. 截然不同 望其项背 按部就班
D. 截然不同 望其项背 人云亦云
30. 有人说，中国经济的增长，_____就能带来民生的改善。这固然有一定道理，却忽略了这样一个事实：不同于世界的很多国家，中国是以人民福祉为_____在谋划改革发展的。也就是说，民生改善不仅是经济发展的“溢出效应”，更是中国道路的本质要求。依次填入划横线部分最恰当的一项是：（ ）
- A. 毋庸置疑 目的
B. 水到渠成 动力
C. 自然而然 旨归
D. 理所当然 媒介
31. 坚持正确历史观直接关系到国家的前途命运和人类的未来，需要我们以严肃的科学态度认真对待。可是，在现实中，有人_____历史定论，想要“重写历史”，把历史当作“任人涂抹的村姑”；有人_____历史认知，试图“再造规律”，把历史当作“随意捏弄的橡皮”；有人_____历史价值，妄言“告别崇高”，把历史当作“没有厚度的白纸”。依次填入划横线部分最恰当的一项是：（ ）
- A. 扰乱 歪曲 消解
B. 歪曲 扰乱 消解
C. 消解 歪曲 扰乱
D. 扰乱 消解 歪曲
32. 观念_____,需常洗心灵之垢；物欲诱惑,应常敲警世之钟。在利益诉求多元、价值观念多样的今天，反腐倡廉不仅需要制度的保障，同时离不开文化的_____。依次填入划横线部分最恰当的一项是（ ）。
- A. 浑浊 启迪
B. 激荡 支撑
C. 动荡 繁荣
D. 陈旧 给养
33. 对于村子来说，五月的收割是一件大事。绿油油的麦苗慢慢变成黄黑色，站在一望无垠的地里，_____或者静默，都能制造出一种紧迫的气氛，让人很_____。村里总是有人去地头看麦子成熟的火候，噙着烟袋，眼光深远，很严肃。依次填入划横线部分最恰当的一项是：（ ）
- A. 交头接耳 焦灼
B. 窃窃私语 绝望
C. 低声密语 苦恼
D. 低声密谈 欣慰
34. 童年的记忆里，父亲的巴掌像一扇门板，宽大力，挟呼啸而来，挟呼啸而去，如一片_____的乌云，晴朗的心空因此而变得_____。一次次莫名其妙地挨父亲痛打之后，我总是独自走向村外的原野，任泪水_____流淌。躺在绒绒的草地上，我沉浸在战胜父亲的幻想之中。我渴望长大。依次填入划横线部分最恰当的一项是：（ ）
- A. 沉重 萎靡 恣意
B. 阴沉 沉闷 随意
C. 铅重 黯淡 恣意
D. 灰暗 消沉 随意

42. 短文，历来为人们所推崇。一篇《陋室铭》，区区81个字，朗朗上口，句句在理，流传久远。毛泽东撰写的《我三十万大军胜利南渡长江》，短短200来字，凝炼传神，堪称典范。“简洁是天才的姊妹”，俄国文学巨匠契诃夫这样慨叹。现代社会，工作生活节奏加快，面对海量信息，人们对短文更加情有独钟。正像有的读者所说：“一些长文虽有细节，但淹没在密不透风的文字之中，看了没记住，等于白写。”
作者意在强调（ ）。
A. 文章应该越短越好
B. 好的文章应该被读者记住
C. 《陋室铭》等文章的写作特点
D. 文贵简约
43. 对文化的理解，世界上恐怕没有哪一个民族，像我们这样感受深刻。这个在西方国家“还没有发明文字时，就已拥有一部以固定的语言连续记载的历史”的民族，曾以五千年文脉涵养了一个泱泱中华。然而，近代以来的封闭与落后，令其社会与文化被西方的坚船利炮深深撕裂，不仅留下苦涩的“李约瑟之谜”，甚至被西方讥为“存在即是时代的错误”。历史在残酷又深刻地揭示着一个规律：文明的兴衰起伏、文化的强弱更迭，决定着民族的命运、国家的走向。
这段文字的主旨是（ ）。
A. 文化繁荣是民族复兴的重要基础
B. 中华文化源远流长、经久不衰
C. 中华民族对文化的理解最为深刻
D. 中国社会和文化曾被西方列强深深影响
44. “第一个吃螃蟹的人”固然可赞，如果后来者能“吃”出新方法，吃出新意境，照样可嘉。创新往往也需要模仿，在和别人差距比较大的时候，模仿常常是创新的第一步。但创新绝不止于模仿，而是在消化吸收之后推陈出新，以求后来居上。如果总是亦步亦趋，照葫芦画瓢，就不仅显得僵化呆板，也必致新意全无。如此“模仿秀”当然就让人乏味了。
这段文字的主旨是（ ）。
A. 模仿和创新的区别
B. 创新就是要模仿
C. 创新不应止步于模仿
D. 创新比模仿更加重要
45. 驴子驮着木料走过池塘，脚滑了一下，掉到水里，便失声痛哭。池塘里的青蛙听见他的哭声，说道：“喂，朋友，你摔倒一下就这么悲伤；如果像我们这样长久在这里生活又该怎么办呢？”
这个故事意在告诉我们（ ）。
A. 自己的痛苦别人往往不能理解
B. 己所不欲勿施于人
C. 没受过苦，小的挫折都难以承受
D. 挫折不能期望别人同情
46. 砷对土壤微生物的危害表现在砷污染可以降低土壤中MBC和MBN的含量，导致土壤中的微生物数量明显降低。另外，砷还可以与其它重金属或化合物联合作用影响土壤中的微生物，砷和其它重金属的联合污染可以改变土壤微生物种群多样性，导致微生物种群多样性降低，微生物群落结构发生了不可逆的改变。砷对土壤作物的危害主要是伤害作物根系、抑制根系的活性，其主要从两方面影响作物的生长：一是影响作物的生长发育，二是影响作物的生理代谢。
这段文字主要介绍的是（ ）。
A. 砷对土壤微生物的数量及群落结构有严重影响
B. 砷污染的主要表现
C. 砷是影响土壤作物生长的主要因素
D. 砷对土壤的危害
47. 《史记》最初没有固定书名，称“太史公书”，或“太史公记”，也省称“太史公”。据现知材料考证，最早称司马迁这部史著为《史记》的，是东汉桓帝时写的《东海庙碑》。“史记”本来是古代史书的通称，从三国开始，“史记”由通称逐渐成为“太史公书”的专名。
最适合这段文字的标题是（ ）。
A. 《史记》名称之由来
B. 《史记》一书的演变历程
C. 什么是《史记》？
D. “史记”一词由古代史书通称变为专名

48. 今天的西藏，很多地方与全国其他地区的现代化进程早已同步，甚至在某些方面发展得更快。但是藏族人民对佛教普遍而深刻的信仰，又让藏族的文化有着强大的生命力，西藏仍然保留着相当的独特性。而不管是国内还是国外的“西藏热”，使得人们非常关注西藏的物质外观和精神内涵，希望西藏在现代化当中不失其璀璨的文明。如何撇开我们头脑中被过度精神化和神秘化的西藏，认识一个与现代文明不断融合，同时在融合过程中亦存在曲折与矛盾的西藏，或许是我们今天需要面对的新课题。

下列说法与上述文字不相符的是（ ）。

- A. 现代西藏已经变得非常发达
- B. 西藏被过度的精神化和神秘化
- C. 西藏加快了与现代文明融合的过程
- D. 西藏在文明融合的过程中不是一帆风顺的

49. 揆诸现实，我们正处于一个诚信断层、信用贫困的焦灼期。单就经济领域来说，毒奶粉、“地沟油”等无良企业的制假售假仍让人心有余悸，商业欺诈、财务造假等劣行依旧是打不死的“小强”，“劣币驱逐良币”“劣企驱逐良企”的“逆潮”持续冲击着市场经济的基石。有学者直言，我国目前正面临着一场社会信任危机。一个市场里如果有太多的“软骨病”企业，有太多的“面诺而背违，阳是而阴非”，那么这个市场经济的发展也注定无法长久和稳定。没有诚信，就没有利益，就没有未来。

这段文字意在强调（ ）。

- A. 我国市场经济发展中企业面临的困境
- B. 我国要严惩“软骨病”企业
- C. 我们要讲诚信，这样才有利益和未来
- D. 我国企业要加强法律建设，建设诚信价值体系

50. 成年子女不应该“啃老”，但这件事并非法律可以包办，因为法律自有其边界。老年人对自己的收入及财产享有处分的权利，他们可以容许子女“啃老”，也可以拒绝子女“啃老”，前者法律不必管，后者应得到法律的支持。在“啃老”这个问题上，法律只需维护底线，如果管得太多，反而有“越界”之嫌。

根据这段文字，作者意在强调的是（ ）。

- A. “啃老”问题不应属于法律范畴
- B. 禁止“啃老”，法律应充分尊重老年人的意见
- C. 保护老年人权益，法律不应“一刀切”
- D. 禁止“啃老”，需厘清法律边界

51. 此次养老金入市，如果按照理想化的模式，将会逐渐提高中国股市机构投资者的比例，进而提高中国股市的稳定性，就比如美国股市以养老基金为主的机构投资者，在很大程度上维护了市场的稳定性。但事实上，这种理想化的模式在A股市场可能难以复制，因为中国股市即使机构投资比例再高，对于股市的稳定性也无半点益处，从投资风格来看，中国的机构投资者比散户更具投机性，在创业板上的集体抱团、对于题材股的热衷、甚至在本次救市中对于垃圾股的追捧，中国很多机构投资者的表现比散户更加散户。养老金入市的大门虽然已经打开，但是投资脚步还不宜迈得太大。

这段文字意在说明（ ）。

- A. 养老金入市的投资步伐需谨慎
- B. 养老金入市难以在A股市场复制理想化的模式
- C. 中国的机构投资者很难维护市场和股市的稳定性
- D. 中国的机构投资者的投资风格与美国不同

52. 从门户网站高管辞职到大幅裁员，如果说这些只是门户网站走向衰落的表象，那么，还有一些现象则更加让那些叱咤风云的互联网大佬们担心。当下，移动互联网的发展使用户的信息需求更加丰富，用户已经由单一的门户信息获取方，转变为双向的资讯交流方。因此，在获取信息的过程中，用户交互的社交功能已成为基本功能。然而，易观智库互联网媒体分析师A并不认同门户网站趋于没落的说法。她认为，只是当前门户网站所面临的外部市场环境发生了很大的变化。“如今，互联网各种业务整体都在向移动互联网迁移，受制于终端载体这一物理限制的门户网站受到冲击在所难免。”
- 下列阐述符合分析师A观点的是（ ）。
- A. 门户网站逐渐走向衰落
B. 互联网时代获取信息过程强调用户交互的社交功能
C. 门户网站受到外部市场环境的冲击但并未没落
D. 门户网站受到外部市场环境的冲击在所难免
53. 秋分曾是传统的“祭月节”，现在的中秋节则是由“祭月节”而来。据史书记载，早在周朝，古代帝王就有春分祭日、夏至祭地、秋分祭月、冬至祭天的习俗。北京的月坛就是明清皇帝祭月的地方。《礼记》载：“天子春朝日，秋夕月。朝日之朝，夕月之夕。”这里的夕月之夕，指的正是夜晚祭祀月亮。“十二度圆皆好看，其中圆极是中秋”。诗句中说的“中秋”指的就是妇孺皆知的中秋节。古人为这一传统节日写下不少看月、望月、玩月的佳作。
- 文章接下来最有可能谈的是（ ）。
- A. “祭月节”的由来
B. “祭月节”又被称为“中秋节”的原因
C. 中秋节习俗的由来
D. 著名诗人赏中秋的诗作
54. 大数据新闻报道目前还处于起步阶段，面临很多挑战。第一是大数据的来源是受限制的，一些政府的统计数据，尤其是涉及民生的，目前很多都没有开放给公众。第二是数据来源的单一性，大数据不仅仅是数据的规模大、量大，大数据信息还涉及品类的多样性，比如你要研究人的社会活动，那你不仅是要看他的交往数据，而且最好还能看到他的购买数据等等。可以说，全世界到目前为止，针对大数据新闻报道，并没有找到一个完整、统一的规范和彻底的解决方案。
- 这段文字主要说明（ ）。
- A. 大数据新闻报道的条件
B. 大数据新闻报道的前景
C. 大数据新闻报道的来源
D. 大数据新闻报道的现状
55. ①其为建筑史研究提供了不可替代的实体样本，也对当代建筑及其雕刻艺术具有普遍的借鉴价值
②明万历年间的户部右侍郎、工部尚书余懋学建的宅居——“尚书第”，砖、石、木三雕风格简约，可以说是婺源“三雕”现存的早期实例
③婺源“三雕”，即是婺源明清建筑中砖、石、木三种雕刻艺术的总称，亦是徽派建筑重要的组成部分和精彩的艺术亮点
④而最为集中的当是体现在宗祠、民居上
⑤“三雕”艺术，在婺源乡村广为分布的宗祠、庙宇、民居、牌坊及桥、亭等建筑上随处可见
⑥婺源最北的理坑村，曾是个官宦名村
- 将以上6个句子重新排列，语序正确的是（ ）。
- A. ②③①⑤④⑥
B. ⑥②③①⑤④
C. ③①⑤④⑥②
D. ⑤④⑥②③①

56. ①如果支持进行胚胎干细胞研究就等于是怂恿他人“扼杀生命”，是不道德的，违反伦理的
②支持者认为这项研究有助于根治很多疑难杂症
③对胚胎干细胞的研究一直是一个颇具争议的领域
④很多国家包括我国都出台了一些有关人类胚胎干细胞研究的伦理准则与法律监管政策研究
⑤反对者则认为，进行胚胎干细胞研究就必须破坏胚胎，而胚胎是人尚未成形时在子宫的生命形式
⑥是一种挽救生命的慈善行为，是科学进步的表现
将以上6个句子重新排列，语序正确的是（ ）。
- A. ③④②⑥⑤①
B. ④①③②⑥⑤
C. ③②⑥⑤①④
D. ④③②⑥⑤①
57. “束脩”就是一束肉干，又称肉脯，有点类似现在的腊肉。古时候，肉属奢侈品，普通百姓吃一次肉不容易，不像现在可以随随便便大快朵颐。孟子生活的战国时期，只有七十岁以上的老人才能吃上肉。古时候把有地位的人称为“肉食者”，足见肉之贵重。古代没有冰箱，所以肉的保存就成了问题。一旦得肉，就先用水煮透，然后用盐裹了，放在屋檐下阴干，最后再十条扎成一束存放起来，留以慢慢享用，这就是“束脩”。古人对老师是非常尊敬的，对孩子的教育也十分重视，所以他们在孩子入学拜师时，都要送上珍贵的“束脩”给老师，作为见面礼。《论语·述而》载：“子曰：‘自行束脩以上，吾未尝无诲焉。’”这说明在孔子的时代，就有送“束脩”投师的礼俗了。
下列说法与上述文字不相符的是（ ）。
- A. 古代肉不易保存，因而常制作成腌肉食用
B. 送“束脩”投师的礼俗源于孔子时代
C. 古代地位高的老者常被称为“肉食者”
D. 古人常在孩子入学时送“束脩”给老师
58. 二战后，美国由于扩张和冷战的需要，对日本绝大多数战犯采取放纵态度，使得这种被日本右翼势力扭曲的日本民族性格和思维特征在一些右翼分子那里变得更加畸形。但是，正如习近平总书记讲话中所指出的，否认侵略历史，是对历史的嘲弄，是对人类良知的侮辱，必然失信于世界人民。可喜的是，越来越多的日本民众，包括许多学者，强烈要求日本当局以负责任的态度对待历史，还原历史真相，对安倍政府违反民意一意孤行表现出极大愤慨。
从这段文字看出作者对日本民众的态度是（ ）。
- A. 愤慨
B. 中立
C. 赞成
D. 怀疑
59. 古人于秋分时节，常生悲情。南唐后主李煜的词《相见欢》也不乏新意，且传唱千古。词曰：“无言独上西楼，月如钩。寂寞梧桐深院锁清秋。剪不断，理还乱，是离愁，别是一般滋味在心头。”其实，秋天比春天更纯真，比夏天更热烈，比冬天更深沉。“秋水与长天一色”，这是秋天的澄澈；“看万山红遍，层林尽染”，这是秋天的绚烂。秋的这种浓淡相宜，让人释怀，让人坦然，让人心无旁骛。
这段文字想要表达的是（ ）。
- A. 人在秋分时节容易感伤
B. 秋天是诗人喜欢的季节
C. 秋天，一个不一样的季节
D. 秋天的氛围让人更加舒服畅快
60. 与其他运动不同，田径所展示的是人类肉体最“本质的力量”。也正是源于此，田径当之无愧地成为“运动之母”，拥有永恒的魅力。人们通过田径可以全面发展身体素质，尤其是速度、力量、耐力、柔韧性与协调性，进而提高运动技术水平与成绩。所以，各项运动都把田径作为提高身体素质的手段与技术、战术的基础。田径是最“有用”的运动，也是其他运动的基础。
这段文字这段文字意在说明（ ）。
- A. 田径成为“运动之母”的原因
B. 田径和其他运动项目的关系
C. 体育运动的作用
D. 田径运动受人追捧的缘由

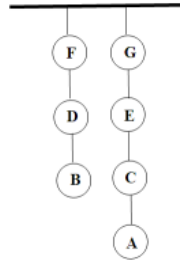
第三部分 数量关系

在这部分试题中，每道题呈现一段表述数字关系的文字，要求你迅速、准确地计算出答案。

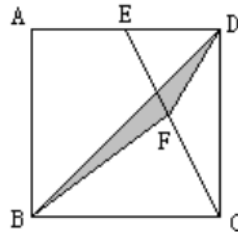
请开始答题：

61. 甲、乙两种商品的成本共250元，甲种商品按30%的利润定价，乙种商品按20%的利润定价。后来两种商品都按定价的九折出售，仍获利29元。两种商品的成本相差多少元？（ ）
- A. 30
B. 50
C. 100
D. 120
62. 有大、中、小三种塑料箱共8个，其中分别装有24瓶、12瓶、9瓶啤酒，总共装有99瓶啤酒。则总共装有瓶酒最多的箱子是：（ ）
- A. 大箱子
B. 中箱子
C. 小箱子
D. 无法判断
63. 小周、小王、小李三人为锻炼身体，从学校步行到人民公园。小周、小王早晨7点一起从学校出发，小周每小时走6千米，小王每小时走5千米，小李因有事耽搁上午8点才从学校出发，结果上午10点小周、小李同时到达人民公园。则小李在何时追上小王？（ ）
- A. 9点15分
B. 9点45分
C. 9点
D. 8点45分
64. 某小区由于连续大降雨发生内涝，现安排抽水机抽水，假设下水道渗水的速度是恒定的。已知安排30台抽水机，需要10小时抽完；安排20台抽水机需要14小时抽完。若该小区希望在7小时时间内抽完，且采用新型抽水机，每台抽水机的效率比原来快50%，问该小区至少要安排多少台新型抽水机？（ ）
- A. 25
B. 35
C. 30
D. 40
65. 某单位定期业务能力考核，前三次考核结果显示分别有70%、60%、80%的员工为优秀，且三次考核结果均为优秀的有10人，问该单位最多有多少名员工？（ ）
- A. 30
B. 50
C. 80
D. 100
66. 一杯装有20千克浓度为10%的盐水，第一次往里加入4千克浓度为30%的盐水，之后每次均比上一次多加入1千克30%的盐水。问共需要加多少次恰好可以得到浓度为22%的盐水？（ ）
- A. 3
B. 4
C. 5
D. 6
67. W市开通的地铁2号线收费标准如下：乘坐5站之内（含5站）收费2元（如A、B、C、D、E、F6个站点，从A站上车到F站下车为乘坐了5站），随后每多坐3站加收1元（不足3站的也按3站计算），累计费用不超过5元。已知该线路一共有31个站点，如果王某在起点站坐上的地铁，随机在之后任一站点下车，则他下车时需要支付5元交通费的概率为：（ ）
- A. $\frac{2}{3}$
B. $\frac{7}{10}$
C. $\frac{20}{31}$
D. $\frac{19}{30}$
68. 图书馆的王老师在书店购买了甲、乙两本小说各若干本，其中甲每本18元，乙每本6元。若两本书的总费用恰好是一个完全平方数，则王老师至少买了多少本书？（ ）
- A. 4
B. 10
C. 12
D. 14

69. 某电视台举行有奖问答节目，要求嘉宾回答对全部的七道题目即可得奖。具体规则，如下图所示，题目用两条细绳串起来，嘉宾只能回答最下面的题目，如最开始只能在题目A和题目B中选择，只有A已经回答完了，才能回答题目C。问嘉宾回答题目的不同顺序有多少种？（ ）



- A. 35
 B. 64
 C. 70
 D. 210
70. 如图，正方形ABCD的边长为8厘米，E是AD的中点，F是EC的中点，BD是对角线，那么阴影部分的面积为多少平方厘米？（ ）。



- A. 4
 B. 8
 C. 12
 D. 16

第四部分 判断推理

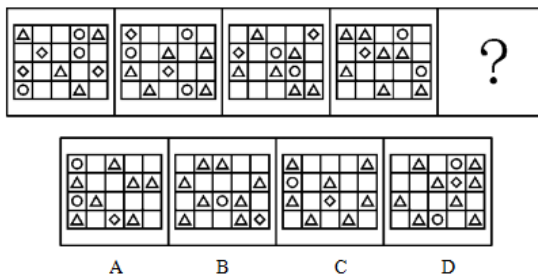
一、

请开始答题：

71. 从所给的四个选项中，选择最合适的一个填入问号处，使之呈现一定的规律性：（ ）。



72. 请从所给的四个选项中，选择最合适的一个填入问号处，使之呈现一定的规律性：（ ）。



73. 除非愿望和想法能在实际行动和做法中得到体现，否则愿望和想法本身只能是头脑中的一种绿苔。由此可以推出：（ ）。

- A. 愿望和想法在实际行动和做法中没有得到体现，说明愿望和想法是头脑中的绿苔
- B. 如果愿望和想法不是头脑中的绿苔，那么愿望和想法就不能在实际行动和做法中得到体现
- C. 如果愿望和想法能在实际行动和做法中得到体现，那么愿望和想法不是头脑中的绿苔
- D. 只要愿望和想法是头脑中的绿苔，就说明愿望和想法在实际行动和做法中得到体现

74. 我把医疗的痛点归纳为“看病难、看病贵、看病烦、质量差和矛盾深”5个方面。如果说看病难、看病贵是世界性的问题，而看病烦和矛盾深某种程度上是我国特有的现象，那么医疗的这些痛点主要是由医疗资源特别是高水平的医生资源短缺造成的。以下哪项如果为真，最能支持上述观点？（ ）

- A. 培养高层次的专家型医生周期长、难度大，不是一朝一夕能够完成的
- B. 医疗资源配置的不合理、分级诊疗机制不健全
- C. 医院就诊流程的不优化造成效率低下
- D. 我国医院信息化经过20多年的建设，在优化就诊流程、提升医疗效率等方面已经发挥了巨大的作用

75. 我国互联网的建设已经处于高度发达水平。据2012年1月，中国互联网络信息中心在京发布《第29次中国互联网络发展状况统计报告》显示，截至上个月底，中国网民规模突破5亿，达到5.13亿，仍保持全球第一大网民数量国家。以下哪项为真，最能削弱上述观点？（ ）

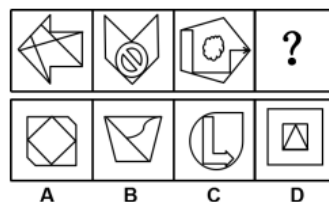
- A. 我国的互联网普及率只有37%左右
- B. 网民数量的多少与互联网建设的水平并无直接关联
- C. 我国人均拥有个人电脑数量还与世界发达国家存在差距
- D. 我国不少网民只是利用互联网络进行聊天和观看电影等简单的操作

76. 传统教育面临房租人工成本高涨、用户满意度差等压力之时，“互联网+教育”迎来风口。某研究院昨日发布《2015年中国在线教育市场报告》显示，在线教育市场拓展速度加快。有专家表示，在线教育市场将持续走高。以下哪项如果为真，最能支持上述观点？（ ）
- A. 在线教育在移动端的普及速度较快，2015年在线教育用户在移动端的比例首次超过PC端
 B. 移动教育作为在线教育的延伸，对内容和表现形式的苛求更高，同时也具备了满足用户个性化需求的条件，所以领域更可以细分
 C. 自2013年起，在线教育用户数量增速开始加快
 D. 2014年起用户规模增长率持续上涨，今年达到9640万人，预计2016年在线教育用户将突破1.2亿
77. 李老师要去学生家里进行家访，走到一个十字路口，分别通往东南西北四个方向，已知四个方向能通往小红、小明、小利、小虎四家，小红家在小明家的西北方，小明家在小利家的东北方。李老师打算先去小红家，应该走哪个方向？（ ）
- A. 北
 B. 东
 C. 南
 D. 西
78. 武侠电影里的易容术是不是真的？18日，网友报料称网上就有类似产品。不过，商家给它取了个名字叫“人皮面具”。记者上网查询，这种人皮面具戴上后，还真有点古装剧里的易容术味道，人皮面具公开销售惹来争议。有律师认为它给犯罪分子可乘之机，给警察办案添了麻烦。以下哪项为真，最能够加强律师观点？（ ）
- A. 购买人皮面具的买家一般用它参加聚会、娱乐、影视的制作
 B. 商家表示，只接受面部残疾人的定制，别的一概不接，最好是本人亲自到实体店去实际测量
 C. 商家在实际的售卖人皮面具的过程中，需要买方的一些认证信息
 D. 有很多买家声称，戴了人皮面具之后，去参加同事、朋友聚会，没有人能认出其原貌
79. 相比那些同伴关系差的学生，同伴关系好的学生在学校和家庭生活中，更少的出现违纪行为。由此可见，良好的同伴关系能够减少违纪行为的发生。以下哪项为真，最能削弱上述结论？（ ）
- A. 经常发生违纪行为的学生一般来说同伴关系较差
 B. 研究发现，良好的家庭教养更能减少学生违纪行为的发生
 C. 同伴关系良好，但同伴数量较少也会影响学生违纪行为的发生
 D. 良好的同伴关系能够促进学生健康人格的形成与发展
80. 只有品德好且成绩优秀的学生才会获得奖学金。甲没有获得奖学金。若以上判断为真，可推出以下哪项结论？（ ）
- I. 甲品德不好并且成绩不优秀
 II. 如果甲成绩优秀，则肯定是品德不好
 III. 如果甲品德好，则肯定是成绩不优秀。
- A. 仅 I
 B. 仅 II
 C. 仅 II 和 III
 D. I、II 和 III 都推不出

二、图形推理。请按每道题的答题要求作答。

请开始答题：

81. 从所给的四个选项中，选择最合适的一个填入问号处，使之呈现一定的规律性：（ ）。

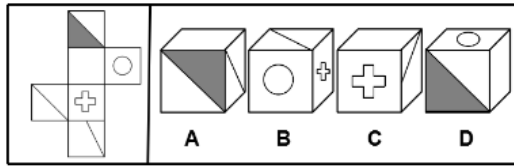


82. 把下面的六个图形分为两类，使每一类图形都有各自的共同特征或规律，分类正确的一项是：
()。



- A. ①③④; ②⑤⑥
B. ①②⑤; ③④⑥
C. ①⑤⑥; ②③④
D. ①④⑥; ②③⑤

83. 左边给定的是纸盒的外表面，下列哪一项能由它折叠而成：()。



三、定义判断。每道题先给出定义，然后列出四种情况，要求你严格依据定义，从中选出一个最符合或最不符合该定义的答案。注意：假设这个定义是正确的，不容置疑的。

请开始答题：

84. 职责是指任职者为履行一定的组织职能或完成工作使命，所负责的范围和承担的一系列工作任务，以及完成这些工作任务所需承担的相应责任。根据上述定义，下列选项中不属于职责的是：()
- A. 村长资助村里贫困户老王的女儿上大学
B. 列车员劝说正在吵架的两位乘客
C. 老师正在训斥抄袭作业的小明
D. 小红是客户经理，她平时热心于维护客户关系，以保持和提升公司在客户心目中的形象
85. 社会分工是指动物进行各种劳动的社会划分及其独立化、专业化；对于人类而言，社会分工是超越一个经济单位的社会范围的生产分工，包括社会生产分为农业、工业等部门的一般分工。根据上述定义，下列选项中不属于社会分工的是：()
- A. 工厂内，车工和钳工的工作不同
B. 雌狮擅长捕猎，于是雌狮就担负养育家族的责任，雄狮擅长打斗，因此雄狮担负起保卫家园责任
C. 雌性蜜蜂如果在幼虫期一直食用蜂王浆，就会发育成蜂王，负责繁殖，如果在幼虫期只吃两三天蜂王浆，则发育成不育的工蜂，负责采蜜、分泌蜂王浆、建造巢穴、养育幼虫、保卫巢穴等
D. 畜牧业和农业的分离
86. 电话营销是指通过使用电话，来实现有计划、有组织并且高效率地推广扩大顾客群、提高顾客满意度、维护顾客等市场行为的手法。根据上述定义，下列属于电话营销的是：()
- A. 某诈骗团伙每天都打出上万个电话，每天都会有人上他们的当，将钱汇入他们的账户中
B. 李彦是某公司的业务代表，他从公司的资料库中随机抽取了一些客户，然后打电话向他们推销公司的新产品
C. 某公司要求市场部员工定期对所有客户进行回访，了解客户对公司服务的满意度，并赠送一些小礼品
D. 小青花了三天时间上网筛选出了一张客户名单，然后每天花两小时依次给名单上的客户打电话介绍公司的新产品并了解客户的需求
87. 公共事务是指为了满足社会全体或大多数成员的需要，体现他们的共同利益，让他们共同受益的那类事务。根据上述定义，下列行为中不属于公共事务的是：()
- A. 某企业出资建立希望小学
B. 汶川地震期间，大量志愿者参与灾区救援工作
C. 王某专心练习演唱，以迎接年终歌唱比赛
D. 书记组织召开党员四风学习会议

88. 人格是一个人固定的行为模式及在日常活动中待人处事的习惯方式，是全部心理特征的综合。人格障碍是指明显偏离正常且根深蒂固的行为方式，具有适应不良的性质，其人格在内容上、质上或整个人格方面异常，由于这个原因，病人遭受痛苦或使他人遭受痛苦，或给个人或社会带来不良影响。根据上述定义，下列行为中属于人格障碍的是：（ ）
- A. 刘某是高中生，由于父母在外地无人管教，经常逃学去网吧
 - B. 小兰平时与他人聊天时很正常，但如果对方不立刻回答她的问题便立刻产生攻击行为，难以控制
 - C. 同学聚会中，由于言语冲突，两位老同学打架致高某受伤
 - D. 钱某不喜欢别人唠叨，包括妈妈唠叨他都要生气
89. 环境壁垒又称绿色壁垒，是指进口国政府以保护生态环境、自然资源以及人类和动植物的健康为由，以限制进口保护贸易为根本目的，通过颁布复杂多样的环保法规、条例，建立严格的环境技术标准，制定繁琐的检验、审批程序等方式对进口产品设置贸易障碍。根据上述定义，下列选项中不属于环境壁垒的是：（ ）。
- A. 所有在甲国出售的鱼类都须经来自甲国证明未受污染的水域，包括进口鱼类
 - B. 乙国对于不符合ISO14000环境管理体系标准的产品，不予进口
 - C. 丙国对原油和某些进口石油化工制品征收进口附加税的税率比国内同类产品高很多
 - D. 丁国为了提高环境质量，提高了企业排放废气的处罚力度
90. 潜在顾客是可能成为现实顾客的个人或组织，是指已有购买意向却尚未成为任何同类产品或组织的顾客，以及虽然曾经是某组织的顾客但其在购买决策时，对品牌的认可较为随意的顾客；竞争者顾客是指本企业的竞争对象所拥有的顾客群体。根据上述定义，下列选项中属于潜在顾客的是：（ ）。
- A. 十一商场打折，王女士看中了乙品牌洗衣机，但是上个月朋友刚送了一台甲品牌洗衣机
 - B. 高某看了十几次房子，终于对某小区11层东户比较满意，但由于资金不足，也只交了定金
 - C. 丙公司年底给员工发放福利，采购人员与某超市经理洽谈后不能做决定，询问上级
 - D. 孙某想在家附近办张健身卡，于是咨询了附近一家健身房，后不久由于工作原因到外地生活
91. 信息咨询是一种基于各种信息的收集、加工、传递有效利用和反馈的业务活动。信息咨询业是通过利用各种信息处理技术，对各类信息开展搜集、加工、整理、分析、传递，向客户提供解决问题的方案、策略、建议、规划或措施等信息产品的知识型产业。根据上述定义，下列选项中不属于信息咨询的是：（ ）。
- A. 甲公司按照政府部门的要求，帮助设计和建立各种计算机应用系统，从选购设备到设计程序，培训人员等方面，进行一整套的咨询服务工作
 - B. 王某利用电子计算机进行模拟教学
 - C. 应企业和政府部门要求，咨询机构采用先进的设备和方法，大力普及计算机知识，为各单位培训计算机操作人员、程序分析人员
 - D. 乙公司创建国内数据库，专门为经济学家、研究人员、行政机关以及政府各部门等提供咨询服务
92. 马太效应，指强者愈强、弱者愈弱的现象，广泛应用于社会心理学、教育、金融以及科学领域。在社会学领域，反映的社会现象两极分化，富的更富，穷的更穷。根据上述定义，下列选项中属于马太效应的是：（ ）。
- A. 相对于那些不知名的研究者，声名显赫的科学家通常得到更多的声望，即使他们的成就是相似的
 - B. 竞争激烈的社会，加大对于残疾的孩子的教育
 - C. 不仅将眼光聚焦在CPI的上升幅度，还要特别关注并解决居民收入差距不断扩大的问题上
 - D. 盘活即将倒闭的国有企业，提升自身品牌价值

93. 需求原理是经济学术语,是指在其他条件不变的情况下,某种商品的需求量与价格成反方向变化。根据上述定义,下列选项中属于需求原理的是:()。
- A. 由于希望小学需求电脑,厂商降低价格,以五折的成本价对全国范围内的希望小学进行销售
 - B. 随着旅游旺季的到来,旅游纪念品的销量大增
 - C. 企业资金链断了,为了迅速回笼资金,大幅度降低产品价格,销量增长
 - D. 双十一电商搞活动,所有产品价格降低,销量也高的惊人

四、类比推理。每道题先给出一组相关的词,要求你在备选答案中找出一组与之在逻辑关系上最为贴近,相似或匹配的词。

请开始答题:

94. 锱铢必较:杆秤
- A. 寥寥无几:数量
 - B. 轻重缓急:天平
 - C. 度日如年:手表
 - D. 黔驴技穷:知识
95. 课堂:有趣
- A. 商场:琳琅满目
 - B. 书店:快捷
 - C. 农田:一望无际
 - D. 阳光:一缕
96. 手机壳:手机
- A. 花盆:花
 - B. 书皮:书
 - C. 被子:被罩
 - D. 车库:车
97. 树大根深:花好月圆
- A. 千军万马:金戈铁马
 - B. 金枝玉叶:甜言蜜语
 - C. 偷天换日:卧薪尝胆
 - D. 风和日丽:天高地厚
98. 书签:标记:竹子
- A. 杯子:喝水:玻璃
 - B. 绿萝:绿色:植物
 - C. 文献:查阅:科研
 - D. 证书:毕业:学历
99. 乐器:管乐器:长笛
- A. 运动:慢跑:有氧运动
 - B. 工具:祭祀:鼎
 - C. 感性认知:味觉:鼻子
 - D. 文学:诗歌:诗经
100. 雾凇:凝华
- A. 地震仪:地震波
 - B. 失重:速度
 - C. 指南针:磁感应
 - D. 日食:地球自转
101. 愿得一人心,白首不相离:卓文君
- A. 东边日出西边雨,道是无晴却有晴:柳永
 - B. 当时明月在,曾照彩云归:李白
 - C. 先天下之忧而忧,后天下之乐而乐:范仲淹
 - D. 苟利国家生死以,岂因祸福避趋之:陆游
102. 屠呦呦:药学
- A. 张恨水:政治
 - B. 夏侯渊:军事
 - C. 李比希:物理
 - D. 伽利略:化学
103. 下雪:路滑:事故
- A. 石油:能源:动力
 - B. 网络:平台:购物
 - C. 工业增多:二氧化碳增多:温室效应
 - D. 下雨:积水:山体滑坡

五、逻辑判断。每道题给出一段陈述，这段陈述被假设是正确的，不容置疑的。要求你根据这段陈述，选择一个答案。注意：正确的答案应与所给的陈述相符合，不需要任何附加说明即可以从陈述中直接推出。

请开始答题：

104. 大自然永远在努力地在一切事物上创造和谐，永远在试图将和谐带到任何混乱和困境中。因此，只要思想本身是和谐的，大自然就会依此创造出物质上的和谐环境，所以，拥有和谐的思想是造就和谐环境的第一步。由此可以推出：（ ）。
- A. 思想本身都是和谐的
 - B. 大自然永远在努力地在一切事物上创造和谐，所以所有事物都是和谐的
 - C. 思想和谐才是真正的和谐
 - D. 和谐思想是和谐环境的必要条件
105. 某公司组织业绩优秀的员工出去旅游，经理说，如果小王去，那就让小李也一起去吧。副经理说，小王去旅游。总监说：小李应该去，他最近工作太辛苦了，出去玩放松一下。主管说：小李确实不能去，他走了，工作没法继续了，但是小王得去。最后定好旅游名单之后，发现几位领导说的话只有一句是真的。由此，可以推出：（ ）
- A. 所有的员工都去旅游了
 - B. 有的员工去旅游了
 - C. 小李没有去旅游
 - D. 小王去旅游了

第五部分 资料分析

针对下列图、表或文字回答问题。你应根据资料提供的信息进行分析、比较、计算、处理。你可以在题本上运算。

请开始答题：

一、2014年，全国共有各级各类民办学校（教育机构）15.52万所，比上年增加0.63万所；招生1563.84万人，比上年增加69.32万人；各类教育在校生达4301.91万人，比上年增加223.60万人。其中：民办幼儿园13.93万所，比上年增加5831所；入园儿童953.66万人，比上年增加45.70万人；在园儿童2125.38万人，比上年增加135.12万人。民办普通小学5681所，比上年增加274所；招生114.80万人，比上年增加3.52万人；在校生674.14万人，比上年增加45.54万人。民办普通初中4743所，比上年增加208所；招生167.74万人，比上年增加5.63万人；在校生487.00万人，比上年增加24.65万人。民办普通高中2442所，比上年增加67所；招生82.73万人，比上年增加2.91万人；在校生238.65万人，与上年增加7.01万人。民办中等职业学校2343所，比上年减少139所；招生71.95万人，比上年减少1.21万人；在校生189.57万人，比上年减少18.37万人。另有非学历教育学生29.45万人。民办高校728所（含独立学院283所），比上年增加10所；招生172.96万人，比上年增加12.77万人；在校生587.15万人，比上年增加29.63万人。其中，硕士研究生在校生408人，本科在校生374.83万人，高职（专科）在校生212.28万人；另有自考助学班学生、预科生、进修及培训学生31.73万人。民办的其他高等教育机构799所，各类注册学生88.30万人。

另外，还有其他民办培训机构2.00万所，867.94万人次接受了培训。

106. 2013年，全国各类民办教育在校生有（ ）万人。

- A. 5364.12
B. 4525.51
C. 4078.31
D. 3546.78

107. 2014年，平均每所民办幼儿园在园儿童有（ ）人。

- A. 42
B. 63
C. 80
D. 153

108. 2014年，平均每个民办高校的在校生大约是民办其他高等教育机构的注册生人数的（ ）。

- A. 5倍
B. 7倍
C. 9倍
D. 11倍

109. 与2013年相比，2014年民办高校新入学的学生占有所有学生的比重（ ）。

- A. 有所升高
B. 有所降低
C. 维持不变
D. 无法判断

110. 下列说法正确的是（ ）。

- A. 2014年，平均每所民办普通小学在校生约0.33万人
B. 2014年，平均每所民办普通初中在校生约1万人
C. 2014年，平均每所民办普通高中在校生约1000人
D. 2014年，平均每所民办培训机构培训约0.043万人

二、2014年，浙江省全年进出口总额3358亿美元，比上年增长7.5%。其中，进口870亿美元，下降1.0%；出口2488亿美元，增长10.8%。民营企业出口比上年增长18.8%，占全省出口总值的67.0%，比上年提高4.5个百分点，对全省出口增长的贡献率为108.6%。

新批外商直接投资项目1572个，比上年减少25个；合同外资243.8亿美元，实际到位外资141.8亿美元，分别比上年增长15.7%和8.3%。第三产业利用外资继续保持良好势头，合同外资151亿美元，实际利用外资78.8亿美元，分别比上年增长41.0%和21.9%，分别占外资总额的61.9%和55.6%，比上年分别提高11.1和6.1个百分点。

表一 2014年进出口主要分类情况

	绝对数(亿美元)	比上年增长(%)
进出口总额	3358	7.5
出口额	2488	10.8
一般贸易	1963.4	9.3
加工贸易	322.5	-7.0
机电产品	1015.6	5.9
高新技术产品	142.8	-3.6
进口额	870	-1.0
一般贸易	632.0	1.2
加工贸易	144.5	-5.4
机电产品	149.6	-6.0

表二 2014年对主要市场进出口情况

国家或地区	出口额(亿美元)	比上年增长(%)	进口额(亿美元)	比上年增长(%)
欧盟	544.7	6.6	101.8	-1.2
东盟	201.3	18.7	117.0	3.2
美国	414.0	8.5	65.6	-9.0
日本	133.2	-1.0	101.4	-9.9
俄罗斯	93.1	16.6	13.0	20.9
韩国	58.5	5.1	74.4	-11.5
中国香港	59.1	-10.8	2.7	-6.5
中国台湾	26.2	12.3	110.0	1.1

111. 2014年,浙江省贸易顺差比2013年()。
- A. 减少190.1亿美元
B. 减少251.3亿美元
C. 增加190.1亿美元
D. 增加251.3亿美元
112. 2014年,浙江省民营企业出口总额同比增加()亿美元。
- A. 162.48
B. 263.79
C. 291.81
D. 313.40
113. 2014年,浙江省主要进出口市场中,进出口总额同比增长最快的国家或地区是()。
- A. 美国
B. 欧盟
C. 东盟
D. 俄罗斯
114. 2013年,浙江省新批外商投资项目中,平均每个项目到位外资约为()万美元。
- A. 819.9
B. 900.8
C. 1319.5
D. 1550.9
115. 根据资料,下列说法正确的一项是()。
- A. 2014年,一般贸易出口占浙江省出口总额的比重超过八成
B. 2014年,浙江省对韩国进出口总额超过对俄罗斯进出口总额
C. 2013年,浙江省第三产业实际利用外资占全省实际利用外资的比重约为50.8%
D. 2013年,浙江省一般贸易的进出口总额超过2500亿美元

三、2014年1-4月份,全国固定资产投资107078亿元,同比增长17.3%,增速比1-3月份回落0.3个百分点。从环比速度看,4月份固定资产投资增长1.17%。

分地区看,1-4月份,东部地区投资53749亿元,同比增长16.3%,增速比1-3月份回落0.1个百分点;中部地区投资27917亿元,增长19.7%,增速回落0.5个百分点;西部地区投资24723亿元,增长18.2%,增速回落0.9个百分点。

