

第一部分 常识判断

根据题目要求，在四个选项中选出一个最恰当的答案。

请开始答题：

1. “四个全面”是新一届党的领导集体治国理政的战略布局。下列与“四个全面”有关的说法正确的是（ ）。
 - A. 党的十八大通过了《中共中央关于全面深化改革若干重大问题的决定》
 - B. 十八届三中全会通过了《中共中央关于全面推进依法治国若干重大问题的决定》
 - C. 十八届四中全会提出了“全面建成小康社会”的战略目标
 - D. 习近平总书记在江苏调研时将“从严治党”首次提升到“全面从严”的高度
2. 一般情况下，银行利率提高，股票价格会（ ）。
 - A. 随之上升
 - B. 不受其影响
 - C. 随之下降
 - D. 不稳定波动
3. 1710年到1760年，英国大量从中国进口茶叶等特产，在此期间，英国为此向中国支付了大量白银，该国的白银几乎耗尽。而当时英国的产品在中国几乎无人知晓。上述现象说明当时（ ）。
 - A. 英国的生产力远落后于中国
 - B. 英中贸易对英国而言贸易逆差显著
 - C. 英国对中国有明显经济优势
 - D. 中国成为英国原料产地和商品市场
4. 李军在某服装店挑选衣服，店主向其推荐了一款风衣。李军试穿后觉得不合适，脱下风衣后准备离开，店主却强迫李军买下了这件风衣。店主的这一行为侵犯了李军的（ ）。
 - A. 财产安全权
 - B. 损害求偿权
 - C. 维护尊严权
 - D. 选择商品自主权
5. 地球自转一圈的时间是一天，地球半径约为6371千米，毛泽东诗词“坐地日行八万里”是有科学依据的，人可以随着地球自转运动，那么与诗词最吻合的可能是哪个国家的人（ ）。
 - A. 阿富汗
 - B. 南非
 - C. 新加坡
 - D. 挪威
6. 下列塑料制品中，能够作为食物容器放入微波炉中加热的是（ ）。
 - A. 聚氯乙烯 (PVC)
 - B. 聚乙烯 (PE)
 - C. 聚丙烯 (PP)
 - D. 聚苯乙烯 (PS)
7. 成语“曲高和寡”的本义是曲调高深，能跟着唱的人就少，多指知音难得；引申义是言论或作品太深奥，能了解的人很少。从经济学的角度来理解，它所体现出的道理是（ ）。
 - A. 价格应定在消费者的需求线上
 - B. 价格应定在边际成本上
 - C. 价格应该由政府整合调控好
 - D. 价格应定在社会实际需求上
8. 地震是地球上的主要自然灾害之一。下列关于地震的说法，错误的是（ ）。
 - A. 地震活动在时间分布上具有一定的周期性
 - B. 环太平洋地震带是地球上地震最活跃的地区
 - C. 里氏地震规模每增强一级，释放的能量约增加10倍
 - D. 有纪录以来最大的一次地震是1960年的智利大地震，其震级为9.5级
9. 关于唐代诗人及诗歌，下列说法不正确的是（ ）。
 - A. “小李杜”指的是李商隐、杜牧
 - B. 王维和孟浩然是边塞诗的代表作家
 - C. 杜甫的诗因为反映了安史之乱时的社会现实而被称为“诗史”
 - D. “海内存知己，天涯若比邻”是王勃的名句

10. 下列在相同领域做出杰出贡献的一组人物是（ ）。
- A. 孔子——但丁
B. 严复——伏尔泰
C. 孙膑——普希金
D. 张居正——马克·吐温
11. 下列有关我国南、北方人民生活方面的比较，错误的是（ ）。
- A. 南方居民多以大米为主食，北方居民多以面食为主
B. 南方房屋的层高比北方矮，屋顶坡度也比北方小
C. 北方过去农村住房多用土坯垒墙，南方旧式民居多用砖瓦、竹木
D. “南船北马”是我国传统交通工具的显著特色
12. 下列有关现代科技的说法中，正确的是（ ）。
- A. 高温超导体是指其超导临界温度在摄氏零度以上
B. 纳米材料是指结构单元的尺度达到纳米级而原有性能保持不变的材料
C. 杂交水稻是通过基因重组改变水稻的基因来提高产量的
D. 转基因食品是指转移动植物的基因并加以改变、制造出具备新特征的食品
13. 根据我国《国防动员法》的有关规定，在国家的主权、统一、领土完整和安全遭受威胁时，决定全国总动员或局部动员和发布动员令的分别是（ ）。
- A. 全国人民代表大会、国务院总理
B. 国家主席、国务院总理
C. 全国人民代表大会常务委员会、国家主席
D. 全国人民代表大会常务委员会委员长、国家主席
14. 京剧作为我国著名剧种，和中医、国画并称为中国三大国粹，下列关于京剧的表述正确的是（ ）。
- A. 人们习惯上称戏班、剧团为“杏园”
B. 京剧行当中的“净”是指女性角色
C. “梅派”唱腔创始人是京剧艺术大师梅兰芳先生
D. 《梁山伯与祝英台》是京剧经典曲目之一
15. 《红楼梦》第九十一回中有“任凭弱水三千，我只取一瓢饮。”此语后广为传诵，用来借指“纵然可爱好众多，我只钟情一人”。以下为“弱水”出处之一的是（ ）。
- A. 峨眉
B. 岱宗
C. 昆仑
D. 终南
16. 下列事件或典故发生的背景按时间的先后正确排序的是（ ）。
- A. 《兰亭集序》——交子——“一条鞭法”——三藩之乱
B. 武王伐纣——玄武门之变——胡服骑射——扬州十日
C. 虽远必诛——约法三章——赤壁之战——杯酒释兵权
D. 《史记》——“四库全书”——《资治通鉴》——“二十四史”
17. 日常生活中有许多省电的技巧。以下做法，不能省电的是（ ）。
- A. 经常清洗空调进风口处的过滤网
B. 用同等亮度的LED灯代替节能灯
C. 把新、旧电池接在一起使用
D. 冰箱冷冻仓库内尽量多放或放满食物
18. 以下现象，产生的原因与其他选项不一样的是（ ）。
- A. 同一种花，山上的比山脚下的开得要晚
B. 任何季节，中午时分，只要有太阳照射的地方，影子都指向北
C. 在我国夏季，长春的日照时间比广州要长得多
D. 地球分为五个气候带，分别是热带、南温带、北温带、南寒带、北寒带

19. 由于地理位置、宗教信仰、历史文化等方面的差异，世界各地存在截然不同的饮食习惯。下列情况中，符合现实的是（ ）。
- A. 在新德里的餐厅里，咖喱牛肉拌饭十分受当地人欢迎
 - B. 在慕尼黑啤酒节上，当地人一边喝着啤酒一边吃着咸猪手
 - C. 在梵蒂冈当地家庭的餐桌上，通常会有来自当地港口的海鲜
 - D. 在北海道的冬天，当地人自古以来都食用胡椒以抵御严寒
20. 耕地保护是关系我国经济和社会可持续发展的全局性战略问题。“十分珍惜和合理利用土地，切实保护耕地”是必须长期坚持的一项基本国策。下列说法不正确的是（ ）。
- A. 耕地占用补偿制度是我国目前主要的耕地保护制度之一
 - B. 国家能源、交通、水利、军事等重点建设项目确需占用基本农田的，必须报省级政府批准
 - C. 补充耕地任务全面落实是“十二五”期间土地整治的主要目标之一
 - D. 我国耕地保护红线是18亿亩

第二部分 言语理解与表达

本部分包括表达与理解两方面的内容。请根据题目要求，在四个选项中选出一个最恰当的答案。

请开始答题：

21. 人类社会自有了国家，就开始了征税的历史。从古到今各国开征的税种_____，但总的来说，可以将它们_____为直接税和间接税两大类。直接税如土地税、房屋税等，间接税如盐税、渔税等。两类税种本身以及主体税种的_____经历了一个漫长演进的过程。
依次填入划横线部分最恰当的一项是（ ）。
- A. 大同小异 概括 出现
B. 林林总总 划分 发展
C. 不胜枚举 归纳 更替
D. 五花八门 合并 蜕变
22. 在日常生活中，礼貌语言作用之大往往超出一般人的____，当人与人之间发生这样那样的____时，礼貌、谦让的语言会如熏风般暖人心扉，将龃龉化为乌有，令瑕疵变成笑靥。
依次填入划横线部分最恰当的一项是（ ）。
- A. 期望 冲突
B. 想象 摩擦
C. 估计 争端
D. 设想 磕碰
23. 酒主要以液态形式存在，在古代缺乏严密容器的条件下是很难_____保存的，因此出土的古酒就十分_____。
依次填入划横线部分最恰当的一项是（ ）。
- A. 长期 罕见
B. 完好 珍贵
C. 妥善 难得
D. 大量 稀少
24. 中国的一年四季，季季都令人神往。春日_____，夏天绿荫满枝，秋时_____，冬季银装素裹。
填入划横线处最恰当的一项是（ ）。
- A. 姹紫嫣红 硕果累累
B. 风光旖旎 充实丰盈
C. 生机勃勃 琳琅满目
D. 婀娜多姿 五谷丰登
25. 批评者该如何批评艺术家？此处的批评当然不只是_____的批评，毫不留情的“炮轰”、恨铁不成钢的指责，还包括善意的提醒、温和的建议以及诚恳的交流等等。但是，无论是声色俱厉还是_____，都应该坚守一个底线，即真实、善意、有真见解、_____内心的操守。
依次填入划横线处恰当的一项是（ ）。
- A. 消极 和风细雨 守护
B. 苛刻 循循善诱 笃定
C. 激烈 推心置腹 遵循
D. 严厉 温文尔雅 秉持
26. 毫无疑问，真正的批评家应该拥有的是_____的内心和不带任何偏见的眼睛。除了来自自身灵魂深处和纯粹学术性的_____之外，不该成为任何权势或利益集团的代言人和施惠者的吹鼓手。
依次填入划横线部分最恰当的一项是（ ）。
- A. 纯净 判断
B. 平静 结论
C. 强大 分析
D. 成熟 观察
27. 目前，社会上对种种迷信现象，笃信、盲从者不在少数，根源就在于思辨和理性的_____。在社会的进步和发展中，科学精神是消除各种_____、破除种种迷信的利器。科学精神的核心，就是不盲从，不迷信。
依次填入划横线部分最恰当的一项是（ ）。
- A. 缺失 愚昧
B. 匮乏 罪恶
C. 苍白 无知
D. 失效 误解

28. 在伦敦的日子里，我每天乘着红色的双层巴士在大街上_____，每天都有新发现。一次，在皮卡迪利广场，我又看到读小说的乞丐。在慵懒的夕阳下，那乞丐穿戴齐整，_____地坐在马路旁，面前放着一个供路人扔硬币的碗。他把书放在碗旁的地面上，低着头，用手指指着页面，一行一行地读着。他读得那样认真，身边的车水马龙，周遭的一切_____，似乎都不复存在。依次填入划横线部分最恰当的一项是（ ）。
- A. 穿梭 神情自若 喧嚣
B. 穿行 泰然自若 喧闹
C. 踟蹰 置若罔闻 喧腾
D. 徘徊 旁若无人 喧哗
29. 持之以恒的精神固然可贵，但如果我们所坚持，所固守的是_____甚至错误的，那坚持到底的结果只能是一错再错，人生允许_____，敢于放弃不切实际的理想，也是一种生存智慧。依次填入划横线部分最恰当的一项是（ ）。
- A. 消极 无功而返
B. 盲目 知错就改
C. 反面 偃旗息鼓
D. 偏颇 改弦易辙
30. 任何城市的演变都是城市的历史与新元素的_____。城市的历史和历史建筑应当是我们的资源、城市的特色，而不应被看作城市建设的_____。依次填入划横线部分最恰当的一项是（ ）。
- A. 融会贯通 负担
B. 兼收并蓄 阻力
C. 此消彼长 包袱
D. 相辅相成 障碍
31. 古训“失之毫厘，谬以千里”与“蝴蝶效应”_____，两者都告诫要特别注意初始条件，对微小差别应该保持高度的灵敏度和警觉性。事物发展结果往往对初始条件具有极为敏感的依赖性，初始条件的极其细微的改变，都会在系统后期出现_____，从而引起结果的极大差异。依次填入划横线部分最恰当的一项是（ ）。
- A. 异曲同工 偏差
B. 大同小异 变异
C. 不谋而合 歪曲
D. 殊途同归 问题
32. 在消费品领域，人们的审美观、价值观念是非常_____的，什么是高雅的，什么是大众的，人们在不同的时代、不同的情境下，会有不同的理解。如果让西方饮茶习惯去_____茶饮料领域，他们不习惯的绿茶就永远出不了顶级品牌。依次填入划横线部分最恰当的一项是（ ）。
- A. 时尚 改变
B. 灵活 占领
C. 主观 主导
D. 多元 适应
33. 一个从小吮吸母文化长大的人一旦来到异国他乡，往往会遭遇“文化冲击”（Culture Shock），有人更_____地译为“文化休克”；这种不适应所在地文化、怀念故国文化的现象，就是乡愁。为了排遣深深的乡思、尽快适应和融入新的环境，大多数人都采取了_____的态度。填入划横线部分最恰当的一项是（ ）。
- A. 巧妙 事在人为
B. 形象 兼容并蓄
C. 生动 入乡随俗
D. 夸张 顺其自然
34. 实际上雾霾形成的原因是多方面的，识别污染源是有效治理大气污染至关重要的环节。对京津冀区域而言，认清区域内污染源的共性及差别，有助于区域内地区_____地对污染源进行综合治理。填入划横线部分最恰当的一项是（ ）。
- A. _____
B. _____
C. _____
D. _____
- A. 因地制宜 正本清源
B. _____ 齐心协力
C. 有的放矢 _____
D. _____ _____

35. 缺乏必要的试错机制，很多政府部门和领导干部对改革创新都心存_____情绪，“不求有功，但求无过”，导致改革创新动力普遍不足。以此来看，_____“改革失败”的责任，创造一个宽容的创新环境，才能让更多的政府部门和官员“甩开膀子”谋改革、搞创新。
依次填入划横线部分最恰当的一项是（ ）。
- A. 畏难 豁免
B. 紧张 宽恕
C. 侥幸 淡化
D. 抵触 忽略
36. 至少在中文世界，将儒家传统定性为一种“人文主义”，已经成为学界的_____，而视儒家传统为一种“宗教”，或者认为儒家传统具有一种宗教性，则清末民初以来一直争论不已，至今_____。
填入横线部分最恰当的一项是（ ）。
- A. 公认 尚无定论
B. 共鸣 未置可否
C. 共识 莫衷一是
D. 惯例 前途未卜
37. 赵景深在《文心剪影》里说：“他（叶圣陶）的复信措辞谦抑，字迹圆润丰满，正显出他那_____而又诚实的心。”正如当年他主编《小说月报》曾精心培育了一大批后来成为新文学史上的著名作家时那样。他那_____的精神和工作态度，给予年轻一代的教育，鼓舞的力量是无法_____的。
依次填入划横线部分最恰当的一项是（ ）。
- A. 谦卑 兢兢业业 估价
B. 谦和 公而忘私 估量
C. 正直 大公无私 衡量
D. 率真 孜孜以求 想象
38. 王国维读书治学的一个重要方法，就是对一个问题，总是先_____地收集资料，然后_____地予以分析，最后进行综合性的总结，从而达到对这一问题深刻的认识。
填入划横线处最恰当的一项是（ ）。
- A. 谨慎 抽丝剥茧
B. 全面 独出心裁
C. 广泛 条分缕析
D. 仔细 分门别类
39. 如果没有正确的工作方法，即使每天埋首于工作，忙得_____，也还是会收获甚微，_____。
依次填入划横线部分最恰当的一项是（ ）。
- A. 无所适从 因小失大
B. 心力交瘁 大失所望
C. 不可开交 差强人意
D. 筋疲力尽 得不偿失
40. 在当前的涨价风潮中，有的商品确系成本增加而导致的终端消费价格上涨，但是也有不少商品却属于无须涨价之列，只不过看到其他产品涨价，便想搭上涨价的顺风车，为自己_____私利。这种跟风涨价的势头，政府必须采取有力措施坚决_____。
依次填入划横线部分最恰当的一项是（ ）。
- A. 牟取 遏制
B. 谋取 遏制
C. 牟取 遏止
D. 谋取 遏止
41. 一个流浪汉喝着冰红茶，望着元宵节漫天绽放的烟花，笑容比烟花还要灿烂。此照片仅一天就被转发超过了6万次。网友被如此简单的笑容感染，都叫他“微笑哥”。新年伊始，《爱上这身无分文的日子》《一年不花钱：我的无货币主义生活》《辞职，去旅行》……一大批教人如何“穷快活”的新书出现在读者的视野中。这类书置“钱是万能的，而没钱是万万不能的”的训诫于不顾，诠释没有钱，或者少花钱，也能谋得生存与快乐。
这段文字旨在说明（ ）。
- A. 生活快乐不完全取决于金钱
B. 笑容在网络中具有的感染力
C. “穷快活”成为时下热门题材
D. 生活的快乐难以用金钱购买

42. 有项购物实验，先让购物者看一些他们喜爱的物品，或者厌恶的物品，以改变他们的情绪，然后再展示一些普通物品的图片，让购物者在其中进行选择。结果发现，受积极情绪控制的受试者，能够很快做出购买决定，且他们的决定更不容易被其他原因所改变。
这段文字意在说明（ ）。
- A. 心情愉快能让购物者做出快而不易变更的决定
 - B. 提示售货员切不可让顾客购物时产生厌恶情绪
 - C. 购物者看他们喜爱的物品会很快做出购买决定
 - D. 情绪不好的购物者会很快改变他们的购买决定
43. 作为一个古老的复兴的东方大国，对西方来说，中国很神秘，就像当年马可·波罗到中国以后的描写：遍地是黄金，到处是白银。西方人看了游记，只是觉得中国很富有，但到底怎么富有，就只有靠想象了。现在，西方看中国，真实的成分有，想象的成分也不少。
这段文字主要说明了（ ）。
- A. 西方人对中国的认识与实际仍存在偏差
 - B. 西方对中国的了解还停留在马可·波罗时期
 - C. 马可·波罗的描述构成了西方人认识中国的基础
 - D. 中国的快速发展使西方出现认识上的严重滞后
44. _____。比如工业化的历史，就包含了很多内容，首先是现代生产发展所引起的物质财富的快速增长，由此我们当然对工业化持积极的态度。但另一方面，从生态环境角度看，随着工业化的推进，大量资源被消耗，很多地方被污染，生态破坏对人类造成的危害会长期存在。这样，工业化在不同时段内呈现两种形象，短时间内我们享受了生活，但从长时间来看，我们可能牺牲了未来。
填入横线部分最恰当的一句是（ ）。
- A. 我们用多重的时间来理解和评判历史，就会出现与过去不同的认识
 - B. 历史是分层的，长时段的历史决定了其他时段历史的变化
 - C. 当我们利用线性的时间将历史时间串联在一起时，就呈现出一种因果关系
 - D. 我们研究历史时难免会有局限性，经常受时间因素的影响
45. 近年来，社会热点事件频频占据了我们的视线，从毒奶粉事件到染色馒头事件，无疑给广大民众带来了巨大的心理负担和精神困惑；曾经轰动全国的抢盐事件，更是对社会正常秩序的一种冲击。很明显，这些社会热点事件，给人们的社会生活带来了破坏性甚至是毁灭性的影响。但是最为严重的影响，莫过于这些社会热点事件所产生的负面效应的不断扩散，并由此引发的公众的困惑和不安。
根据这段文字，可以看出作者的意图是（ ）。
- A. 呼吁对社会热点事件负面效应的扩散进行有效抑制
 - B. 批判社会热点事件的负面效应混淆了公众的视听
 - C. 揭示社会热点事件的负面效应不断扩散的实质
 - D. 提醒人们在复杂多变的环境中提高甄别社会热点事件的能力
46. 输血本质上是一种移植，必然会伴随一系列可能发生的免疫反应，移植物抗宿主病就是其中之一，其发病原因简单说来就是供血者体内的免疫活性淋巴细胞在患者体内迁移、增殖，反客为主，进而攻击患者的免疫系统。正常情况下，受血者会把供血者淋巴细胞识别为“异己”而加以排斥，这样供血者淋巴细胞就不能在受血者体内存在。而当受血者与供血者有血缘关系时，两者一部分遗传基因相同，受血者免疫功能低下，不能识别供血者的淋巴细胞，使得供血者的淋巴细胞在受血者体内植存活并增殖，导致发病。所以，_____。
填入划横线部分最恰当的一项是（ ）。
- A. 采用严格规范的临床输血技术至关重要
 - B. 没有经过病原体检验的血液是不安全的
 - C. 直系亲属之间不能相互献血
 - D. 血型相同者也存在输血风险

47. 文学走进互联网，获得了一个崭新的平民化开放视野；网络上自由、兼容和共享的虚拟空间，打破了精英写作对文学话语权的垄断，为愿意上网创作的网民提供了“人人都能当作家”的机会。这种“新民间文学”，标志着文学话语权向民间回归。尽管如此，网络写作仍然不能与“人民写作”相提并论，因为文学的“人民写作”并不取决于传媒的公共性和参与的广泛性，而取决于这种文学的人民性价值取向和为广大民众喜闻乐见的审美品格。
这段文字主要说的是（ ）。
- A. 大众化是未来文学发展的趋势
- B. 文学创作应坚持人民性的价值取向
- C. 网络写作为普通人提供了平等的话语权
- D. 平民化的网络文学不能等同于“人民写作”
48. 中国人将阴历月的大月定为30天，小月定为29天，一年有12个月，即354天，比阳历年少了11天多。怎么办呢？在19个阴历年里加7个闰月，就和19个阳历年的长度几乎相等。这个周期的发明巧妙地解决了阴阳历调和的难题，比希腊人梅冬的发明早了160年。
这段文字主要阐明的是（ ）。
- A. 古代阴历中闰月设置的规律与作用
- B. 中国古代历法在当时有先进水平
- C. 阴阳历调和问题在古代是个世界性问题
- D. 中国古代如何解决阴阳历差异问题
49. 心理矫治作为一项专业性、科学性很强的教育改造手段，其意义不仅在于促进服刑人员改造，也在于降低服刑人员出狱后重复犯罪的几率。当然，由于我国心理学学科建设尚未成熟，心理矫治工作虽然在监狱管理系统中已初见成效，但在监狱系统中大范围运用还需假以时日。
这段文字主要是说心理矫治（ ）。
- A. 在监狱管理中发挥着重要作用
- B. 亟待在大范围运用
- C. 是一种处于发展中的有效教育改造手段
- D. 发展有赖于心理学学科建设的发展成熟
50. 有人说，经济领域和道德领域的规则不一样，经济领域强调的是“经纪人”角色，以取得更大、更多的利润为做事原则；而道德领域则要求奉献、利他、互助等。其实，经济领域固然有供求信号、等价交换、产权明晰、利润最大化等规则，但既然它是人们的社会活动，道德原则也会每时每刻渗透其中，两者难以清晰地割裂开来。
这段文字意在强调（ ）。
- A. 在社会活动中需兼顾经济原则与道德原则
- B. 社会活动中各领域的价值观念在相互渗透
- C. 市场经济中伦理道德的作用是必然存在的
- D. 社会性是经济领域和道德领域的共同属性
51. 人类的平均寿命越来越长，但是人类所观察到的癌症发生率也越来越高。在分析这种趋势的时候，很多人会把它归结为现代食物的品质越来越差。于是时不时有人发出“某某食物致癌”的言论，总能吸引一堆眼球；如果指出这种“致癌的食物”跟现代技术有关，_____。
填入划横线部分最恰当的一句是（ ）。
- A. 那就更容易得到公众的普遍认同
- B. 那就应该分析其关联性到底有多大
- C. 那也不能作为反对现代技术的理由
- D. 那么据此得出的结论就往往只是初步的

52. 行业收入差异反映了行业壁垒的存在，其给予社会的直接影响就是个人的价值可能是无用的。在市场经济社会，最有价值的本是人才，一个人只要有能力，在不同行业都应该能够得到社会的承认，但是在行业壁垒存在的现实中，个人的价值让位于行业的价值，个人的价值由行业的价值体现，而不是由个人体现，当然此种情况下行业的发展也将受到制约。同时，由于进入行业的机制并不是自由竞争，行业收入差异还将让人们看到公平的缺失和缺位——那些没有能力但有关系进入高收入行业者，他们仅仅因为能够进入而成为了更有价值的人。
这段文字旨在说明（ ）。
- A. 行业壁垒的存在体现了用人机制的不公
B. 个人价值的高低不应该由行业价值来评估
C. 行业收入差异使人们对个人价值的评判发生扭曲
D. 行业壁垒使得真正的人才往往被拒之门外
53. 所谓声誉，实际上是企业利益相关者对企业过去在市场交易中的表现的评价。声誉良好的企业，意味着在与利益相关者交易的历史中，扮演着可以信赖的伙伴角色。个人或者组织选择自己的交易对象，_____。因此，那些有着良好信用记录的企业，将更多的获得利益相关方的青睐，而且彼此的交易更倾向于继续发展下去，而不是“一锤子买卖”。
填入划横线部分最恰当的一句是（ ）。
- A. 往往取决于企业在行业中的地位和影响力
B. 是凭借自己或者他人的交易经验来进行判断的
C. 需要考虑双方企业发展的实际需要
D. 合作对象的知名度是其首要考虑的因素
54. ①学者们进一步推测，基克拉底群岛上可能已经出现了早期的国家
②由于地理位置有利，基克拉底群岛一度控制着爱琴海贸易的海上霸权
③遗址发掘发现，当时已经出现了冶炼和制作青铜器的作坊
④从大量墓葬群的分布情况分析，该文明已经出现了比较成熟的早期城市居住区
⑤活跃的商贸活动为该地区居民带来巨大财富，进而为该文明发展提供了必要的物质基础
⑥考古发掘和古物研究证实，基克拉底文明是爱琴海上最古老的文明
将以上6个句子重新排列，语序正确的是（ ）。
- A. ②⑥③④①⑤
B. ⑥②⑤③④①
C. ②⑤⑥③①④
D. ⑥④②③⑤①
55. 我国常规环境空气质量监测点可分为4类：污染监控点、空气质量评价点、空气质量对照点和空气质量背景点。我国地级以上城市已按《环境空气质量监测规范(试行)》要求布设了PM10国控监测点，并形成了较为完善的监测网络。但PM2.5比PM10在空间上分布更均匀，不能简单地把全部PM2.5监测点位都布设在原PM10点位上。因此，为了在城市里用最少的点位来准确全面反映城市的整体环境空气质量，以及在区域层面优化统筹各种类型的点位，迫切需要出台PM2.5监测点位布设的指导意见。
这段文字意在说明（ ）。
- A. PM2.5的监测点位在空间上必须均匀分布
B. 我国地级以上城市已形成较为完善的空气质量监测网络
C. 《环境空气质量检测规范(试行)》对于PM10的监测卓有成效
D. 目前在PM2.5和PM10监测点位的区域统筹上还存在问题

56. ①这些实验告诉我们：科研进展有时就像马拉松赛，而不是很快就能见分晓的短程赛跑
②科学发展是人类追求的一个长期目标，但一些具体研究项目却往往是在一个较短时间度内进行和完成的
③有些研究项目的数据积累工作已持续了几个世纪，有的每年产生数以百计的论文，有的十年才产生一个数据点
④也有一些科学实验或科研项目却不可能在短期内完成，例如：人类寿命研究，地壳变动情况勘察，太阳表面变化观察等，有可能需要几十年甚至几个世纪的时间
⑤尽管如此，一些有远见的科学家仍以他们的奉献精神 and 坚韧不拔的毅力，将科学实验成果传承了下去
⑥如此漫长的实验因此受到各种外在条件和因素的挑战，如研究重点的转移和技术的变化等，并经常受到资金不足和人员变动的制约
- 将以上6个句子重新排列，语序正确的是（ ）。
- A. ③④⑥②⑤① B. ②③④①⑥⑤
C. ②④③⑥⑤① D. ③②④①⑤⑥
57. 翻译时，“直译”偏重于对原文的忠实，“意译”偏重于译文语气的顺畅。哪种译法更妥当，人们各执己见。依我看，直译和意译的分别根本不应存在。忠实的翻译必定能尽量表达原文的意思。思想感情与语言是一致的，相随而变的，一个意思只有一个精确的说法，换一个说法，意味就完全不同。所以想尽量表达原文的意思，必须尽量保存原文的语句组织。因此，直译不能不是意译，而意译也不能不是直译。
- 这段文字中，作者认为（ ）。
- A. 应随原文意思灵活选择翻译方法 B. 忠实于原文思想是翻译的最高艺术
C. 人为划分直译、意译本无必要 D. 翻译时应尽量减少译者个人风格的影响
58. 从羊皮纸、竹简到纸张、活字印刷术的发明，从摩尔斯电码、二进制代码到影像的数字化，文化产品的载体越来越轻盈，精神产品的传播也越来越迅捷。特别是互联网的发明和应用，打破了文化内容传播的时空界限，让文字、视频、音乐可以在瞬间传到地球上的任何一个角落。同时，借助科技创新的种种新工具，人们可以以更快捷的速度，制作精彩纷呈的动漫游戏、数字影视、手机报纸、网络出版、有声读物等等，并由此创造出一个个全新的文化产业。
- 这段文字主要说明了（ ）。
- A. 文化的进步包含科技的发展和创新 B. 科技创新使文化创新的潜力变得无穷
C. 科技创新大大推进了文化创新的进程 D. 科技创新为文化创新提供了工具和载体
59. 在大自然面前，万物没有优劣之分。达尔文在《物种起源》中提出的进化论，把人类放在了一个很普通的位置上。然而，一直有很多人不愿接受这种观点，而是先入为主地将达尔文的进化论曲解为进步论并加以传播。根据进化论，我们很难预测出一个物种的进化趋势，因为进化的机制包含两个因素——环境和物种自身。我们无法预测环境的变化，物种自身怎样遗传和变异，我们也难以完全把握。进化论很大程度上只能给予解释，而非精确的预测，所以依据进化论去给出物种的进化趋势是没有道理的。尽管进化论难以刻画物种进化的细节，但还是帮助人们对生命有了深刻的理解。
- 这段文字意在说明（ ）。
- A. 进化论和进步论的根本区别 B. 反进化论的观点缺乏事实根据
C. 进化论很难预测物种的进化趋势 D. 应科学认识进化论的含义和作用

60. 英国保守党党魁亲自在广告中招揽年轻人，工党设有青年工党全国委员会，并在2005年修订的党章中指出，要争取年轻人对工党理念和主张的共鸣；自由民主党甚至放松年龄，连12岁的儿童都可以加入其青年组织。这也推动了政党领袖的年轻化趋势，给英国政界带来了活力：前工党首相布莱尔44岁就上任，现任首相卡梅伦39岁就当了保守党领袖。

这段文字意在说明（ ）。

- A. 英国鼓励青年从政的文化和环境俱佳
- B. 英国的三大政党都重视吸收年轻成员
- C. 英国年轻人有着较强的参政意识
- D. 英国政党领袖年轻化的趋势日趋明显

第三部分 数量关系

在这部分试题中，每道题呈现一段表述数字关系的文字，要求你迅速、准确地计算出答案。

请开始答题：

61. 某商场在进行“满百省”活动，满100省10，满200省30，满300省50。大于400的消费只能折算为等同于几个100、200、300的加和。已知一位顾客买某款衬衫1件支付了175元，那么买3件这样的衬衫最少需要（ ）。
- A. 445元
B. 475元
C. 505元
D. 515元
62. 某工厂的一个生产小组，当每个工人都在岗位工作，9小时可以完成一项生产任务。如果交换工人甲和乙的岗位，其他人不变，可提前1小时完成任务；如果交换工人丙和丁的岗位，其他人不变，也可以提前1小时完成任务。如果同时交换甲和乙，丙和丁的岗位，其他人不变，可以提前多少时间完成？（ ）
- A. 1.4小时
B. 1.8小时
C. 2.2小时
D. 2.6小时
63. 一支600米长的队伍行军，队尾的通讯员要与最前面的连长联系，他用3分钟跑步追上了连长，又在队伍休息的时间以同样的速度跑回了队尾，用了2分24秒，如队伍和通讯员均匀速前进，则通讯员在行军时从最前面跑步回到队尾需要多长时间？（ ）
- A. 48秒
B. 1分钟
C. 1分48秒
D. 2分钟
64. 将10名运动员平均分成两组进行对抗赛，问有多少种不同的分法？（ ）
- A. 120
B. 126
C. 240
D. 252
65. 广场上的大钟每到正点便会自动发出报时钟声，几点钟便敲几下。已知早上6点大钟报时的时候，最后一下钟声响起的时点是6点零4秒，如果每下钟声间隔时间相同，那么，在早上11点，大钟最后一下钟声响起的时点是11点零（ ）秒。
- A. 7
B. 7.33
C. 8
D. 9
66. 小华在练习自然数数数求和，从1开始，数着数着他发现自己重复数了一个数，在这种情况下他将所数的全部数求平均，结果为7.4，请问他重复数的那个数是（ ）。
- A. 2
B. 6
C. 8
D. 10
67. 某单位派60名运动员参加运动会开幕式，他们着装白色或黑色上衣，黑色或蓝色裤子。其中有12人穿白上衣蓝裤子，有34人穿黑裤子，29人穿黑上衣，那么穿黑上衣黑裤子的有多少人？（ ）
- A. 12
B. 14
C. 15
D. 29
68. 将自然数1—100分别写在完全相同的100张卡片上，然后打乱卡片，先后随机取出4张，问这4张先后取出的卡片上的数字呈增序的几率是多少？（ ）
- A. 1/16
B. 1/24
C. 1/32
D. 1/72

69. 某蔬菜种植基地有甲、乙两个圆柱形蓄水池，它们的底面积之比为4 : 3，甲池中水深8m，乙池中水深5m，再往两个蓄水池注入同样多的水，直到两个蓄水池水深相等，则甲蓄水池的水面上升（ ）。
- A. 12m
B. 18m
C. 9m
D. 6m
70. 在右图小空格中已填上了1及7两个自然数，如果其他空格也填上相应不同的数，使得任意一个横行、任意一个纵列以及任意一条对角线上的3个数之和都等于111。请问，位于中间的小正方形里应填的数是：（ ）。

1		
		7

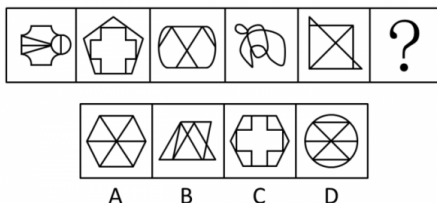
- A. 61
B. 53
C. 41
D. 37

第四部分 判断推理

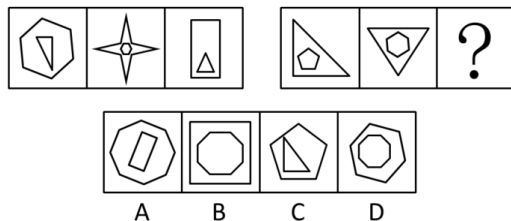
一、图形推理。请按每道题的答题要求作答。

请开始答题：

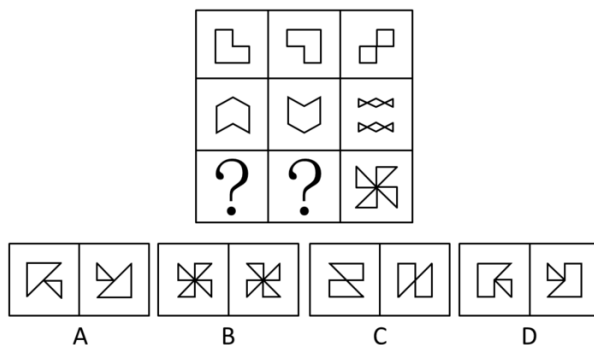
71. 从所给的四个选项中，选择最合适的一个填入问号处，使之呈现一定的规律性（ ）。



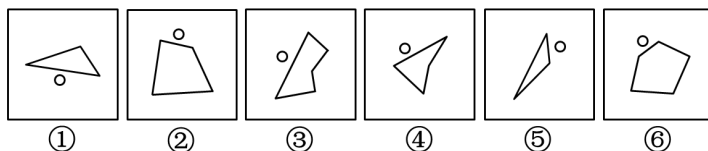
72. 从所给的四个选项中，选择最合适的一个填入问号处，使之呈现一定的规律性（ ）。



73. 从所给的四个选项中，选择最合适的一组填入问号处，使之呈现一定规律性（ ）。

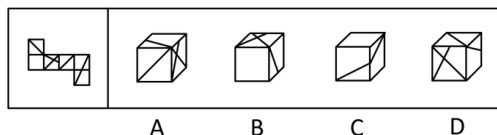


74. 把下面的六个图形分为两类，使每一类图形都有各自的共同特征或规律，分类正确的一项是（ ）。



- A. ①③④, ②⑤⑥ B. ①②⑥, ③④⑤
C. ①③⑤, ②④⑥ D. ①⑤⑥, ②③④

75. 左边给定的是纸盒的外表面，下面哪一项能由它折叠而成？（ ）



二、定义判断。每道题先给出定义，然后列出四种情况，要求你严格依据定义，从中选出一个最符合或最不符合该定义的答案。注意：假设这个定义是正确的，不容置疑的。

请开始答题：

76. 社会壁垒是指在国际贸易中一国以其他国家劳动者的劳动环境和生存权利为借口而采取的贸易保护措施。
- 下列属于社会壁垒的是（ ）。
- A. 甲国认为乙国农业雇佣童工现象严重，因而取消了与该国的贸易订单
 - B. 甲国在从乙国进口的奶粉中发现某种重金属含量超标，即终止了该项贸易
 - C. 甲国受经济危机影响，国内工人大批失业，为给工人创造就业机会，甲国政府终止了与多国的进口贸易
 - D. 甲国认为乙国汽车制造业的从业人员素质较低，会对汽车的安全性产生影响，因而取消了从乙国进口汽车的订单
77. 时间知觉是对客观现象延续性和顺序性的感知，时间知觉的信息，既来自于外部，也来自内部。外部信息包括计时工具，也包括宇宙环境的周期性变化，内部信息是机体内部的一些有节奏的生理过程和心理活动。
- 根据上述定义，下列没有包含时间知觉信息的是（ ）。
- A. 东边日出西边雨，道是无晴却有晴
 - B. 三更灯火五更鸡，正是男儿读书时
 - C. 人有悲欢离合，月有阴晴圆缺
 - D. 月出惊山鸟，时鸣春涧中
78. 有意想象是指事先有预定目的的想象，可分为再造想象和创造想象。前者指根据别人的描述或图样，在头脑中形成新形象的过程；后者指不根据现成的描述，而在大脑中独立的产生新形象的过程。
- 根据上述定义，下列属于创造想象的是（ ）。
- A. 老刘故地重游时脑海里浮现了一些往事
 - B. 公安人员根据受害者的描述画出犯罪嫌疑人的肖像
 - C. 人们在听评书《三国演义》时仿佛身临其境来到了古战场
 - D. 小明在他创作的科幻小说中描绘了未来人类在月球上的生活图景
79. 反应性相倚是指在沟通过程中，沟通双方都以对方的行为作为自己行为的依据，做出相应的反应，而并不按照原来的计划进行沟通。
- 根据上述定义，下列属于反应性相倚的是（ ）。
- A. 妈妈得知小明考试失利准备劝慰一番，但她发现小明的情绪并未受到影响，于是放弃了劝慰小明的打算
 - B. 王厂长在大会上宣读了关于加强劳动纪律的发言稿，由于制定的措施不合理，职工在下面议论纷纷，但他还是完成了自己的发言
 - C. 张老师认为他为学生准备的考试题目并不难，但是仍有一些学生回答不出来，当学生要求张老师提示时，张老师断然拒绝
 - D. 小李同意按照编辑意见修改稿件，但希望保留原文的写作风格，与编辑沟通后，编辑表示同意
80. 绿色壁垒是指一些国家和国际组织通过制定环境标准和法规，为保护生态环境、人类以及动植物生命安全与健康而直接或间接采取的各种限制或者禁止贸易的措施，它是能对进出口贸易产生影响的一种非关税贸易壁垒。
- 根据上述定义，下列属于绿色壁垒行为的是（ ）。
- A. 某大型连锁超市只销售通过绿色食品检验的进口农产品
 - B. 一家纺织品进出口公司销往欧洲的10余吨棉纱因检测出含有德国禁用的偶氮染料而停止出口
 - C. 某公司向国外出口大蒜，因途中货轮上的温控设施出问题，部分大蒜到港后变质，结果所有大蒜被退回
 - D. 一家工厂生产的木质卧室家具在美国市场销售量非常可观，但由于美国提高了木质卧室家具的关税，其出口量大受影响

81. 注意分为内源性和外源性注意。内源性注意是指个体根据自己的目标或意图来分配注意支配行为，是主动注意；外源性注意是指由个体外部信息引起的个体注意，是被动注意。
根据上述定义，下列属于内源性注意的是（ ）。
- A. “轰”的一声响，大家不由地都回头看了一眼
 - B. 六一儿童节，公园里奇幻的魔术表演受到许多小朋友和家长的喜爱
 - C. 超市琳琅满目的商品，包装各异、颜色鲜亮，吸引了许多顾客的眼球
 - D. 根据客户的要求，广告设计师特别关注了大量以温馨家园为题材的售楼广告素材
82. 飞轮效应指的是为了使静止的飞轮转动起来，一开始你必须使很大的力气，一圈一圈反复地推，每转一圈都很费力，但是每一圈的努力都不会白费，飞轮会转动得越来越快，达到某一临界点后，飞轮的重力和冲力会成为推动力的一部分。这时，你无须再费更大的力气，飞轮依旧会快速转动，而且不停的转动，类似这种现象被称之为飞轮效应。
根据上述定义，下列哪项属于飞轮效应？（ ）
- A. 一只蚂蚁都发现了一大块面包，开始它拖不动；不久，又来了一只蚂蚁，还是拖不动；三只、四只、五只……最终面包被一群蚂蚁搬回了家
 - B. 为了使得公司各个部门始终保持活力，某公司每年都会在各个部门中调走一名员工，新加一名员工
 - C. 研究小组在某班学生名单中随意抽取出若干学生，未做任何测试，然而他们告诉校方，相关测试表明这些学生天赋很高，只是尚未表现出。有趣的是，这些学生的期末考试成绩的确高出其他学生许多
 - D. 某厂家研发出一种新型相机，其宣传广告在电视台不同时间段一次又一次播出，当达到一定知名度时，该产品终于广开销路，此时只须在黄金时段播出广告就能保持销量
83. 调查显示，59.4%的公众感觉当前社会“逆淘汰”现象普遍，其中18.8%的人觉得“非常多”。所谓“逆淘汰”，简言之，即指坏的淘汰好的，劣质的淘汰优质的，平庸的淘汰杰出的等现象。
根据上述定义，下列属于逆淘汰现象的是（ ）。
- A. 某公司拥有领先的卫星通话技术，语音质量高，覆盖范围广，但该技术的维持费用高昂。后来该公司入不敷出，宣告破产
 - B. 市场上某些价格高昂的止咳药疗效实际不如价格低廉的常用药，而事实上常用药所占市场份额较小
 - C. 许多公司都有对工作发牢骚的人，结果，凡是公司中有对工作发牢骚的人，那家公司一定比没有这种人的公司要成功得多
 - D. 名牌大学毕业的甲和普通大学毕业的乙同时进入某国际知名公司，但甲始终未获提升，乙却逐渐得到了公司的认可
84. “翻异别勘”是宋代为防止冤假错案而规定的复审制度，是指犯人如果在录问或行刑时提出申诉，案件必须重新审理。宋代的“翻异别勘”分为原审机关的“移司别勘”和“差官别推”两种形式。“移司别勘”是指由原审机关将案子交给另一个同级的司法机关复审。“差官别推”是指原审机关将案子申报到上级机关，由上级机关负责差派与原审机关不相干的另外一个机关的官员重新审理。这种情况下，往往或者是差派上级机关的官员前往原审机关主审，或者将案子移往上级机关复审。
根据上述定义，下列不属于“翻异别勘”的是（ ）。
- A. 宋代中央司法机关刑部分左、右两厅，对其中一厅审理的案件，若犯人提出申诉，则由另一厅重审
 - B. 宋代地方司法机关从上至下分为路、州、县三级，对由县上诉至州的案件作出判决后，若犯人提出申诉，则由州发回县重审
 - C. 犯人对州县审理的案件提出申诉，可以将案件移交至州县的上级——路的长官进行重审
 - D. 犯人对州县审理的案件提出申诉，州县的上级——路的长官可以亲至州县对案件进行重审

85. 为了保护劳动者获得劳动报酬的权利,《刑法修正案(八)》规定,恶意欠薪者将被追究刑事责任,“以转移财产、逃匿等方法逃避支付劳动者的劳动报酬或者有能力支付而不支付劳动者的劳动报酬,数额较大,经政府有关部门责令支付仍不支付的,处3年以下有期徒刑或者拘役,并处或者单处罚金;造成严重后果的,处3年以上7年以下有期徒刑,并处罚金。”

根据上述定义,下列哪项属于恶意欠薪者的行为?()

- A. 某企业经营不善,陷入困境,拖欠员工一年的工资
B. 农民工小王向企业讨薪未果,并遭到企业打手的围殴
C. 小李超规定期限透支信用卡额度,发卡银行两次催收后超过3个月仍不归还后,以恶意透支罪对小李提起诉讼
D. 招投标之前,开发商与建筑施工企业就达成默契,双方约定,开发商将预付款打入施工企业的账户后,建筑施工企业要原封不动地返还给开发商,致使建筑施工企业无法支付工人的工资

三、类比推理。每道题先给出一组相关的词,要求你在备选答案中找出一组与之在逻辑关系上最为贴近,相似或匹配的词。

请开始答题:

86. 香港:澳门:港澳
A. 广东:广西:两广
B. 海洋:岛屿:海岛
C. 上海:南京:沪宁高速
D. 科技:伦理:科技伦理
87. 地理:自然地理:经济地理
A. 城市:居民区:商业区
B. 卫星:遥感:雷达
C. 糖果:水果糖:芝麻糖
D. 单位:千米:公里
88. 抽样调查:抽样原则
A. 调查问卷:征求意见
B. 人物访谈:访谈内容
C. 数学模型:建模软件
D. 设备操作:操作规程
89. 火药:烟花
A. 汽油:汽车
B. 金属:指南针
C. 无线电:手机
D. 玻璃:放大镜
90. 导游:旅行社:行程
A. 职员:公司:总结
B. 演员:剧院:表演
C. 教师:学校:大纲
D. 司机:车队:驾照
91. 安居乐业:颠沛流离
A. 吸收:放弃
B. 简单:杂乱
C. 雪中送炭:雪上加霜
D. 巧夺天工:鬼斧神工
92. 电动车:摩托车:救护车
A. 乒乓球:保龄球:羽毛球
B. 葡萄酒:香槟酒:保健酒
C. 天鹅绒:清洁绒:法兰绒
D. 联谊部:俱乐部:文学部
93. () 之于 钢琴 相当于 乒乓球 之于 ()
A. 舞台;球台
B. 手风琴;足球
C. 音乐家;运动员
D. 琴声;喝彩
94. 民法:法律:法官
A. 榕树:植物:园丁
B. 母牛:奶牛:牧民
C. 太阳:月亮:银河系
D. 学生:中学生:教师

95. () 之于中国 相当于 () 之于英国
- A. 指南针; 航天飞机 B. 长江; 伦敦
C. 曹雪芹; 莎士比亚 D. 京剧; 舞蹈

四、逻辑判断。每道题给出一段陈述，这段陈述被假设是正确的，不容置疑的。要求你根据这段陈述，选择一个答案。注意：正确的答案应与所给的陈述相符合，不需要任何附加说明即可以从陈述中直接推出。

请开始答题：

96. 在对一种健脑产品的测试实验中，第一组被试者每天服用该种保健产品，第二组则没有服用。结果发现，第一组被试者的大脑认知能力果然比第二组被试者好。因此，实验证明这种保健产品确实对大脑具有明显的保健效果。
- 以下哪项如果为真，最能支持上述结论 ()。
- A. 在测试实验前两组被试者的大脑认知能力是相当的
B. 该健脑产品所含的成分在一些日常食物中也存在
C. 两组被试者的人数相等，且家庭经济能力类似
D. 该健脑产品已经许可生产和销售，并取得很好的市场份额
97. 某超市举行店庆促销活动。其中，具体规定如下：
- ①只有在店庆当天的一次消费中购买甲类商品和乙类商品至少各一样，才能获得小熊赠品一只；
②只有VIP会员并且当天一次性消费至少一件甲类商品或乙类商品，当次所购全部商品才能获得八折优惠；
③如果购买乙类商品的件数在五件以上，则可以申请成为VIP会员。
- 假如店庆当天张丽仅在该超市消费一次，但没有购买乙类商品，则以下哪项一定为真 ()。
- A. 张丽所购商品不可能得到八折优惠 B. 张丽是VIP会员并购买了甲类商品
C. 张丽不能获得小熊赠品 D. 张丽有可能获得小熊赠品
98. 一项研究发现，新鲜蔬菜分别常温、冷藏放置两天后，亚硝酸盐含量会升高，并不同程度高出国家标准限值，对人的身体会造成轻到重度的中毒情况。对此，研究人员将5种久置的蔬菜用果蔬洗涤剂浸泡5到10分钟，用清水冲洗干净后，又测试了亚硝酸盐含量。结果显示，蔬菜中亚硝酸盐的含量明显降低，并很快降低到安全值。因此研究人员认为，久置蔬菜经果蔬洗涤剂清洗后可放心食用。
- 以下哪项如果为真，最能削弱研究人员的实验结论？ ()
- A. 5种蔬菜中亚硝酸盐含量不同
B. 果蔬洗涤剂中的化学物质会破坏蔬菜的口感
C. 实验中亚硝酸盐含量只是短时间内降低，很快就恢复到超标状态
D. 在清水中浸泡20分钟以上也能达到在实验中同样的效果
99. 某公司专门生产深受年轻人喜欢的高端智能手机，产品销路一直很好，但近段时间却出现了销售量明显下降的趋势，以下是公司职员和经理二人对销量下降原因的分析。
- 公司职员：近段时间我们公司的产品销量明显下滑，这是由于我们生产的产品质量下降导致的。
公司经理：产品销量下滑与产品质量没有关系，这是由于我们的产品缺乏市场竞争力。
- 以下哪项如果为真，能对公司经理的观点提出质疑 ()。
- A. 其他生产相同产品的公司均无缺乏市场竞争力之忧
B. 产品质量下降导致其缺乏市场竞争力
C. 高端智能手机在市场上一直处于供不应求的状态，而不是无销路
D. 公司近段时间抓产品质量，产品质量有很大提升

100. 六朝时的清谈名家刘惔话很多，但他也欣赏不说话的人。他见江权不常开口，非常欢喜，说：“江权不会说话，而能够不说，真叫人佩服。”江权知道自己不善言谈，但他懂得藏拙。不是每个人都知道自己的缺点在什么地方，好为人师夸夸其谈者不计其数。能说话而爱说，情有可原；很多人明明不大会说话，偏偏说个不停，自暴其短，往往令人生厌。因此可以说，江权这样做，其实是一种极难得的聪明。
- 以下哪项如果为真，最能支持上述结论？（ ）
- A. 能言而能不言是一种极难得的聪明
B. 不能言而能不言是一种自知的聪明
C. 不能言而言其实是一种浮夸之举
D. 不能言而不言其实是一种无奈之举
101. 易教授去宫老师家做客，到门口后不知道宫老师住几楼，便问在门口乘凉的老奶奶和几个小朋友。小丽说：“宫老师不住一楼。”小梅说：“宫老师不住二楼。”小芳说：“宫老师不住三楼。”小红说：“宫老师不住四楼。”小玉说：“这楼只有四层，宫老师不住四楼只有住露天了。”这时，老奶奶笑着对易教授说：“这些孩子真调皮，但多数说的都是真话，只有一个人说了假话。”
- 据此，可以推出（ ）。
- A. 宫老师住一楼
B. 宫老师住二楼
C. 宫老师住三楼
D. 宫老师住四楼
102. 科学家最新发现被命名为“郑氏晓廷龙”的小恐龙是始祖鸟的“亲戚”，与生存于侏罗纪晚期的始祖鸟亲缘关系非常近。通过分析始祖鸟的形态，并对似鸟恐龙和早期鸟类的系统发育关系进行了重新分析，得出始祖鸟并非鸟类，而是原始恐爪龙类，即始祖鸟是迅猛龙的祖先，而不是鸟类的祖先。
- 如果以下各项为真，最不能质疑上述推测的是（ ）。
- A. 恐爪龙类是一类与恐龙亲缘关系很近的鸟
B. 恐爪龙类是一类与鸟类亲缘关系很近的恐龙
C. 兽脚类恐龙的一支演化成植食性恐龙，再演化成鸟类
D. 始祖鸟标本被命名后，一直被认为是最原始、最古老的鸟类
103. 疾病预防控制中心的研究报告认为，烟草使用是首要的可预防死因，每年全世界有500万人死于烟草相关疾病，其中每年死于二手烟的人数也高达60万，四分之一以上为儿童。
- 以下各项如果为真，哪项最不能质疑上述观点？（ ）
- A. 每年全世界有500多万人死于因运动不足而引发的疾病
B. 每年全世界有500多万人死于因生活不规律而引发的疾病
C. 每年全世界不低于1405万人的可预防死因并非烟草相关疾病
D. 每年全世界因心理调试不当引发的疾病成为人类首要的可预防死因
104. 某市风景优美，气候宜人。该市晨曦路两侧开设的几乎全部都是老年疗养院，来自全国各地的很多老年人来此旅游、疗养。晨曦路只有很少几座居民住宅，但是晨曦路附近却有很多专门经营儿童用品的商店，而且生意还相当火爆。
- 下列哪一项是最能解释这一现象？（ ）
- A. 晨曦路附近的专门经营儿童用品的商店所出售的商品物美价廉
B. 来此疗养的老人都是有子女带着孩子陪同的，他们需为孩子购买所需物品
C. 居住在晨曦路的居民虽然不多，但孩子们之间经常互相赠送礼物
D. 晨曦路附近的儿童用品商店闹中取静购物环境良好
105. 由于在乐业天坑中最大的天坑—大石围—底部的原始森林中发现了与恐龙同时代的植物桫欏，有人据此推测，大石围应形成于恐龙时代，即6500万年前。
- 如果下列各项为真，哪项最能反驳上述推测？（ ）
- A. 桫欏至今仍然存在
B. 在其他乐业天坑中未发现桫欏
C. 恐龙无法进入这个极深的天坑
D. 没有在大石围中发现恐龙化石

第五部分 资料分析

针对下列图、表或文字回答问题。你应根据资料提供的信息进行分析、比较、计算、处理。你可以在题本上运算。

请开始答题：

一、根据以下资料，回答问题。

2009年部分省、自治区、直辖市单位GDP能耗

	单位 GDP 能耗		单位工业增加值能耗		单位 GDP 电耗	
	指标值 (单位：吨标 准煤/万元)	同比上或下 (±%)	指标值 (单位：吨标 准煤/万元)	同比上或下 (±%)	指标值 (单位：千瓦 时/万元)	同比上或下 (±%)
辽宁	1.439	-5.08	2.257	-6.95	1119.99	-6.82
北京	0.606	-5.76	0.909	-12.30	681.85	-2.74
天津	0.836	-6.03	0.911	13.54	782.88	-8.49
河北	1.640	-5.02	2.999	-9.54	1449.94	-2.52
山东	1.072	-5.46	1.543	-9.20	972.49	-3.86
江苏	0.761	-5.17	1.107	-10.17	1064.25	-5.50
上海	0.727	-6.17	1.957	-5.00	808.49	-6.39
浙江	0.741	-5.41	1.123	-4.96	1176.50	-2.33
福建	0.811	-3.81	1.150	-2.70	1032.05	-5.87
广东	0.684	-4.27	0.809	-6.94	1002.09	-6.13
海南	0.850	-2.81	2.613	-4.53	922.89	-2.61
广西	1.057	-4.43	2.235	-6.68	1279.87	-2.00

106. 表中2009年单位GDP能耗和单位工业增加值能耗相差最大的省市区是（ ）。
- A. 辽宁
B. 河北
C. 海南
D. 广西
107. 与上年相比，表中2009年每万元GDP耗电量下降最多的省市区是（ ）。
- A. 辽宁
B. 天津
C. 上海
D. 广东
108. 若保持与2009年相同的降幅，北京市在哪一年的万元GDP能耗将降低到0.55吨标准煤以下？（ ）
- A. 2011
B. 2012
C. 2013
D. 2014
109. 2009年单位GDP能耗、单位工业增加值能耗和单位GDP电耗由高到低排列，均在列表前五位的地区有几个？（ ）
- A. 0
B. 1
C. 2
D. 3
110. 以下说法与资料相符的是（ ）。
- A. 2008年浙江的单位工业增加值能耗高于江苏
B. 2009年单位GDP能耗最高地区的水平是最低地区的两倍以上
C. 2009年单位GDP能耗和电耗降幅最为接近的省市区是广东
D. 表中2008年万元GDP电耗在千度以上的省市区数和2009年相同

二、根据以下资料，回答问题。

2009年度全国“农民工总量”为22978万人，比上年增加435万人。其中“外出农民工”14533万人，比上年增加492万人。在外出农民工中，“住户中外出农民工”11567万人，比上年增加385万人；“举家外出农民工”2966万人，比上年增加107万人。

从输出地看，2009年东部地区农民工10017万人，同比增长3.1%，东部地区农民工占全国农民工总量的比重为43.6%；中部地区农民工7146万人，同比增长0.9%，中部地区农民工占全国农民工总量的31.1%；西部地区农民工5815万人，同比增长1.2%，西部地区农民工占全国农民工总量的25.3%。

从输入地看，2009年在东部地区务工的外出农民工为9076万人，比上年减少888万人，下降8.9%，占全国外出农工人数的62.5%，比上年降低8.5个百分点；在中部地区务工的外出农民工为2477万人，比上年增加618万人，增长33.2%，占全国外出农工人数的17%，比上年提高3.8个百分点；在西部地区务工的外出农民工为2940万人，比上年增加775万人，增长35.8%，占全国外出农工人数的20.2%，比上年提高4.8个百分点。

从性别看，男性外出农民工占65.1%，女性占34.9%；从年龄看，外出农民工以青壮年为主，其中16-25岁占41.6%，26-30岁占20%，31-40岁占22.3%，41-50岁占11.9%，50以上的农民工占4.2%；从婚姻状况看，已婚的外出农民工占56%，未婚的占41.5%，其他占2.5%。

在外出农民工中，文盲占1.1%，小学文化程度占10.6%，初中文化程度占64.8%，高中文化程度占13.1%，中专及以上文化程度占10.4%。高中及以上文化程度比重比上年提高1.7个百分点，占23.5%。分年龄组看，低年龄组中高学历比例要明显高于高年龄组；30岁以下各年龄组中，接受过高中及以上教育的比例均在26%以上，其中，21-25岁年龄组中接受过高中及以上的比例达到31.1%。

2009年，外出农民工月平均收入为1417元，比上年增加77元，增长5.7%。外出农民工月收入在600元以下的占2.1%；600-800元的占5.2%；800-1200元的占31.5%；1200-1600元的占33.9%；1600-2400元的占19.7%；2400元以上的农民工占7.6%。

111. 与上年相比，2009年以下四项的增长率最低的是（ ）。

- A. “农民工总量”
- B. “外出农民工”
- C. “住户中外出农民工”
- D. “举家外出农民工”

112. 从输入地来看，2008年在东部地区务工的外出农民工约是在西部地区务工的（ ）。

- A. 3.4倍
- B. 3.8倍
- C. 4.2倍
- D. 4.5倍

113. 2009年，全国“31-50岁”的外出农民工约为（ ）。

- A. 8000万人
- B. 5000万人
- C. 3000万人
- D. 1000万人

114. 2008年，高中及以上文化程度的外出农民工约为（ ）。

- A. 5000万人
- B. 4000万人
- C. 3000万人
- D. 2000万人

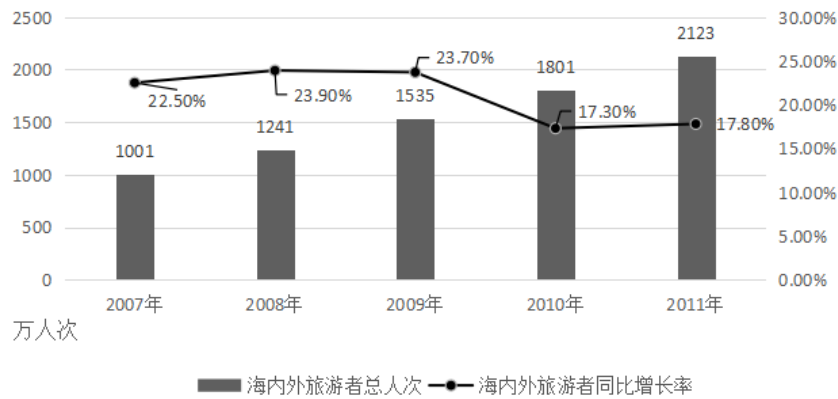
115. 以下说法中，不正确的一项是（ ）。

- A. 从输出地看，2008年东部地区农民工不足1亿人
- B. 2009年，全国男性外出农民工超过9千万人
- C. 2009年，全国外出农民工中，已婚的与未婚的人数之差大约2千万人
- D. 2009年，月工资在1200元以上的外出农民工不足8千万人

三、根据以下资料，回答问题。

2011年，某市接待海内外旅游者2123万人次，同比增长17.8%。其中：接待入境旅游者87.71万人次，同比增长8.2%，在入境旅游者中，外国旅游者51.1万人次，同比下降8.6%；港澳台旅游者36.61万人次，同比增长43%。旅游总收入168.15亿元，同比增长27.20亿元。其中，国际旅游创汇2.44亿美元，同比增长10.9%。

2007年-2011年某市接待海内外旅游者情况



116. 2011年，该市接待境内旅游者大约多少万人次？ ()
- A. 1762 B. 2035
- C. 2071 D. 2086
117. 2006~2011年，该市接待海内外旅游者年平均增加多少万人次？ ()
- A. 244.4 B. 261.2
- C. 280.5 D. 322.5
118. 2010年，该市接待入境旅游者约占海内外旅游者总人次的 ()。
- A. 4.5% B. 4.1%
- C. 3.8% D. 2.4%
119. 2011年，该市旅游总收入同比增长 ()。
- A. 16.2% B. 17.8%
- C. 18.0% D. 19.3%
120. 能够从资料中推出的是 ()。
- A. 2011年该市港澳台入境旅游者比去年增长约20万人次
- B. 2010年该市国际旅游创汇不足2亿美元
- C. 2007~2011年中，该市海内外旅游者接待量同比增长率最大的是2008年
- D. 与2010年相比，2011年该市入境旅游者接待量占海内外旅游者总接待量的比重有所增长