

第一部分 常识判断

根据题目要求，在四个选项中选出一个最恰当的答案。

请开始答题：

1. 中国早在2007年就已将“国家对不动产实行统一登记制度”写入《中华人民共和国物权法》。徘徊七年多《不动产登记暂行条例》将于（ ）起正式实施，不动产登记终于进入实际操作阶段。
A. 2015年3月1日
B. 2015年5月1日
C. 2015年7月1日
D. 2015年10月1日
2. 第六十九届联合国大会2015年2月26日召开全会，一致通过（ ）的决议。该决议认可各会员国对反法西斯战争有各自的胜利纪念日，认为第二次世界大战对全人类，特别是亚洲、欧洲等地区民众造成了深重苦难。
A. 关于纪念世界反法西斯战争胜利68周年
B. 关于纪念世界反法西斯战争胜利69周年
C. 关于纪念世界反法西斯战争胜利70周年
D. 关于纪念世界反法西斯战争胜利71周年
3. 2015年5月13日，国家卫计委发布（ ）结果，这是我国首次由政府主导的全国性家庭追踪调查。
A. “中国社会发展追踪调查”
B. “中国家庭发展追踪调查”
C. “中国家庭经济发展追踪调查”
D. “中国社会经济发展追踪调查”
4. 下列选项中不属于社会意识相对独立性表现的是（ ）。
A. 社会意识与社会存在变化发展的不同步性
B. 社会意识与社会存在不存在相互作用
C. 社会意识与经济发展水平的不平衡性
D. 社会意识与社会意识之间的相互影响
5. 对于某大学的樱花春天满园绽放，有人认为美不胜收，有人认为是“国耻”，对这一现象解释最恰当的是（ ）。
A. 意识对客观世界有改造作用
B. 意识活动的创造性
C. 意识活动对人体活动的控制
D. 意识对于客观事物的反映是主动地、有选择的
6. 1957年2月，毛泽东发表《关于正确处理人民内部矛盾的问题》的重要讲话中指出，正确处理（ ）成为国家政治生活的主题。
A. 人民内部矛盾
B. 敌我矛盾
C. 基本矛盾
D. 工人阶级同资产阶级的矛盾
7. 2015年1月9日著名核物理学家、“两弹一星”功勋于敏院士获2014年度国家最高科学技术奖。中共中央总书记、国家主席、中央军委主席习近平为他颁奖。这表明政府在履行（ ）。
A. 政治职能
B. 经济职能
C. 文化职能
D. 社会公共服务职能
8. 下列不属于市场经济特征的是（ ）。
A. 平等性
B. 竞争性
C. 自发性
D. 开放性
9. 下列国家中，国民用于购买食物费用占日常支出平均比重最高的是（ ）。
A. 美国
B. 日本
C. 中国
D. 喀麦隆

10. 下列选项中，不属于外部监督手段的是（ ）。
- A. 国家权力机关的监督
B. 人民法院和人民检察院的监督
C. 审计部门的监督
D. 政党监督
11. 下列行为符合我国法律关于宗教自由的规定的是（ ）
- A. 小王在单位向同事传播佛教
B. 张某向家人传播“全能神教”
C. 李某在家向家人传播基督教义
D. 谢某市中心散发有关于道教的传单
12. 下列哪种情况已过诉讼时效期间？（ ）
- A. 1978年5月1日李某借给王某2万元，约定1年后还，到2010年4月1日李某首次向王某主张还钱。
B. 2010年3月9日甲借给乙五万元，约定2011年3月3日还，甲分别于2011年6月10日、2013年1月10日要求乙还钱，一直到2014年5月13日甲向法院起诉乙，要求乙还钱。
C. 甲在2005年3月1日被乙打伤花去医药费3万元，甲于2006年1月1月向法院起诉乙，要求乙赔偿医药费。
D. 王某作为人寿保险受益人，在事故发生之后第三年整，向保险公司主张赔偿。
13. 宪法规定我国公民在社会经济、文化教育方面的权利不包括（ ）。
- A. 财产权
B. 劳动权
C. 隐私权
D. 受教育权
14. 下列与地球上存在生命现象无关的条件是（ ）。
- A. 日地距离适中
B. 地球的体积、质量适中
C. 地球的自转方向与公转方向相同
D. 地球昼夜交替周期适中
15. 晴朗的天空呈现蓝色，是由于太阳光透过大气层的（ ）。
- A. 直接到达地面的蓝光比重大
B. 空气分子使蓝光发生散射作用
C. 高层大气分子大量吸收蓝色光
D. 到达地面的蓝色光又完全被反射到高空
16. 菠菜营养丰富，含有大量的β胡萝卜素，也是维生素B6、叶酸等极佳来源，但是菠菜不能直接烹调，吃菠菜时宜先用沸水焯软，捞出再炒。在烹调前用沸水焯菠菜的主要原因是（ ）。
- A. 清除生菠菜含有的红血球凝集素
B. 改变生菠菜内龙葵素的化学成分
C. 防止菠菜内的草酸成分阻碍人体对钙的吸收
D. 清除菠菜种植过程中残留的农药
17. 红细胞也称红血球，在常规化验英文常缩写成RBC，是血液中数量最多的一种血细胞，它在人体中的主要作用是（ ）。
- A. 将氧气从肺运送到身体各个组织
B. 作为免疫系统的一部分帮助身体抵抗传染病以及外来感染
C. 促进血液中的生物化学反应，辅助生物体的新陈代谢
D. 在血管破裂时大量聚集，起到凝血作用
18. 纪要和决议都是反映会议结果的公文文种，二者最大的区别在于（ ）。
- A. 纪要必须经过盖章签发
B. 决议必须经过会议表决程序
C. 纪要必须经过会议表决程序
D. 决议所涉及的内容更真实
19. 下列公文发文字号正确的是（ ）。
- A. 中办发〔2013年〕15号
B. 中办发〔2013〕第13号
C. 中办发（2013）13号
D. 中办发〔2013〕13号

20. 汉高祖“乃令贾人不得衣丝、乘车，重租税以困辱之”，而宋代出现了富商大贾“榜下捉婿”的现象。造成这一变化的原因是（ ）。

A. 文人社会地位提高

B. 商人可以参加科举考试

C. 官僚机构日益扩大

D. 重农抑商政策出现松动

第二部分 言语理解与表达

本部分包括表达与理解两方面的内容。请根据题目要求，在四个选项中选出一个最恰当的答案。

请开始答题：

21. 虽然，每个村落看上去都是个体，但实际上，村落之间的历史生命彼此相关。在一些地域内，往往相邻的村落在创建及发展的过程中有着_____的联系。对这种“古村落群”，如果采用单一的个体化保护便会_____它们的历史脉络，使其人文变得孤立而单薄。
依次填入划横线最恰当的一项是（ ）。
- A. 独一无二 阻碍
B. 举重若轻 摧毁
C. 千丝万缕 割断
D. 不可或缺 破坏
22. 梦想是一个民族保持生机、激发活力的源泉。没有梦想的民族是可悲的，对美好梦想没有坚定不移和_____精神的民族同样没有前途。_____、坚忍不拔是中华民族固有的精神基因。
依次填入划横线最恰当的一项是（ ）。
- A. 专心致志 勤俭节约
B. 背水一战 艰苦奋斗
C. 持之以恒 生生不息
D. 矢志不渝 自强不息
23. 北京的长安街可谓_____，而在湖南城步苗族自治县，有一个地方叫做长安营，这一地名沿用至今已有一二百年的历史。而当地的许多老百姓，至今说话仍带着京腔京味。这里_____了昔日清王朝征服西南地区的少数民族起义的历史，与吴三桂等著名历史人物都有着密不可分的关系。
依次填入划横线最恰当的一项是（ ）。
- A. 享誉中外 镌刻
B. 声名鹊起 记录
C. 路人皆知 烙印
D. 闻名遐迩 见证
24. 用“端午”这鲜亮的粽叶一包，棱角分明又百味杂陈，可以拎着无尽的滋味游走于长江黄河，穿越于远古今朝，让我们既享受当下的天伦之乐，又_____祖先的盛德、美好与忧伤——这不正是节日于我们的_____意义吗？
依次填入划横线最恰当的一项是（ ）。
- A. 怀念 真正
B. 推崇 长远
C. 追怀 终极
D. 追忆 附加
25. 孝作为一种亲情，蕴含着父母养育未成年子女的责任和子女赡养年老父母的义务。这种责任和义务关系既不是契约关系，也不是任何意义上的等价交换，而是亲情的自然产物，是一种_____的道德责任和义务。
依次填入划横线最恰当的一项是（ ）。
- A. 不可推卸
B. 责无旁贷
C. 义不容辞
D. 在所难免
26. 从“抢盐风波”到“各地发生地震”，网络造谣滋生的“网络炸弹”，影响甚远。虽然很多情况下，我们可以凭借自身的知识去分析，但每个人都有自己的知识盲点，不可能完全应付得了，一不留神，便可能成为受害者。因此，必须打击网络谣言，才能_____舆论的正义，_____社会的正常理性和诚信。
依次填入划横线最恰当的一项是（ ）。
- A. 庇护 修复
B. 维护 恢复
C. 保卫 重建
D. 护卫 匡复

27. 造谣传谣行为不但构成违法犯罪，更不断侵蚀社会诚信，瓦解社会道德基础。打击网络“大谣”，净化网络环境，_____。现实中，互联网的监督涉及部门众多。要及时迅速地甄别网络谣言，打击“大谣”，需要进一步_____“虚拟社会”的服务和监督水平。依次填入划横线最恰当的一项是（ ）。
- A. 刻不容缓 提高
B. 十万火急 改善
C. 迫在眉睫 优化
D. 急如星火 提升
28. 现在的中国父母把自己的希望和荣耀寄托在孩子身上，加上中国填鸭式的教育和教育制度的_____，孩子们往往小小年纪就背上了沉重的书包。实际上这种教育方式并没有培养出多少有思想、有创造力的人才。相比之下，西方的教育则显得更加_____孩子们的成长规律。依次填入划横线最恰当的一项是（ ）。
- A. 一成不变 适应
B. 墨守成规 促进
C. 推波助澜 符合
D. 因循守旧 契合
29. 打开电视，我们的选秀节目令人_____，还有各类粗制滥造的“神剧”，都在为提高收视率“争分夺秒”。走心，才能让我们的文艺消费回归真与美，才能让我们在这个_____的时代，少些_____的浮躁，多些有分量的思考以及对真与美的共鸣。依次填入划横线最恰当的一项是（ ）。
- A. 目不暇接 喧闹 故弄玄虚
B. 自顾不暇 喧哗 言过其实
C. 眼花缭乱 喧嚣 哗众取宠
D. 琳琅满目 喧腾 夸大其词
30. 英国的《约翰逊博士传》是传记文学中的不朽名作，英国人把它推重到极高的地位，这部书的细致是到了一个_____的地步，但是的确也难免有些_____。而且由于约翰逊并不处于当时的政治中心，其人也并不能代表英国的一般人物，所以这部作品不是我们必须模仿的范本。依次填入划横线最恰当的一项是（ ）。
- A. 炉火纯青 沉重
B. 无与伦比 沉郁
C. 锱铢必较 烦扰
D. 登峰造极 琐碎
31. 即便于重大安全事故_____的公共安全语境下，这都仍是一起令人诧异的火灾。然而，这起火灾以沉重的_____充分说明，任何被忽视的隐患都可能引致不可承受之祸。依次填入划横线最恰当的一项是（ ）。
- A. 见诸报端 负担
B. 屡见不鲜 代价
C. 甚嚣尘上 后果
D. 平淡无奇 教训
32. 对于村民“捞车牌赚钱”的批判，只能止于对其不道德行为的_____，或者再较真的车主，可以以法律手段解决与捞车牌人员的纠纷。这或许是最理性的处理方式，但这样的成本显然要大的多，时间上也要耗费不少时日，对于车主和捞牌人来说，都有些_____。依次填入划横线最恰当的一项是（ ）。
- A. 谴责 得不偿失
B. 批判 不尽人意
C. 否定 大失所望
D. 惩罚 强人所难
33. 举国上下正满怀豪情建设创新型国家，在向科技强国迈进的征途中，我们既不能轻视创新，更不能_____。中国的科技人才应该在中国传统科技与文化的丰硕成果中_____营养，勇于开拓，大胆创新，将中华数千年的文明发扬光大。依次填入划横线最恰当的一项是（ ）。
- A. 忘恩负义 吸收
B. 亦步亦趋 获取
C. 崇洋媚外 补充
D. 数典忘祖 汲取

34. 梅花，几千年的书香缭绕得骨清魂香，几千年的诗心_____得如此美丽。中国人心里千回百转的梅魂，在与世界相遇的过程中散发出独异的_____，成为民族精神的_____。依次填入划横线最恰当的一项是（ ）。
- A. 陶醉 风韵 支撑
B. 陶冶 魅力 写照
C. 熏陶 光彩 寄托
D. 浸润 风采 烙印
35. 石钟山上那些错落有致的奇石以及记载着天下兴衰的石刻令人_____。石钟山的名字也叫的奇，围绕这一名字的由来，人们开展了激烈的争论。无论结果如何，_____的是，石钟山因此更加有名了。依次填入划横线最恰当的一项是（ ）。
- A. 叹为观止 不容置疑
B. 交口称誉 不容置喙
C. 啧啧称奇 一成不变
D. 大快人心 毋庸置疑
36. 散文能够真正地见出一位作家的个性和_____。阅读散文，我们能体会到鲁迅的冷峻_____，冰心的温和娴雅，梁实秋的幽默机智，丰子恺的清雅淡泊。“情”是散文的命脉和灵魂，对于散文的“情”来说，真挚_____依次填入划横线最恰当的一项是（ ）。
- A. 才华 阴沉 举足轻重
B. 情调 阴郁 不可或缺
C. 情趣 深沉 至关重要
D. 才情 深刻 独一无二
37. 书是整个人类的记忆。没有书，也许历史还在混沌未开的蒙昧中徘徊。读书，让绵延的时光穿越我们的身体，让几千年来_____的智慧在我们每一个人的血液里汨汨流淌。读书，不仅需要_____的精神，还需要懂得快慢精粗之分。依次填入划横线最恰当的一项是（ ）。
- A. 积淀 宵衣旰食
B. 积聚 废寝忘食
C. 积聚 宵衣旰食
D. 积淀 废寝忘食
38. 文人许多是贫穷而兼病弱，却拥有敏锐的感受力和丰富的想象力，现实生活中的阻碍反而进一步激发起他们的热情。一幅图画，书里一段并不起眼的描绘，都能够成为_____他们灵感的火种。借助无限的想象，他们能够生动地描绘出一个地方的景色氛围，读来有_____之感。依次填入划横线最恰当的一项是（ ）。
- A. 激发 设身处地
B. 点燃 身临其境
C. 营造 感同身受
D. 培养 栩栩如生
39. 阅读不是为了逃避世界，而是为了更好地_____世界。从阅读中，我们不仅在与高尚人物的灵魂对话，更能见识到比眼前的世界更深邃、更辽阔的另一个世界。这个世界不仅包括人类已知的历史空间，也包括历代经典作品_____的精神空间。依次填入划横线最恰当的一项是（ ）。
- A. 认识 塑造
B. 了解 创立
C. 拥抱 营造
D. 改造 创造
40. 由于各种信息载体的存在，人们可以把在世记录下来，储存起来，留给后人，这样，即使一个社会真的消失了，一个文化_____了，但后来的社会，其他文明活着的人可以从那些很久以前死去的人那里学习各种知识——人和人可以跨越时间、空间的_____，进行交流和学学习，分享知识和经验。依次填入划横线最恰当的一项是（ ）。
- A. 终结 藩篱
B. 中断 障碍
C. 终止 阻碍
D. 沉寂 掣肘

41. 当今社会信息爆炸、节奏加快，人们心理压力日增，而各种类型的博物馆却可以潜移默化、润物无声，使参观者敬畏历史、珍爱生命、相信科学，在不知不觉中，卸下偏激、盲从、情绪化、极端化等精神负资产，获得内心的宁静。从这个意义上说，各具特色的博物馆，堪称是心灵减压站、心态涵养绿地，用好这些“神奇的殿堂”，不仅个人受益，社会也将获得不少正能量。
这段文字意在说明（ ）。
- A. 各种类型的博物馆在当今社会起到至关重要的作用
B. 信息化及心理压力增加使越来越多的人走进博物馆
C. 各具特色的博物馆可以给个人和社会带来诸多益处
D. 进入博物馆的参观者可以减轻压力获得内心的宁静
42. 统计显示，截至2014年底，我国手机网民规模已达5.57亿人，占整体网民的比例为85.8%。应该说，抓住了手机，就抓住了移动互联的牛鼻子。建设高速畅通、质优价廉的移动网络，让数亿部智能手机在网络上自由穿行，是产业发展的必备一环，又何尝不是电信运营商的良机？当下中国，“互联网+”的发展如火如荼，企业面临着无限商机。跳出自己的一亩三分地，放下锱铢必较的小算盘，拥抱移动互联的大格局，才能抓住机遇，打造长青基业。
这段文字作者想表达的是（ ）。
- A. 智能手机是移动互联和产业发展的关键环节
B. 建设高速畅通、质优价廉的移动网络是当务之急
C. 在“互联网+”的背景下企业面临着无限商机
D. 企业应抓住移动互联的机遇促进自身的长远发展
43. 地名文化这一概念，其实内在包含了地名词语文化及地名实体文化两个层面。地名词语揭示了地名语源文化内涵，地名实体文化体现了其所指代实体的地理、历史及乡土，等等。地名词语文化与地名实体文化是相互依存、密不可分的，二者共同构成地名文化的全部内涵。正是这二者的相辅相成，我国的地名文化才得以记载中华民族发展与社会发展的历程。
这段文字的主旨是（ ）。
- A. 我国地名文化能够记录民族与社会发展历程的原因
B. 地名文化包括词语文化及实体文化两个层面的内涵
C. 地名词语文化与实体文化是相互依存、密不可分的
D. 地名文化可以促进中华民族的发展和社会发展进步
44. 凡能引起文化辩论的议题，基本都不会达到任何一方辩论者的预期，狗肉节引起的民俗和动物福利的对抗，微观的展现了这种文化辩论的全程。荷兰学者霍夫斯泰德，将文化看做是一个环境下人们共同拥有的心理程序，拥有这样的心理程序，才能形成共同的概念体系和表达方式。可以想象，文化辩论是不会有明显“胜方”的辩论，因为获胜意味着改变了对方的心理程序，转换了对方的价值参照系。
这段文字意在说明（ ）。
- A. 在文化论辩中没有绝对的胜者
B. 狗肉节引起的民俗争论和对抗
C. 文化辩论议题中获胜不可想象
D. 提出荷兰学者关于文化的观点
45. 在传统社会，养老问题基本上是在家庭内部解决的，其中孝文化起到了很大作用。谚语中所谓“养儿防老，积谷防饥”，就体现了这个特征。目前，我国社会老龄化愈益突出。据预测，到2050年，这一数字将接近5亿，人口老龄化将由目前的14%左右逐年提高到本世纪中叶的35%左右。如何养老已成为刻不容缓的社会问题。养老问题可以通过社会化方式解决，敬老院、托老所等社会机构承担了部分养老职能。然而，由于历史文化传统的影响，机构养老并非多数老年人的首选。这段文字接下来最有可能阐述的是（ ）。
- A. 孝文化对养老的重要作用
B. 家庭养老的功能不可替代
C. 机构养老存在的诸多益处
D. 社会机构承担的养老职能

46. 研究人员利用层析X线照相法，去观察大脑的活动，发现人们在处理多件事情时，是大脑额叶前部皮层在发挥关键作用。额叶前部皮层能提高人的工作效率，但它只是在迅速调节两件事先后处理的顺序，有时这种转换速度可以快到让我们产生“同时进行”的幻觉。大脑处理两件事的转换需要时间，人们可以通过练习缩短转换时间，却不可能将其缩短到任意小的数值。而且练习所产生的效果，很大程度上也取决于事情的难易程度。
- 对这段文字理解不正确的一项是（ ）。
- A. 大脑额叶前部皮层在人们处理很多事情时发挥至关重要的作用
B. 额叶前部皮层通过调节两件事先后处理的顺序可以使其同时进行
C. 通过练习缩短大脑处理两件事的转换时间与事情的难易程度成正比
D. 通过练习不可能将大脑处理两件事的转换缩短到任意小的数值
47. 随着雾霾频发，油品质量对环境的影响如何，引发人们越来越多的关注。有测试表明，一些城市空气中pm2.5中的20%左右来自机动车尾气。对于北京、上海等特大型城市，机动车排放尾气可能是影响空气质量的一个重要原因，但车、油、路三种因素都在其中发挥作用。加快油品质量升级步伐无疑是改善空气质量的重要手段之一，但_____。
- 填入划横线最恰当的一项是（ ）。
- A. 导致雾霾频发的原因是多方面的
B. 油品质量升级并不能全面改善空气质量
C. 对机动车排放尾气的治理目前仍存在瓶颈
D. 要有效治理雾霾，需要各方面措施共同推进
48. 当前，全球毒品问题持续泛滥，我国禁毒形势也十分严峻。毒品是人类社会的公害，是涉及公共安全的重要问题，不仅严重侵害人的身体健康、销蚀人的意志、破坏家庭幸福，而且严重消耗社会财富、毒化社会风气、污染社会环境，同时极易诱发一系列犯罪活动。各级党委和政府要加强组织领导，做到认识到位、措施到位、责任到位、保障到位，确保禁毒工作各项部署要求落到实处。全社会要关心支持禁毒工作，为推进平安中国、法治中国建设作出新的更大的贡献。
- 这段文字意在说明（ ）。
- A. 各级党委和政府要加强对禁毒工作的组织和领导
B. 毒品会对社会产生严重危害并极易诱发犯罪活动
C. 政府要加强组织领导、社会要关心支持禁毒工作
D. 毒品问题的解决有利于推进平安和法治中国建设
49. 汉字源远流长，使得中华数千年的文化绵延不断。作为四大发明之一的印刷术，使得中国的科技与文化得到了更加广泛的传播。然而，进入20世纪的信息时代，中国的汉字排版与印刷却因汉字信息处理的困难，落后于西方。王选这位中国本土培养出来的科学家，率领自己的研究团队，自强不息，勇于创新，卓有成效地继承并发展了独领风骚的中国古代科技。正是王选团队在20世纪信息时代掀起的这场印刷技术的革命，大大弘扬了中国科技与文化。对这段文字中“独领风骚的中国古代科技”的理解最准确的一项是（ ）。
- A. 古代汉字
B. 印刷术
C. 四大发明
D. 信息处理技术
50. 如果平时校长与师生很“遥远”，毕业照校长大人尊容的缺失到未必不完美。现实中若学生很少与校长有交流，那个校长未必就是值得学生怀念的那个人。因此，被PS的校长，学生因不知情而莫名惊诧，那就只有一种可能，或是合影教师的意见，成人意识中可能没有校长的位置就是“群龙无首”的遗憾罢。或是潜意识中，毕业照中校长的居中位置是不可或缺的，这是不是就是一种“官本位”意识？
- 这段文字意在说明（ ）。
- A. 校长平时应加强与学生的交流拉近与师生的距离
B. 毕业照校长的居中位置是潜意识中的官本位意识
C. 在成人意识中毕业照上没有校长的位置存在遗憾
D. 被PS的校长反映了师生在思想意识上存在问题

51. ①记忆型阅读是我们缺乏想象力的根源之一，因为它容易导致盲从书本知识，从而失去质疑精神
 ②阅读分为记忆型阅读和批判型阅读
 ③而主张激发想象力和灵感，带着自己的思考，让自己变得更有思想
 ④读书的目的仅仅是为了记住书中的内容吗？答案是否定的
 ⑤批判型阅读是一种创造性阅读，它不追求记住死板的书本知识，
 ⑥这种方式在泛阅读日益普遍的时候更显得难能可贵
 对以上6个句子进行排序，正确的一项是（ ）。
- A. ④①⑤③②⑥ B. ②④⑤③①⑥
 C. ④②①⑤③⑥ D. ②①⑤③④⑥
52. ①商品如果没有配备产品使用说明书，就可能给消费者带来不便
 ②否则，文字的任何错误都有可能使消费者乃至生产者付出沉重的代价
 ③随着社会工业化进程的加快与科学技术的不断进步，商品的技术含量越来越高，许多商品的使用方法已远远地超出了人们的常识
 ④可见说明书是不可或缺的。同时，说明书的文字内容要非常准确
 ⑤除了文字错误以外，产品说明书还存在诸如专业术语艰涩难懂、产品说明与实际不符等各种问题
 对以上5个句子进行排序，正确的一项是（ ）。
- A. ①③②⑤④ B. ③①④②⑤
 C. ①④②⑤③ D. ③④⑤②①
53. 文本一经产生就成为历史，它所表达的思想感情、所反映的生活，都只能是过去的，而理解总是现在进行时。当我们接受历史上的艺术作品时，我们当然可以设身处地想象古人的生活，体验古人的思想感情，但我们毕竟是现代人，只能按照我们现在的心理文化结构去理解古人。当然，任何理解都只能是个体的理解，但个体毕竟是与群体相通的，所以个体的理解中也有普遍性。理解作为现实的行为具有通向实践的品格，艺术品正是通过理解走向现实，并在生活中发挥作用的。不是别的，正是理解擦亮了艺术品的生命。对这段文字主旨概括最准确的一项是（ ）。
- A. 接受艺术作品需要体验古人的思想感情 B. 现代人只能按照现有文化结构理解古人
 C. 理解使艺术品走向现实并发挥重要作用 D. 理解作为现实行为具有通向实践的品格
54. 汉字的巨大数量，为排字机字库的存贮带来了极大的挑战。再加上文字印刷质量上的需求，要保证字形美观、笔锋明晰，汉字带给排字机的技术困难就会更大。20世纪已进入信息时代，只有几十年历史的计算机，向拥有数千年历史的汉字提出了严峻的挑战。有外国人说：“汉字如果不废除，中国就不能进入现代文明，也永远无法真正走向世界。”下列对汉字在信息时代遇到“严峻的挑战”的原因，分析不正确的一项是（ ）。
- A. 因字形字体的制约，汉字排版繁复 B. 表意系统的汉字无法适用于排字机
 C. 汉字美观、笔锋明晰的要求难解决 D. 汉字数量大，排字机字库存贮困难
55. 一年中，若季节气候对种子来说太干燥或太寒冷，不利于发芽，种子就进入休眠，等待不适宜的气候过去。如果将植物行为以精巧度衡量，扁蓄的发芽行为只有初级程度。扁蓄是长在耕地和花园中的杂草，种子先天为休眠型，未经冬天不会发芽。没有在五月发芽的种子，又逐渐进入休眠状态，静待另一波寒意来临，准备好再次发芽。扁蓄的行为其实相当合理，称为初级程度好像不太公平，更何况相似的植物还不少，许多杂草也有依季节循环的休眠期和发芽期。下列说法不符合文意的一项是（ ）。
- A. 不适宜的气候会使种子进入休眠状态
 B. 扁蓄长在耕地和花园中且其种子为先天休眠型
 C. 没有在五月发芽的扁蓄的种子可能会再次发芽
 D. 称扁蓄的发芽行为为初级程度其实相当合理

56. 巴金曾经指出：“为了应付新的需要，有人注意到了优点和缺点，于是在正面人物身上加入一些缺点，在动摇人物身上加入一些优点，总之使得每个人甚至反面人物都带有‘人情味’。但是作品里面的那些人仍然没有血色，不像真人。为什么呢？我想有一个原因是，除了优点和缺点以外，活人的身上还有别的东西。”人类复杂的内心图景，不是用几笔鲜明的色彩可以描画清楚的，不是“优点”“缺点”这种具有确定范围的概念性语言可以概括的。事实上，人的性格世界有很大的模糊性特征，了解人物形象的模糊性，对作家塑造人物性格，将产生积极的影响。对这段文字主旨概括最准确的一项是（ ）。
- A. 人物性格除了优点和缺点之外还有很多别的东西
 - B. 了解人物形象的模糊性有助于作家塑造人物性格
 - C. 人的性格世界和内心图景具有很大的模糊性特征
 - D. 具有确定范围的概念性语言无法概括人物的性格
57. 众所周知，在社会各方面对商业保险的认知度越来越高、保险业发展越来越快的大背景下，保险行业的积累也越来越多，能够调度和使用的资金规模也越来越大。但是，如果就保险论保险、就保险投资谈保险投资，而不通过一定的投资方式将保险资金用于再投资、再使用，不仅不利于保险行业整体功能的发挥，不利于保险行业的抗风险能力提升，也不利于社会资源的有效利用。因此，设立保险投资基金，是一项非常重要的战略举措。更重要的，它能够为社会发展提供更强有力的资金支持，特别是实体经济，能够得到保险基金更加有力的支持和帮助。这段文字主要说明（ ）。
- A. 保险业的迅速发展使得其调动和使用的资金规模加大
 - B. 不通过恰当的投资方式使用保险资金会产生严重危害
 - C. 保险投资基金能够为实体经济提供强有力的资金支持
 - D. 提高全社会对保险的认知是一项非常重要的战略举措
58. 志愿服务是一项以自愿且不图物质报酬为参与前提的社会事业，重在出力而不是出钱，致力于弥补政府服务和市场服务的不足。这项事业有上百年的历史，在世界各地广泛开展，是推动社会文明发展的一个重要方面。人的内心都有向真、向善、向美的一面，都期望实现个人的美好价值，志愿服务是把这种期望变为现实的一种途径。志愿者在从事志愿服务的过程中，会获得精神上的满足。对这段文字的主旨概括最准确的一项是（ ）。
- A. 志愿服务具有重要的实践和精神价值
 - B. 志愿服务是实现个人美好价值的重要途径
 - C. 志愿服务可以弥补政府服务和市场服务的不足
 - D. 志愿者在从事志愿服务的过程中会获得精神满足
59. 近代以来，在百年中国的巨变中，区域内的各种资源，无论是经济的、政治的资源，还是社会的、文化的资源，都在日益增长，并被重新配置，由此导致不同城市的不同发展，有少部分城市获得了较多的资源，城市规模扩大，人口增多，经济实力增强；然而，大多数城市却在这一巨变的过程中，渐渐失去原有的优势和资源，趋向衰落。苏、杭、扬等传统工商业城市由于多种原因而走向衰落，失去运河得天独厚的交通条件是三城衰落的共同原因之一。这段文字意在说明（ ）。
- A. 资源的增长和重新配置导致多数城市趋向衰落
 - B. 少部分城市获得较多资源并不断走向发展壮大
 - C. 百年中国的巨变使资源日益增长并被重新配置
 - D. 失去运河得天独厚的交通条件导致三城的衰落

60. 过去陶瓷烧造使用柴窑，窑温前后不一致，烧成的时间全靠老艺人的眼观耳听，烧成质量参差不齐。上世纪七十年代后，通过窑炉的技术改造，实现了窑内温度的数据可控性，既达到节能减排目的，又提高了陶瓷品质的稳定性。近十几年来，我国陶瓷生产这一最古老的工艺领域里发生的科技革新称得上是日新月异，纳米陶瓷、陶瓷音箱、保暖陶瓷布料、发光陶瓷、陶瓷刀具、陶瓷发动机耐热部件、抗辐射陶瓷、陶瓷防弹背心等等，闻所未闻的陶瓷新品先后问世，广泛应用于工业制造、医疗、航空航天、军事、生活日用领域，极大地延续了陶瓷这一古老工艺美术品种的生命力。对这段文字理解正确的一项是（ ）。
- A. 窑炉的技术改造提高了陶瓷品质的稳定性 B. 生活日用领域是陶瓷新品应用的核心领域
C. 陶瓷烧造技术落后造成烧成质量参差不齐 D. 陶瓷新品先后问世是为了更好地节能减排

第三部分 数量关系

在这部分试题中，每道题呈现一段表述数字关系的文字，要求你迅速、准确地计算出答案。

请开始答题：

61. 一个水池上装有3根水管，甲管为进水管，乙管和丙管均为排水管。若单独打开乙管，20分钟可将整池水放完；若单独打开丙管，30分钟可将整池水放完。现在先打开甲管，当水池刚开始溢水时，打开乙管和丙管，15分钟可以把水放完。若打开甲管注满水时，再打开乙管，而不打开丙管，多少分钟可以将水放完？（ ）
- A. 15 B. 20
C. 25 D. 30
62. 黑白两个盒子中共有棋子184颗，若从黑盒子中取出13颗放入白盒子中，则黑盒子中的棋子比白盒子中棋子数的 m 倍（ m 为正整数）还多；再从白盒子中取出20颗放入黑盒子中，则黑盒子中的棋子比白盒子中棋子数的 n 倍（ n 为正整数）还多9颗。那么，黑盒子中原来棋子至少有（ ）颗。
- A. A.104 B. 136
C. 142 D. 152
63. 甲乙两人在商店里买东西，甲买了一双凉鞋，用去他钱包里钱数的 $\frac{2}{9}$ ，乙买了一个水杯，付款32元，此时两人剩余的钱数恰好相等。已知甲原有的钱数比乙少12元，则甲、乙原来共有（ ）元。
- A. 192 B. 178
C. 138 D. 122
64. 小张、小王、小李所在位置由西向东排列，且恰好位于同一条直线，三人依次相距330米，三人的速度分别为每分钟120米、100米、85米。如果三人同时出发，沿直线向东跑步，那么经过多长时间，小张第一次与小王、小李的距离相等？（ ）
- A. 12 B. 18
C. 23 D. 32
65. 某游乐场在开门前已经有80人在排队等待，开门后每分钟来的游人数相同，一个入口每分钟可以进入12名游客。如果开放2个入口，20分钟后就没有人排队。如果开放3个入口，那么开门后几分钟就没有人排队？（ ）
- A. 3 B. 4
C. 5 D. 6
66. 大雪后，夫妻二人同时步测一条小路的长度，两人从同一地点同向而行。妻子每步长48厘米，丈夫每步长64厘米，由于两人部分脚印重合，所以当两人都走到小路的另一端时，一共留下541个脚印，则这条小路长（ ）米
- A. 172.8 B. 185.4
C. 160.2 D. 203.5
67. 瓶子里面原有浓度为16.8%的糖水500克，现在加入100克A糖水和300克B糖水，瓶子里的糖水浓度变为16%。已知A糖水的浓度是B糖水浓度的2倍，那么B糖水的浓度为（ ）。
- A. 12% B. 16%
C. 24% D. 32%

68. 某公司召开全体会议，会议开始时，小李看了一下时钟，此时为1点多。会议结束后，小李又看了一下，时间为2点多，且时针和分针恰好与会议开始了交换了位置，则这次会议用了多长时间？（ ）
- A. 54分钟
- B. $55\frac{5}{13}$ 分钟
- C. $56\frac{8}{13}$ 分钟
- D. 58分钟

69. 如图所示，棱长分别为1厘米、3厘米和5厘米的正方体紧贴在一起放置，则所得到的多面体的表面积



为（ ）平方厘米。

- A. 190
- B. 188
- C. 206
- D. 210
70. 某商店以高于进价20%的定价销售100套茶具，售出65%后，将加价幅度降低一半，将剩余的茶具全部售出，全部利润之和为1320元，那么茶具的成本为每套（ ）元。
- A. 70
- B. 75
- C. 80
- D. 85

第四部分 判断推理

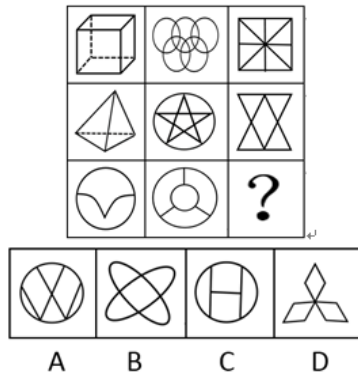
一、

请开始答题：

71. 从所给四个选项中，选择最合适的一个填入问号处，使之呈现一定规律性：



72. 从所给四个选项中，选择最合适的一个填入问号处，使之呈现一定规律性：



73. 从所给四个选项中，选择最合适的一个填入问号处，使之呈现一定规律性：



74. 从所给四个选项中，选择最合适的一个填入问号处，使之呈现一定规律性：



75. 羊群效应：又叫从众效应，是指个人的观念或行为由于真实的或想象的群体的影响或压力，而向与多数人相一致的方向变化的现象。表现为对特定的或临时的情境中的优势观念和行为方式的采纳（随潮）表现为对长期性的占优势地位的观念和行为方式的接受（顺应风俗习惯）。人们会追随大众所同意的，将自己的意见默认否定，且不会主观上思考事件的意义。从众心理很容易导致盲从，而盲从往往会陷入骗局或遭到失败。根据该定义，下列不属于羊群效应的是（ ）。
- A. 投资理财中的大部分散户都是追着大户进行选择的，因而追涨时信心百倍，一旦下挫则纷纷恐慌出逃
 - B. 如果老师在教学过程中一直鼓励学生坚信自己是聪明的学生，学生们也往往朝着更优秀的方向发展
 - C. 普遍认为公务员工作稳定、待遇优厚，许多高校毕业生纷纷报考公务员，往往一个寝室中有一人报考，全寝室就都会报考
 - D. 虽然人们一直认为红配绿是土气的搭配，但是一旦被媒体宣传为本年度流行配色，就会有无数人效仿搭配
76. 媒体暴力一般被认为是包括电影、电视、电子游戏、报刊等在内的媒体含有或刊登暴力内容，并对人们正常生活造成某种不良影响的暴力现象；而另外一种则是“媒体本身的暴力”，指媒体及其从业者利用媒体本身作为大众传播媒介的话语权优势对新闻当事人或被波及的人群所实施的一种暴力行为。以下各项不属于媒体暴力的是（ ）。
- A. 电视、网络等对“伊斯兰国”处死外国人质的报道
 - B. 街机游戏中的血腥画面
 - C. 某导演将乡村女教师的真实案例改变成电影搬上大屏幕
 - D. 某网站发布虐狗视频，并号召网友对视频当事人进行人肉搜索
77. 重大飞行事故罪：指航空人员违反规章制度，因而发生重大飞行事故，危及公共安全，造成严重后果的行为。本罪侵犯的客体，是空中运输的正常秩序和空中运输的安全。这些交通运输活动一旦发生重大事故，就会危及公共安全，使人民生命财产遭受重大损失。根据定义，下列属于重大飞行事故罪的是（ ）。
- A. 由于天气原因，某航班被雷电击中，紧急迫降过程中造成乘客伤亡
 - B. 飞行员在飞行过程中在驾驶舱接打电话干扰通信设备导致飞机与塔台一度失联
 - C. 某客机在滑行途中突遭暴雨，机长做出停止升空的决定，结果使乘客滞留机场达48小时
 - D. 飞机飞行途中，某乘客在洗手间吸烟，触发烟雾报警装置，结果使飞机临时迫降临近机场
78. 随着奖励减少而导致态度逐渐消极，随着奖励增加而导致态度逐渐积极的心理现象，在社会心理学中被称之为“阿伦森效应”。阿伦森效应也指人们最喜欢那些对自己的喜欢、奖励、赞扬不断增加的人或物，最不喜欢那些显得不断减少的人或物。以下各项符合阿伦森效应的是（ ）。
- A. 一直持续的贬低性评价比先褒后贬的评价带给人们更强烈的反感
 - B. 小张工作出现失误，领导在部门会议上点名批评了他
 - C. 小李对那些能带头不在自己车顶乱蹦的小孩子给予玩具手枪的奖励，以达到阻止小孩在自己车顶上乱蹦的行为
 - D. 一位老大爷给小区里乱喊乱叫的孩子每天奖励5块糖果，一段时间之后取消奖励，孩子们纷纷回家玩耍，没有人在小区里乱喊乱叫
79. 正相关，是指两个变量变动方向相同，一个变量由大到小或由小到大变化时，另一个变量亦由大到小或由小到大变化。也就是说，在正相关的情况下，一个变量随着另一个变量的变化而发生相同方向的变化（两个变量同时变大或变小）。其中，两个变量之间有着必然的联系。根据上述定义，以下不能判断为正相关的是（ ）。
- A. 气温越来越高，犯罪事件变得越来越多
 - B. 孩子越长越高，体重变得越来越重
 - C. 年级越来越高，所学内容越来越深入
 - D. 工资越来越高，上缴的个人所得税越来越多

80. 口红效应是指因经济萧条而导致口红热卖的一种有趣的经济现象，也叫“低价产品偏爱趋势”。在经济不景气的情况下，大宗商品消费被削减，但人们仍然会有强烈的消费欲望，所以会转而购买比较廉价的商品。口红作为一种“廉价的非必要之物”，可以对消费者起到一种“安慰”的作用。下列符合口红效应的是（ ）。
- A. 小张为了在能在时尚杂志的面试中给主考官留下较好的印象，进行了精心的打扮
- B. 金融危机时，汽车、房屋等市场销量锐减，而与此同时，电影市场却持续走高，电影票房呈现逆市增长
- C. 近来股市不景气，很多股民纷纷卖掉所持股票，抛售止损
- D. 某公司在每年年终时候都会给员工丰厚的年终奖，但今年由于效益不好，年终奖只有往年的一半
81. 国家定价，又称“政府定价”是指由县级(含县级)以上各级人民政府的物价部门、业务主管部门按照国家规定权限制定的商品价格和收费标准。属于指令性定价，是我国价格管理的形式之一。根据上述定义，下列情况属于国家定价的是（ ）。
- A. 航空公司根据客流的多少划分淡旺季，以便随时调整不同航班的机票价格
- B. “菜贱伤农”是农民从事农业生产时最大的担忧，但目前还没有有效的办法可以彻底解决这一问题
- C. 为了维护粮食储备的稳定，国家要求各粮库按照保护性价格收购粮食作物，而不遵循市场粮食价格的波动
- D. 某商店销售一批高质量的棉被，开始定价是70元，一个月后，由于物价上涨的原因，他们把这批棉被的定价提高到了85元
82. 自居作用又称认同作用，是指个体无意识地将某一客体的某些方面或属性同化的心理过程。例如：一个人把他所钦佩或崇拜的人的特点、某一团体或某种主张作为自己的特点，用以弥补自己的缺点或不足。根据上述定义，下列属于自居作用的是()。
- A. 东施效颦
- B. 物以类聚人以群分
- C. 推己及人
- D. 谈笑有鸿儒，往来无白丁
83. 复种指数是指一定时间内（一般为一年）在同一块耕地面积上种植农作物平均次数，即年内耕地上农作物总播种面积与耕地面积之比，一般用百分数表示。复种指数的高低受当地日照、土壤、水利、肥料、劳力和科学技术水平等条件的制约。日照条件好、无霜期长、水分充足、合理套种等是提高复种指数的基础。根据上述定义，下列关于复种指数的叙述哪项是正确的？（ ）
- A. 农业技术的发展可以弥补自然条件的不足，甚至可使有些地区的复种指数超过百分之百
- B. 我国北方地区土地复种指数高于南方地区土地复种指数
- C. 复种指数随经度的变化而变化
- D. 春季和秋季的复种指数要高于夏季和冬季
84. 360度考评是常见的绩效考核方法之一，其特点是考评维度多元化（通常是4或4个以上），适用于对中层以上的人员进行考核。这些评价者包括：来自上级监督者的自上而下的评价、来自下属的自下而上的评价、来自同级的评价、来自企业内部的支持部门和供应部门的评价、来自公司内部和外部的客户的评价，以及本人的自我评价。根据上述定义，下列哪些人不适合做360度考评的评价人？（ ）
- A. 被评价者的客户
- B. 被评价者的下属
- C. 被评价者的同行
- D. 被评价者的自己
85. 妖魔鬼怪：魑魅魍魉（ ）
- A. 喜怒哀乐：乐极生悲
- B. 生老病死：否极泰来
- C. 江河湖海：山川河岳
- D. 酸甜苦辣：世态炎凉

86. 千克：公斤（ ）
- A. 度：瓦
B. 米/秒：千米/时
C. 海里：千米
D. 千米：公里
87. 诗人：画家（ ）
- A. 老人：小孩
B. 男人：女人
C. 教师：作家
D. 外婆：姥姥
88. 黏土：瓷器（ ）
- A. 粮食：米酒
B. 开心：喜讯
C. 芳香：花朵
D. 成人：学生
89. 体温计：体温（ ）
- A. 钢笔：墨水
B. 量角器：角度
C. 直尺：圆规
D. 温度计：刻度
90. 馒头对于（ ），相当于（ ）对于金属
- A. 饼干 铝
B. 主食 塑料
C. 食物 生铁
D. 包子 泡沫
91. （ ）对于唐朝，相当于马致远对于（ ）
- A. 李白 宋朝
B. 王勃 元朝
C. 辛弃疾 宋朝
D. 欧阳修 元朝
92. 某营养品广告宣称：本产品中含有多种营养物质，可有效补充人体必需的十多种氨基酸和众多微量元素，饮用本产品将对身体健康十分有益。以下哪项如果为真最能削弱上述论证？（ ）
- A. 要想通过该营养品满足人体对微量元素的需求，每天需饮用一箱该产品
B. 人体必需氨基酸是指人体无法自身合成，而必需由外界补充的8中氨基酸
C. 任何产品中都不可能含有人体所需的全部微量元素
D. 通过合理膳食能更好的满足人体对营养物质的需求
93. 李雷、韩梅梅一起去餐厅点菜，李雷说：如果点湘菜就不能点川菜，无论点川菜还是点湘菜都必需点淮扬菜。韩梅梅说：除非点鲁菜，否则不能点川菜。服务员提示说：只有点淮扬菜才能享受店内提供的八折优惠。李雷、韩梅梅商量后决定要享受八折优惠，由此可以推出（ ）。
- A. 有淮扬菜和川菜，没有湘菜
B. 有川菜和鲁菜，可能有湘菜和淮扬菜
C. 有淮扬菜，可能有鲁菜
D. 有鲁菜，不一定有淮阳
94. 房屋建筑的发展趋势是纵向生长，城市中高楼林立，越来越多的人以高楼大厦为中心聚集，进行工作、学习和居住。因此，正是房屋建筑纵向发展造成了现代城市人口密集的现状。以下哪项最能削弱上述结论？（ ）
- A. 有些高楼是办公用楼，人们只有白天在此聚集，晚上就会各自散去
B. 有些大都市仍然保持传统的平房建筑，且售价居高
C. 人员的大量聚集使城市空间严重不足，必需以纵向发展建筑提高土地利用效率
D. 有些城市有大量的“空城”，却很少有人居住，媒体称之为“空城”或“鬼城”

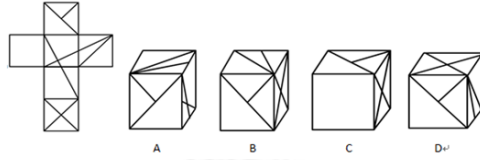
95. 某地县令为整顿县内秩序，颁布告示如下：凡偷窃者一经抓获，刺青做永久标志；凡有刺青标志者，需定期向官府报告行踪动向，以利监管。书生阅读此告示后，提醒邻居铁匠洗去身上刺青，不然会被认作小偷。则以下说法正确的是（ ）。
- A. 书生对告示的解读并不准确，因此铁匠不需要洗去身上刺青
B. 如果铁匠不听从书生的劝告，则要定期向官府报告行踪
C. 只要铁匠听从书生的劝告，就不用定期向官府报告行踪
D. 在此告示实施后，可以断定有刺青的人一定是小偷
96. 年轻女性想要获得苗条身材就必需控制饮食，控制饮食是获得苗条身材的必要条件，但是体育锻炼也同样重要，事实上，对于苗条身材，控制饮食和体育锻炼二者缺一不可。由此，可以断定以下哪项确定为真？（ ）
- A. 没有苗条身材，一定没有控制饮食
B. 严格控制食欲，就一定能有苗条身材
C. 没有苗条身材，或者没有控制饮食，或者没有体育锻炼
D. 参加体育锻炼，也不一定会有苗条身材
97. 论文答辩结束，同学们纷纷猜测优秀论文的归属情况，李璐：王峰和鲍云的论文得到赞赏，他们俩肯定能获得优秀论文王峰：如果我能获得优秀论文，那么周伟肯定也能获得优秀论文鲍云：李璐没有获得优秀论文周伟：此次优秀论文名额有限，王峰和鲍云不可能都获得优秀论文若上述四人中，只有一人说的是真话，那么以下各项确定为真的是？（ ）
- A. 王峰没有获得优秀论文
B. 鲍云没有获得优秀论文
C. 李璐获得优秀论文
D. 周伟获得优秀论文
98. 网上疯传的减肥食谱内容如下：早餐只吃一个苹果，午餐只吃蔬菜，晚餐不吃，几乎不食用主食和任何高热量食物。医生指出，长时间像这样的过度节食，不符合人体营养需求的规律，是极度不科学的饮食办法。以下哪项最能支持医生的观点？（ ）
- A. 研究表明，过度减少卡路里的摄入，会加重骨质疏松的风险，甚至导致女性不孕
B. 中国长寿村的百岁老人，纷纷表示自己奉行“八分饱”的饮食哲学
C. 蔬菜水果可以为人体提供大量的维生素和水分
D. 实验鼠的脂肪摄入减少30%，将大大减少其血栓的形成
99. 大学生就业是当前社会关注的重点问题。一项调查显示：83%的应届大学生成功在毕业前找到就业单位；而有大约70%的企业表示不会聘用没有经验的应届大学生。以下哪项如果为真，最能解释题干中的矛盾数据？（ ）
- A. 政府出台政策文件号各大企业更多的为应届大学生提供就业机会
B. 调查中72%的企业表示只愿意为应届大学生提供3000-3500元的月薪
C. 实习阶段并不算做正式录用，绝大多数不愿录用应届大学生的企业聘用他们作为实习生
D. 愿意录取应届大学生的企业，普遍要求大学生的专业要与岗位匹配
100. “中国式过马路”是网友对部分中国人集体闯红灯现象的一种调侃，即“凑够一撮人就可以走了，和红绿灯无关”。出现这种现象是大家受法不责众的“从众”心理影响，从而不顾及交通安全。“中国式过马路”一经网络传播，立刻引发网友对交通、国民素质和安全的讨论。由此，可以推出（ ）。
- A. 要想整治“中国式过马路”，就要先整治“中国式车拐弯”
B. 中国人一贯法律意识淡漠
C. “中国式过马路”的成因是多样的，法不责众的从众心理是其中重要的一方面
D. 只要调整信号灯的时间和斑马线的设置，就可以杜绝“中国式过马路”

101. 甲、乙、丙、丁分别从事篮球、排球、羽毛球、和足球运动。已知：（1）甲是优秀的单打选手，但双打成绩也不错。（2）乙的比赛上场人数比丙少，但比甲多。（3）丁有时一场比赛可以得到60分。以下搭配准确的是（ ）。
- A. 甲—羽毛球、乙—足球、丙—排球、丁—篮球
B. 甲—羽毛球、乙—排球、丙—足球、丁—篮球
C. 甲—羽毛球、乙—篮球、丙—排球、丁—足球
D. 甲—排球、乙—篮球、丙—足球、丁—羽毛球

二、图形推理。请按每道题的答题要求作答。

请开始答题：

102. 从所给四个选项中，选择最合适的一个填入问号处，使之呈现一定规律性（ ）。



三、类比推理。每道题先给出一组相关的词，要求你在备选答案中找出一组与之在逻辑关系上最为贴近，相似或匹配的词。

请开始答题：

103. 马来西亚：吉隆坡
- A. 泰国：清迈
B. 越南：河内
C. 缅甸：仰光
D. 菲律宾：宿务
104. 耐心：等待
- A. 美丽：房屋
B. 神奇：飞船
C. 深情：呼唤
D. 跃动：音符
105. 字：词：句
- A. 水：水果：果酱
B. 砖：墙：大楼
C. 线条：图画：连环画
D. 单糖：二糖：多糖

第五部分 资料分析

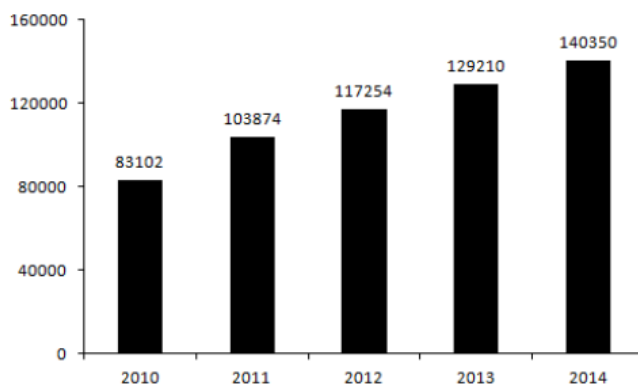
针对下列图、表或文字回答问题。你应根据资料提供的信息进行分析、比较、计算、处理。你可以在题本上运算。

请开始答题：

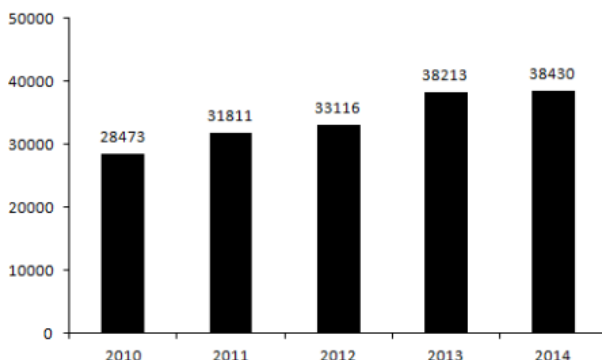
一、2014年，全国一般公共预算收入140350亿元，比上年增加11140亿元，增长8.6%。其中税收收入119158亿元，增加8627亿元，增长7.8%，上年为增长9.8%。

2014年，国家外汇储备38430亿美元，比上年增加217亿美元。人民币平均汇率为1美元兑6.1428元人民币，比上年有所贬值。

2010-2014年全国一般公共预算收入（亿元）



2010-2014年国家外汇储备（亿美元）



106. 2014年，全国一般公共预算收入比2012年增长了（ ）。
A. 8.6% B. 10.1%
C. 19.7% D. 23.4%
107. 2013年，税收收入约占全国一般公共预算收入的（ ）。
A. 72.5% B. 85.5%
C. 89.3% D. 94.6%
108. 如果2015年增长速度与上年保持一致，则2015年国家外汇储备将达到（ ）亿美元。
A. 38648 B. 8534
C. 38496 D. 38457
109. 2011-2014年，国家外汇储备比上年增长最多的是（ ）年。
A. 2011 B. 2012
C. 2013 D. 2014

110. 根据资料, 以下说法不正确的是 ()。

- A. 2010-2014年, 全国一般公共预算收入逐年上升
- B. 2013年, 人民币平均汇率为1美元对人民币不到6.1428元
- C. 2013年, 税收收入同比增速比2014年高2个百分点
- D. 2014年, 国家外汇储备同比增速高于2013年

二、2015年1-4月份, 全国房地产开发投资23669亿元, 同比增长6.0%, 增速比1-3月份回落2.5个百分点。其中, 住宅投资15870亿元, 增长3.7%, 增速回落2.2个百分点。

1-4月份, 东部地区房地产开发投资14109亿元, 同比增长6.6%, 增速比1-3月份回落2.9个百分点; 中部地区投资4517亿元, 增长5.8%, 增速回落1.1个百分点; 西部地区投资5043亿元, 增长4.6%, 增速回落2.9个百分点。

1-4月份, 房地产开发企业房屋施工面积599580万平方米, 同比增长6.2%, 增速比1-3月份回落0.6个百分点。其中, 住宅施工面积418479万平方米, 增长3.2%。房屋新开工面积35756万平方米, 下降17.3%, 降幅收窄1.1个百分点。其中, 住宅新开工面积25081万平方米, 下降19.6%。房屋竣工面积21210万平方米, 下降10.5%, 降幅扩大2.3个百分点。其中, 住宅竣工面积15527万平方米, 下降13.2%。

1-4月份, 房地产开发企业土地购置面积5469万平方米, 同比下降32.7%, 降幅比1-3月份扩大0.3个百分点; 土地成交价款1571亿元, 下降29.1%, 降幅扩大1.3个百分点。

1-4月份, 商品房销售面积26385万平方米, 同比下降4.8%, 降幅比1-3月份收窄4.4个百分点。其中, 住宅销售面积下降5.0%, 办公楼销售面积下降13.6%, 商业营业用房销售面积增长5.2%。商品房销售额17739亿元, 下降3.1%, 降幅比1-3月份收窄6.2个百分点。其中, 住宅销售额下降2.2%, 办公楼销售额下降13.3%, 商业营业用房销售额增长0.1%。

111. 2015年1-4月, 住宅投资占全国房地产开发投资的比重为 ()。

- A. 53.2%
- B. 67.1%
- C. 75.6%
- D. 82.3%

112. 2014年1-4月, 西部地区房地产开发投资为 () 亿元。

- A. 4635
- B. 4821
- C. 4956
- D. 5033

113. 2014年1-4月, 住宅施工面积约是房屋新开工面积的 () 倍。

- A. 13.6
- B. 12.1
- C. 9.4
- D. 5.8

114. 2015年1-3月, 商品房销售面积同比降幅与商品房销售额降幅的差值为 ()。

- A. 0.1个百分点
- B. 1.7个百分点
- C. 0.4个百分点
- D. 9.3个百分点

115. 根据资料, 以下说法正确的是 ()。

- A. 2015年1-3月, 房地产开发企业土地购置面积的降幅为33.0%
- B. 2015年1-4月, 商业营业用房销售面积增速比住宅销售面积快0.2个百分点
- C. 2015年1-4月, 东部地区房地产开发投资不到中部地区的3倍
- D. 2015年1-4月, 住宅新开工面积比住宅竣工面积多9554万平方米

三、2014年, 研究生招生62.1万人, 在学研究生184.8万人, 毕业生53.6万人。普通本专科招生721.4万人, 在校生2547.7万人, 毕业生659.4万人。中等职业教育招生628.9万人, 在校生1802.9万人, 毕业生633.0万人。普通高中招生796.6万人, 在校生2400.5万人, 毕业生799.6万人。初中招生1447.8万人, 在校生4384.6万人, 毕业生1413.5万人。普通小学招生1658.4万人, 在校生9451.1万人, 毕业生1476.6万人。特殊教育招生7.1万人, 在校生39.5万人, 毕业生4.9万人。幼儿园在园幼儿4050.7万人。

2010-2014年普通本专科、中等职业教育及普通高中招生人数(万人)

	普通本专科	中等职业教育	普通高中
2010	662	870	836
2011	682	814	851
2012	689	754	845
2013	700	675	823
2014	721	629	797

116. 2014年,初中毕业生有()万人没有入读我国普通高中。
 A. 616.9
 B. 503.2
 C. 435.9
 D. 782.1
117. 2014年,招生人数占在校生人数比重最小的教育层次为()。
 A. 研究生
 B. 中等职业教育
 C. 普通高中
 D. 普通小学
118. 2014年,特殊教育在校生人数约是招生人数的()倍。
 A. 4.6
 B. 5.2
 C. 5.6
 D. 6.2
119. 2011-2014年,中等职业教育招生人数比上年下降最快的是()年。
 A. 2011
 B. 2012
 C. 2013
 D. 2014
120. 根据资料,以下说法正确的是()。
 A. 2010-2014年,普通高中招生人数逐年下降
 B. 2014年,初中在校生人数约为毕业生人数的3倍
 C. 2014年,普通本专科招生人数比研究生多700多万人
 D. 2013年,普通高中招生人数比中等职业教育多168万人