

第一部分 常识判断

根据题目要求，在四个选项中选出一个最恰当的答案。

请开始答题：

- 2016年是红军长征胜利80周年，下列长征中发生的历史事件按先后顺序排列正确的是（ ）。
①渡过乌江
②四渡赤水河
③强渡大渡河，飞夺泸定桥
④夺取遵义 ⑤巧渡金沙江
A. ①⑤④②③
B. ①④②⑤③
C. ⑤③④①②
D. ⑤③④②①
- 当地时间2016年6月24号，英国脱欧公投最终结果出炉，脱欧派获得最终胜利。英国成为首个投票脱离欧盟的国家。以下关于欧盟说法错误的是（ ）。
A. 总部设在比利时首都布鲁塞尔
B. 前身是欧共体
C. 所有成员国均使用统一的货币——欧元
D. 欧盟居民在欧盟成员国之间可以自由往来
- 不同的生产要素在各产业中的相对密集度，可以将产业划分为不同类型。那么钢铁业属于（ ）。
A. 土地密集型产业
B. 劳动密集型产业
C. 技术密集型产业
D. 资本密集型产业
- 下列说法正确的是（ ）。
A. 刘彻一边吃馒头一边批改奏章
B. 杨贵妃把切好的西瓜端给唐玄宗
C. 宋神宗下棋时旁边放着开心果
D. 忽必烈第一次吃到西红柿打卤面
- 卡尔·马克思说：“法官是法律世界的国王，法官除了法律没有别的主上。”下列哪一理解是正确的？（ ）。
A. 法官独立审判，只服从宪法和法律的规定
B. 法官是一切法律主体（除了法律）的一切上司
C. 法律世界与其他世界（领域）没有关系
D. 法官的裁决不受任何限制
- 以下哪种武器不是二战期间开始应用的？（ ）。
A. 导弹
B. 坦克
C. 原子弹
D. 喷气式飞机
- 下列哪组成语反映了同一种职业？（ ）。
A. 妙手回春、悬壶济世
B. 奇货可居、因材施教
C. 传道授业、一本万利
D. 粉墨登场、公正不阿
- 针对于南海仲裁案结果，我国表示不接受、不承认，我国政府坚决维护国家的统一，这体现我国政府的哪项职能（ ）。
A. 政治职能
B. 经济职能
C. 文化职能
D. 社会公共服务职能

9. “一日正当嗟悼之际，俄见一僧一道远远而来，生得骨格不凡，丰神迥异，来到这青埂峰下，席地坐谈。见着这块鲜莹明洁的石头，且又缩成扇坠一般，甚属可爱。那僧托于掌上，笑道：形体倒也是个灵物了，只是没有实在的好处。须得再镌上几个字，使人人见了便知你是件奇物，然后携你到那昌明隆盛之邦、诗礼簪缨之族、花柳繁华地、温柔富贵乡那里去走一遭。石头听了大喜，因问：不知可镌何字？携到何方？望乞明示。那僧笑道：你且莫问，日后自然明白。说毕，便袖了，同那道人飘然而去，竟不知投向何方。”关于这段文字所著著作，下列说法正确的是（ ）。
- A. 其作者与施耐庵生活在同一时期
B. 故事背景是唐贞元年间
C. 是我国古代著名的长篇神魔小说
D. “葬花”是其中的一个情景
10. 《中华人民共和国广告法》已由中华人民共和国第十二届全国人民代表大会常务委员会第十四次会议于2015年4月24日修订通过，自2015年9月1日起施行。以下的行为符合《新广告法》的是（ ）。
- A. 1岁的婴儿为纸尿裤代言
B. 某教育机构的广告语是：中考升学率全国第一
C. 某汽车公司在互联网网站上做广告
D. 某医生为医疗器械代言
11. 李某因驾驶期间打电话被交通警察拦截，交通警察口头作出罚款200元的处罚决定，并要求当场缴纳。李某要求出具书面处罚决定和罚款收据，交警拒绝听取其申辩。关于该处罚决定，下列哪个说法是正确的？（ ）
- A. 该处罚决定不合法
B. 该处罚决定不成立
C. 该处罚决定无效
D. 该处罚决定可以被撤销
12. 地壳中含有大量的化学元素，但是各种元素含量的差别也很大。在地壳中已经发现的90多种化学元素中，含量居前两位的元素是（ ）。
- A. 氧、铁
B. 铝、氧
C. 氧、硅
D. 铁、钙
13. 人体的结构层级按照从小到大的构成顺序是？（ ）
- A. 细胞→组织→器官→系统→人体
B. 细胞间质→细胞→组织→系统→人体
C. 细胞→组织→系统→器官→人体
D. 细胞→细胞间质→器官→系统→人体
14. “纸上得来终觉浅，绝知此事要躬行”，从哲学角度理解，它与下列那句体现的哲理相同？（ ）。
- A. 人间四月芳菲尽，山寺桃花始盛开
B. 一语不能践，万卷徒空虚
C. 骏马能历险，犁田不如牛；坚车能载重，渡河不如舟
D. 沉舟侧畔千帆过，病树前头万木春
15. 下列哪种介质中，声音传播的最快？（ ）
- A. 在太空中
B. 在水里
C. 在空气中
D. 通过金属物质
16. 下列语句按出现时间先后排序正确的是？（ ）。①业精于勤，荒于嬉；行成于思，毁于随②天下兴亡，匹夫有责③塞翁失马，焉知非福④问渠那得清如许，为有源头活水来
- A. ③①④②
B. ③②①④
C. ①③④②
D. ①②③④
17. 2016年里约热内卢奥运会于2016年8月5日-21日在巴西的里约热内卢举行。里约热内卢是奥运史上首个主办奥运会的南美洲城市，关于里约热内卢下列说法正确的是？（ ）
- A. 奥运会期间正值夏季
B. 是国家的首都
C. 濒临太平洋
D. 官方语言为葡萄牙语

18. 首次记载了人工呼吸、胆道蛔虫的治疗方法，并确立了辩证论治原则的医药学著作是（ ）。
- A. 《肘后备急方》
B. 《本草纲目》
C. 《神农本草经》
D. 《伤寒杂病论》
19. 下列科技成就中，属于唐朝时期的是（ ）。
- A. 发明活字印刷术
B. 改制、发明简仪、高表等仪器
C. 世界上首次测量子午线长度
D. 设计建造赵州桥
20. 关于生活常识，下列说法错误的是？（ ）
- A. 经常咬铅笔芯，不会导致铅中毒
B. 用甲醛浸泡海鲜产品防止腐败
C. 干冰不是冰，而是固体二氧化碳，可用来保藏容易腐败的食品和进行人工降雨
D. 用纯碱可除去面团发酵产生的酸

第二部分 言语理解与表达

本部分包括表达与理解两方面的内容。请根据题目要求，在四个选项中选出一个最恰当的答案。

请开始答题：

21. 虽说日本佛教源自中国，但是由于两国的地域、体制、文化的差异，佛教的发展终究两样。如果我们抱着“文化宗主国”的心态，认为日本佛教艺术不过是我们唐宋的“传统套路”，那未免_____；如果抱着膜拜“他者文化”的心态，又未免妄自菲薄。填入划横线部分最恰当的一项是（ ）。
- A. 妄自尊大
B. 孤芳自赏
C. 作茧自缚
D. 夜郎自大
22. 儒家做人以“孝”为本，可现今不孝敬父母的事却常常见于报刊；儒家提倡诚实做人，以诚待人，可现今人与人之间缺少起码的信任……诸如此类在儒家看来不可设想的事，在现今民众看来，却_____，不必义愤，这足以说明现今在经济大潮的冲击下，民众对儒家的道德已相当的淡忘。填入划横线部分最恰当的一项是（ ）。
- A. 耳熟能详
B. 妇孺皆知
C. 街谈巷议
D. 司空见惯
23. 文人参与紫砂的一个主要方面即陶刻装饰，历来一直有“字随壶传，壶随字贵”的称颂。文人题壶时，起题诗词、书画、镌刻应合理地布局到紫砂茶壶上，应该是“切茗”“切壶”的融合。如果装饰的内容与茶与壶不相关联，纯属壶上有了添加，有的更是_____，糟蹋了茶壶的艺术性。填入划横线部分最恰当的一项是（ ）。
- A. 画蛇添足
B. 狗尾续貂
C. 画龙点睛
D. 徒劳无功
24. 自从有人类社会以来，社会发展就是一个永恒的命题。从_____的社会变革——战争，到温和的社会改良，人类活动一直在重塑社会发展的进程。在这一进程中，社会的发展状态是螺旋上升的：整体呈现上升的发展趋势，却也避免不了曲折与_____。依次填入划横线部分最恰当的一项是（ ）。
- A. 激进 倒退
B. 冒险 艰难
C. 保守 停滞
D. 严肃 摸索
25. “海绵城市”建设是个系统工程，其旨在综合采取“渗、滞、蓄、净、用、排”等措施，将降雨就地消纳和利用，这也契合城市排涝减灾之需。让城市特别是重点内涝区域地表尽早“海绵”起来，已_____。填入划横线部分最恰当的一项是（ ）。
- A. 提上日程
B. 迫在眉睫
C. 千钧一发
D. 燃眉之急
26. 脸，不会说谎。脸是最诚实的公告栏。我们每天来往奔波，都需要扛着这张脸，想有所隐瞒，并不容易。掩盖，只会_____；粉饰，只会显示出你粉饰的高明。把所有伪装都一一摘掉，最本色的，也是最美丽的。填入划横线部分最恰当的一项是（ ）。
- A. 南辕北辙
B. 欲盖弥彰
C. 适得其反
D. 相得益彰
27. 工匠精神并非_____，相反，因为追求极致甚至完美，工匠精神更离不开对工艺文化的传承与科技的创新，更是一种永不满足、不断超越的创新精神。而这种创新精神，势必将为文化领域供给侧结构性改革注入新的动力。填入划横线部分最恰当的一项是（ ）。
- A. 随遇而安
B. 除旧布新
C. 墨守成规
D. 金石可镂

28. 鲜有真正的艺术家会因心之所好来追求名利，但让大家读懂你的作品并且有切身的感受却是非常重要的。作品所能_____到的内涵越深，艺术家对公众思想观念的影响就越大。对于艺术家来说，自己的作品为人所理解非常重要，因此那些有生之年_____的艺术家们让人尤为痛心。依次填入划横线部分最恰当的一项是（ ）。
- A. 涉及 闻名遐迩
B. 挖掘 鲜为人知
C. 涵盖 门庭冷落
D. 表达 无人问津
29. 市场是发展的强劲推动器。使每一个经济的因子都呼吸到发展的氧气，兴奋起来、活跃起来，让一切生产要素的活力竞相迸发，让一切创造财富的源泉充分_____，然而现实中，有的地方政府囿于自己的一亩三分地，为了保护地方企业，人为设限，看似大门敞开，实则“隐形门槛”高筑，让外地企业_____。依次填入划横线部分最恰当的一项是（ ）。
- A. 呈现 停滞不前
B. 涌流 望而却步
C. 出现 畏葸不前
D. 涌出 望尘莫及
30. 在某扇普通的大门背后，隐藏着手工艺人的圣所。城市里有许多像我这样庸碌的人，为了生活，踩着时代鼓点走，_____，无知无觉。而手艺人，却可以将自己放在浮躁的时代之外，_____地去做那些“无用”的东西：一朵花、一片羽毛、一块绣布。这是他们的工作，也是他们的特权。依次填入划横线部分最恰当的一项是（ ）。
- A. 信心百倍 置身事外
B. 亦步亦趋 全神贯注
C. 浑浑噩噩 踌躇满志
D. 与世沉浮 虚应故事
31. 良好的记忆固然有助于学有所获、业有所成。然而，在某些时候，“忘却”之于人生同样_____。说句实在话，忘却并不是一件令人愉快的事，而且学会忘却往往比学会记忆困难得多。但是，生活中时常又需要我们忘却。特别是在人生成长的经历中，面对挫折、祸患，我们常常是避之不及，与之_____。依次填入划横线部分最恰当的一项是（ ）。
- A. 举足轻重 不谋而合
B. 不可或缺 不期而遇
C. 非同小可 萍水相逢
D. 举重若轻 不期而会
32. 如果艺术的本质是为了揭示存在之物的奇异奥妙，那么没有其他任何事物可以与科学发现_____。现代科学几乎每天都会发现新的场景，揭示令人_____而且背景宏大深邃的宇宙画面。依次填入划横线部分最恰当的一项是（ ）。
- A. 三足鼎立 叹为观止
B. 等量齐观 奇思妙想
C. 相提并论 浮想联翩
D. 平分秋色 思绪万千
33. 古人说，修身齐家治国平天下。读书是修身的不二选择。对一些读物不感兴趣，需要在头脑清晰、情绪较好、兴致较高时经常翻一翻，由易到难、由浅入深、_____，分阶段一点一点地啃，逐步培养激发新兴趣。一旦有了一星半点进展，就要趁热打铁、持之以恒，绝不能_____。依次填入划横线部分最恰当的一项是（ ）。
- A. 循序渐进 一曝十寒
B. 按部就班 为德不终
C. 循规蹈矩 有始无终
D. 因循守旧 三心二意
34. 建设生态文明既是民生，也是民意。随着社会发展和人民生活水平不断提高，良好生态环境成为人民生活质量的重要内容，在群众生活幸福指数中的地位不断_____。建设生态文明的核心就是增加优质生态产品供给，让良好生态环境成为普惠的民生福祉，成为_____人民群众获得感、幸福感的增长点。依次填入划横线部分最恰当的一项是（ ）。
- A. 凸显 提升
B. 突显 抬高
C. 显现 加强
D. 突现 促进

35. 在我们的汉字中，“治水”的“治”字和“治国”的“治”竟是同一个字。当然还有一大批由“治”字为根组成的合成词，如治病、治身、治世、治安、治理等等，几乎_____。如果有人要问所有这么多“治”的意思究竟是怎样派生引申出来的，到底哪一个意思在先，哪一个在后，那么只要看看这个字的三点水偏旁就会_____。依次填入划横线部分最恰当的一项是（ ）。
- A. 不一而足 幡然醒悟
B. 不胜枚举 恍然大悟
C. 举不胜举 如梦初醒
D. 举足轻重 了然于胸
36. 大部分中国的学生，从小到大，所受的教育皆是为了应试。考分的高低，不但是_____一个学生是否优秀的标准，还是决定一个学生最终能否进入一个好大学的准则。从幼儿园到大学，很多学生的培养既不注重人文修养，亦不注重原创精神，而对所谓的“标准答案”_____。依次填入划横线部分最恰当的一项是（ ）。
- A. 测量 奉若神明
B. 衡量 执迷不悟
C. 评论 奉为圭臬
D. 评判 顽固不化
37. 文化，是一个民族生息繁衍的神经和灵魂。秦族学习融汇周文化，是其能够在失败、屈辱的命运中得以_____的重要原因和动力。秦族学习融汇先进的周文化，首先是学习周文化中管理国家的官制，其次是文字、文学、书法、艺术等。秦史是一部不断变革图强的历史，其例甚多，其中最惨烈却又最_____，对历史产生深远影响的则是商鞅变法，这是新兴地主阶级和既得利益的保守旧势力之间最激烈的一次斗争。变法成功，影响深远。依次填入划横线部分最恰当的一项是（ ）。
- A. 浴火重生 成功
B. 破茧成蝶 激烈
C. 作茧自缚 激进
D. 凤凰涅槃 保守
38. 教师在工作中应当勇于创新，大胆实践，敢于提出自己的教育主张。但必须指出的是，教师如果认定了某一观点便不顾客观实际，_____，沉陷于自己的教育主张中不能自拔，甚至于看不惯周围教师的一些教育行为，则是一件_____的事情。依次填入划横线部分最恰当的一项是（ ）。
- A. 狂妄自大 乞浆得酒
B. 故步自封 因小失大
C. 墨守成规 事倍功半
D. 盲目自信 得不偿失
39. 眼下，全世界青年正在全球化的背景下慢慢趋同；网络时代的青年政治_____；一线的青年教师们正在催生一场静悄悄的教育变革；青年读书会纷纷_____、青年志愿者运动正在由服务性质演化为新生活运动……这是一种重建的，有点像五四的东西，非常值得注意。依次填入划横线部分最恰当的一项是（ ）。
- A. 风生水起 涌现
B. 声名鹊起 出现
C. 如日中天 呈现
D. 名声大噪 涌出
40. 在反法西斯战争胜利70周年之际，我们回顾历史，并将研究的方向投向这场_____的战争如何改变人类历史，尤其是如何诞生全球化时代的制度安排与游戏规则。同时，当我们去探寻历史逻辑的同时，如何以史鉴今，从历史中寻找未来发展的脉络与资源，便_____了。依次填入划横线部分最恰当的一项是（ ）。
- A. 两败俱伤 自然而然
B. 惨绝人寰 无可厚非
C. 史无前例 顺理成章
D. 秣马厉兵 水到渠成

41. 一个国家的发展水平，既取决于自然科学发展水平，也取决于哲学社会发展水平。一个没有发达的自然科学的国家不可能走在世界前列，一个没有繁荣的哲学社会科学的国家也不可能走在世界前列。我国有着辉煌灿烂的五千年文明史，且从未间断自己的文化传统，诞生了一批又一批伟大的思想家，留下浩如烟海的文化遗产。中国传统文化中大量的哲学社会科学内容、治国理政智慧，为我们今天认识世界、改造世界提供了重要依据，也为人类文明的发展作出了重大的贡献。对这段文字的内容概括准确的一项是（ ）。
- A. 人类文明发展主要依赖于中国传统文化中的哲学思想
B. 只有自然科学与哲学社会科学并重，国家才能不断发展
C. 我国的悠久历史给人类留下丰富的文化遗产
D. 只要自然科学与哲学社会科学繁荣，就能走在世界前列
42. 在有些学者看来，推行儒学大众化是无视儒学的“草根性”，没有任何意义。他们认为，作为一种悠久的历史心理沉淀，儒学已扎根于华人的心灵深处，成为普通民众不自觉的价值认同。这种认识，在我们看来，是以情感代替理性，缺乏根据。认同是以了解为前提的，但事实表明，现代民众恰恰对儒学缺乏起码的了解。据问卷调查显示，现代民众对儒学缺乏起码的了解是不争的事实，多数老年人不能区分儒家和道家、道教、佛教、基督教；大多数青年、中年人不了解董仲舒、王阳明、王夫之是儒家；就连“孔子是不是儒家”这样的儒学知识，各个年龄段中都有数人答错或不知如何回答。因此，推行“儒学大众化”势在必行。这段文字的核心观点是（ ）。
- A. 儒学是华人广泛的价值认同
B. 对待儒学不应用情感代替理智
C. 推行儒学大众化有社会必要性
D. 宣传儒学是目前的当务之急
43. 美国沟通专家马歇尔·卢森堡说：“我相信，人天生热爱生命，乐于互助，可究竟是什么使我们难以体会到心中的爱，以致互相伤害？”其实，原因就在于许多人不懂得沟通技巧，一出口就引发误解、争吵和隔阂。比如指示型沟通——“你应该”，这种居高临下的指导会让沟通变成命令，引发抵触心理。随意指手画脚往往会打乱别人办事的节奏，让人反感。不如以奖励的方式，即承诺如果对方做到了什么，就给予怎样的奖励，往往更容易让人接受……这些不注重沟通技巧的话语一出口就会让人颇为反感，令我们的人际交往蒙上一层阴影。作者在本文段中的中心意思是（ ）。
- A. 忽略沟通技巧是交流中引发矛盾的重要原因
B. 居高临下的指导会引发抵触心理并让人反感
C. 以奖励的方式来进行沟通更容易让人接受
D. 生活中无效沟通会给人际交往带来负面影响
44. 批发市场外迁、工业企业转移、垃圾回收场搬走……一段时间以来，北京疏解“非首都功能”成效显著，优化了城市治理，也撬动了京津冀协同发展。然而，在良好的局面中，也有一个问题值得关注：菜市场搬到远方，但是居民的灶台却还在身边，新鲜便宜的菜买不到，会直接增大民生焦虑。古人云，“城，所以盛民也”。人们聚集到城市，是为了过美好的生活。因此人民群众急需的菜市场不能一刀切。作者想表达的核心意思是（ ）。
- A. 优化城市治理必须坚持疏解非首都功能
B. 疏解非首都功能是北京发展的重中之重
C. 菜市场等民生问题在疏解中不能一刀切
D. 城市生活中不能缺少菜市场和便利商店
45. 又到“六一”国际儿童节，很多家长都在忙着给孩子准备礼物。然而，有媒体通过调查发现，多数孩子最希望得到的是家长的陪伴。在孩子看来，“讲个故事给我听”，比物质更为重要。陪伴确实是当下这个节奏飞快的社会的稀缺品。家长的监管和养育的欠缺，是任何其他外在的措施都难以弥补的。对孩子来说，重要的不仅是获取新知，更重要的是倾听和感受。互相依偎的姿势，亲昵的接触，都会成为孩子心底的阳光。本文段主要说明了（ ）
- A. “陪伴”已经成为当下快节奏社会的稀缺品
B. “六一”与其忙于买礼物不如给孩子讲故事
C. 家长的监管和养育的欠缺是教育的主要问题
D. 对孩子来说父母的陪伴比物质的给予更重要

46. 恋床是很多人都有的小毛病，尤其是上班族，平时工作繁忙，早上及时起床是件很困难的事情。那么恋床仅仅是一个小的生活习惯吗？诚然，充足的睡眠可解除疲劳、恢复精力。但有的人错误地认为，多睡有益健康，尤其是有利于青少年生长发育，所以有的人早上一有机会就赖在床上不起来，使睡眠时间大大超过需要。这是一种不良习惯，长此以往，会有损身体健康。而且，经过一个晚上，腹中空空，已出现明显得饥饿感，这时如恋床不起，势必打乱肠胃活动规律，时间一长，胃肠粘膜将遭到损害，容易诱发胃炎、胃溃疡及消化不良等疾病。所以，必须注意睡眠时间的合理性，保持良好的生活习惯。这段文字意在说明（ ）。
- A. 快节奏生活使恋床成为习惯
B. 保持合理睡眠时间的重要性
C. 赖床容易导致一些肠胃疾病
D. 只有充足睡眠才能恢复精力
47. 据营养专家分析，早餐是一日中最重要的一餐。身体在经过睡眠的休息后，已做好充分准备迎接一天的工作、学习，这时需要摄取丰富的营养，来应付整日的消耗。不吃早餐对大脑的危害：虽说脑组织的重量只占人体重的2-3%，但脑的血流量每分钟约为800毫升，耗氧量每分钟约为45毫升，耗糖量每小时约为5克。青少年的脑组织正处于发育期，血、氧、葡萄糖的需求量比成人还高。如血糖过低，脑意识活动就会出现障碍，长期如此，势必影响脑的重量和形态发育。不吃早餐对消化系统的危害：正常情况下，头天晚上吃的食物经过六小左右就从胃里排空进入肠道。第二天若不好好吃早餐，胃酸及胃内的各种消化酶就会去“消化”胃粘膜层。长此以往，细胞分泌粘液的正常功能就会遭到破坏，很容易造成胃溃疡及十二指肠溃疡等消化系统疾病。
- 下列说法正确的一项是（ ）。
- A. 夜晚摄入食物经过一夜进入肠道进一步消化
B. 脑组织耗氧量高导致更需要早餐营养
C. 不吃早餐对于青少年的大脑危害更大
D. 十二指肠溃疡会导致细胞分泌粘液功能紊乱
48. 尽管西方国家不遗余力地宣传西式自由主义民主的所谓普世性，宣传人类政治形式的趋同论，然而事实证明，_____。从历史来看，西式自由主义民主的产生具有特定的历史条件，是在西方社会现代化过程中，在政教分离、法治、多元主义、代议制、个人主义等基础上形成的，这些因素的结合赋予西方国家民主发展道路以独特性。由于脱离历史传统和国情现实，不少后发展国家在简单照搬西式民主模式后，往往会陷入泥潭不可自拔。显然，后发展国家不可能也无法走与西方发达国家同样的民主发展道路。填入划横线处最恰当的一项是（ ）。
- A. 西式自由主义民主并非后发展国家选择政体形式的良药
B. 即使在西方国家内部也存在着表现不同的民主形式
C. 西式自由主义民主实践也面临难以适应社会发展的窘境
D. 伴随国际金融危机，西方国家普遍面临一系列治理难题
49. 我们已经习惯“理性的计算”，不太习惯讨论“迂腐的价值观”了。当欧洲面临汹涌的难民潮的时候，当即发生了一场汹涌的口水战，其中关键的分野便是利益与道德之争。国际政治更主要的考量因素是利益，我们承认这一点。比如，并不是所有欧洲国家都像德国、瑞典那样勇于承担责任，而是互相推诿。但并不能因为理想很丰满，现实很骨感，就否认理想的存在。首先应该考虑的是帮，然后再考虑怎么帮，能帮到什么份上；而不是把这嗤之为“圣母心”，并等着看笑话。难道说只有拒绝难民才算是理性？很显然，这不过是把冷血视为理性，把自私视为聪明，把高尚视为迂腐。作者的主要观点是（ ）。
- A. 难民问题中利益是国际政治首要考虑点
B. 很多欧洲国家仍在难民问题上互相推诿
C. 我们仍然应该对难民施以人道主义援手
D. 面对难民问题应保持理性对待方可解决

50. 如果举办一届动漫圈的奥运会，你将看到由喜羊羊、灰太狼和熊大、熊二领衔的中国队对阵由钢铁侠、蝙蝠侠、蜘蛛侠领衔的美国队。如果比赛发生在几十年前，我们未必不能与美国队一较高低，那时中国队中孙悟空、葫芦兄弟、哪吒等一批实力派队员尚在。然而，当我们看到这支由低龄动物所组成的中国队时，我们显然对比赛结果不太乐观。中国青年报社会调查中心近日的一项调查显示，高达86.7%的受访者认为，我们现在需要优秀的本土动漫人物。文段接下来最有可能论述（ ）。
- A. 本土动漫近十年从继承到提高的发展历程 B. 美国、日本等国家近年来动漫发展侧重点
C. 我国应如何更好地塑造优秀本土动漫 D. 我国近年来本土动漫人物缺乏的原因
51. ①但仔细分析，其实这些石跪人像的身份可能并非低下
②在这里出土了一种石雕的跪人像，颇为有趣
③因此多有学者认为这些人像的身份地位低下，属于“羌人奴隶”、“战俘”、“石雕奴隶”、“人祭的代用品”等
④恰恰相反，他们很可能是属于高级别身份的巫覡，甚至是王者
⑤成都金沙遗址是先秦时代古蜀文明重要的祭祀、礼仪中心
⑥由于这些石跪人像造型奇特、赤身裸体、双手捆绑
将以上6个句子重新排列，语序正确的是（ ）。
- A. ⑤⑥①③④② B. ⑤②⑥③①④
C. ④③②①⑥⑤ D. ⑥①④③②⑤
52. ①文物保护并非意味着不可开发
②如何让文博单位带着尊严进入市场，而不至于被蒙上过度商业化的阴影
③近日来，有关博物馆的新闻屡屡被刷头条——“跑男”跑进杭州博物馆、南京博物馆举行了房地产发布会……
④但是保护和开发二者要有“度”的平衡，一些文博单位往往因为越过界限被舆论诟病
⑤文创产品的开发是很好的渠道
⑥博物馆等文物单位是否“商”得起再次被舆论热议。
将以上6个句子重新排列，语序正确的是（ ）。
- A. ③⑥①④②⑤ B. ⑤③⑥①④②
C. ④②⑤⑥③① D. ⑥③①⑤②④
53. 古人以立德、立功、立言为三不朽，言要实实在在地落到笔端，若想流传久远，著作人势必要苦心经营。刘歆做《七略》，阅读了数量可观的皇家藏书；徐霞客写游记，足迹遍布名山大川；曹雪芹著《石头记》，在悼红轩中“批阅十载，增删五次”……文献、调查、构思、文辞，哪一个环节都马虎不得，功夫下得多少，读者心知肚明。总之，在文化圈中谈工匠精神，不过是在强调一个标准——一切靠作品说话。如果说得再详细一点儿，那就是要“保质保量”——出好书，不断出好书。文段的核心意思是（ ）。
- A. 不朽作品的创作需要“匠心” B. 只有做到“三立”才能成就好作品
C. 曹雪芹著作真正做到了“立言” D. 读者是评判文学作品好坏的标准

54. 台湾科博馆考古学家近日在台中发现一对约莫4800年到5000年之间的母子骨骸，应是台湾中部至今最古老的人类化石。台湾自然科学博物馆主任屈慧丽表示，遗骸被挖掘出时发现，母亲紧紧抱着婴儿并深情凝视，令在场工作人员十分吃惊。此次考古从2014年5月开始，耗时1年完成。在安和遗址约400平方米的面积里，由科博馆人类学组主任屈慧丽发掘约48具排列整齐的人骨，4000多件陶片、三连杯、双连杯，及许多石斧、板岩箭簇、闪玉簪等器物。此外也有石虎、狗、大型鱼鳃盖骨、鱼脊椎骨、山羌、鬼鼠、蛇、鲨鱼牙齿、贝壳、古代稻米、种子等史前生态遗留。其中还发现鲨鱼牙齿，可能代表当时此地距离海岸线相当近。下列说法正确的一项是（ ）。
- A. 母子骨骸是考古学家在台湾发现最古老人类化石
B. 此次考古发现了大量史前生态遗留且已经结束
C. 本次考古中挖掘出的人骨均保留的依旧完整
D. 鲨鱼牙齿的发现表明当时此地距离海岸线相当近
55. 一开始，大家对于标志没有什么概念。我们的想法是，要一个容易辨别的东西，人人都能看明白。然后我们发现，最初的那个标志并不吸引人。我们因此找到设计师对它进行了重新设计，才有了今天的红点。这是一个非常简单的符号，圆形、红白相间——定睛看它一会儿，会感到它是动态的，它并不复杂，很好辨认——这也是设计者的初衷，它代表着好设计和高品质。（它）很好辨认，富于动感，甚至可以说是性感的。文段末尾括号内的“它”指代（ ）。
- A. 标志的形态
B. 好设计和高品质
C. 简单的符号
D. 红点标志
56. 目前，不少骗子公司以“健康教育”的名义吸引社区老人，最终骗得许多老人心悦诚服地掏出成百上千元购买完全没有疗效的保健品，老年人之所以会被保健品坑害，其实是各方合力所造成的，比如大众的漠视、子女的轻忽、企业的败德、监管部门的缺位、保障体系的不健全……人们往往对于“不能创造价值”的人漠不关心，此前我们在社评中所说的乞讨者，精神障碍患者，均是如此。但老年人面临的问题则更为普遍：我们也许不至于沦为乞讨者，没有患上精神障碍疾病，但总有一天终将老去；我们也许不会陷入保健品的陷阱，但一旦成为不被关注的边缘群体，总是难免陷入别的悲惨境地。这段文字意在说明（ ）。
- A. 保健品陷阱成为坑害老年人首要元凶
B. 我们应当对老人给予更多社会关爱
C. 很多企业缺乏基本的社会服务功德
D. 应避免漠视“不能创造价值”的人
57. “农，天下之大业也”。中国要强农业必须强，中国要美农村必须美，中国要富农民必须富。“三农”问题是关系党和人民事业发展的全局性和根本性问题，只有解决好“三农”问题，才能确保全面建成小康社会。不久前，习近平讲话强调，从全面建成小康社会全局出发，强调要坚持把解决好“三农”问题作为全党工作重中之重，加大推进新形势下农村改革力度，加强城乡统筹，全面落实强农惠农富农政策，促进农业基础稳固、农村和谐稳定、农民安居乐业。对这段文字的主旨概括最准确的一项是（ ）。
- A. 建成小康社会的前提是解决好“三农”问题
B. 改革开放对农业发展推动作用功不可没
C. 农业昌盛会带动中国走入世界前列
D. 强农惠农政策是我国农业发展的首要目标
58. 对于“什么是理想的教育”、“学校和教师应该如何教育孩子”等问题，即便是刚走上讲台的年轻教师也都很有话说。但问题是，因为缺乏全方位、系统性的思考，一些年轻教师认为自己很成熟的教育观点常常脱离了客观实际。这就像在微信朋友圈里疯狂转发的一些蕴含哲理和具备励志功能的段子一样，更多是呈现一种理想状态，说起来很有道理，但就是经不起推敲和现实的考验。他们有的听到某一位名家说的某一句话，看到某一本书上的某一个观点，恰好与自己的一些想法产生共鸣，于是就信手捏来并堪称是自己的教育主张；有的是思考某一段经历或者某一事件，从而对教育迸发出一些观点和看法；还有的是在教育教学实践中有一些感悟和启发，便把它们“提炼”为个人的教育主张。作者通过这段文字最想表达的内容是（ ）。
- A. 教育书中的观点有很大的借鉴意义
B. 年轻教师的教育观点缺乏独创性
C. 应当允许不同教育观点百花齐放
D. 教育理念需要理性思考并贴合实际

59. 20世纪70年代以来，国际政治生活中出现了一股转型浪潮，涌现出100多个所谓的“民主国家”。一些人一度对“民主化”的发展前景欢欣鼓舞，甚至喊出了“自由主义民主全面胜利”的口号。然而，多年之后，曾被视为圭臬的西式民主并没有取得期望中的“胜利”，相反很多转型国家却面临着残酷的现实。自2000年至今，全球至少有22个国家出现了“民主崩溃”。西式民主之所以会陷入这样的困境，正是由于指导“民主化”实践的理论本身存在着致命的缺陷。作者通过本文段意在说明（ ）。
- A. 国家民主化是国际政治转型的里程碑 B. 西方民主化虽步履维艰，仍应负重前行
C. 重建民主化系统将引领西式民主走向胜利 D. 民主理论的不完善最终导致民主崩溃
60. 近年来，大学生“回炉”读职校的人已经越来越多。大学生“回炉”技校，放在过去是不可思议的事，近年来却屡见报端，不少技校甚至推出了专门针对大学生的培训班。有人认为这是对教育资源的浪费，不值得提倡，也有人认为这是大学生的多元化选择，是务实之举。据了解，大学生之所以选择“回炉”技校，大多是出于“专业就业率低”“没有技术，好工作难找”“本身对所学专业不感兴趣”等因素。从就业的角度考虑，为选择最合适的就业道路，大学生不再端着“天之骄子”的架子，顺应市场需求继续接受职业教育，值得点赞。作者意在说明（ ）。
- A. 大学生“回炉”读职校已经成为大势所趋 B. “回炉”职校是对教育资源的浪费
C. 就业难是大学生读职校的重要原因 D. “回炉”职校是大学生适应社会的体现

第三部分 数量关系

在这部分试题中，每道题呈现一段表述数字关系的文字，要求你迅速、准确地计算出答案。
请开始答题：

61. 若干升70%的酒精溶液与若干升58%的酒精溶液混合后得到浓度为62%的酒精溶液，如果每种溶液各多取15升，混合后就得到63%的酒精溶液，那么第一次混合时浓度为70%的酒精溶液取了多少升？
()
A. 4升
B. 6升
C. 8升
D. 10升
62. 王刚、李强和小丽、小芳是两对夫妻，四人的年龄和为132，丈夫都比妻子大5岁，李强比小芳大6岁，问小丽多少岁？ ()
A. 36
B. 35
C. 31
D. 30
63. 某条铁路上，包括起点和终点在内原来共有10个车站，为了使出行更加方便，现在新增了5个车站，那么需要增加多少种不同的车票？ ()
A. 60
B. 80
C. 100
D. 120
64. 果果比较穷，攒钱买了一块特价但是有点小问题的手表，这块表每小时比标准时间慢2分钟。某天晚上九点整，将手表对准，到第二天上午手表上显示的时间是7点38分，果果掐指一算就知道了标准时间，则标准时间是？ ()
A. 7:58
B. 8:00
C. 8:02
D. 8:06
65. 老齐和老赵分别从相距35.8千米的两地出发，相向而行，老齐步履蹒跚，每小时行4千米，但每行30分钟就休息5分钟，老赵腿脚利落，每小时行12千米，则经过多长时间，两人可以相遇？ ()
A. 2小时16分
B. 2小时17分
C. 2小时18分
D. 2小时19分
66. 某班共有36人，每人参加且只参加一个兴趣小组，共有A、B、C、D、E五个兴趣小组，若参加A组的有15人，参加B组的人数仅次于A组，参加C组、D组的人数相同，参加E组的人数最少，只有4人，那么参加B组的有多少人？ ()
A. 5
B. 6
C. 7
D. 8
67. 有一个水池，池底存了一些水，并且还有泉水不断涌出，为了将水池里的水抽干，原计划调来8台抽水机同时工作。但出于节省时间的考虑，实际调来了9台抽水机，这样比原计划节省了8小时。工程师测算出，如果最初调来10台抽水机，将会比原计划省12小时。这样，将水池的水抽干后，为了保持池中始终没有水，应该至少留下多少台抽水机？ ()
A. 4
B. 5
C. 6
D. 7
68. 一个书架上有数学、语文、英语、历史4种书共35本，且每种书的数量互不相同。其中数学书和英语书共有16本，语文书和英语书共有17本。有一种书恰好有9本，则这种书是什么书？ ()
A. 历史
B. 数学
C. 语文
D. 英语


69. 学校一学期共安排86节数学课，单周一、三、五每天两节，双周二、四每天两节。开学第一周星期一开学典礼没上课，从星期三开始上，则最后一节数学课是星期几上的？（ ）
- A. 星期一
B. 星期二
C. 星期三
D. 星期四
70. 有1克、2克、4克、8克的砝码各一个，从这4个砝码中每次任选2个砝码使用，能称多少种不同的重量（砝码也可以放在天平的两边）。（ ）
- A. 6
B. 8
C. 10
D. 12
71. 老张为了追寻童年，买了5个巧克力、7个棒棒糖和3袋跳跳糖，共花了42元，老李吃了很好吃，于是买了7个同样的巧克力、10个棒棒糖和4袋跳跳糖，共花了59元。如果买同样的巧克力两个、棒棒糖两个、跳跳糖两袋，需要多少钱？（ ）
- A. 8元
B. 10元
C. 16元
D. 18元
72. 100人参加7项活动，已知每个人只参加一项活动，而且每项活动参加的人数都不一样且不为零，参加人数第三多的人数为19人，那么参加人数最少的活动最多有几个人参加？（ ）
- A. 8
B. 9
C. 10
D. 11
73. 甲、乙两个容器均有60厘米深，底面积之比为6：5，甲容器水深8厘米，乙容器水深6厘米，再往两个容器各注入同样多的水，直到水深相等，这时两容器的水深是（ ）。
- A. 12厘米
B. 14厘米
C. 16厘米
D. 18厘米
74. 养鱼塘里养了一批鱼，果果为了测算大概有多少条鱼，第一次捕上来500尾，做好标记后放回鱼塘，数日后再捕上200尾，发现有标记的鱼为8尾，问鱼塘里大约有多少尾鱼？（ ）
- A. 5000
B. 7000
C. 8000
D. 12500
75. 甲录入一篇文稿，录入完一半后吃晚饭，晚饭后每分钟比晚饭前多录入32个字，前后共打字50分钟，前25分钟比后25分钟少录入640个字，问文稿一共多少字？（ ）
- A. 1920
B. 2500
C. 3840
D. 5000

第四部分 判断推理

一、图形推理。请按每道题的答题要求作答。

请开始答题：


76. 从所给的四个选项中，选择最合适的一个填入问号处，使之呈现一定的规律性：



77. 从所给的四个选项中，选择最合适的一个填入问号处，使之呈现一定的规律性：



78. 从所给的四个选项中，选择最合适的一个填入问号处，使之呈现一定的规律性（ ）。



79. 从所给的四个选项中，选择最合适的一个填入问号处，使之呈现一定的规律性：



80. 左边给定的是纸盒的外表面，下面哪一项能由它折叠而成？




81. 把下面的六个图形分为两类，使每一类图形都有各自的共同特征成规律，分类正确的一项是：

① ② ③ ④ ⑤ ⑥
 朋 吕 林 炎 昌 从

- A. ①③⑤, ②④⑥ B. ①③⑥, ②④⑤
 C. ①②⑥, ③④⑤ D. ①④⑤, ②③⑥

82. 把下面的六个图形分为两类，使每一类图形都有各自的共同特征成规律，分类正确的一项是：



- A. ①③④, ②⑤⑥ B. ①③⑤, ②④⑥
 C. ①②⑤, ③④⑥ D. ①②④, ③⑤⑥

83. 把下面的六个图形分为两类，使每一类图形都有各自的共同特征成规律，分类正确的一项是：



- A. ①④⑥, ②③⑤ B. ①⑤⑥, ②③④
 C. ①②④, ③⑤⑥ D. ①③④, ②⑤⑥

84. 把下面的六个图形分为两类，使每一类图形都有各自的共同特征成规律，分类正确的一项是：



- A. ①②③, ④⑤⑥ B. ①②⑤, ③④⑥
 C. ①③⑥, ②④⑤ D. ①③⑤, ②④⑥

85. 把下面的六个图形分为两类，使每一类图形都有各自的共同特征成规律，分类正确的一项是：



- A. ①③⑥, ②④⑤ B. ①④⑥, ②③⑤
 C. ①②④, ③⑤⑥ D. ①②③, ④⑤⑥

二、定义判断。每道题先给出定义，然后列出四种情况，要求你严格依据定义，从中选出一个最符合或最不符合该定义的答案。注意：假设这个定义是正确的，不容置疑的。

请开始答题：

86. 熏鲋是一种转移论题的错误，这个名称的来源是指通过一条熏过的鲋鱼引开猎犬，使之不循迹追寻猎物。现指在议论中引入不相干的问题来转移人们对所议论的主要问题的注意力。根据上述定义，下列属于熏鲋的是（ ）。
- A. 医生与病人交谈时为转移病人的恐惧心理而使用了非专业医学术语
 - B. 小王劝导同事不要抽烟时提到二手烟的危害比吸汽车尾气的危害更严重
 - C. 原告在指控被告犯有谋杀罪时，向法官陈述被害者的无辜和谋杀过程的残忍
 - D. 母亲对打算退学的小刘谈到当今社会就业率低以及就业压力很大
87. 不胜任陷阱指在一个等级制度中，每个职工趋向于上升到他所不能胜任的地位。每一个职工由于在原有职位上工作成绩表现好（胜任），就将被提升到更高一级职位；其后，如果继续胜任则将进一步提升，直至到达他所不能胜任的职位。根据上述定义，下列措施无法避免不胜任陷阱的是（ ）。
- A. 甲公司不再沿用单纯的“根据贡献决定晋升”的员工晋升机制
 - B. 乙公司不断的发展知识的创新、加工、传播和应用
 - C. 丙公司不再把岗位晋升当成对员工的主要奖励方式
 - D. 丁公司认为不能因某人在某一岗位级别干的出色就推断此人能胜任更高职务
88. 安泰效应源自于，古希腊神话中有一个大力神叫安泰，他是海神波塞冬与地神盖娅的儿子，他力大无比，百战百胜。但他有一个致命的弱点，那就是他一旦离开大地，离开母亲的滋养，就失去了一切力量，他的对手刺探了这个秘密，设计把他高高举起，让他离开大地，在空中把他杀了。后来，人们把一旦脱离相应条件就失去某种能力的现象称为“安泰效应”。以下哪项不符合安泰效应？
- A. 孤掌难鸣
 - B. 独木不成林
 - C. 柳暗花明又一村
 - D. 水失鱼，犹为水；鱼无水，不成鱼
89. 表见代理是指行为人虽无代理权，但由于本人的行为，造成了足以使善意第三人相信其有代理权的表象，而与善意第三人进行的、由本人承担法律后果的代理行为。根据上述定义，下列涉及表见代理的是（ ）。
- A. 肖某私自以父亲的名义向其父好友王某借款20万，王某肖家相交多年并且知道肖父与肖某正在合伙创业，因此将钱借出，肖某在借款单据上签的是父亲的名字
 - B. 张某，小学五年级学生，经常在其学校门口的一家小卖部买零食和一些学习用品，部分赊账，年终时共欠小卖部340元。小卖部老板拿着账单要求张某父亲付款，遭到张某父亲拒绝
 - C. 李某为做生意，向赵某借款10万元，为保障自己的债权，赵某要求李某提供担保，李某将母亲的住房抵押给赵某，并由其母在抵押协议上签字
 - D. 村民周某捡到一头牛，因不知道失主是谁，便将这头牛卖给李某得款5000元，一周后，失主找到李某索要这头牛
90. 沉没成本是指由于过去的决策已经发生了的，而不能由现在或将来的任何决策改变的成本。我们把这些已经发生不可收回的支出，如时间、金钱、精力等称为“沉没成本”。根据上述定义，下列不涉及沉没成本的是（ ）。
- A. 前功尽弃
 - B. 亡羊补牢
 - C. 洛阳纸贵
 - D. 覆水难收
91. T型结构论证是指一个论证有两个或者两个以上的前提，这些前提能为论证提供强有力的支持。如果其中一个前提是假的，其他的前提几乎不能为结论提供任何有力的支持。根据上述定义，下列属于T型结构论证的是（ ）。
- A. 张伟在事业上很成功，并且他的婚姻十分美满，因此张伟是个幸福的人
 - B. 所有人都是会死的，苏格拉底是人，所以苏格拉底是会死的
 - C. 拥有很多藏书的刘丽是个视书如命的人，因此她不会将自己的藏书借给他人
 - D. 物体要么处在绝对的静止之中，要么处在绝对的运动之中，所以地球是运动的

101. 点赞：赞同
 A. 评论：意见
 C. 拉黑：筛选
 B. 转发：分享
 D. 屏蔽：绝交
102. 庖丁解牛：庄子
 A. 墨守成规：墨子
 C. 和光同尘：老子
 B. 温故知新：孔子
 D. 孟母三迁：孟子
103. 综艺：选秀：真人秀
 A. 演员：明星：歌手
 C. 娱乐：影视：广告
 B. 艺术：书法：绘画
 D. 媒体：网络：新闻
104. 爆竹对于（ ）相当于算盘对于（ ）
 A. 震耳欲聋：稳操胜算
 C. 稍纵即逝：精于算计
 B. 多姿多彩：龟龄鹤算
 D. 辞旧迎新：精打细算
105. 邮票对于（ ）相当于（ ）对于数码相机
 A. 信封：内存卡
 C. 电子邮件：胶卷
 B. 邮局：商店
 D. 明信片：照片

四、逻辑判断。每道题给出一段陈述，这段陈述被假设是正确的，不容置疑的。要求你根据这段陈述，选择一个答案。注意：正确的答案应与所给的陈述相符合，不需要任何附加说明即可以从陈述中直接推出。

请开始答题：

106. 瘦蛋白是一种与发生肥胖相关的蛋白，它由脂肪细胞分泌，会影响人的食欲调节，调节饱腹感和进食幸福感。也就是说，当你的身体脂肪量高时，身体会自动提高瘦蛋白的表达，产生抑制食欲的作用；而脂肪含量低时，则会提高食欲从而增加能量摄入。当这一自然反馈机制不强健时，就容易产生嗜食和肥胖。由此可以推出的是（ ）。
- A. 与人的食欲及体重调节有关的基因大都参与了瘦蛋白的调节过程
 B. 对于想要健身减肥的人来说，了解身体如何代谢能量大有裨益
 C. 测试个体体内瘦蛋白的相对表达量，使肥胖风险分析成为可能
 D. 个体对食物的吸收、分解和储存，因遗传因素的差异而有所不同
107. 如果想要改变别人，就得先改变自己；如果不能改变环境，那么可以让自己变的更好；你改变不了过去，但你可以改变现在；你不能延伸生命的长度，但你可以决定自己生命的宽度。如果以上为真，则以下哪项为真？（ ）
- A. 如果不能改变环境，那么就无法让自己变的更好
 B. 如果不能改变现在，那么就无法延伸生命的长度
 C. 如果不能改变别人，那么就无法决定自己生命的长度
 D. 如果不能改变自己，那么就不能改变别人
108. 抗生素，指能够杀灭细菌的药物。面对抗生素，细菌种群中的大多数都没有抵抗力，一旦遇上就会被彻底杀灭。然而，有些细菌带有“抗性基因”，抗生素对这些细菌也无能为力。抗性细菌的出现，将对人类产生极大的危害，因此，有人呼吁应当禁用抗生素。如果以下各项为真，能够削弱上述结论的是（ ）。
- A. 抗性基因可能进入到其他细菌中，把其他细菌也变成抗性细菌
 B. 美国疾控中心估计，每年因抗生素抗性而得病的美国人至少有200万
 C. 对付许多传染性疾病，抗生素依然是最有力的武器
 D. 有一些“益生菌”在寄主体内甚至为宿主的健康做出一定贡献

109. 甲、乙、丙、丁、戊、己兄弟姐妹六人，较小的三人尚未从学校毕业，较大的三位已经工作。戊有三个哥哥，丁曾经找做医生的哥哥帮忙挂号，从事教师的哥哥曾多次资助己的学费，做律师的是老大，丙有两个姐姐。从上述叙述中，可以推出以下哪项结论? ()
- A. 乙是老大
B. 甲尚未从学校毕业
C. 丁是女的，从事律师职业
D. 六个兄弟姐妹中女孩的数量多于男孩的数量
110. 研究者曾经发现在一组实验中，学生们在听了莫扎特的音乐之后，空间推理能力增强了，折纸等任务做的更好。这被称为“莫扎特效应”。但是之后，科学界充斥着各种对“莫扎特效应”的批驳观点，甚至有科学家表示，听音乐并不会给孩子带来任何认知能力上的优势。如果以下各项为真，能够削弱上述结论的是 ()。
- A. “莫扎特效应”是商家为了获取利益而提出的一种理念
B. 与被动听音乐相比，主动欣赏音乐可以提升孩子认知能力
C. 研究发现婴儿对音乐类型的偏好在很早期就已经形成
D. 人类在刚出生时与处理音乐相关的大脑部分已经发育到一定程度
111. 为什么网络造谣者手法平平无奇，效果却“不错”? 造谣者使用的手段是“诉诸权威”和“诉诸专业壁垒”，以极小的成本增强了信息看上去的可信度。马甲互证则营造了一个有利于骗子的舆论环境。假如骗子影响力很大，支持者够多，他还可以通过广大支持者或支持者的马甲互动，甚至动用传统媒体帮助宣传，进一步提升效果。由此可以推出的是 ()。
- A. 社会信息管理的滞后，为谣言的传播提供了机会
B. 科学知识的欠缺，为谣言的传播提供了可乘之机
C. 社会生活的不确定性，为谣言的产生和传播提供了温床
D. 商业利益的驱动，是谣言滋生的经济动因
112. 某班级决定从五位学习成绩优异的同学中选出一人参加本市的“成语达人大赛”，五位学生分别是赵、钱、孙、李、周。在决定选派人选之前有如下对话：赵说：周擅长成语，他去参加比赛钱说：如果我不去，那么就是孙去孙说：或者钱去，或者我去李说：既不是我去，也不是赵去周说：或者李去，或者赵去最终确定人选后发现以上对话中有两个人说对了，那么参加比赛的是()。
- A. 赵
B. 钱
C. 周
D. 李
113. 迄今为止，人类排入大气的二氧化碳中差不多有三分之一都被海洋吸收了，导致海洋酸化。海洋酸化与全球变暖并称“邪恶双子”，有确凿的证据表明，海洋未来将会出现生物多样性的下降，一些具有高度忍耐力的生物将变得数量庞大，但也会丧失整体的多样性，这是过去每一次物种大灭绝中所发生的事情。如果以下各项为真，最能支持上述观点的是 ()。
- A. 海洋酸化能改变声音传播方式导致海洋变得更嘈杂
B. 海洋酸化的严重性不仅在其规模，更在于其速度
C. 有些超微型浮游生物可以在酸化的海水中活的很好
D. 海洋酸化导致有钙化功能的海草全部消失了
114. 曾参是孔子的学生，品学兼优。某天，有个和他同名的人在外头杀了人。一个乡亲跑到曾参家里来，对他母亲喊：曾参杀人啦。他母亲正在织布，镇定地说：我儿子不可能杀人。很快，第二个乡亲跑来说了同样的话，她继续织布：我相信儿子。等第三个乡亲跑来重复时，曾参母亲吓得扔下手中的织布工具，爬墙逃走了。以下哪项犯有与曾母相同的逻辑谬误?
- A. 俗语说：“秀才遇到兵，有理说不清”
B. 家长对孩子说：“现在不努力，长大只能做乞丐”
C. 孟子曾云：“五百年必有王者兴”
D. 某奶粉品牌的广告语：“20年的专业品质，2000万妈妈的营养选择”

115. 在人际互动中，我们常常会产生“被洞悉错觉”，误以为自己的表情、肢体、语言、眼神已经传达了自己真实的意思，甚至误以为即使一言不发别人也该“了解自己的想法”。直到听到别人对自己的解读，预期与现实间的落差才激出巨大痛苦。或许我们应该首先修改一下自己的预期：“被误解”才是世间常态，“你懂我”的几率则像中彩。如果以下各项为真，最能支持上述观点的是（ ）
- A. 人们只会看到“期望看到的东西”，却看不到别人“真正的模样”
 - B. 由于大脑的认知懒惰，一旦形成第一印象就很难扭转
 - C. 他人对你的好奇心会形成对你全面探究的动力
 - D. 人们应该努力用各种方式表达自己是友善而有能力的人

二、2015年，粮食种植面积11334万公顷，比上年增加62万公顷。棉花种植面积380万公顷，减少42万公顷。油料种植面积1406万公顷，增加1万公顷。糖料种植面积174万公顷，减少16万公顷。

2015年，粮食产量62144万吨，比上年增加1441万吨，增产2.4%。其中，夏粮产量14112万吨，增产3.3%；早稻产量3369万吨，减产0.9%；秋粮产量44662万吨，增产2.3%。全年谷物产量57225万吨，比上年增产2.7%。其中，稻谷产量20825万吨，增产0.8%；小麦产量13019万吨，增产3.2%；玉米产量22458万吨，增产4.1%。

2015年，棉花产量561万吨，比上年减产9.3%。油料产量3547万吨，增产1.1%。糖料产量12529万吨，减产6.2%。茶叶产量224万吨，增产6.9%。

2015年，肉类总产量8625万吨，比上年下降1.0%。其中，猪肉产量5487万吨，下降3.3%；牛肉产量700万吨，增长1.6%；羊肉产量441万吨，增长2.9%；禽肉产量1826万吨，增长4.3%。禽蛋产量2999万吨，增长3.6%。牛奶产量3755万吨，增长0.8%。年末生猪存栏45113万头，下降3.2%；生猪出栏70825万头，下降3.7%。

2015年，水产品产量6690万吨，其中，养殖水产品产量4942万吨，增长4.1%；捕捞水产品产量1748万吨，增长0.5%。

121. 2015年粮食种植面积的增长速度为？（）

- A. 5.5%
- B. 6.2%
- C. 0.55%
- D. 0.62%

122. 2014年粮食的单位面积产量为？（）

- A. 5.39吨/公顷
- B. 5.89吨/公顷
- C. 4.32吨/公顷
- D. 6.08吨/公顷

123. 2014年全年水产品产量为？（）

- A. 4747
- B. 6429
- C. 6486
- D. 6690

124. 2015年猪肉、牛肉、羊肉和禽肉产量占肉类总产量的比重较上年上升的有几个？（）

- A. 1
- B. 2
- C. 3
- D. 4

125. 下列说法与资料相符的是（）

- A. 2015年秋粮产量占粮食产量的比重较上年有所上升
- B. 2015年羊肉产量的增长量接近10万吨
- C. 2014年棉花产量超过600万吨
- D. 2015年水产品的增长率为2.1%

三、2013年，广东60岁及以上的老年人口健康状况良好。在抽查的老年人口中，“健康”的有492653人，占51.46%；“基本健康”的366579人，占38.29%；“不健康，但生活能自理”的80918人，占8.45%；而“生活不能自理”的只有17210人，占1.80%。身体健康或基本健康的老年人口占比达89.75%，接近九成，全国排名首位，比全国平均水平高6.60个百分点，与排名2-4位的福建、浙江和江苏比，分别高1.00个、1.92个和2.36个百分点。“生活不能自理”老年人口占比则分别比福建、浙江、江苏低0.2-0.6个百分点，比全国平均水平低1.15个百分点。

131. 2012年1-5月份,全国房地产开发投资为多少亿元? ()
- A. 18756
B. 22226
C. 26800
D. 30739
132. 2013年1-5月份,住宅投资占全国房地产开发投资的比重约为 () ?
- A. 59.8%
B. 68.5%
C. 78.2%
D. 83.4%
133. 2014年1-4月份,东部地区房地产开发投资的同比增长率相对于西部地区 () ?
- A. 高了0.6个百分点
B. 低了0.6个百分点
C. 高了1.1个百分点
D. 低了1.1个百分点
134. 2014年1-5月份,住宅新开工面积占房屋新开工面积的比重约比上年 () ?
- A. 上升了3个百分点
B. 下降了3个百分点
C. 上升了2.7个百分点
D. 下降了2.7个百分点
135. 根据材料,以下说法正确的是 () ?
- A. 2014年1-5月份,全国房地产开发投资同比增速逐月下滑
B. 2014年1-4月份,房屋新开工面积同比增长率为22.1%
C. 2014年5月份,全国房地产开发投资同比增长率为14.2%
D. 2014年1-5月份,住宅竣工面积占房屋竣工面积的比重和上年相比有所下降