

第一部分 常识判断

根据题目要求，在四个选项中选出一个最恰当的答案。

请开始答题：

1. 中央一号文件是中共中央每年发布的第一份文件，2016一号文件题目是《关于落实发展新理念加快农业现代化实现全面小康目标的若干意见》，这是中央一号文件连续（ ）年聚焦于“三农”问题？
A. 11
B. 12
C. 13
D. 14
2. 庆祝中国共产党成立95周年大会于7月1日在京隆重举行。会上习近平强调，面向未来，面对挑战，全党同志一定要（ ）。
A. 团结一心、艰苦奋斗
B. 立党为公、执政为民
C. 不忘初心、继续前进
D. 艰苦奋斗、继续前进
3. 下列哪个不属于民族自治地方的自治机关的是？（ ）
A. 自治区的人民政府
B. 自治州的人民代表大会
C. 自治县的人民政府
D. 自治州的人大常委会
4. 下列艺术形式的体裁与其他三项不同的是？（ ）
A. 《窦娥冤》
B. 《汉宫秋》
C. 《女起解》
D. 《墙头马上》
5. 人体中缺少下列哪种元素易导致贫血症（ ）。
A. 铁
B. 钙
C. 锌
D. 碘
6. 对于月份和其别称，下列对应正确的是？（ ）
A. 三月——荷月
B. 六月——桃月
C. 八月——桂月
D. 九月——兰月
7. 单方民事行为，是指根据一方意思表示就可成立的民事行为。下列不属于单方民事行为的是？（ ）
A. 发布悬赏广告
B. 撤销委托代理
C. 订立遗嘱
D. 签订合同
8. 党的思想路线的实质和核心是（ ）。
A. 实事求是
B. 一切从实际出发
C. 理论联系实际
D. 解放思想
9. 下列成语典故，反映的是春秋战国时期的历史的是（ ）。①纸上谈兵②退避三舍③围魏救赵④夜郎自大⑤一丝不苟
A. ①②④
B. ①②⑤
C. ①②③
D. ③④⑤
10. “一寸光阴一寸金，寸金难买寸光阴”，这说明时间具有？（ ）
A. 持续性
B. 一维性
C. 无限性
D. 绝对性

11. 关于地震, 下列说法错误的是? ()
- A. 现代科技可以预测地震的发生
 - B. 地震波分为纵波和横波
 - C. 环太平洋地震带是地球上地震最活跃的地区
 - D. 地震时, 为防止次生灾害的发生, 首先要切断电源、气源
12. 洛克曾在他的著作中指出: “人人放弃其自然法的执行权而把它交给公众, ……这样, 就授权社会, 或者授权给社会的立法机关, 根据社会公共福利的要求为他制订法律, 而他本人对于这些法律的执行也有尽力协助的义务。”这段话表明洛克的主要主张是 ()。
- A. 三权分立
 - B. 民主共和
 - C. 君主立宪
 - D. 社会契约
13. 下列现象中, 其本质与其他三个现象的本质不同的现象是? ()
- A. 跳远时利用助跑, 使自己跳得更远
 - B. 风吹在粗糙不平的地表面, 风速减小下来
 - C. 用力推一辆汽车, 没有推动
 - D. 踢出去的足球会慢慢停下来
14. 根据商标法的规定, 下列哪种不能作为商标注册使用? ()
- A. 数字
 - B. 气味
 - C. 声音
 - D. 颜色组合
15. 以下划线的词语哪一项不表示官职? ()
- A. 除臣_____
 - B. 二州_____
 - C. 历职_____
 - D. 后_____臣荣
16. 下列我国地区与农业搭配正确的是? ()
- A. 黑龙江——茶叶
 - B. 贵州——甘蔗
 - C. 广州——甜菜
 - D. 新疆——花生
17. 被誉为“中国十七世纪工艺百科全书”的是下列哪本著作? ()
- A. 《本草纲目》
 - B. 《农政全书》
 - C. 《梦溪笔谈》
 - D. 《天工开物》
18. 张某被区公安局处以15日行政拘留, 3个月后张某向区政府申请行政复议, 区政府以超过申请期限为由决定不予受理。张某遂以区公安局为被告向区人民法院提起行政诉讼, 要求撤销区公安局的处罚决定。对于张某提起的诉讼, 区人民法院应? ()
- A. 以原告未经行政复议程序为由裁定不予受理
 - B. 通知原告变更诉讼被告, 原告拒绝变更的, 应当驳回诉讼请求
 - C. 通知原告变更诉讼请求, 原告拒绝变更的, 裁定不予受理
 - D. 予以受理
19. 下列选项中, 属于我国政策性银行的是 ()。
- A. 中国农业银行
 - B. 中国人民银行
 - C. 国家开发银行
 - D. 中国银行
20. 下列做法错误的是? ()
- A. 衣服染上墨水用牛奶清洗效果好
 - B. 在放置冰箱时, 它的背面与墙之间要留出空隙
 - C. 身上着火, 就地打滚, 或用厚重衣物覆盖压灭火苗
 - D. 室内装修应尽可能在冬季进行

第二部分 言语理解与表达

本部分包括表达与理解两方面的内容。请根据题目要求，在四个选项中选出一个最恰当的答案。

请开始答题：

21. 今天，当我们谈及近乎_____的“智能”交通，就会不可避免地关联出同样也差不多审美疲劳的“大数据”或“云计算”。在公众话语的场域里，变革现实交通和构想未来交通的讨论，几乎由移动互联网企业，特别是“蝙蝠”三巨头主导，虽然传统上，交通基本上是一个由政府控制的领域。填入划横线处最恰当的一项是（ ）。
- A. 陈词滥调
B. 历久弥新
C. 标新立异
D. 推陈出新
22. 要形成支持改革、崇尚改革、褒奖改革、推进改革的氛围，选人用人是重要导向。分析一些停顿、空转现象背后的思想根源，最重要的还是“位置”上的_____。有一些领导干部认为，改了有风险，担心会丢了自己的官帽。填入划横线处最恰当的一项是（ ）。
- A. 坐吃山空
B. 患得患失
C. 守株待兔
D. 坐享其成
23. 当看到有人在使用、玩味、赞赏他用一生的执着、智慧、情感_____的作品时，他的内心一定是充实和幸福的。方向远无疑就是这样一个充实和幸福的人。填入划横线处最恰当的一项是（ ）。
- A. 精益求精
B. 吹毛求疵
C. 精雕细琢
D. 千锤百炼
24. 没有人能_____，空气面前，人人平等——就算用上空气净化器，戴上口罩，但总不能一天到晚“躲进小楼成一统”。填入划横线处最恰当的一项是（ ）。
- A. 得过且过
B. 独善其身
C. 无所事事
D. 自得其乐
25. 一个持续盘旋的疑问是：这一切是如何发生的？在一个基本在政府管辖下、公共性极强的领域，企业如何开辟和创造出市场？原初做电商的阿里、做搜索的百度和做社交网络的腾讯，如何_____，不约而同进入到交通？传统上本质属于工程领域的交通，是如何实现向算法和数据思维_____与转折的？依次填入划横线处最恰当的一项是（ ）。
- A. 一拍即合 转移
B. 不谋而合 转变
C. 殊途同归 过渡
D. 心照不宣 改变
26. 随着互联网的普及，各种互动应用_____，特别是各类自媒体传播竞争激烈，于是基于网络原生、多种形态的低俗词语或表达方式便_____被创造出来，并借助网络传播的威力，成为风行一时的流行语，反过来又对现实语言环境产生影响。依次填入划横线处最恰当的一项是（ ）。
- A. 一日千里 络绎不绝
B. 一泻千里 层出不穷
C. 不胜枚举 滔滔不绝
D. 日新月异 源源不断
27. 需要_____的是，抑郁和抑郁症是不同的。抑郁，指情绪低落，这是人人都会经历和体验的感受。抑郁症的确诊有严格的诊断标准，包括两周以上的病程等。所以，不要随意在网络上为自己做“抑郁症”的_____，还是要通过正规途径寻求专业的帮助。依次填入划横线处最恰当的一项是（ ）。
- A. 警惕 判断
B. 理清 界定
C. 厘清 诊断
D. 注意 治疗

28. 建设世界科技创新强国的关键在人才，充分_____人才的活力与创造性必须要有体制机制的_____。这其中，构建高效规范的科研经费管理使用体制至关重要。依次填入划横线处最恰当的一项是（ ）。
- A. 激发 保障
B. 推动 保证
C. 激励 保护
D. 促进 完善
29. 家信_____了家人之间的物理距离，也拉近了彼此的心理距离。填入划横线处最恰当的一项是（ ）。
- A. 考量
B. 考察
C. 丈量
D. 衡量
30. 近年来，中菲之间出现严重分歧，关键是阿基诺三世政府甘愿充当美国在东南亚的“_____”，采取敌视中国的政策，进而抛弃了通过谈判解决菲中领土争议的渠道。填入划横线处最恰当的一项是（ ）。
- A. 马前卒
B. 敲门砖
C. 领头羊
D. 擎天柱
31. 要讲好故事，不是靠编剧_____就能解决的，问题在于编剧在整个制作环节中的_____。有业内人士对南方日报记者表示：“好莱坞动画团队非常重视前期的剧本创作环节，这往往会占总成本的30%到40%，中期的创建场景动画等环节大约会占40%到50%，后期加工包括合成、剪辑等基本就是扫尾工作。”比较之下，国内动画电影人为中期制作投入的成本几乎占到总成本的80%。依次填入划横线处最恰当的一项是（ ）。
- A. 匹夫之勇 无所事事
B. 螳臂当车 无所作为
C. 独当一面 举足轻重
D. 一己之力 无足轻重
32. 在满足个人私欲的时候，我们每个人都需要_____地为他人想想，为其他物种想想这样是否公平。我们，和其他地球公民，同样拥有平等生存的_____和自由。依次填入划横线处最恰当的一项是（ ）。
- A. 设身处地 权利
B. 由己及人 权益
C. 将心比心 权力
D. 推心置腹 利益
33. 写实主义油画家的作品及工写结合的某些画家的小写意作品确实符合中国人的传统“美术”审美观，容易看懂，可以说“雅俗共赏、老少皆宜”。可是，这和像西方人从艺术的角度去看画作的审美习惯是_____的。尽管这样的作品好卖、容易赢利，但三彩画廊还是会选取一些具有创新精神、学术地位和能载入美术史的艺术家的作品，因为这样的作品可_____，值得永久收藏。依次填入划横线处最恰当的一项是（ ）。
- A. 大同小异 流传千古
B. 天差地别 历久弥新
C. 大相径庭 流芳百世
D. 截然不同 老少皆宜
34. 幸福指数是衡量一个社会进步发展的重要_____。以往片面强调GDP这类反映经济发展的指标对于全面衡量一个社会的发展和进步状况是很不充分的，在实践中可能会导致社会政策选择上的_____。依次填入划横线处最恰当的一项是（ ）。
- A. 标准 抓大放小
B. 指标 舍本求末
C. 标志 舍本逐末
D. 标杆 避重就轻
35. 医生认为，现代人尤其是年轻人较多地_____于手机，主要和生活压力大，精神不够充实有关。压力大时，如果没有合适的兴趣爱好可以_____，就有可能选择手机。依次填入划横线处最恰当的一项是（ ）。
- A. 沉浸 抒发
B. 沉迷 代替
C. 沉醉 释放
D. 沉溺 排遣

36. 与春节、清明等传统节日一样，同样_____于农业社会的端午节，也遭遇到现代文明的冲击。以往固有的仪式简化了，心中的敬畏消退了，文化的色彩也_____了。依次填入划横线处最恰当的一项是（ ）。
- A. 发源 消失
B. 发动 褪色
C. 发起 黯淡
D. 发端 式微
37. 中国和希腊建交44年来，双方_____相互尊重、平等互利的原则发展双边关系，结下_____的传统友谊。中国视希腊为欧盟中的战略伙伴，在当前国际形势下，中希两个古老文明国家应该携手同心，巩固政治_____，深化互利合作，推动中希、中欧全面战略伙伴关系再上新台阶。依次填入划横线处最恰当的一项是（ ）。
- A. 秉承 历久弥新 互信
B. 坚持 推陈出新 互助
C. 遵守 破旧立新 互补
D. 传承 标新立异 互利
38. 文物凝固下来的，是活生生的历史，通过文物的“述说”，人们可以_____时空阻隔，_____岁月沧桑。倾听历史回声，与古人对话。而这一愿景的抵达，则有赖于今人精心的_____、巧妙的设计，乃至绝佳的文物组合呈现。依次填入划横线处最恰当的一项是（ ）。
- A. 横跨 抚摸 衡量
B. 穿越 触摸 考量
C. 跨越 触碰 考察
D. 穿透 触及 丈量
39. 科研经费管理使用体制改革的最终目的是推动科研创新。创新是目的，是_____，分配是手段，是工具。分配性必须服务于_____，这个关系必须摆正，不能_____。依次填入划横线处最恰当的一项是（ ）。
- A. 标志 科研性 主次颠倒
B. 目标 创新性 本末倒置
C. 重点 制度性 颠三倒四
D. 方向 先进性 喧宾夺主
40. 虽说现在是互联网时代，信息_____正逐渐填平，不过亲身经历所获得的冲击力，远强过网上阅读和_____。根据人口一般分布，大城市聚集了更多聪明人。他们是各自领域的才智卓绝者，他们互相_____学习，技能水平普遍更高。依次填入划横线处最恰当的一项是（ ）。
- A. 差距 危言耸听 激励
B. 裂痕 耸人听闻 促进
C. 缝隙 捕风捉影 鼓励
D. 鸿沟 道听途说 砥砺
41. “后继无人”是传统手工艺面临的一个共同困境，即使是在看重手工制作的欧洲，一样不能摆脱这样的窘境。在而今的生产环境下，这是一个难以回避的困局。一方面，手工生产的商业模式，无法满足习惯了流水线生产的市场需求；另一方面，越来越少的年轻人愿意进入这个行业，而随着原有工匠的日渐老去，这些工艺也日渐枯竭。与此同时，时装工业制造程序的亚洲转移，也对原有的欧洲市场产生了冲击。一些老工坊，因为“供血不足”，面临关闭的危机。这段话主要表达的是（ ）。
- A. “后继无人”是传统手工艺面临的困境
B. 欧洲的传统手工艺陷入难以回避的困局
C. 年轻人不愿意再从事传统的手工艺行业
D. 欧洲传统手工艺业遭受亚洲的巨大冲击
42. 从根本上，肥胖可以被视为人类生物本能与现代生活相矛盾的产物：在过去200万年食物紧缺的环境中优胜劣汰脱颖而出的人类基因，在工业化社会物质丰裕面前无所适从。正因为如此，肥胖拥有区别于其他疾病的复杂性。它远非一个医学范畴的问题，而与整个社会生产生活形态和社会关系紧密联系。这段文字的主旨是（ ）。
- A. 肥胖是生物本能和现代生活矛盾的产物
B. 肥胖在现代社会中被大多数人视为公敌
C. 当前肥胖让现代社会中的人们无所适从
D. 肥胖并非仅属于医学范畴且具有复杂性

43. 早在十几年前，很多地方就爆出过“毒跑道”的新闻，只不过当时的规模没有现在这么大，引起的关注也不够多。但是在行业里，“毒跑道”一直都存在。现在常见的塑胶跑道分为聚氨酯类、预制型橡胶卷材和水性塑胶跑道，其中聚氨酯类是目前市场占有率最大的传统型材料，也是近期“毒跑道”的主角。但是，聚氨酯本身是很好的材料，只是目前中国市场中的塑胶材料生产厂家和工程商良莠不齐，一些不良企业为了牟利，会在生产过程和施工过程中添加一些有毒有害的物质，对环境和人体健康造成很大的损害，跟在牛奶中加入三聚氰胺是一样的道理。下列说法与原文不相符的是（ ）。
- A. “毒跑道”问题并不是一个新近才发生的话题
B. “毒跑道”产生是因部分企业添加了有害物质
C. 聚氨酯这一材料导致了当前“毒跑道”的出现
D. 聚氨酯类是目前市场上占有量很大的传统材料
44. 远古时期的人类并不掌握酿酒的技术，只能在腐烂的水果里尝到一点点酒的味道，问题还不大。随着农业的诞生，以及科学技术的进步，人类具备了大规模酿酒的条件和能力，酒精的威力才显现出来。从实际效果来看，真正喝酒上瘾的只占很小一部分，大部分人还是能分辨出什么是真正的喜悦，什么是被劫持的喜悦。但对于那些分不清两者区别的人来说，喝酒的后果往往很严重，必须引起重视。这段文字想要表达的是（ ）。
- A. 我国酿酒技术的发展过程
B. 喝酒上瘾的人并不占多数
C. 酒精对于人体的不良影响
D. 应重视酒精会产生的影响
45. 目前最常用的基因疗法就是利用改造过的病毒作为载体，将特定的基因片段运送到人体细胞内，让这个外来基因整合到人体基因组内，永久地发挥作用。此次试验的两种新药其实就是基于这种给药方式的两个新基因，一个基因能够增加受试者的肌肉重量，除了能延缓因年龄导致的肌肉萎缩外，还能治疗某些因病导致的肌肉萎缩，争议不大。另一个基因则是一种名为TERT的端粒酶基因，这个基因能够延长染色体端粒的长度，其目的就是为了延缓衰老，因此引起了公众的兴趣。细胞中的端粒内没有任何有用的基因，每次复制后丢失的一小段端粒DNA也就不会造成伤害了。问题在于，端粒的长度是有限的，复制的次数越多端粒就越短，总有一天会耗尽，细胞也就没办法继续复制下去了。下列说法正确的是（ ）。
- A. 目前细胞复制的一个难题就是细胞中端粒长度的有限性
B. 对于当前基因疗法中涉及到的两种基因存在一定的争议
C. 人们对新疗法感兴趣是因为这两种基因都可以延缓衰老
D. 所谓的基因疗法主要是利用病毒对坏掉的基因进行改造
46. 如果一个经常不吃早餐的人得了心脏病，这一事实只能说明两者有可能存在某种关联，不能证明两者之间有因果关系。比如，一个人选择不吃早餐，最可能的理由是早上要上班，时间太紧来不及吃早餐。这样的人很可能因为家离单位太远而经常睡眠不足，或者工作压力过大，这些因素同样是导致心脏病的原因，和吃不吃早餐没有直接关系。这段话想表达的是（ ）。
- A. 不吃早餐容易患上心脏病
B. 不吃早餐未必会患心脏病
C. 不吃早餐的原因多种多样
D. 导致人们患心脏病的原因
47. 家庭医生制度有诸多方便之处：医生与患者经常面对面交流，上门提供服务，当好居民健康守护人，在基层承担起预防保健、常见病诊治、慢病管理等一体化服务功能。然而，签约人数猛增，医生总数却有限、激励机制有待完善、年轻居民健康意识淡薄等，这些都是家庭医生发展之路上需要正视与解决的困难。这段话强调的是（ ）。
- A. 家庭医生制度当中存在的利与弊
B. 家庭医生制度带给我们诸多便利
C. 家庭医生制度还需克服诸多困难
D. 家庭医生制度是发展的必然要求

48. 最近，国内某博物馆一个大型展览汇集了众多精品，其中不乏国宝级文物，观众从展厅走出时却很懵。有人坦言，精品虽多，但彼此没有明显的主次与关联，铭牌上也只是简单写着名称、年代、出土地点，像是把文物从库房搬到了展厅，让人看不出头绪，也提不起兴致。一些展览开幕式热热闹闹，展馆中却深沉严肃，观众走马观花，不明所以。须知，博物馆中有大美，也有“门槛儿”，参观者的知识储备、鉴赏水平等，必然会影响到其究竟是“看热闹”还是“看门道”。所以，作为面向大众的公共文化机构，博物馆在布展时就应该充分考虑不同受众的感受，寓教育于情感，融引导于贴近，讲好文物故事，吸引公众参与。这段文字的主旨是（ ）。
- A. 国内许多博物馆举办的展览精品太少
B. 参观博物馆需要具备一定的文化储备
C. 观众参观博物馆存在“门槛儿”限制
D. 博物馆展出应该走进大众，贴近大众
49. 毋庸讳言，商场放置尺度有点大的人体雕塑，有吸睛博商气之嫌。这种以商业噱头搭艺术便车的做法，不宜提倡。所以，有艺术评论家呼吁公共雕塑引入评审制度，由专家(艺术家)主持，市民参与，这是有道理的。欧洲城市的建设规划，就包含城市雕塑的布局和遴选，这其实也是一种评审机制。说到底，城市雕塑是公共品，市民满意才是最高标准。这段话想表达的是（ ）。
- A. 商场中放置尺度过大的人体雕塑不妥
B. 城市雕塑的建设规划应引入评审制度
C. 应改由专家对公共雕塑规划进行评审
D. 市民应参与到城市雕塑的评审制度中
50. 互联网讲究效率，沟通快捷，信息快餐化，文字越少越好，能用表情不用文字，而书信则是一种慢文化。书信里的文字是用笔写出来的，它和在键盘上敲出来的字不同。靠信件沟通的时代，要付出较高时间成本，所以总会在信中写入更多内容、倾注更多情感，让人看到写信人丰富的内心。看看梁启超的家书你就可以发现，这位国学大师饱满且立体的人格画像，他既是充满爱国情怀的学者，在信中和子女讨论国家大事，也是一位体贴的父亲，时常事无巨细，嘘寒问暖。对这段文字概括最准确的是（ ）。
- A. 书信因其特殊性会让人倾注更多情感
B. 互联网沟通和书信沟通当中的不同点
C. 书信需要人们为之付出较高时间成本
D. 梁启超先生的家书艺术造诣非常之高
51. 全世界现有的800万帕金森氏症患者当中有大约10%是因为遗传因素致病的，拳王阿里很可能就是其中之一。这类病人的几个常见特征，比如发病早，症状始终集中在身体的一侧，以及对治疗帕金森氏症的特效药左旋多巴的反应非常好等等，在阿里身上都具备。比如，阿里是在他42岁时被确诊的，另一位著名的帕金森氏症患者，美国演员迈克尔·福克斯，在他30岁那年就开始表现出帕金森氏症的某些早期症状了。相比之下，大部分帕金森氏症患者首次发病的时间都在60岁以后。下列说法与原文相符的是（ ）。
- A. 拳王阿里的帕金森氏症是由遗传因素造成的
B. 一部分帕金森氏症患者首次发病在60岁后
C. 帕金森氏病患者中超一成是因遗传因素致病
D. 帕金森氏症患者不能适应治疗该病的特效药
52. 对于高级时装行业，传统手工艺的失传是致命的威胁。高级时装赖以生存的根本，正是这些古老的工艺。高级时装的价值，除了设计师的设计，更多体现在凝聚着众人心血的手工艺上。高级时装屋与手工工坊之间的关系，好比鱼与水。以香奈儿为例，时装屋每年要推出6个高级成衣系列和2个高级订制系列，换言之，不到两个月，就要发布一个系列。而大多数工作，都是在系列周期最后两周完成的。如果没有足够的工匠参与制作，这些系列无以为继。这段文字的主旨是（ ）。
- A. 对于高级时装行业来说，传统手工艺至关重要
B. 只要拥有传统手工艺，时装行业就能独占鳌头
C. 香奈儿的成功源于传统手工艺和时装业的合作
D. 当前欧洲的传统手工艺行业大多面临失传困境

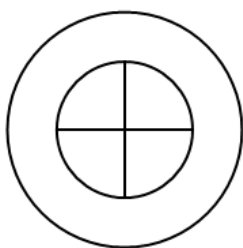
53. 看新闻，看到很有意思的一件事：80后夫妻睡一张床，恨不能头挨着头、脸擦着脸，却常在微信里互道晚安。媒体还报道了聚餐时大家各自玩手机的情况，身在桌边，心在天边。最后总结出一个病叫“现代交流症”。言下之意，手机把现实感情冲淡了。看到这儿您可能会皱起眉头：这怎么办？怎么纠正？我却想说：为什么一定要纠正呢？当手机变成吸引我们注意力的大磁铁，我们进入“生活在别处”状态，带来的一定是坏事吗？本质上说，这是新技术改变了信息传递方式，进而改变了人们交往、联系的方式，改变了社交路径。这段话意在说明（ ）。
- A. 媒体报道所体现出来的“现代交流症” B. 当下手机冲淡了人们之间脆弱的感情
C. 技术改变我们的生活方式本无可厚非 D. 手机造成我们“生活在别处”的状态
54. ①虽然西班牙的不同地区都有各自烹调食物的方法，但总有一些食材被全国各地的人们共同使用和热爱②导游教我们学会辨认橄榄油瓶子上的西班牙文标识，它的意思是“受到原产地名称制度保护”，这行字的上方是产地名称③比如橄榄油和腌橄榄④巴塞罗那所在的加泰罗尼亚自治区尽管不是最大的橄榄油产区，它的橄榄油却以质量高出名⑤这种制度是为了保证只有真正出产于某个区域的食物才可以用此区域之名销售。在菜市场，你会发现葡萄酒、奶酪、蜂蜜等很多农产品上都有这个标识。⑥西班牙是世界上最大的橄榄油出口国，60%的橄榄树种植在南部的安达卢西亚自治区将以上6个句子重新排列，语序正确的是（ ）。
- A. ⑤⑥①③④② B. ①③④⑥②⑤
C. ⑤①③⑥④② D. ①③⑥④②⑤
55. ①英殖民者帮助缅甸建立起宪法及法律体系，带来最新的工业革命技术、英式的生活方式，甚至是英国人所遵守与崇尚的意识形态和“阶级”观念②现在缅甸语中还大量保留着例如“某某大人”、“某某上校”等称谓③缅甸朋友轻声告诉我，他们是“大人”，要先走④一次由仰光飞往蒲甘的旅行，飞机落地后，坐在商务舱前排的我刚要起身，便被同行的缅甸朋友按住，示意要让后排的一群僧侣和两个官员模样的人先离座⑤在缅甸，僧侣、军人、政府官员、富商、贵族都是金字塔尖受人仰视的阶层，而老百姓们大都谨慎小心地生活着⑥多年的君主统治、殖民统治与军人执政，使得“层级观念”已经毫无保留地深入到缅甸人的思想深处将以上6个句子重新排列，语序正确的是（ ）。
- A. ①⑥②⑤④③ B. ⑥①②⑤④③
C. ④③⑤②⑥① D. ⑤⑥②①④③
56. 研究人员把一个突变了的人类SNCA基因转入猕猴的基因组，这个突变基因曾被认为和帕金森症有关，事实证明确实如此。这种转基因猕猴在1岁的时候便表现出典型的帕金森症状，无论是病情发展、行为模式还是病理解剖特征都和人类患者非常相似。这个消息引发了一些媒体的不安，声称此项实验有违动物伦理。但实际上，无论是从伦理角度还是实用角度看，这项实验都没有问题，只是一部分欧美的极端动物保护组织在抵制而已。
- 文段第三句中的“这”指的是（ ）。
- A. 通过证实可明确转基因猕猴和人类患者相似 B. 转基因猕猴1岁时表现出典型的帕金森症状
C. 突变基因SNCA有可能和帕金森症关系密切 D. 用猕猴做实验验证突变基因和帕金森症有关
57. 冰激凌由于类型不同，乳脂肪含量也不同，比起那些乳脂肪含量较高、味道浓厚、可以充分享受其香甜的香草、牛奶等口味的冰激凌，水果味的冰激凌热量相对来说比较低。只是，果子露冰激凌热量低是因为水分较高，从糖分来看，反而比味道浓厚的冰激凌更多。而且，若是制作中添加牛奶的冰激凌，钙的吸收率可达40%。所以_____。填入划横线处最恰当的一项是（ ）。
- A. 可以偶尔享受一下那些味道浓厚的冰激凌 B. 偶尔吃水果味儿冰激凌可能会对人体有害
C. 为了身体健康建议应该少吃或不吃冰激凌 D. 应少吃那些含糖量高的水果味儿的冰激凌

58. 给楼堂馆所和里弄街道甚至县市取洋名、怪名，大名，重名，有的是图眼前利益，以牺牲文化的代价换得短期的经济效益；有的想别出心裁博人眼球，有的是信手拈来图省事，但多少都有点缺乏文化自信甚至自我矮化。
这段文字的中心思想是（ ）。
- A. 不应该给我们自己的街道和县市取洋名、怪名
B. 取洋名、怪名可能是由于自身缺乏文化自信
C. 取洋名、怪名主要是通过博人眼球来吸引关注
D. 建立文化自信才能杜绝取洋名、怪名的现象
59. 有媒体梳理了时间漫长又牵扯复杂的“杏花村”之争：数十年来，天南地北有十多个地方都宣称自己才是正宗的杏花村，以山西汾阳、安徽池州、湖北麻城三地的竞争最为激烈。他们引经据典、创作歌曲，甚至对簿公堂。目前的状态是，法庭只解决了汾阳和池州两企业商标使用权问题，但文化概念的归属仍处在各自表述当中。诗句本身所带着的审美特性和历史意境，与眼前一地鸡毛的口水战形成了一种违和感，常常让评论者不适，并生出有辱斯文之叹。但其实在现代语境里，属于前现代的、纯粹的文化概念已经消失了，文化的资本化已经形成了一种运动，包括“杏花村”在内的一系列传统文化概念正在经历这个过程。文章接下来最可能讲述的是（ ）。
- A. “杏花村”之争
B. 传统文化概念的转变过程
C. 何为“文化资本化”
D. 传统的文化概念如何消失
60. 当下众多官员的腐败行为，大多与家教不严、家风不正有关。而一些居心不良者，往往也是从党员领导干部的家庭成员中打开缺口、拉其下水。因此，家风建设是党员领导干部的必修课。同时，家风建设也有助于推动党风廉政建设。“修身、齐家、治国、平天下”，中华民族历来讲究修身养性、家风传承和家国情怀的递进关系，修身齐家是基础，而正家风就是其中很重要的一环。家庭是人生的起点和归宿，家庭成员之间的特殊亲情和血缘往往可以构筑起强大的反腐败“家庭防线”。因此，党员领导干部搞好家风建设，对于加强党风廉政建设，变“不敢腐”为“不想腐”，有着不可忽视的积极作用。这段话主要强调的是（ ）。
- A. 当下官员的腐败行为大多与家教不严有关
B. 要积极有效地推动官员进行党风廉政建设
C. 家庭对于一名党员领导干部来说至关重要
D. 家风建设对于党风廉政建设有着积极作用





第三部分 数量关系

在这部分试题中，每道题呈现一段表述数字关系的文字，要求你迅速、准确地计算出答案。
请开始答题：

61. 甲、乙两个工程队完成一项工程，若甲单独做，则甲将超出规定时间12天完成工程；若乙单独做，则乙将超出规定时间2天完成工程；若甲、乙先合作3天，再由乙单独做，则恰好在规定时间完成。若甲、乙合作完成工程，共需要多少天？
A. 12天
B. 14天
C. 16天
D. 18天
62. 模考解析上，王老师带领学生进行一个趣味数学游戏：王老师将分别写有1-100的100张卡片放到盒子中，让班里的学生轮流到盒子中随机抽取若干张卡片并将卡片上的数字求和，然后将和的后两位写到一张新的卡片上放回盒中，经过若干轮游戏后，盒中只剩下一张卡片，这张卡片上的数字是：
()
A. 00
B. 50
C. 75
D. 99
63. 已知三角形三边长分别为8、100、X。若X为偶数，则满足要求的三角形有多少个？()
A. 7个
B. 9个
C. 14个
D. 无数个
64. 某市中心广场为喜迎国庆，用5种不同颜色的鲜花布置成如下图所示的圆形花坛，要求花坛中相邻区域种植鲜花不能为同一颜色，则该花坛共有多少种不同的布置方式？



- A. 240
B. 360
C. 420
D. 720
65. 小赵提前一年开始备战2016年11月的国家公务员考试，他在每月1号都会总结上个月的刷题情况并做记录。某天小赵翻看自己的刷题记录时，发现其中某两次做记录日期的星期数相同（譬如均为周一），则这次两次记录之间至少相隔几个月？()
A. 1
B. 3
C. 5
D. 7
66. 某单位要从9名职员中选派3人去总公司参加培训，其中甲和乙不能同时参加，并且甲和丙也不能同时参加。问共有多少种选派方法？()
A. 15
B. 56
C. 70
D. 71
67. 某单位评选2015年优秀员工，优秀员工占员工总数的比重为16%，优秀员工所占比重比上年下降了5个百分点，但实际当选人数确比上年多20人。则该单位2014年该单位优秀员工人数可能是()人。
A. 21
B. 42
C. 64
D. 84

68. 某公司租用仓库存放了2吨货物，每吨货物进价为10000元，仓库日租金为150元，计划60天售完全部货物。实际销售过程中，该公司降价促销，结果提前20天就将货物全部售出，反而比原计划多赚了1000元。问实际销售过程中每千克货物降低了多少元？
- A. 1元
B. 2元
C. 3元
D. 4元
69. 有一个泄水渠，渠中不断有洪水涌入，且每小时涌入的水量相同。现要把泄水渠里的水抽干，若用5台抽水机40小时可以抽完，若用10台抽水机15小时可以抽完，现在洪水突然加急，每小时涌入的水量变为原来的1.5倍，问如果要在10小时内把水抽完，至少需要多少台抽水机？（）
- A. 10
B. 20
C. 25
D. 15
70. 某市为了节约用电，决定收费实行超额超收，标准用电量以内每度为0.5元，超过标准的部分每度加收0.2元，某用户某月用电230度，交电费为125元，若该用户下个月交了104元，请问该用户该月用了多少度电？（）
- A. 192
B. 180
C. 200
D. 208
71. 某翻译社有90名翻译，其中会英语的有72人，会德语的有43人，会法语的有49人，三种语言都会的有31人，这三种语言都不懂的有6人。则只会其中两种语言的有多少人？（）
- A. 18
B. 19
C. 20
D. 21
72. 小钱晚上7点开始做作业，做某一道数学题时抬头看了一下表，发现此时时针和分针恰好成一条直线，做完后再看表发现时针与分针恰好重合，此时还不到8点。那么小明解这道数学题用了多长时间？（）
- A. 
B. 
C. 
D. 
73. 甲车于中午12点整出发从A地前往B地；乙车于下午2点整出发从B地前往A地。两车于下午4点5分相遇后，都继续往目的地行驶，最后他们都在相同的时刻抵达目的地。若两车的速度都未改变，请问他们在什么时刻抵达目的地？（）
- A. 18点
B. 19点
C. 19点35分
D. 20点
74. 30张卡片上不重复地写上1至30，请问至少要随意抽出多少张卡片才能保证所抽出卡片上的数相乘之后乘积可被3整除（）。
- A. 1
B. 11
C. 21
D. 30
75. 参加围棋比赛的八段、九段选手各有若干名，没有其它段位选手，他们的段位数字加在一起正好是100段，此次围棋比赛采用淘汰赛制，问分出冠亚军一共需要几场比赛？（）
- A. 8
B. 9
C. 10
D. 11

第四部分 判断推理

一、图形推理。请按每道题的答题要求作答。

请开始答题：

76. 从所给的四个选项中，选择最合适的一个填入问号处，使之呈现一定的规律性（ ）。



77. 从所给的四个选项中，选择最合适的一个填入问号处，使之呈现一定的规律性（ ）。







78. 从所给的四个选项中，选择最合适的一个填入问号处，使之呈现一定的规律性（ ）。

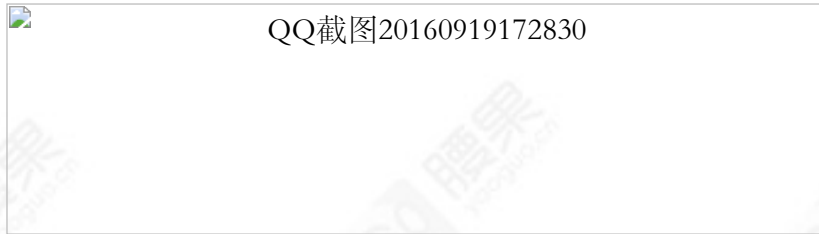


79. 从所给的四个选项中，选择最合适的一个填入问号处，使之呈现一定的规律性：



- A. 
- B. 
- C. 
- D. 

80. 下图给定的是纸盒的外表面，下面哪一项能由它折叠而成（ ）。




81. 把下面的六个图形分为两类，使每一类图形都有各自的共同特征或规律，分类正确的一项是（ ）。



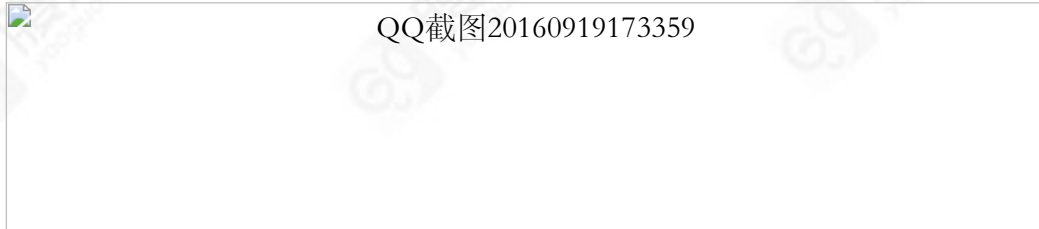
- A. ①②③, ④⑤⑥ B. ①⑤⑥, ②③④
C. ①③⑥, ②④⑤ D. ①④⑥, ②③⑤

82. 把下面的六个图形分为两类，使每一类图形都有各自的共同特征或规律，分类正确的一项是（ ）。



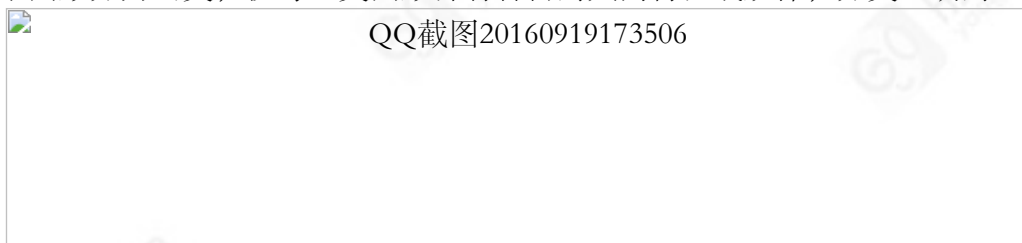
- A. ①②③, ④⑤⑥ B. ①③⑤, ②④⑥
C. ①②⑥, ③④⑤ D. ①③④, ②⑤⑥

83. 把下面的六个图形分为两类，使每一类图形都有各自的共同特征或规律，分类正确的一项是（ ）。



- A. ①②③, ④⑤⑥ B. ①③⑤, ②④⑥
C. ①②⑥, ③④⑤ D. ①⑤⑥, ②③④

84. 把下面的六个图形分为两类，使每一类图形都有各自的共同特征或规律，分类正确的一项是（ ）。



- A. ①②④, ③⑤⑥ B. ①③⑤, ②④⑥
C. ①②⑥, ③④⑤ D. ①③④, ②⑤⑥

85. 把下面的六个图形分为两类，使每一类图形都有各自的共同特征或规律，分类正确的一项是（ ）。



- A. ①②③, ④⑤⑥
B. ①②⑤, ③④⑥
C. ①②⑥, ③④⑤
D. ①③④, ②⑤⑥

二、定义判断。每道题先给出定义，然后列出四种情况，要求你严格依据定义，从中选出一个最符合或最不符合该定义的答案。注意：假设这个定义是正确的，不容置疑的。

请开始答题：

86. 低碳经济，是指在可持续发展理念指导下，通过技术创新、制度创新、产业转型、新能源开发等多种手段，尽可能地减少煤炭石油等高碳能源消耗，减少温室气体排放，达到经济社会发展与生态环境保护双赢的一种经济发展形态。下面哪项不符合低碳经济（ ）。

- A. 太阳能电池板的广泛应用
B. 海边风力发电机林立
C. 电动汽车发展前景广阔
D. 越野汽车市场销售升温

87. 组织行为，是指组织的个体、群体或组织本身从组织的角度出发，对内源性或外源性的刺激所作出的反应。任何组织里的组织行为都可以分为两大类：管理行为和业务行为。管理行为是一种影响和协调他人行为的行为，人们把由管理行为进行影响和协调的他人行为称为业务行为。下列不属于业务行为的是（ ）。

- A. 教师批改作业
B. 医生治疗疾病
C. 秘书处理信件
D. 厂长开会安排工作

88. 政治献金，是指对于从事竞选活动或其他政治相关活动的个人或团体，无偿提供的动产、不动产、不相当对价给付、债务免除或其他经济利益，但是上述政治献金不包含政党党费、政治团体会费或义工服务。下列属于政治献金的是（ ）。

- A. 某饮料公司为政党竞选提供免费饮料
B. 某甲将多年积蓄作为党费上交
C. 社员每人出十块钱作为社团活动的经费
D. 某政党党员为了竞选所做的志愿服务

89. 成长性企业，是指目前尚处在创业阶段，但由于自身的某些优势（如行业领先、技术垄断和管理高效等）而可能在将来迸发出潜力的、具有可持续发展能力、能得到高投资回报的创业企业。下列不属于成长性企业的是（ ）。

- A. 某新兴的软件工程企业
B. 刚刚在国内创业板上市的生物制药企业
C. 某老牌太阳能热水器企业
D. 刚成立的太阳能电池板生产公司

90. 法定代理指代理人的代理权是根据法律的直接规定而产生的一种代理关系。下面不属于法定代理的是（ ）。

- A. 未成年人的父母
B. 精神病人的配偶
C. 无民事行为能力人的监护人
D. 签订代理合同的代理人

91. 堡垒式营销是企业集中全部营销资源，综合运用各种营销手段在某一个目标市场上，实施稳扎稳打、步步为营的战术。企业在营销实践中，基于自身的资源与市场环境的约束，构建的有效的针对竞争对手的“竞争门槛”，以达到维护自身在市场中优势地位的营销活动。实施堡垒营销，可为企业开展有效的进攻性营销活动提供良好的营销基础。实施堡垒营销，可以稳定企业在目标市场中的现有地位，给企业的营销战略提供一个较为稳定的营销基础。下列不属于堡垒式营销的是（ ）。
- A. 宝洁公司的一种高档化妆品进军中国市场时，发现与当地化妆品不在一个档次上，而且只有上海、北京等少数市场上有销路，于是公司首先将上海市场作为重点，并把大量的广告费省下来用于专卖店和化妆品专柜的建设以及营业人员、导购员的培训，待上海这一个市场稳定以后，再用相同的办法去营建北京市场
- B. “珍品”酱油把企业的市场面集中到石家庄地区，将石家庄市场作为企业最终赢得国内外高档酱油市场的第一个据点，经过5年努力，“珍品”品牌终于走向全国，并在美国建立了生产基地
- C. 某企业为扩大产品影响，提高产品知名度，投入巨额广告费，在全国范围内进行宣传，取得了良好的效果
- D. 企业的这种营销方式是“把所有的鸡蛋装在一个篮子里”，承受的风险较大，一旦该地区市场的营销活动受阻，短期内企业的营销目标将彻底搁浅
92. 伪证罪是一种很古老的罪名，是指在刑事诉讼中，证人、鉴定人、记录人和翻译人对与案件有重要关系的情节，故意作虚假证明、鉴定、记录、翻译，意图陷害他人或者隐匿罪证的行为。下面各项不属于伪证罪的是（ ）。
- A. 案发时王某并不在现场，但是为了报复李某，他声称看到了李某作案
- B. 张某作为案件的翻译人，故意将有关证据进行错误翻译，以陷害王某
- C. 李某在庭审记录时，为了减轻王某的罪责，故意将王某的供述进行删改
- D. 王某慌称不是自己自愿杀人的，而是李某逼着自己杀害被害人的
93. 行政申诉是指消费者和经营者发生权益争议后，可以请求政府有关行政部门依行政程序解决争议。下面各项属于行政申诉的是（ ）。
- A. 张某因与村委会因有耕地承包矛盾，而向法院提起诉讼
- B. 李某买了一台电脑，因质量和商家发生争议，然后请求消费者协会予以解决
- C. 王某因自己的手机发生质量问题而与手机经销商发生纠纷，王某向市工商局求助
- D. 李某向省公安局反映自己被市公安局非法处罚，要求省公安局依照相关程序解决
94. 非法行医是指无医生执业资格从事诊疗活动，包括在医疗机构中从事诊疗活动和擅自开业从事诊疗活动。有医生执业资格而未取得开业执照行医的，不属于非法行医。下面属于非法行医的是（ ）。
- A. 小张出身于中医世家，虽然从没有考过相关职业资格，但是每天找他看病的人依然是络绎不绝
- B. 小王医学院没有毕业，虽然他考过了医师资格，但是人们对他还是不信任
- C. 老李虽然有医师资格，但是他申请的诊所的营业执照一直没有被批准
- D. 老赵是一家大医院的医生，为了挣外快，私自在外面开诊所
95. 风俗是特定社会文化区域内历代人们共同遵守的行为模式或规范。习惯上，人们往往将由自然条件的不同而造成的行为规范差异，称之为“风”；而将由社会文化的差异所造成的行为规则之不同，称之为“俗”。下面不可以称之为“风俗”的是（ ）。
- A. 端午节吃粽子
- B. 元宵节放花灯
- C. 清明节祭祖扫坟
- D. 情人节送玫瑰

三、类比推理。每道题先给出一组相关的词，要求你在备选答案中找出一组与之在逻辑关系上最为贴近，相似或匹配的词。

请开始答题：

96. 调查对于 () 相当于 () 对于问题
 A. 真相 剖析
 B. 研究 发现
 C. 数据 结论
 D. 活动 解决
97. 安居乐业: 颠沛流离
 A. 柳暗花明: 山穷水尽
 B. 胸有成竹: 稳操胜券
 C. 笑盈盈: 哭啼啼
 D. 是: 非
98. () 对于失之东隅, 相当于胜利对于 ()
 A. 失之毫厘: 谬以千里
 B. 失败: 收之桑榆
 C. 趋之若鹜: 安之若素
 D. 成功: 水到渠成
99. 否极泰来: 苦尽甘来
 A. 物极必反: 时来运转
 B. 塞翁失马: 焉知非福
 C. 左顾右盼: 东张西望
 D. 左右逢源: 左支右绌
100. 面试: 培训: 入职
 A. 小学: 中学: 大学
 B. 开机: 杀毒: 运行
 C. 挂号: 住院: 诊断
 D. 竞聘: 投票: 升职
101. 鱼缸: 玻璃: 鱼
 A. 双杠: 钢铁: 锻炼
 B. 茶杯: 陶瓷: 泡茶
 C. 书架: 木材: 书
 D. 塑料: 笔筒: 笔
102. 工人: 劳动者
 A. 熊猫: 竹子
 B. 爬行动物: 哺乳动物
 C. 枫叶: 枫树
 D. 人: 动物
103. 贱内: 令正
 A. 犬子: 令爱
 B. 高论: 高见
 C. 家父: 令堂
 D. 寒舍: 华夏
104. 起落架: 飞机
 A. 空调: 遥控器
 B. 发动机: 汽车
 C. 地球: 行星
 D. 仙鹤: 白鹭
105. 莫言: 《蛙》
 A. 鲁迅: 《南腔北调集》
 B. 卞之琳: 《断章》
 C. 陈忠实: 《白鹿原》
 D. 朱自清: 《子夜》

四、逻辑判断。每道题给出一段陈述, 这段陈述被假设是正确的, 不容置疑的。要求你根据这段陈述, 选择一个答案。注意: 正确的答案应与所给的陈述相符合, 不需要任何附加说明即可以从陈述中直接推出。

请开始答题:

106. 在现今社会上，常常出现“狼爸”、“虎妈”、“鹰爸”这样的教育方式。最近曾经轰动一时的“裸跑弟”多多又因独自一人驾驶飞机再次进入人们的视线，在采访多多的爸爸何烈胜时，他说：“所谓鹰式教育，就是老鹰教雏鹰飞翔的方法方式。当幼鹰长到足够大的时候，老鹰会狠心把它赶下山崖。当幼鹰往谷底下坠时，会拼命拍打翅膀阻止自己继续下坠，同时也掌握了基本的飞翔本领”。“鹰爸”就是利用了这样一种教育原理来培养多多，使多多成为外人眼中的“小天才”。因此，有越来越多的家长开始仿照“鹰爸”的方式来教育自家孩子，期望自家孩子也能成为“天才”。以下哪项如果为真，最能质疑家长们的做法（ ）。
- A. 不同家庭的孩子性格特征等方面各不同，多多的经历不能适用于所有孩子
 - B. 不能因为多多会开飞机，能裸跑等行为，就说多多是个“小天才”
 - C. 每对父母都希望自己的孩子能够成为天才，因此会效仿这种教育方式
 - D. 越来越多的人开始关注“鹰爸”，关注多多，好奇多多还能掌握多少本领
107. 某市在今年进行了一次就近入学调查，在一所学校门口的家长调查中，随机抽查了正在聊天的4名家长，4名家长描述如下：甲：我们4个人的孩子都是就近入学乙：丙和丁家至少有一家孩子是就近入学丙：我们4人中至少有一家孩子不是就近入学丁：我们家孩子是就近入学经过调查发现，这四个人中有两人说的真话，剩下两人说的是假话，则除了哪项都能确定真假（ ）。
- A. 说真话的是乙和丙
 - B. 丁家孩子是就近入学
 - C. 丙家孩子是就近入学
 - D. 甲家孩子是就近入学
108. 现代人吃东西越来越讲究，卡路里成了很多人尤其是减肥者最看重的食品标签。按照19世纪美国化学家威尔伯·阿特瓦特提出的公式，减肥者会根据每天消耗的卡路里总量来决定吃多少食物。但最新研究发现，有三大因素决定了来自不同食品的卡路里对于不同的人有着完全不同的效果，因此之前的计算方法可能并非准确。三大因素之一即人类的消化能力是不一样的。例如不同人的大肠长度不同消化能力也不同，研究人员发现俄罗斯某个族群的大肠长度比波兰某族群的平均值要长57厘米之多！大肠是营养吸收的重要器官，这个差异说明不同人群之间的消化能力存在着巨大差别。从这段文字可以推出（ ）。
- A. 俄罗斯的族群一定比波兰族群的消化能力强
 - B. 人类的消化能力不一样是导致原来计算公式不准确的主要原因
 - C. 励志减肥者不能完全依据每天消耗的卡路里总量决定吃多少食物
 - D. 大肠长度长的人更容易吸收肉类食物的营养
109. 在一项电视剧调查活动中，调查人员发现，有的年轻人喜欢时装剧，所有喜欢古装剧的人也都喜欢战争剧，并非有的喜欢时装剧的人喜欢战争剧。由此可以得出（ ）。
- A. 并非有的年轻人不喜欢时装剧
 - B. 有的年轻人喜欢战争剧
 - C. 有的年轻人不喜欢古装剧
 - D. 所有喜欢古装剧的人也喜欢时装剧
110. 最近，台湾研究人员对苹果、三星、htc、索尼等10款手机，分别在“停用上网功能，保留通话和短信功能，手机待机”、“开通上网功能”、“开通上网功能，并操作使用app程序line”的三种状态下监测手机的电磁波值，结果显示，在手机上网并操作程序line（台湾一款流行的手机程序）时，手机发出的最大的电磁波值是手机关闭上网功能时发出的电磁波的5-6万倍，其中一款手机在上网时产生的电磁波辐射的最高值达67548微瓦/平方米。但西安电子科技大学电子工程学院教授侯健强反对称：“这种说法是不靠谱的。”以下哪项如果为真，最能支持侯教授的说法（ ）。
- A. 研究人员发现在操作line程序时，某一款手机发出的最大电磁波值只是关闭上网功能时发出的十几倍
 - B. 测试环境中的电磁辐射是一件相对专业和复杂的工程，不能够只通过测试某一个点，某一个瞬间的数据就得出结论
 - C. 研究人员发现在接通电话时的手机发出的电磁波值要超过待机状态下的电磁波值
 - D. 台湾研究人员经过了大量实验和反复对比得出这一科学结论

111. 潇琪是某中学一名高二学生，周一到周五每天上8节课，上午4节，下午4节。上午4节全是主科，下午前2节是主科，后2节是自习。一天，有人问她周一课程是如何安排的，她说我一天要学6门主科，英语和政治在上午就上完了，上完语文之后再上两门才是我喜欢的历史，政治不是上午的最后一科，数学上完就是我讨厌的语文，地理不是下午第一科。如果上述陈述为真，则以下哪项一定为假（ ）。
- A. 英语是上午最后一门
B. 语文是上午第3门
C. 数学是上午第1门
D. 上完历史就是地理
112. 2013年7月末，第54届国际数学奥林匹克竞赛圆满结束，中国队以208分获得团体总分第一名，6名队员获得5枚金牌和1枚银牌。作为“奥数金字塔”的最顶层，奥数国家代表队无疑是众多家长关注的焦点。比如，如何才能学好奥数、什么样的孩子适合学奥数、奥数成绩如何转为“升学红利”……人们发现，能够成为奥数国家队一员的学生基本来自于北上广、武汉这些大城市，中小城市偶尔出现一两个天才。因此，很多人得出结论，大城市的教学水平明显高于那些中小城市。以下哪项如果为真，最能加强上述结论（ ）。
- A. 大城市在教育的硬件条件上要比中小城市高很多
B. 有很多优秀的教师都愿意去工资待遇较好的大城市工作
C. 在大城市中，有很多高校老师到中学去进行讲座，为中学的教育提供帮助
D. 出现奥数国家队成员能够在很大程度上说明该地区的教学水平高于其他地区
113. 当“郁闷”成为口头禅的时候，抑郁症也成为困扰人类的重大精神疾病。据世界卫生组织资料显示，全球病历记录抑郁症患者高达1.22亿，且仍在迅速增长，预计很快将超过冠心病，成为全球主要健康危害的第二大疾病。为了能够找到抑郁症的发病原因并进行有效治疗，科学家通过大量实验发现在抑郁症患者的大脑内，存在着很多抑郁症易感基因，这些基因通过改变人的脑部结构引发抑郁症。因此，我们可以说，正是因为人脑中有这么多抑郁症易感基因，才导致了抑郁症的出现。以下哪项如果为真，最能质疑上述结论（ ）。
- A. 外部环境也在一定程度上导致了抑郁症的出现
B. 抑郁症易感基因有很多种，不同种类的易感基因对于抑郁症起到了不同的作用
C. 只要采取措施治疗这些抑郁症易感基因，人类就可以摆脱抑郁症的困扰
D. 抑郁症在当今社会越来越常见，如何才能防治抑郁症的出现成为当今科学家研究的重要课题
114. 当今社会，有越来越多的人开始在其他城市生存、发展，因此就有了“本地人”和“外地人”两种叫法。人们把出生于所住地方土生土长的人叫做“本地人”，而将出生在一个城市、发展在另外城市的人叫做“外地人”。不同的地方有不同的语言习惯和语气腔调。很多人通过说话的方式和语调来判断对方是否是本地人。芝加哥大学的心理学家在某一城市做了一项有趣的实验，让两组人说同样一句话给路人听，这两组人中一组操着本地口音，另一组操着外地口音。结果操本地口音的人说出的话普遍被路人认同，而操外地口音的人说出的话却遭到了路人的质疑。因此，心理学家得出结论：外地口音会普遍降低人们的信任感。以下哪项如果为真，不能加强上述结论（ ）。
- A. 人们会有意无意地给外地口音的人贴上“外地人”的标签，感到陌生或不熟悉，因而产生戒备心理
B. 外地口音会影响人认知的流畅性，会增加其对信息处理和加工的难度，从而导致人们对这些外地口音者的信任感降低
C. 芝加哥大学心理学家进行的测试只是针对于某一座城市，而这一城市的现状不能代表所有城市
D. 除了芝加哥大学的心理学家之外，还有很多研究人员从其他角度对口音问题进行了实验，均得出这样的结论

115. 北京市A公司办公桌上都放有绿植，共有两种，或者是绿萝或者是富贵竹。如果上述断定为真，则以下哪项一定为真？ I . A公司办公桌上放的绿植，如果不是绿萝，那么一定是富贵竹 II . 如果某办公桌上没有绿萝，也没有富贵竹，那么这家公司一定不是A公司 III . 如果某办公桌上有一盆富贵竹，那么这家公司是A公司
- A. 只有 I
B. 只有 II
C. 只有 I 和 II
D. 只有 I 和 III

第五部分 资料分析

针对下列图、表或文字回答问题。你应根据资料提供的信息进行分析、比较、计算、处理。你可以在题本上运算。

请开始答题：

一、一、根据以下资料，回答116~120题。

2015年前三季度，某省战略性新兴产业增加值1821亿元，同比增长8.4%，增幅高于规模以上工业2.5个百分点。高新技术产业和装备制造业保持较快增长，增加值分别为1892亿元和2558亿元，分别增长8.9%和6.2%，增幅分别高于规模以上工业3和0.3个百分点，比重上升至24%和32.6%。

前三季度，第三产业增加值增长9.2%，拉动GDP增长4.1个百分点，增长贡献率达53%。该省企业实现网络零售1300亿元(含商品和服务销售)，同比约增长90%。限额以上交通、信息、商务、科技、文化、居民服务及其他等服务业企业营业收入增长11.9%，营业利润增长4.3%，利润增速比上半年回升1.5个百分点。中秋国庆黄金周接待游客3701万人次，实现旅游收入322.6亿元，同比分别增长24%和27.2%。

前三季度，服务业投资增长27.3%，金融、文化体育和娱乐、卫生和社会工作投资分别增长103.2%、95%和25.2%。

三季度末，该省有各类市场主体343.3万户，比上半年末净增10万户，其中，在册企业91.3万户，同比增长6.7%，其中私营企业76.7万户，增长8.2%；个体工商户246.8万户，增长8%；企业集团2180户，增长14.2%。

116. 2015年前三季度，该省规模以上工业增加值同比增长约 ()

- A. 2.5%
- B. 3.0%
- C. 5.9%
- D. 8.4%

117. 2014年前三季度，该省规模以上工业增加值约为 () 亿元。

- A. 7900
- B. 8100
- C. 7400
- D. 6600

118. 2015年前三季度，该省企业实现网络零售比去年同期增加了约()亿元。

- A. 521.3
- B. 615.8
- C. 650.1
- D. 1170.3

119. 2014年前三季度，中秋国庆黄金周该省接待游客的次均消费约为： ()

- A. 761元
- B. 988元
- C. 850元
- D. 1201元

120. 根据资料，以下说法正确的是 ()。

- A. 2015年上半年，该省限额以上交通、信息、商务、科技、文化、居民服务及其他等服务业企业营业利润同比增速超过3%
- B. 与2014年相比，2015年中秋国庆黄金周该省接待游客的次均消费略有下降
- C. 2015年前三季度，该省各类市场主体中在册企业所占比重同比上升
- D. 2014年三季度末，该省在册私营企业不足70万户

二、二、根据以下资料，回答121~125题。

2015年，Z省地区生产总值(GDP)42886亿元，同比增长6.8%。其中，第一产业增加值1833亿元，第二产业增加值19707亿元，第三产业增加值21347亿元，分别增长1.5%、5.4%和8.5%。

2015年，Z省信息经济核心产业增加值3310亿元，占GDP的7.7%，比重比上年提高0.6个百分点。

2015年，Z省人均GDP为77644元，增长6.6%。全员劳动生产率为11.5万元/人，比上年提高7.7%。



121. 2011-2015年，Z省生产总值同比增长最多的年份是：（ ）
- A. 2011年 B. 2012年
 C. 2013年 D. 2014年
122. 2015年，Z省批发零售业增加值占全省生产总值的比重约为：（ ）
- A. 18.8% B. 12.2%
 C. 24.4% D. 7.4%
123. 2015年，Z省信息经济核心产业增加值同比增长了：（ ）
- A. 16.1% B. 6.8%
 C. 4.1% D. 1.2%
124. 2015年，Z省总人口的同比增速约为：（ ）
- A. 0.2‰ B. 0.8‰
 C. 1.9‰ D. 6.6‰

125. 根据材料，以下说法中不正确的是：（ ）

- A. 2015年，金融业和房地产业增加值之和略高于批发和零售业
- B. 2015年，三大产业中，只有第三产业增加值占地区生产总值的比重有所上升
- C. 2014年，Z省全员劳动生产率不到10万元/人
- D. 2011-2015年，Z省地区生产总值同比增速均低于22%

三、三、根据以下资料，回答126~130题。



126. 2014年，我国钢材约实现（ ）。

- A. 贸易顺差3001亿元
- B. 贸易逆差3001亿元
- C. 贸易顺差3250亿元
- D. 贸易逆差3250亿元

127. 2015年，煤（包括褐煤）每万吨的平均出口单价的增长率为？（ ）

- A. -20.6%
- B. -22.2%
- C. 20.6%
- D. 22.2%

128. 2015年，钢材的进出口总额的增长率约为（ ）。

- A. -10.6%
- B. -12.3%
- C. -16.8%
- D. -19.2%

129. 2014年我国进口原油的数量约是进口成品油数量的多少倍（ ）。

- A. 12.3
- B. 11.2
- C. 10.3
- D. 6.9

130. 根据资料，以下说法正确的是（ ）。

- A. 2014年，我国出口鞋类超过500万吨
- B. 2015年，我国每万吨纸浆的平均进口单价高于上一年
- C. 2015年，我国进口铁矿砂及其精矿是表格中主要商品进口中增长数量最多的
- D. 2015年，我国出口集装箱数量减少了约30万个

四、四、根据以下资料，回答131~135题。

2015年10月份，某市地方财政收入为381.97亿元，同比下降7.7%，降幅比去年同期收窄1.3个百分点。1-10月，地方财政收入为4103.71亿元，比去年同期增长10.9%。地方财政支出225.04亿元，比去年同月下降17.1%，降速比上月提高8.8个百分点。其中医疗卫生与计划生育支出13.28亿元，下降29.3%。1-10月，地方财政支出3304.98亿元，比去年同期增长7.5%。



131. 2013年10月，该市地方财政收入约为：
- A. 327.3亿元 B. 413.8亿元
C. 454.8亿元 D. 507.9亿元
132. 2015年，表格中各税种收入1-9月同比增速低于10月的有：（ ）
- A. 仅个人所得税 B. 增值税和营业税
C. 仅契税 D. 契税和个人所得税
133. 2015年1—9月，以下四项税收在地方财政收入中占比最高的是：（ ）
- A. 增值税 B. 营业税
C. 企业所得税 D. 个人所得税
134. 2015年10月，以下四项税收占地方财政收入的比重同比下降的是：（ ）
- A. 增值税 B. 企业所得税
C. 营业税 D. 个人所得税
135. 根据资料，以下说法正确的是（ ）。
- A. 2014年10月，该市地方财政支出不足200亿元
B. 2015年10月，该市医疗卫生与计划生育支出同比减少了约4亿元
C. 2015年10月，该市增值税收入高于1—9月的平均值
D. 2015年1—10月，与营业税相比该市增值税收入同比增长更多