





第一部分 常识判断

根据题目要求，在四个选项中选出一个最恰当的答案。

请开始答题：

- 京沪铁路没有经过下列哪一名胜所在省份？（ ）
A. 景德镇古窑民俗博览区
B. 蓬莱阁风景区
C. 承德避暑山庄
D. 黄山风景区
- “四个全面”是新一届党的领导集体治国理政的战略布局。下列与“四个全面”有关的说法正确的是（ ）。
A. 党的十八大通过了《中共中央关于全面深化改革若干重大问题的决定》
B. 十八届三中全会通过了《中共中央关于全面推进依法治国若干重大问题的决定》
C. 十八届四中全会提出了“全面建成小康社会”的战略目标
D. 习近平总书记在江苏调研时将“从严治党”首次提升到“全面从严”的高度
- 根据生产要素在各产业中的相对密集度，可以将产业划分为不同类型。下列对应错误的是（ ）。
A. 土地密集型产业——畜牧业、采掘业
B. 劳动密集型产业——钢铁业、化工业
C. 技术密集型产业——微电子工业、现代制药业
D. 资本密集型产业——重型机械工业、电力工业
- 下列说法错误的是（ ）。
A. 成语“南橘北枳”是与晏婴出使楚国有关
B. 苏武牧羊的地点在今天的贝加尔湖一带
C. 东汉使者班超同时也是《汉书》的作者
D. 西汉张骞与唐代鉴真出行的方向不同
- 《人民日报》评论指出：“一个人挥舞胳膊的自由止于别人鼻子的地方。”下列可以代替该评论的名言是（ ）。
A. 哪里没有法律，哪里就没有自由
B. 法典就是人民自由的圣经
C. 法律是自由的保姆
D. 自由只服从法律
- 我国古代文人在诗词中常运用典故表达自己的思想感受，下列作品中没有使用典故的是（ ）。
A. 桃花潭水深千尺，不及汪伦送我情
B. 蓬山此去无多路，青鸟殷勤为探看
C. 为报倾城随太守，亲射虎，看孙郎
D. 东篱把酒黄昏后，有暗香盈袖
- 对下列道路交通标志解释不正确的是（ ）。
A. 注意儿童 
B. 注意行人 
C. 前方有施工 
D. “徒步”旅游区 
- 关于中药，下列归类正确的是（ ）。
A. 辛味药：连翘、杏仁
B. 甘味药：当归、人参
C. 酸味药：陈皮、黄连
D. 苦味药：黄柏、乌梅

18. 关于气象，下列说法正确的是（ ）。
- A. 沙尘暴发源于蒙古高原
 - B. 厄尔尼诺现象是由温室气体增多引发的
 - C. 飓风指的是在大西洋上生成的热带气旋
 - D. 美国西海岸有暖流、东海岸有寒流通过
19. 下列不属于我国三大石窟的是（ ）。
- A. 龙门石窟
 - B. 麦积山石窟
 - C. 云冈石窟
 - D. 敦煌莫高窟
20. 作为世界上人口最多的国家，我国必须立足自身解决粮食安全问题，要牢牢把饭碗端在自己手里。要保障我国粮食安全，下列哪项行为最有效（ ）。
- A. 提高农民种粮收益
 - B. 全面推行“光盘行动”
 - C. 改造中低产田
 - D. 培训农民科学种田

第二部分 言语理解与表达

本部分包括表达与理解两方面的内容。请根据题目要求，在四个选项中选出一个最恰当的答案。

请开始答题：

21. 当企业的业务都实现计算机化后，那些从事计算机业务的企业却遭遇了_____。如果需要计算机化的业务流程没有增加，顾客对性能没有特别需求，他们就无法继续_____自己的产品。所以，所有与计算机相关的企业，都必须为已经得到满足的顾客们提供一个购买他们更新技术的_____。
- 依次填入划横线部分最恰当的一项是（ ）。
- A. 瓶颈 销售 理由
B. 阻碍 生产 方法
C. 困境 改进 渠道
D. 障碍 推广 优惠
22. 无论是古代的邮驿系统还是现代的邮政系统，书信从寄信人到收信人手中，都需要经过一个时间、空间的旅行，它的特点是慢。而这种慢又_____了人们的情感体验方式和书信体验方式。正是因为书信的_____，古人的时空感知才变得遥远而漫长，而等待、盼望、忐忑、焦虑等，便成为这种时空观的产物。
- 依次填入划横线部分最恰当的一项是（ ）。
- A. 成就 真实
B. 培养 细腻
C. 塑造 迟缓
D. 丰富 浪漫
23. 经济全球化促使世界主要国家实力对比关系发生深刻变化，出现强与弱、盛与衰的实力转换，国际角色与位序的_____，最终会导致国际社会中的权力分配结构产生调整。同时，彼此间的机制化、制度化、常态化的_____与相互协调已经成为处理国家间关系、解决国家间经济利益矛盾的主要方式。
- 依次填入划横线部分最恰当的一项是（ ）。
- A. 善变 对话
B. 演变 商榷
C. 嬗变 磋商
D. 变迁 协商
24. 成功摘掉“雾都”帽子的伦敦，是许多人心目中治理空气知耻而后勇的_____。但60年代，伦敦的境况并不乐观，空气难达标，欧盟屡警告，这似乎也昭示着空气治理从来不是_____的事情，也提醒着我国治理之路的漫长。
- 依次填入划横线部分最恰当的一项是（ ）。
- A. 标志 易如反掌
B. 象征 按图索骥
C. 榜样 闭门造车
D. 典范 一劳永逸
25. 金融市场是一个信息的市场，金融市场的信息不对称是_____金融机构道德风险行为的主要原因，而金融自由化和金融创新_____了市场的信息不对称，也激发了金融机构更多也更为_____的道德风险行为。
- 依次填入划横线部分最恰当的一项是（ ）。
- A. 引发 加剧 隐蔽
B. 诱发 凸显 严重
C. 构成 加快 频繁
D. 导致 强化 直接
26. 生活中，每一秒都有无数种可能，任何瞬间一旦错过，就不会再重演，然而只有那些能够向我们_____足够有力信息和情绪的决定性瞬间才有记录的价值和意义。为了这样的瞬间摄影师需要付出很多，比如洞察这种瞬间的感知力，等待这种瞬间的_____和捕捉这种瞬间的_____。
- 依次填入划横线部分最恰当的一项是（ ）。
- A. 传递 耐心 技巧
B. 展示 信心 素质
C. 表达 决心 能力
D. 获取 恒心 灵感

27. 一个国家的发展道路合不合适，只有这个国家的人民才最有发言权。我们主张，各国和各国人民应该共同享受发展成果。世界长期发展不可能建立在一批国家越来越富裕而另一批国家却长期贫穷落后的基础上。只有各国共同发展的世界才能更好发展，那种_____、转嫁危机_____的做法，既不_____也难持久。
- 依次填入横线部分最恰当的一项是（ ）。
- A. 嫁祸于人 害人害己 可能
B. 兄弟阋墙 损人利己 团结
C. 以邻为壑 害人害己 安全
D. 以邻为壑 损人利己 道德
28. 看起来生活好像总是如此的不公平。但即便是这样，没有谁因此占了谁的便宜，每一个人都感觉自己是不公平的受难者。也就是说，刻薄的世界_____，厚待的人生_____。
- 填入横线处最恰当的一组是（ ）。
- A. 屈指可数 指日可待
B. 广阔无垠 回头是岸
C. 比比皆是 遥遥无期
D. 寥寥无几 遥不可及
29. 人世间的美好梦想，只有通过诚实劳动才能实现；发展中的各种难题，只有通过诚实劳动才能_____；生命里的一切辉煌，只有通过诚实劳动才能铸就。必须牢固树立劳动最光荣、劳动最崇高、劳动最伟大、劳动最美丽的观念，崇尚劳动，造福劳动者，让全体人民进一步焕发劳动热情、_____创造潜能，通过劳动创造更加美好的生活。
- 填入划横线部分最恰当的一项是（ ）。
- A. 破解 释放
B. 完成 激发
C. 化解 开发
D. 解决 发挥
30. 自文艺复兴以来，特别是第一次世界大战期间，因为民族主义和阶级斗争等意识形态作祟产生了一系列伤亡惨重的战争。其中，许多的知识分子起到了_____的作用，他们或打扮成青年导师和精神领袖，_____种族差异、民族至上和阶级对立，或投笔从戎，直接参与战争。对这一现象，哲学家班达不以为然，认为知识分子假借种族主义、民族主义和阶级斗争_____了知识分子的价值理想。
- 填入划横线部分最恰当的一项是（ ）。
- A. 助纣为虐 膜拜 击碎
B. 中流砥柱 批判 展现
C. 推波助澜 鼓吹 背叛
D. 力挽狂澜 抨击 彰显
31. 领导人下台只是欧债危机的一个后果，并非医治危机的良药，欧洲依然在艰难_____，并试图寻求外界的援助，但是大西洋对岸的美国盟友已经_____，唯一有实力施以援手的是欧亚大陆另一端的中国。
- 填入划横线部分最恰当的一项是（ ）。
- A. 挣扎 形影相吊
B. 踟蹰 焦头烂额
C. 突围 自顾不暇
D. 徘徊 分身乏术
32. 在碳纳米管的研究问题上，当国外把主攻方向放在小直径时，我国科学家却_____，瞄准了超长纳米管的合成。
- 填入划横线部分最恰当的一项是（ ）。
- A. 独辟蹊径
B. 离经叛道
C. 标新立异
D. 推陈出新
33. 从法官的精英化到法官的专业化，无不_____着人们对法官资格和法官职位的憧憬和理想，当前，应当建立以职业品德、专业知识、实践经验三位一体的法官培养_____标准。
- 依次填入划横线处最恰当的一项是（ ）。
- A. 承载 遴选
B. 寄托 挑选
C. 肩负 选取
D. 承担 入选

34. 质疑和否定是人类文化最积极活泼的精神，它不断触发新生力量去打破_____平衡，建立新平衡，从自然、社会、群体到个人，从宏观世界到微观世界，轮回更替，_____，每一种存在形态，都是对旧秩序的反抗否定，从而形成的一种崭新的相对平衡。
依次填入划横线处最恰当的一项是（ ）。
- A. 传统 代代相继
B. 原有 滚滚而来
C. 既有 生生不息
D. 古老 绵绵不断
35. 2012年虽然出口增速下降的速度高于投资，但是由于投资对GDP贡献率远高于出口对GDP的贡献率，所以投资增速下降对经济增长速度的影响最大，而_____的就是与其紧密相关的钢铁、水泥、平板玻璃、大型机电设备制造等行业。
填入划横线部分最恰当的一项是（ ）。
- A. 一马当先
B. 四面受敌
C. 毋庸置疑
D. 首当其冲
36. 作为中国“情人节”，七夕节逐渐丧失了传统味道，被赋予了“洋”内涵。七夕节遭遇“洋解读”，是传统节日内涵流失的缩影。显然，全球化在增强各民族对话和交流能力，促进文化融合的同时，也在不断_____着民族文化的领地，文化的_____正遭受前所未有的威胁。
填入划横线部分最恰当的一项是（ ）。
- A. 剥蚀 复杂性
B. 侵扰 开放性
C. 侵扰 包容性
D. 侵蚀 多样性
37. 我们需要以开放包容的心态“美人之美”，善于发现和吸收外来文化的精华，不_____；需要以文化自觉的主体意识“各美其美”，坚守和弘扬优秀中华文化传统，不_____、盲目崇外。
依次填入划横线部分最恰当的一项是（ ）。
- A. 目空一切 自暴自弃
B. 妄自尊大 妄自菲薄
C. 唯我独尊 自惭形秽
D. 自高自大 自轻自贱
38. 在行业的发展过程中，行业协会起着_____的作用。它既可以跟消费者对话，也可以跟政府对话，制定行业规则，清除行业当中的_____，还可以在行业出现危机的时候，救助行业。
依次填入划横线部分最恰当的一项是（ ）。
- A. 举重若轻 跳梁小丑
B. 举不胜举 残渣余孽
C. 举足轻重 害群之马
D. 不可或缺 狐鼠之徒
39. 其实“拥有秘密”是成年的一个_____，孩子要长大成人，必然要进入一个拥有秘密的世界。这是一个_____的过程，最初，孩子并没分清哪些是秘密，不知道如何保守秘密、不懂得给秘密分级，但是他们又极为渴望拥有秘密。于是，他们的生活变得_____，好像每个人都守着很多不能告诉别人的秘密。
依次填入划横线部分最恰当的一项是（ ）。
- A. 标志 学习 神秘兮兮
B. 界线 成长 神秘莫测
C. 特征 积累 莫测高深
D. 象征 变化 深不可测
40. 18世纪以后，由科学革命、工业革命和政治革命构成的_____反应给予欧洲资本主义以不可阻挡的_____，至1914年，欧洲列强在世界大部分地区建立的霸权，深刻地影响着殖民地和半殖民地社会的经济生活和社会结构。而欧洲之所以能够实现这种前所未有的_____，是因为其现代化进程一直在继续和加速。
依次填入划横线部分最恰当的一项是（ ）。
- A. 连串 生命力 发展
B. 连锁 推动力 扩张
C. 系列 助推力 拓展
D. 连续 催化剂 扩展

41. 1994年到1997年4年时间，财政收入占GDP的比重仅10%多一点，到2011年接近22%，如果考虑到土地出让和其他政府基金性收入，有专家估计政府收入占GDP的比重超过30%。而同期，企业或者是资本收入占比也大幅度提高。一个佐证是，2002年底，企业存款为64298.47亿元，低于当时的个人存款，而到2011年底，企业存款(央行新的统计科目为“单位存款”，口径相当)上升到423086.61亿元，增长了5.58倍，远超同期个人存款2.68倍的增幅。
通过这段文字，作者想表达的观点是（ ）。
- A. 收入越来越向政府和资本倾斜
B. 政府应适当降低税收
C. 我国经济增长的速度较快
D. 政府收入过高会成为企业的负担
42. 2010年10月，国家广电总局电影局副局长毛羽公开表示：“虽然截至目前电影票房已经完成80亿元，然而观影人数同比并无增加，票房提高主要依赖于票价提升。”这就解释了为何影院越来越多，看电影却越来越贵的疑问。可以看出的是，中国电影_____。
填入划横线部分最恰当的一句是（ ）。
- A. 票价高的主要原因还是电影业发展不足
B. 高票房的成绩并不能掩盖其发展过程中存在的许多问题
C. 在无限风光的背后，暗藏的是一点冲动和一丝乱象
D. 与其说创造了“票房奇迹”，不如说创造了“票价奇迹”。
43. 里尔克说，灵魂没有宇宙，雨水就会落在心上。如果一个人的灵魂不够辽阔，就常常会觉得处处与奸邪之人狭路相逢。因为越是在狭窄的空间里，丑恶越容易被放大。而当你的心灵盛下世界，那么，即便是偶见有的阴风浊浪，在阔大的视野里，也不过是沧海一粟。
以上文字试图说明（ ）。
- A. 灵魂和宇宙的关系
B. 狭隘与丑恶的关系
C. 为人应该心胸宽广
D. 为人应该胸怀天下
44. 芭蕾，在中国若从清末在宫廷里表演算起，已经一个多世纪；如果从俄罗斯人上个世纪20年代在上海开始教授也将近百年。芭蕾舞与中国传统审美确实存在很大距离，然而中国人却能顺利接受，百年来从未间断。即便在“文革”那样的岁月，芭蕾舞仍然畅行于舞台，担负起“样板”的重任。芭蕾舞，曾经是欧洲宫廷欣赏的文化，进入我国却实现了中国化，一批批中国选手登上国际赛场的领奖台。
这段文字叙述的主要是（ ）。
- A. 在中国芭蕾舞也有着悠久的历史传统
B. 芭蕾舞以其独特的魅力在中国生根开花
C. 中国人对芭蕾舞始终保持着开放的态度和持续的热情
D. 芭蕾舞成为一个外来文化在中国大地生根开花的奇迹
45. 一种经济理论或者经济模型是对经济现象的某些方面的描述，它要比其描述的现实简单。理论要舍弃不重要的东西。至于什么重要，什么不重要，取决于经济学家的假设，假设不同，提出的理论也不一样。经济学家们对同一现象往往有很多的理论解释，主要就是因为强调的东西常常不一样。因此，理论就不等同于真理，可以争辩，可以错，也可以被推翻。
这段文字意在说明（ ）。
- A. 如何发展经济理论
B. 经济理论的内在本质
C. 经济理论的主要功能
D. 如何看待经济理论

46. 每天面对繁忙的交通，我们总觉得它是无序的。一旦拨云见日，会发现在这“混乱”之下依然存在着群体协作：每一辆车都有其目标，每一个驾驶员都努力避免交通事故，这是个体行为；在路上行驶时，汽车首尾相接，车距狭小但并不碰撞，车距加大时就加速，车距小时就减速，这就是群体协作。如果拒绝协作，马路将会成为废铜烂铁的堆积地。有趣的是，这主要并不是交警指挥的结果，而是每一位驾驶员追求自身目标后的无意结果。
这段文字意在强调（ ）。
- A. 个体行为是群体协作的基础
B. 个体行为与群体协作并不矛盾
C. 群体协作是人类社会生活中非常重要的因素
D. 群体协作是个体实现目标时自然体现的结果
47. 天文探索是为了揭示宇宙的奥秘，而占星术则忙于为某个具体的人卜算吉凶；化学揭示了水是由分子构成的，而厂商炮制出的所谓“小分子水”的概念，则成为了典型的商业骗局；在苏联时代，经不起严格推敲的“李森科遗传学”之所以能红极一时，正是“李森科试图消除学术竞争对手”与“苏联当局试图以科学证明意识形态的胜利”二者一拍即合的结果，而并不是它本身正确得无以复加。
这段文字意在说明伪科学（ ）。
- A. 会对科学发展有消极或负面的影响
B. 经不起科学所必须接受的严格检验
C. 披着科学的外表示人，非常有蒙蔽性
D. 带有功利性，其传播是有特殊目的的
48. 在现实中的卢浮宫，你需要在蒙娜丽莎的外围等上数十分钟，才能凑近那发黄的小画看上片刻。虚拟博物馆此时就可以发挥效用：攒动的人潮没有了，距离没有了，推到眼前的只有高度还原的展厅景观和70亿像素无限细腻的细节和质感。而博物馆虽然有丰富的馆藏和长期列展，但因为空间有限，并不会将所有作品同时展示在展厅里，但在数字展厅，那些难得一见的艺术品你都可以随时观览。
这段文字主要介绍了（ ）。
- A. 数字博物馆的优势
B. 博物馆的未来发展方向
C. 传统博物馆的技术局限
D. 建设数字博物馆的重要性
49. 在目前地球上所有的生命中，人类已经不是传统意义上食物链上的成员，而是在制造甚至控制着食物链，并对其周围的自然生态系统施加前所未有的影响。原子武器、转基因技术的滥用足以使我们赖以生存的地球生命系统毁灭。追求享乐的消费模式所制造的垃圾将覆盖这个星球，并提前透支了子孙后代的地下资源、空间资源甚至太空资源。日益升温的地球已为人类引以自豪的技术文明敲响了警钟。
这段文字意在说明（ ）。
- A. 地球升温与人类活动有关，必须引起重视
B. 人类在发展技术的同时，必须注重可持续发展
C. 人类对自然进行着前所未有的破坏，必然深受其害
D. 技术进步改变了人类的生活方式，造成了严重的后果
50. ①这些霜花团团簇簇的，很有点花园的气象
②一旦太阳从山峦中升起来，印着霜花的玻璃窗就像魔镜一样，散发出奇诡的光辉
③早晨，迎接我的是一夜寒流和冷月，以及凝结在玻璃窗上的霜花
④这天的霜花不似往日的，总是呈树的形态
⑤想必霜花也知道立春了吧
⑥你能从中看出喇叭形的百合花来，也能看出重瓣的玫瑰和单瓣的矢车菊来
将以上6个句子重新排列，语序正确的是（ ）。
- A. ⑤③④⑥②①
B. ③⑤④①⑥②
C. ⑤④③⑥①②
D. ③④⑤②①⑥

55. 政府的信息发布在定位上应当有所不同，重在体现政务微博的“公共性”。“卷心菜”事件中，“上海发布”的“公共性”体现为善意搭建城市供应与需求之间的关联：要让一个特大城市巨量的市民得到稳定的日常供应保障，不容易；而要让供应市民的蔬菜种植者，在“看天吃饭”生产状态还无法改变的情况下，利益得到保障，从而维持种菜积极性和稳定性，更不容易——_____，而不是仅仅关心吃菜市民的便宜、方便，正是“卷心菜”信息发布时的公共定位。
填入划横线部分最恰当的一句是（ ）。
- A. 切实维护好广大种菜农民的利益
B. 同时着眼生产和消费两方面
C. 建立起吃菜市民和种菜农民的情感关联
D. 全面考虑“卷心菜”信息发布的作用
56. 民族文化要有根基，精神文明的传承要有载体，而城市正是其集大成者，放眼世界，历史文化名城和现代国际大都市，座座堪称文化艺术宫殿、建筑博物馆，从民主城邦雅典到人文之城威尼斯，从时尚之都巴黎到音乐之城维也纳，独特的文化精神令城市历经千年，依然灿烂。
文章接下来最可能讲（ ）。
- A. 各具文化特色的世界名城
B. 要用文化精神来涵养和提升城市品位
C. 城市建设和发展要彰显特色和魅力
D. 民族文化是如何传承的
57. 当前，劳动密集型产业从沿海地区向中西部转移，说明劳动力成本因素起的作用越来越大，配套性和规模经济所起的作用相对变小。虽然中西部地区暂时还没有这种产业配套的聚焦效应，但国内的中部省份和沿海地区，往往只有一河一山之隔，所以配套中心在国内范围的转移，比起向其他国家转移的可能性高得多，效率也高得多。
下面列举的中西部所具有的优势在文段中没有涉及的一项是（ ）。
- A. 土地价格相对便宜
B. 工资水平较沿海低
C. 劳动力相当丰富
D. 与沿海地区距离不遥远
58. 美感有时类似于灵感，只有在特定状况下才能产生。当公式的推导终于成功，或是忽然看懂一种繁难的理论，那一刻的强烈感受不仅难以重现，也是不可转述的。晚唐的贾岛是有名的苦吟诗人，他和韩愈共同推敲“僧敲月下门”之句并结为忘年之交之事自古传为佳话。然而他还有两句诗更是苦吟了数年——“独行潭底影，数息树边身”，对于这两句诗他自称：“二句三年得，一吟双泪流。知音如不赏，归卧故山秋。”然而后世却有人认为此句稀松平常，“有何难吟”。这里自然也有文化底蕴的差别，但美感之难以传递也是极重要的原因，是以诗人自己也说“知音”方才能赏。
文中举贾岛的例子是为了说明（ ）。
- A. 欣赏诗词要有足够的文化底蕴
B. 美感很难向他人传递
C. 写诗就是在寻找灵感、创造美感
D. 世上知音难觅
59. 家是什么，对中国人来说，家曾经是堂前萱草、围炉夜话，是严父庭训，是慈母灯下缝纫寒衣……家是至真至美至善的所在，是每一个孩子人生最温暖的起点。但是现在很多年轻父母忙着在电脑上、手机上刷屏发言，“晒”各种照片，忙各类点赞时，却忽略了声称“最爱的”孩子内心的孤独空寂。孩子和父母虽处一室却常无交流，很多父母虽然每天都在孩子身边，却因为各种原因没有实现真正的父母陪伴。这种现象被专家称为“隐性失陪”。
对这段文字概括最恰当的是（ ）。
- A. 微时代的“失陪”隐忧
B. 父母对孩子教育的缺失
C. 微时代改变了陪伴方式
D. 家长应参与孩子的成长

60. 使市场在资源配置中起决定性作用，绝不是说市场是万能的，可以把一切交给市场；更不是认为政府对市场可以撒手不管。更好发挥政府作用，一方面是要解决政府越位，即对市场干预过多和干预不当问题；另一方面是要解决政府缺位，政府要把该做的事做好，把该管的事管好。政府“有形的手”有效配合市场“无形的手”发挥作用，才能保证市场经济健康发展。

对这段文字的主旨理解最准确的是（ ）。

- A. 政府要把该管的事管牢管好
- B. 要正确处理政府与市场的关系
- C. 市场在资源配置中具有天然优势
- D. 政府的监管是对市场失灵的矫正

第三部分 数量关系

在这部分试题中，每道题呈现一段表述数字关系的文字，要求你迅速、准确地计算出答案。
请开始答题：

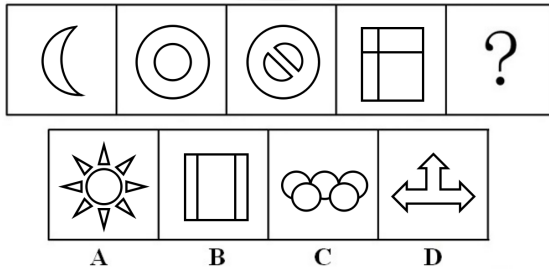
61. 20人乘飞机从甲市前往乙市，总费用为27000元。每张机票的全价票单价为2000元，除全价票之外，该班飞机还有九折票和五折票两种选择。每位旅客的机票总费用除机票价格之外，还包括170元的税费。则购买九折票的乘客与购买全价票的乘客人数相比（ ）。
- A. 两者一样多
B. 买九折票的多1人
C. 买全价票的多2人
D. 买九折票的多4人
62. 小李的弟弟比小李小2岁，小王的哥哥比小王大2岁、比小李大5岁。1994年，小李的弟弟和小王的年龄之和为15。问2014年小李与小王的年龄分别为多少岁？（ ）
- A. 25, 32
B. 27, 30
C. 30, 27
D. 32, 25
63. 某夫妻要在假期带小孩外出旅游。当地有甲、乙两家旅行社，旅游定价都一样，但对家庭旅游都有优惠。甲旅行社表示小孩可打六折；乙旅行社表示全家可打八五折。经核算，乙旅行社要便宜100元，那么成人旅游定价是多少？（ ）
- A. 1000元
B. 1500元
C. 1800元
D. 2000元
64. 王明抄写一份报告，如果每分钟抄写30个字，则用若干小时可以抄完。当抄完 $\frac{2}{5}$ 时，将工作效率提高40%，结果比原计划提前半小时完成。问这份报告共有多少字？（ ）
- A. 6025
B. 7200
C. 7250
D. 5250
65. 速算比赛，小李全对的概率为95%，小杨全对的概率为92%，问这次比赛两人中只有一个人全对的概率为：（ ）。
- A. 0.046
B. 0.076
C. 0.122
D. 0.874
66. 某公交车停车场内停着10辆公交车，上午7点整有一辆公交车进入停车场，同时有一辆公交车离开停车场，以后每隔12分钟都有一辆公交车驶入停车场，每隔10分钟有一辆公交车离开停车场，则到当天下午什么时候停车场里的公交车全都开出？（ ）
- A. 4: 30
B. 4: 50
C. 5: 00
D. 4: 10
67. 小区内空着一排相邻的8个车位，现有4辆车随机停进车位，恰好没有连续空位的停车方式共有多少种？（ ）
- A. 48
B. 120
C. 360
D. 1440
68. 有一部96集的电视纪录片从星期三开始在电视台播出。正常情况下，星期二到星期五每天播出1集，星期六、星期天每天播出2集，星期一停播。播完35集后，由于电视台要连续3天播出专题报道，该纪录片暂时停播，待专题报道结束后继续按常规播放。那么该纪录片最后一集将在（ ）播出。
- A. 星期二
B. 星期五
C. 星期六
D. 星期日

第四部分 判断推理


一、图形推理。请按每道题的答题要求作答。

请开始答题：

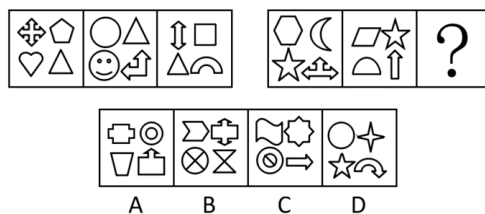
76. 每道题包含问题图形和可供选择的四个图形。请选出最合适的一项（ ）。




77. 从所给的四个选项中，选择最适合的一项填入问号处，使之呈现一定的规律性（ ）。



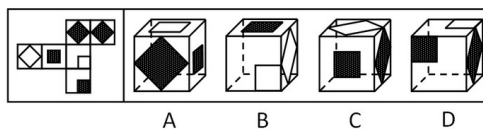
78. 从所给的四个选项中，选择最合适的一个填入问号处，使之呈现一定的规律性（ ）。



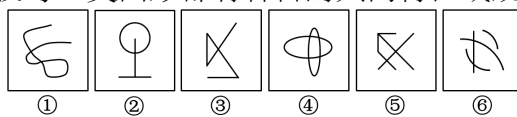
79. 从所给的四个选项中，选择最合适的一个填入问号处，使之呈现一定的规律性（ ）。



80. 左边给定的是正六面体的外表面，下面哪一项是由它折叠而成的（ ）。



81. 把下面的六个图形分为两类，使每一类图形都有各自的共同特征或规律，分类正确的一项是（ ）。



- A. ①③⑤, ②④⑥
C. ①②⑤, ③④⑥

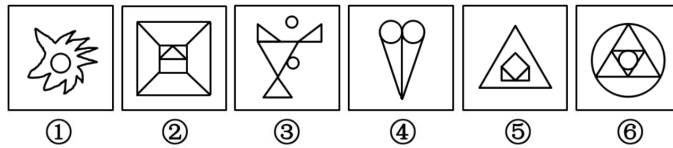
- B. ①②③, ④⑤⑥
D. ①②⑥, ③④⑤

82. 把下面的六个图形分为两类，使每一类图形都有各自的共同特征或规律，分类正确的一项是（ ）。




- A. ①②⑥, ③④⑤
 B. ①④⑤, ②③⑥
 C. ①②⑤, ③④⑥
 D. ①②③, ④⑤⑥

83. 把下面的六个图形分为两类，使每一类图形都有各自的共同特征或规律，分类正确的一项是（ ）。



- A. ①②④, ③⑤⑥
 B. ①③⑤, ②④⑥
 C. ①③⑥, ②④⑤
 D. ①④⑥, ②③⑤

84. 把下面的六个图形分为两类，使每一类图形都有各自的共同特征或规律，分类正确的一项是（ ）。



- A. ①②⑥, ③④⑤
 B. ①③⑤, ②④⑥
 C. ①③④, ②⑤⑥
 D. ①④⑥, ②③⑤

85. 把下面的六个图形分为两类，使每一类图形都有各自的共同特征或规律，分类正确的一项是（ ）。



- A. ①②⑥, ③④⑤
 B. ①②⑤, ③④⑥
 C. ①③④, ②⑤⑥
 D. ①⑤⑥, ②③④

二、定义判断。每道题先给出定义，然后列出四种情况，要求你严格依据定义，从中选出一个最符合或最不符合该定义的答案。注意：假设这个定义是正确的，不容置疑的。

请开始答题：

86. 共同过错，也叫共同侵权行为、共同致人损害，指两个或两个以上的行为人，基于共同的故意或过失致他人损害。共同过错的特征在于：

- (1) 行为人必须是两个或两个以上；
- (2) 数个行为人之间主观上具有共同过错；
- (3) 行为的共同性；
- (4) 数个行为人的行为与损害结果之间具有因果关系。

根据上述定义，下面情况不属于共同过错的是（ ）。

- A. 某村委会修灌渠，施工结束后，留下一个土坑未填平。村民崔某为建房利用此坑泡上了石灰。当晚，村民曹某骑车路过此地时，跌入石灰坑，被刚泡的石灰烫成重伤
 - B. 张非和李涛是某工厂的车间工人，一天，二人在操作一台机器时违反安全规章，导致机器内部的线路出现了不可修复的故障，价值两万元的机器因此报废
 - C. 某周末，某学校初中二年级的同学在野外举行篝火晚会；晚会结束后，大家都很累，没有仔细查看场地，结果未灭尽余火，酿成了一场火灾
 - D. 小梁指导小张驾驶汽车时，因为当时路上行人稀少，所以二人一边驾车一边说笑，没有注意到前方路上有行人；等到看到行人时，已经来不及刹车了，结果造成了一起严重的交通事故
87. 自我障碍策略指的是当人们预期自己会失败的时候，常常会提前设置一些障碍来阻挠自己获得成功，以作为解释失败的借口，这种行为被称为自我障碍策略。

根据上述定义，下列使用自我障碍策略的是（ ）。

- A. 小李的学习成绩一直是全班第一，但对马上来临的期末考试很没有把握，索性谎称自己生病了，以此来逃避期末考试
 - B. 营销员张某的业绩出现下滑，经理找其谈话，张某解释这是因为最近一段时间自己神经衰弱，工作状态不佳导致的
 - C. 小杨一路披荆斩棘，终于杀入全国网球总决赛。这时他突然担心决赛拿不到好名次，故意在训练中扭伤脚，带伤去参加比赛
 - D. 中学时期一直是学习尖子生的小刘，高考发挥失常，只考上一所不起眼的大学，之后破罐子破摔，再也提不起学习的兴趣了
88. 社会保险是指国家通过立法，多渠道筹集资金，在劳动者暂时或者永久丧失劳动能力以及其他原因中断工作，没有经济收入或者劳动收入减少时，给予经济补助，使他们能够享有基本生活条件的一项社会保障制度。

根据以上定义，下列属于社会保险的是（ ）。

- A. 向老人、儿童、残疾人等人群提供的必要的生活保障
- B. 养老、失业、医疗、工伤、生育等保险
- C. 对城市生活无着落的流浪乞讨人员救助
- D. 最低生活保障、农村五保供养、特困户救助、灾民救助

89. 滥用市场支配地位是指在相关市场内具有能够控制商品价格、数量或者其他交易条件，或者能够阻碍、影响其他进入相关市场的经营者，利用其市场支配地位危害竞争，损害竞争对手和社会公共利益及其他私人利益的行为。
- 根据上述定义，下列行为构成滥用市场支配地位行为的是（ ）。
- A. 甲公司通过取得股权或者资产方式取得对其他很多经营者的控制权，使自己该地的市场占有率达50%以上
 - B. 在某地食用油市场占有率达55%的甲公司，要求当地某超市在购物车上为其免费做广告，遭到超市拒绝，甲公司停止向该超市供货
 - C. 某市电力公司称很多用户的电表不准，要求用户必须购买该公司指定的几种品牌的电表，经查，电力公司与指定品牌的生产厂家并无利益关系
 - D. 在某市打火机市场占有率达70%的甲乙二厂，为缓解由于经济不景气而导致的销售量严重下降，就限定生产数量和销售价格达成协议，造成很多小厂家破产
90. 金融监管：指一国的金融管理部门为达到稳定货币、维护金融业正常秩序等目的，依照国家法律、行政法规的规定，对金融机构及其经营活动实施外部监督、检查和对其违法行为进行处罚的一系列行为。
- 根据上述定义，下列属于金融监督行为的是（ ）。
- A. 接到群众举报，电视台的记者对某银行服务情况进行了秘密采访
 - B. 中国银监会对银行业监管规章和规范性文件进行了全面清理，并于2007年7月将清理结果向社会公布
 - C. 湖南省银监局督促辖区内银行业金融机构采取具体措施，支持农资部门稳定市场供应，确保春耕
 - D. 中国证监会要求广大稽查干部切实落实“及时发现、及时制止、及时查处”的方针，加大证券执法力度
91. 第二语言习得，是指在第二语言的语言环境中，通过旨在沟通意义的言语交际活动，不知不觉地获得一种语言。
- 根据这个定义，下列对第二语言的掌握过程中属于“第二语言习得”的是（ ）。
- A. 约翰是美国一家公司驻中国的代理，刚来中国时对汉语一窍不通，便参加了业余汉语学习班，现在，他已经能用汉语自如地进行交际了
 - B. 李红大学毕业时凭着较高的GRE和TOEFL成绩去美国继续深造，到美国两个月后，便能在学习和生活中用流利的英语交流了
 - C. 于晶想去日本留学，便在中国找了一个日本人教她学日语。半年后，已经掌握了基本的日常交际用语
 - D. 美国人安娜性格开朗、活泼健谈，随父母来到中国后，在短短的一年内，没有参加任何汉语学习班便学会了怎样用汉语交际
92. 充分授权，也叫一般授权，是指上级行政主体在下达任务时，只发布一般工作指示，而不指派特定的事务，允许下属自己决定行动方案，并能进行创造。
- 下列不属于充分授权的一项是（ ）。
- A. 柔性授权，即领导者对工作不作具体安排，仅指示出一个大纲或轮廓，下属可随机应变，因地制宜地处理工作，有比较大的自由
 - B. 模糊授权，即授权者一般不明确地说清工作的事项与范围，只指示所要达到的任务和目标，被授权者自由去选择完成的具体途径
 - C. 惰性授权，即领导者把自己不愿处理的纷乱繁琐事务交托给下属处理
 - D. 刚性授权，上级对下级的工作范围、内容、应达到的绩效目标都有详细规定

93. 代位继承是指被继承人的子女先于被继承人死亡时，由被继承人的死亡子女的晚辈直系血亲继承该死亡子女应继承的遗产份额的制度。
根据定义，下列属于代位继承的是（ ）。
- A. 老王膝下无子，老王立遗嘱，财产由他弟弟的儿子继承
B. 张文夫妇因海难失踪，其子继承了他们的财产
C. 李华只有一子，远居国外，李华死前未立遗嘱，李华的外甥欲继承李华的财产
D. 吕先生一家不幸在旅游途中遭遇意外事件身亡，只7岁的孙子因为留在外婆家，而幸免于难.另外吕先生唯一的儿子前年因病去世，7岁的孙子因此继承吕先生的遗产
94. 实在判断：判断的简单的形式，这里是肯定或否定地表明某一单个的事物的某种一般的性质（肯定判断：菊花是黄色的；否定判断：菊花不是黑色的）。
以下哪项不属于实在判断（ ）。
- A. 月球绕着地球做圆周运动
B. 月球不是恒星
C. 月球是圆的
D. 月球不是圆的
95. 反射：指有机体借助神经系统对刺激有规律的应答活动。无条件反射是先天的不学而能的反射。它是一种简单的不加任何条件的反射，属本能行为。条件反射是有机体在后天生活中学习得的，只有在一定条件下出现的反射。
下列哪项符合无条件反射的定义？（ ）
- A. 经常吃一种叫贝贝品牌的狗粮的小狗闻到或看到这种狗粮就会流口水
B. 幼儿园的老师总是在音乐声响起的时候让孩子跟着唱歌，有一次音乐响起，老师没有让孩子们唱歌，但是孩子们却跟着唱起来
C. 赛马“海洋饼干”的右侧身体小时候经常被训练师毒打，所以它一见到右侧有人举起鞭子就会发狂
D. 小王外出打工，不小心丢失财物，几天没有吃饭，非常饥饿的时候肚子咕咕叫而且见到食物就直咽口水

三、类比推理。每道题先给出一组相关的词，要求你在备选答案中找出一组与之在逻辑关系上最为贴近，相似或匹配的词。

请开始答题：

96. 克服：应对：危机
- A. 开发：企业：产品
B. 攻克：科学：难题
C. 展望：迎接：未来
D. 登月：航天：工程
97. 气候：变暖：气温
- A. 生存：发展：持续
B. 极冰：融化：水位
C. 保护：环境：生态
D. 温室：气体：臭氧
98. 感恩节：端午节
- A. 母亲节：妇女节
B. 狂欢节：春节
C. 清明：元宵节
D. 圣诞节：愚人节
99. 讲师：副教授：教授
- A. 硕士：博士：助教
B. 本科生：硕士生：博士生
C. 教授：研究院：院士
D. 管理员：馆员：研究馆员
100. 班门弄斧：布鼓雷门
- A. 曲高和寡：雅俗共赏
B. 囫囵吞枣：不求甚解
C. 爱不释手：弃如敝屣
D. 投鼠忌器：声名狼藉

101. 教师：教室：教育
 A. 经理：市场：经商
 B. 军队：国家：保卫
 C. 公务员：机关：执法
 D. 演员：舞台：表演
102. 婚礼：司仪：宾客
 A. 教学：学生：教师
 B. 诉讼：法官：原告
 C. 新闻：主持人：记者
 D. 球赛：裁判：球迷
103. 光照：影子
 A. 振动：声音
 B. 飓风：损失
 C. 努力：成功
 D. 酒精：气氛
104. 构思：写作：发表
 A. 点火：燃烧：熄灭
 B. 播种：耕耘：收获
 C. 改革：实验：创新
 D. 设计：生产：销售
105. 提案：政协委员：政协会议
 A. 菜肴：厨师：宴会
 B. 道具：演员：文艺汇演
 C. 动物：饲养员：动物表演
 D. 纪录：运动员：运动会

四、逻辑判断。每道题给出一段陈述，这段陈述被假设是正确的，不容置疑的。要求你根据这段陈述，选择一个答案。注意：正确的答案应与所给的陈述相符合，不需要任何附加说明即可以从陈述中直接推出。

请开始答题：

106. 1784年著名天文学家威廉·赫歇尔曾经写道，火星表面的黑暗区域是海洋，而较明亮区域则是陆地。赫歇尔推测，火星上肯定有智慧生命存在，它们或许与我们地球人差不多。赫歇尔的理论流行了一个多世纪，甚至其他一些天文学家也附和称，在一些颜色较亮的区域可以观测到植被。如果下列各项为真，哪项最能支持赫歇尔的推测？（ ）
- A. 有智慧生命存在的地方必定有海洋、陆地
 B. 凡是有植被的地方必定有智慧生命存在
 C. 凡是有海洋、陆地的地方必定有智慧生命存在
 D. 可以观测到植被的地方就可能有智慧生命存在
107. 甲：“从举办奥运会的巨额耗费来看，观看现场奥运会比赛的票额应该要高很多。是奥运会主办者的广告收入降低了每份票额的单价，因此，奥运会的现场观众从奥运会拉的广告中获得了经济利益。”乙：“你的说法不能成立。谁来支付那些看来导致奥运会票额降价的广告费用？到头来仍是消费费用分摊到了消费者身上。”
- 以下哪项如果为真，则能够有力的消弱乙对甲的反驳？（ ）
- A. 奥运会的票价一般要远高于普通体育比赛的票价
 B. 近年来，利用世界性体育比赛做广告的厂家越来越多，广告费用也越来越高
 C. 奥运会的举办带有越来越浓的商业色彩，引起了普遍的不满
 D. 总体上说，各厂家的广告支出是一个常量，有选择地采取广播、电视、报纸、杂志、广告牌、邮递印刷品等各种形式
108. 类胡萝卜素被人体吸收后具有较强的抗癌功能。研究表明，蔬菜被煮过后，植物的细胞膜会软化，这使得其中的类胡萝卜素更易于被人体吸收。生食蔬菜，人体只能吸收3%至4%的类胡萝卜素，而对煮过的蔬菜中的类胡萝卜素，人体对其吸收率可增加45%。
- 由此可见（ ）。
- A. 食用煮过的蔬菜比食用生蔬菜更有助于抗癌
 B. 经常吃胡萝卜的人不可能患癌症
 C. 蔬菜被煮过后，其类胡萝卜素的含量会增加
 D. 凡癌症患者平时都不爱吃蔬菜

109. 据统计, 自1901年起共有786位男性和44位女性科学家获得诺贝尔奖。这一男女比例为18:1。其中在经济学和物理学领域, 几乎没有女性科学家获奖。据此, 诺贝尔奖存在着严重的性别歧视。以下最能削弱上述结论的一项是 ()。
- A. 能否获得诺贝尔奖不是衡量工作潜能的唯一标准
 - B. 女性从事科研工作的人数远远低于男性
 - C. 近些年, 诺贝尔奖评奖委员会中女性成员的人数不断增多
 - D. 其他的国际科学大奖也存在此类获奖者男女失调的现象
110. 麦角碱是一种可以在植物种子的表层大量滋生的菌类, 特别多见于黑麦。麦角碱中含有一种危害人体的有毒化学物质。黑麦是在中世纪引进欧洲的。由于黑麦可以在小麦难以生长的贫瘠和潮湿的土地上有较好的收成, 因此, 就成了那个时代贫穷农民的主要食品来源。上述信息最能支持以下哪项断定? ()
- A. 在中世纪以前, 麦角碱从未在欧洲出现
 - B. 在中世纪的欧洲, 如果不食用黑麦, 就可以避免受到麦角碱所含有毒物质的危害
 - C. 在中世纪的欧洲, 富裕农民比贫穷农民较多地意识到麦角碱所含有毒物质的危害
 - D. 在中世纪的欧洲, 富裕农民比贫穷农民较少地受到麦角碱所含有毒物质的危害
111. 在是否戒烟的问题上, 总有些不算明智的人。除非他们戒烟成功, 否则就不得不为其健康恶化承担所有后果。老李已有20年的烟龄, 但他很怕失去健康的身体和美好的生活, 不想因为自己的不明智而承担健康恶化的后果。由此, 可以推出 ()。
- A. 老李请亲朋好友严格监督自己戒烟
 - B. 老李若要实现自己的想法, 必须成功戒烟
 - C. 老李戒烟不能成功, 因为他总是做不明智的选择
 - D. 如果老李身体不好, 一定是吸烟造成的
112. 物理学家霍金认为: “地球生命被某一灾难消灭的危险正以前所未有的速度与日俱增, 如突如其来的全球变暖、核战争、基因病毒或其他危险。”霍金在此基础上认为地球越来越不适合人类居住, 并提出“太空移民”的观点。以下最能质疑霍金观点的一项是 ()。
- A. 绝大多数星球的环境不适合人类生存
 - B. 人类面临的危险通过人类的共同努力能够得到解决
 - C. 地球处于其生命年龄的幼年时期
 - D. 世界各国的科学家们在致力于研究“太空移民”的可行性
113. 某中学的教师都有爱心。有些经常志愿献血的教师免费为学习困难学生补课, 凡是资助了贫困生的教师都和困难家庭结成了帮困对子, 但所有免费为学习困难学生补课的教师都没有和困难家结成帮困对子。根据以上前提, 下列 () 项一定为真。
- A. 有些资助了贫困生的教师没有志愿献血
 - B. 有些经常志愿献血的教师没有资助贫困生
 - C. 有些资助了贫困生的教师经常志愿献血
 - D. 有些经常志愿献血的教师跟困难家庭结成了帮困对子

114. 尽管在大多数人看来，地震并非人力所能影响或控制，但是最新的一项研究成果却显示，人类排放温室气体的行为是导致地震频发的原因。对此，有反对者指出，地震是由气候变化引起的，气候变化可能会引起地球板块运动，从而刺激地震的发生。但研究人员也强调，虽然板块运动可能会导致地震出现，但这是一个非常漫长的过程，而非突发性的事件。
- 以下哪项如果为真，最能削弱反对者的观点（ ）。
- A. 之前科学界公认，地震引发的地壳运动会对气候的变化带来影响
 - B. 研究显示，人类排放温室气体的行为是导致气候变化的原因
 - C. 印度洋季风使得印度洋板块活动加速大约20%，每年多移动约1厘米的距离
 - D. 目前全球气候变暖是否会导致更大规模地震的发生，还未得到相关证据证实
115. 某电视台拍摄一档真人秀节目，有A、B、C、D、E五位表演嘉宾，要安排他们入住红、黄、蓝三顶帐篷。五位表演嘉宾提出了以下几点入住要求：
- ① 嘉宾A要住入住红色帐篷
 - ② B和C要入住同一顶帐篷
 - ③ 如果D入住蓝色帐篷，则E也要入住蓝色帐篷
 - ④ 同时，栏目组要求，每顶帐篷中都要住人
- 则下列安排肯定不符合上述要求的是（ ）。
- A. BC入住红色帐篷
 - B. BD入住蓝色帐篷
 - C. DE入住黄色帐篷
 - D. E入住红色帐篷

120. 根据上述材料，下列推断中正确的一项是（ ）。

- A. 2015年1—5月该区广告会展业收入同比增长了1亿多元
- B. 2015年5月底全市规模以上文化创意产业法人单位超过9000家
- C. 2015年1—5月该区收入超过亿元的企业中有的来自广播、电视、电影业
- D. 2015年5月该区平均每家规模以上文化创意产业法人单位拥有200多名从业人员

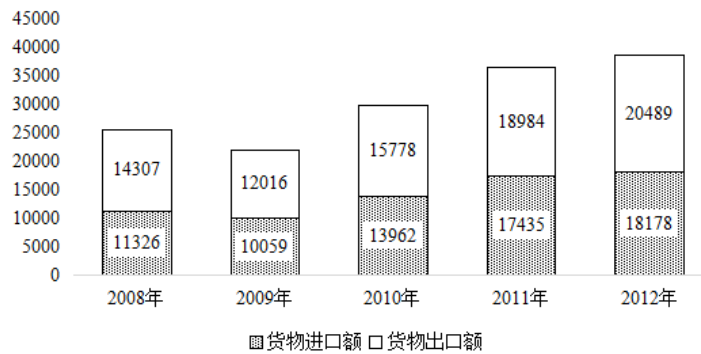
二、根据以下资料，回答问题。

2012年我国对主要国家和地区货物进出口额及其增长速度

单位：亿美元

国家和地区	出口额	比上年增长(%)	进口额	比上年增长(%)
美国	3518	8.4	1329	8.8
欧盟	3340	-6.2	2121	0.4
中国香港	3235	20.7	180	15.9
东盟	2043	20.1	1958	1.5
日本	1516	2.3	1778	-8.6
韩国	877	5.7	1686	3.7
印度	477	-5.7	188	-19.6
俄罗斯	441	13.2	441	9.2
中国台湾	368	4.8	1322	5.8

2008~2012年我国货物进出口状况（单位：亿美元）



121. 2012年对华货物进出口额相差最大的国家或地区是（ ）。

- A. 美国
- B. 欧盟
- C. 中国香港
- D. 印度

122. 表中有几个国家或地区2012年的对华货物进出口贸易总额高于上年水平？（ ）

- A. 5
- B. 6
- C. 7
- D. 8

123. 从2009到2012年，我国货物出口贸易额平均每年约增加多少亿美元？（ ）

- A. 2820
- B. 2710
- C. 2120
- D. 2030

124. 2011年我国自日本的货物进口额约占当年我国货物贸易进口总额的（ ）。

- A. 6.4%
- B. 7.7%
- C. 9.8%
- D. 11.2%

125. 能够从资料中推出的是（ ）。

- A. 2008~2012年我国货物进口贸易额逐年递增
- B. 2011年我国对俄罗斯的货物贸易出口额高于进口额
- C. 2012年我国货物进出口总额比2008年增加超过1万亿美元
- D. 2009~2012年我国货物出口贸易额同比增幅最大的年份是2011年

