

第一部分 常识判断

根据题目要求，在四个选项中选出一个最恰当的答案。

请开始答题：

- 2016年8月12日上午8时，中国4500米载人潜水器及作业工作母船“探索一号”科考船首航归来。这次航行，“探索一号”进行的是多少米的深渊科考活动？（ ）。
A. 5000米深潜作业
B. 7000米深潜作业
C. 9000米深潜作业
D. 万米深潜作业
- 以下不属于2016年我国取得的成就是？（ ）。
A. 世界上最大的跨海大桥主体桥梁工程全线贯通
B. 建成世界最大单体射电望远镜
C. 中国科学卫星系列首发星——“悟空”发射升空
D. 世界最大的基因库投入运营
- 马克思说：“最蹩脚的建筑师从一开始就比最灵巧的蜜蜂高明的地方，在他在用蜂蜡建筑蜂房以前，已经在自己的头脑中把它建成了。”这句话表明（ ）。
A. 意识是人脑特有的机能
B. 人的意识比动物的意识高明
C. 实践是一个不断变化发展的历史过程
D. 实践是在一定的社会关系中进行的社会活动
- 下列作品中与搭配对应正确的是（ ）。
A. 《梧桐雨》——马致远——杨贵妃
B. 《西厢记》——王实甫——崔莺莺
C. 《牡丹亭》——白朴——杜丽娘
D. 《桃花扇》——洪昇——李香君
- 张三是间歇性精神病人，某天张三喝醉了酒，把饭店老板打成重伤，在群众抓捕他时，张三因惊恐而精神病发作。则张三？（ ）。
A. 不负刑事责任，因其是精神病人
B. 负刑事责任，但可以从轻处罚
C. 负刑事责任，但可以减轻处罚
D. 负刑事责任
- 以下不属于固定成本的是？（ ）。
A. 机器设备的折旧
B. 管理人员的工资
C. 广告费
D. 直接人工
- 下列诗句所描写的与对应地点不一致的是？（ ）。
A. 黑云压城城欲摧，甲光向日金鳞开——雁门关
B. 劝君更尽一杯酒，西出阳关无故人——玉门关
C. 长城饮马寒宵月，古戍盘雕大漠风——嘉峪关
D. 寂寂函关锁未开，田文车马出秦来——函谷关
- “统一战线，武装斗争，党的建设，是中国共产党在中国革命中战胜敌人的三个法宝，三个主要的法宝。这是中国共产党的伟大成绩，也是中国革命的伟大成绩。”这句话最早出现在哪个著作里？（ ）。
A. 《星星之火，可以燎原》
B. 《〈共产党人〉发刊词》
C. 《中国社会各阶层的分析》
D. 《论持久战》
- 关于我国的国防军事，下列说法错误的是（ ）。
A. 火箭军是解放军新的军种，由第二炮兵更名而来
B. 中央军事委员会领导并统一指挥全国武装力量
C. 我国现在有7个中国人民解放军战区
D. 我国目前实行的是积极防御的军事战略方针

10. 营业税改征增值税是指以前缴纳营业税的应税项目改成缴纳增值税，增值税只对产品或者服务的增值部分纳税，减少了重复纳税的环节，是党中央、国务院，根据经济社会发展新形势，从深化改革的总体部署出发做出的重要决策。关于增值税的说法，以下哪一选项是错误的？（ ）
- A. 增值税的税基是销售货物或者提供加工、修理修配劳务以及进口货物的增值额
B. 进口环节的增值税由国家税务总局负责征收
C. 残疾人福利机构提供的育养服务可以免征增值税
D. 增值税起征点的范围只限于个人
11. A区环保局因某新建造纸厂未报批环境影响评价文件，且已投入生产使用，给予其罚款20万元的处罚。造纸厂不服，申请复议，复议机关作出维持处罚的复议决定书。下列哪一说法是错误的？（ ）。
- A. 复议机关有可能是A区政府
B. 如复议期间案件涉及法律适用问题，需要有权机关作出解释，行政复议中止
C. 复议决定书一经送达，即发生法律效力
D. 造纸厂对复议决定不服向法院起诉，应由复议机关所在地的法院管辖
12. 近年来，以历史为题材的影视剧热播，以下符合史实的是？（ ）。
- A. 《大秦帝国》中秦孝公颁布求贤令，写成纸质，张贴于城门口
B. 《汉武大帝》中汉朝版图囊括朝鲜半岛北部
C. 《大宋提刑官》中内阁大学士位高权重
D. 《隋唐英雄传》中隋朝炮轰陈朝城墙
13. 下列关于动物的描述错误的是？（ ）。
- A. 蚯蚓是恒温动物
B. 娃娃鱼属于两栖动物
C. 海马是由雄性生育后代的
D. 蜗牛是雌雄同体的生物
14. 书院是唐宋至明清出现的一种独立的教育机构，是私人或官府所设的聚徒讲授、研究学问的场所。我国“四大书院”中位于江西的是？（ ）。
- A. 岳麓书院
B. 白鹿洞书院
C. 嵩阳书院
D. 应天书院
15. 以下物理现象中，属于光的折射的是？（ ）。
- A. 小孔成像
B. 彩虹
C. 月食
D. 大厦在水中的倒影
16. 导致“人间四月芳菲尽，山寺桃花始盛开”现象出现的地理原因是？（ ）。
- A. 地形地势
B. 海陆位置
C. 纬度因素
D. 季风影响
17. 以下不属于秦汉时期雕刻作品是？（ ）。
- A. 马踏飞燕
B. 兵马俑
C. 击鼓说唱陶俑
D. 昭陵六骏
18. 铁路网是由相互联结的铁路干线、支线、联络线和铁路枢纽构成的铁路网系统。目前，我国最长的东西向铁路干线是？（ ）
- A. 京九线
B. 京沪线
C. 陇海——兰新线
D. 京包——包兰线

19. 以下不属于我国法律的渊源的是（ ）。

- A. 宪法
- B. 地方性法规
- C. 国务院某部委的会议纪要
- D. 自治条例和单行条例

20. 关于生活常识，下列说法错误的是？（ ）。

- A. 香菇是世界第一大食用菌
- B. 雷雨过后空气特别清新是因为雷电导致空气中的臭氧分子增加
- C. 喝牛奶可缓解重金属中毒现象
- D. 红色经常作为警告标识是因为红色波长最长

28. 现在的一些作者，要么学院味很浓；要么是缺少理论素养的实干家。真正既懂理论又有实践经验，能把理论说活说透的专家不多，再能用老百姓_____的形式表达出来的，就更少了，既然事不关己，自然将其_____。
- 依次填入划横线部分最恰当的一项是（ ）。
- A. 脍炙人口 独善其身
B. 喜闻乐见 高高挂起
C. 大快人心 超然物外
D. 耳熟能详 置身事外
29. 我国是一个历史悠久的农业国家，千百年来_____了深厚的农耕文化，特别是由于长期自给自足，在农村经济领域存在较强的独立性和_____。
- 依次填入划横线部分最恰当的一项是（ ）。
- A. 培养 先进性
B. 孕育 封闭性
C. 蕴含 落后性
D. 积淀 整体性
30. 我国的诸多教育者，可以说都对应试教育、功利教育深恶痛绝。高中“国际班”刚具备突围的可能，却又掉进功利的陷阱，其中有现实的压力，但更与教育者自身的_____不无关系。要彻底转变这一局面，办学、教育者应当秉持开放、自由、多元、尊重学生的价值和理念，_____地去影响并改变家长与功利的社会现实。
- 依次填入划横线部分最恰当的一项是（ ）。
- A. 迷失 身体力行
B. 迷茫 设身处地
C. 迷惑 推己及人
D. 迷惘 事必躬亲
31. 基于历史的记忆，国人有强烈的民族主义情绪可以理解，但当这种自发的情绪被商业民族主义煽动和利用了之后，往往爆发式增长为一种充满戾气的极端民族主义，_____着这个民族在国家关系认知上的理性，扼杀着我们在艺术上的创造力。更为可怕的是，这股狂潮甚至改变着我们下一代的文化基因，在这个意义上，抗日剧_____，成为谋利利器，是商业伦理上的不道德。
- 依次填入划横线部分最恰当的一项是（ ）。
- A. 吞没 脱颖而出
B. 蚕食 出奇制胜
C. 吞噬 剑走偏锋
D. 清除 出人意料
32. 有电影而缺人物，有明星而少演员。当下，最多的是通用型演员。只要是明星，就可以出演几乎一切类型的影片，扮演几乎一切类型的角色，“奉献”_____的演技、_____的形象。随着类型电影蓬勃发展，大小明星层出不穷，令人过目难忘的银幕形象、荡气回肠的精彩表演却为数不多，成为华语电影软实力缺失的一个显性病灶。
- 依次填入划横线部分最恰当的一项是（ ）。
- A. 乏善可陈 平淡无奇
B. 相差无几 千人一面
C. 千篇一律 亘古不变
D. 良莠不齐 参差不齐
33. 近年来，孔子学院在海外的的发展_____，根据计划，到2020年，孔子学院将在近500个世界大型城市设点，基本实现全球布局，推动汉语走向世界。特色孔子学院的发展走出了一条推广中华文化的新途径，其特点不再是单纯的汉语推广，而呈现_____和专业化。
- 依次填入划横线部分最恰当的一项是（ ）。
- A. 方兴未艾 智能化
B. 如火如荼 多元化
C. 轰轰烈烈 产业化
D. 一泻千里 学术化

34. 莫高窟艺术的成就，是世界上留存至今的任何佛教遗址_____的。进入洞窟，庄重的佛陀、仁慈的菩萨、灵动的飞天、壮美的佛国、动人的故事、有趣的生活、富丽的纹饰，一一进入眼帘，在人们面前展现的是领域异常广泛、内容_____的中华民族引以为傲的文化艺术宝藏——世界文化遗产敦煌莫高窟。
- 依次填入划横线部分最恰当的一项是（ ）。
- A. 无可比拟 丰富多彩
B. 不能企及 琳琅满目
C. 无与伦比 五彩缤纷
D. 望其项背 美不胜收
35. 近几十年来，我们又长期受_____理念影响，相信凭借人力动员和技术手段可以一劳永逸地消灭洪水。现在看来，人类对洪水的掌控能力仍相当有限，要完全消除洪灾更是不可能。洪水管理需要抛弃盲目的自信，但也不能_____，浪漫化、绝对化地要求“人不能与水争地”。
- 依次填入划横线部分最恰当的一项是（ ）。
- A. 扭转乾坤 按兵不动
B. 人定胜天 矫枉过正
C. 事在人为 草木皆兵
D. 成竹在胸 过犹不及
36. 此次中影股份的上市之所以获得_____的关注，原因在于它意味着又一家影视企业进入了资本市场，在市场规模迅速扩大的过程中，一大批民营企业也在政策和市场的激励中_____。在华谊兄弟、万达影业等民营电影企业及其出品的影片越来越为公众所熟知的时候，部分国有电影企业却在改革的进程中_____，一些电影观众心目中的老企业、老品牌甚至已经不再葆有基本的创作力和生产力。
- 依次填入划横线部分最恰当的一项是（ ）。
- A. 非同小可 跃跃欲试 泥沙俱下
B. 万众瞩目 一触即发 进退维谷
C. 翘首以盼 蒸蒸日上 进退失据
D. 非同一般 扶摇直上 骑虎难下
37. 营造更加繁荣的局面，需要文创的产业升级和_____。坐拥世界上最古老、最丰富的文化资源，面对人口最多、潜力最大的广阔市场，中国当代的文创产业绝不应是勾勾画画那么简单。五千年浓墨重彩的中华文化，孕育了_____的艺术瑰宝、汇聚了灿若繁星的文明结晶，解读其中_____的历史情感，传递延绵已久的思想脉络，是文创开发的发力点，也是产业增长点。
- 依次填入划横线部分最恰当的一项是（ ）。
- A. 精益求精 惟妙惟肖 隐藏
B. 独树一帜 气势恢宏 蕴含
C. 推陈出新 匠心独运 蕴藏
D. 吐故纳新 包罗万象 孕育
38. 越来越多被代购的国货中，有成名已久的“老干妈”、享誉中外的花露水，也有久负盛名的青啤……这些国货之所以能塞满海外消费者的购物清单，自然与国货价廉物美、_____相关。然而，很多沉淀在人们记忆深处的国产品牌，却一个个逐渐凋零，归于沉寂。它们有的正在市场大潮中艰难“泅渡”，有的已_____，实在令人_____。
- 依次填入划横线部分最恰当的一项是（ ）。
- A. 有口皆碑 折戟沉沙 唏嘘
B. 闻名遐迩 朝不保夕 扼腕
C. 名副其实 溃不成军 痛惜
D. 厚德载物 危在旦夕 遗憾
39. 异地偷排污染物这种_____的环境违法行为，近年来有多发趋势。但受管理权限分割和地方保护主义的束缚，加上违法者往往选择偏僻的农村地区倾倒，运输时间也专挑夜间，_____的现象屡禁不绝。正因此，_____异地排污，需要提高违法成本。
- 依次填入划横线部分最恰当的一项是（ ）。
- A. 蝇营狗苟 偷天换日 杜绝
B. 以邻为壑 暗度陈仓 遏制
C. 嫁祸于人 偷梁换柱 阻止
D. 损人利己 移花接木 消灭

40. 在娱乐方式多元化的今天，“敬而远之”是不少人特别是中青年群体对待戏曲的态度，这里面固然存在_____的偏见、难以静下心来欣赏戏曲之美等因素，却也绕不开另一个原因：一些戏曲虽然与观众之间没有荧屏、银幕之隔，却用艺术化的表演_____着与观众距离较远的生活。戏曲本就是广大群众_____的大众艺术样式，如今脱离实际生活的戏曲出现，使得从草台班子、茶舍、戏园子走出的戏曲艺术只能因“曲高和寡”而逐步丧失群众基础。
依次填入划横线部分最恰当的一项是（ ）。
- A. 先入为主 讲述 喜闻乐见
B. 先入之见 叙述 情有独钟
C. 根深蒂固 论述 诚欢诚喜
D. 积重难返 陈述 一往情深
41. 过去的一百多年里，中华民族经历了严峻挑战，国家积弱积贫和深刻的民族危机确实让中国人有很深的民族悲情。一方面，国家民族的危亡需要广泛的社会动员来激励社会；另一方面，中国现代国家的国民认同创造也需要这种动员。由此看来，用激情来凝聚社会，用直截了当的行为来召唤国民的觉醒，这种方法对近代以来的中国尤为重要。国破家亡的现实，让当时的中国人不能不用强烈的精神力量来振奋民族精神，鼓舞同胞的斗志。这段文字意在说明（ ）。
- A. 国难当头让中国人有着深刻的民族悲情
B. 用激情来凝聚和动员是中国历史的需要
C. 对历史缺乏了解才会做出不理性的判断
D. 只有激起民族自豪感才能拯救民族危亡
42. 近日来，山东济宁市某些人创意策划的“中华文化标志城”工程自施工以来，一直受到媒体与公众的持续质疑、谴责与反对。这个被筹建者以“圣城”、“文化副都”幌子标榜的巨无霸工程，冠以如此神圣、强大的招牌却招来广泛而强烈的反对，恐怕是他们始料未及的。以孔子、孟子为代表的儒家文化是中华民族的主流文化，孔孟故里作为圣人的生长地，在社会历史的演进中受到了应有的尊崇与礼敬。认真保护孔孟故里的文物古迹、努力弘扬儒家文化是我们“弘扬中华文化，建设中华民族共有精神家园”的重要内容。但是，“精神家园”的建设不是耗费巨资、建一堆冷冰冰的钢筋水泥混凝土建筑就可以奏效的。曲阜、邹城是孔孟故乡、儒家圣地，但这不能成为上演一出荒唐闹剧的理由。这段文字意在说明（ ）。
- A. 应当将“巨无霸工程”尽快拆除
B. 加强孔孟之乡的保护是当务之急
C. 儒家文化受到了应有的尊崇与礼敬
D. “精神家园”建设不能靠面子工程
43. 要保护汉语的规范纯洁，首先就要知道它的规范和纯洁在哪儿，其实这是一个大而化之的命题。不管是以汉语为母语，还是以其他语言为母语，或者还有更多杂交的语言，语言的纯洁和规范只有一点，那就是便于交流，失去了这一点，语言也就无任何意义可言了。虽然，汉语是需要保持一些独有的东西，但这并不妨碍说它的同时再夹杂一些舶来品。如果真要和规范、纯洁等较劲的话，那么汉语就得回归繁体，就得之乎者也，但这又给交流带来了诸多的不便，没有了群众基础的汉语，还会让人引以为豪吗？恐怕很难。
通过这段文字作者意在表明（ ）。
- A. 保护汉语的规范纯洁是目前当务之急
B. 汉语只有保持独特性才能更有竞争力
C. 方便交流是保持语言纯洁规范的前提
D. 拥有群众基础是汉语传承的关键要素
44. 照顾老幼病残，是中华民族的传统美德，也是每个中国人心中的道德标准。可现如今，“老”有欺诈骗人，“幼”有校园暴力，“病”有恶性医闹，“残”有各种胡闹。这背后都隐藏着一个共性原因，那就是——个别“弱势群体”将他人的照顾当做了突破底线、甚至为所欲为的依仗。自身的弱势不能成为突破道德底线与法律底线的理由，也不能成为逃脱责任的借口，这一点不只要个别弱势群体自身意识到，更需要旁观者、司法者清晰认识。这样，才能让社会对老弱病残的关爱回归正轨。须知，底线容不下特权者，否则底线之上的一切也就失去了意义。
这段文字的核心意思是（ ）。
- A. 中国目前“弱势群体”不再“弱势”
B. “弱势”也不能突破法律和道德底线
C. 司法者需加强对“底线”的界定和认识
D. 社会要坚持对老弱病残群体多些关爱

45. 当下城市新移民特别是“乡—城”新移民，即从农村迁往城市的青年人，是一种非稳态迁移现象。在城市中，他们处于弱势地位，工资收入水平低于城市职工平均工资，社会保障也不健全，被相对强势的城市市民边缘化。在乡村，他们不像父辈那样，具有掌握土地的技术和能力，也不能从土地生产中获取维持其生存的效益，被土地所边缘。这种双重边缘人的角色，使他们既不认同自己城市人的身份，也难以承认自己的乡村人身份。
文中“他们”指的是（ ）。
A. 强势的城市户口市民
B. 掌握土地和技术的农民
C. 进城务工的农村人
D. “乡—城”新移民
46. 为进一步推进医改，深圳市在全国率先取消新建市属医院编制，取消公立医院行政级别。对在公立医院工作的医生来说，有没有编制绝对是一个沉重的问题。曾经让无数医生竞折腰的编制实为双刃剑：它既代表着保护，又是一种巨大的束缚。这种束缚因人而异：技术水平越高的医生，编制的束缚作用就越大。这是由医疗行业的特点而决定的，很简单，医生原本就该靠技术享受生活，而非躺在编制上吃饭。医院取消行政级别、医生取消编制，是一个必然的趋势。
这段文字作者主要表达了（ ）。
A. 深圳市处于国内医改的领先地位
B. 取消编制是推行医改的必经之路
C. 对医生来说编制是把“双刃剑”
D. 取消医生编制符合医改发展趋势
47. 折扇出现的时间，有说源于南北朝，有说源于唐代，有说源于明代，说法不一，但其出现晚于羽扇团扇等不具备折叠功能的扇子，应是不争的事实，羽扇算来少说也有两千年的历史。而折扇的设计，也仿佛天外来物一般无迹可寻。折扇取消了传统扇子的扇柄，并将传统的固定扇骨、扇面开创性地改作可折叠的设计，将宽敞大气的扇面收为精巧狭长的“一段”，开合间颇有“虚实相生”的妙趣，而开启时的扇形弧面与收起时的狭长立方，又有些“天圆地方”的禅意。作为一项延续数百年乃至上千年而依旧屹立不倒的设计，堪称绝妙。
下列说法与原文不符的一项是（ ）。
A. 折扇的设计中融入一定的禅意
B. 折扇的出现距今有两千年历史
C. 折扇在扇子结构上进行了创新
D. 折叠是折扇区别传统扇的特征
48. 中国早期山水画论大都讲求玄对山水，悦于画卷，二者共生同构，相契相合。山水画是一种回忆，画家并非直接对景记实，而是凭借回忆而作画，记回忆之踪迹，使记忆成形显像。_____，在书斋中卧游八方，藉图画追想游历山水之中的经验，于书斋之中领略山川之回响。作画是回忆，观画也是回忆，一种使回忆可视化，另外一种则令回忆现实化，或者说情境化；前者将造化拢聚于图画，后者却沿着图画回返造化。
填入划线部分语句最恰当的一项是（ ）。
A. 历代诸位画家只在追摹那同一幅画卷
B. 山水即山川道路及丘石林木俱为一体
C. 而观者观画之时也同样经历一次回忆
D. 而后世文人之于山水画卷之关注日甚
49. 2017年国际政治舞台上的女性领导者在数量上可能空前之多，联合国秘书长的重要候选人中有几名是女性，此外，除了英国和德国，智利、挪威、韩国等国家的领导人也是女性。如果希拉里在今秋赢得大选，世界政坛将再增一名重量级女元首。虽然每位女性领导者各不相同，但她们往往会努力打破“富有同情心”或“软弱”的刻板印象。女性在某些方面比男性更能胜任领导角色，一项报告表明，女性比起男性更倾向于“跨意识形态和社会领域的合作”，能更好地驾驭社会多元和民族分化问题。此外，女性领导者对暴力问题的解决与和平建设也有显著作用。女政客还能在谈判桌上带来更多元化的政治议题，这些议题尤其关乎妇女、儿童和弱势群体。
这段文字主要说明了（ ）。
A. 解释政治舞台女性领导人增多的原因
B. 介绍近年国际女性领导者增多的现象
C. 预测未来国际政坛将由女性政客掌权
D. 表明女政治家数量未来应当逐渐增多

50. 现在很多年轻人不欢迎父母来探望自己，让人讶异。日前一项调查显示，48.0%在外居住的受访者表示，不愿父母来探望自己，其中，8.3%的受访者直言“非常介意”，最大的原因，是没时间和精力陪父母。对个中缘由稍作思量，亦可释然。这些年轻人并非拒绝亲情，更非厌弃父母，只是爱得辛苦。无论是没时间和精力陪父母，还是不想让父母担心，乃至不想让父母辛苦，哪一点不是浸润着浓浓的孝意？不愿父母来探望，不是因为家庭出了问题，而是说明出现了家庭问题。它与社会问题息息相关，折射出流动时代普遍的精神生活问题。

这段文字接下来最有可能谈论（ ）。

- A. 年轻人不欢迎父母来探望自己的真实原因 B. 现存社会问题及对年轻人精神状态的影响
C. 对年轻人进行孔孟儒家思想教育的必要性 D. 落实员工亲情假让家庭团聚不再成为奢望

51. ①唯一的理由就是，高工资体现的是高生产率
②北上广等一线城市工资高的现象不是中国独有
③人们青睐北上广，一个显而易见的原因是，北上广的就业机会更多、更丰富
④在美国，在大城市的大都会区工作的工人收入比不在大都会区工作的工人高出了30%
⑤可为什么大城市里的公司愿意付给工作者更多的工资？为什么公司要在人力、土地成本高昂的大城市里继续做生意？
⑥高工资，以及对高工资的预期也是吸引人们涌入北上广的原因之一

下列排序正确的一项是（ ）。

- A. ②⑤①③⑥④ B. ⑤④②①③⑥
C. ③⑥②④⑤① D. ①②⑤④③⑥

52. ①为修复一件更残破，几乎一半都被腐蚀的青铜器，青铜器修复师和同事一起花费一整年的时间
②归根到底，这“致命的气质”来源于坐得住的耐心和不凑合的初心
③因为追求的并非工件和数量，而是价值和品格
④在故宫修复文物的匠人身上有种“致命的气质”
⑤为修复一座破损严重的乾隆时期铜镀金乡村音乐水法钟，钟表修复师王津花费八个月的时间
⑥这种“致命的气质”是什么？

下列排序正确的一项是（ ）。

- A. ④⑥①⑤③② B. ⑥④②③⑤①
C. ④⑥⑤①②③ D. ②③④①⑥⑤

53. 国内高校在原本大街廓的城市肌理下，都围占着一块很大的区域，周边社会交通只能绕行，这是造成城市交通拥堵的原因之一。如果能够将部分高校道路向社会开放，这对完善城市路网体系，缓解城市交通拥堵有积极作用。但是，很多人担心，校园道路向社会开放后，校园宁静的氛围将会被打破，校园安全将得不到保障，学校停车难的问题更将进一步突显。校园道路向社会开放，并不意味着校园无条件、无管制地向社会开放：在一些学生聚集的生活学习区域，可以设置一定范围的机动车禁行区域；校内楼宇则可完善门禁系统、视频监控等。此外，还可以聘请社会保安公司，加强校园的安全巡逻。一些校园内的重要道路采用分时段的方式对社会车辆开放，在学生上学、放学时段则不允许社会车辆通行。

这段文字的中心意思是（ ）。

- A. 高校在市区占地面积大是交通拥堵的重要原因
B. 共用道路可完善城市路网并缓解城市交通拥堵
C. 将部分高校道路向社会开放会引发一系列问题
D. 开放高校道路有诸多问题需提前做好解决方案

54. 这个世界上，能让一百多个在世的诺贝尔奖获得者共同谴责的对象并不多，绿色和平“光荣”地成为其中一个。1999年，科学家Potrykus及其同事创造了世界上第一种含有β胡萝卜素的大米，因其有别于其他大米的金黄色外表而得名“黄金大米”。由于无法在科学上攻击黄金大米，“绿色和平”从技术角度加以反对：黄金大米无法产生足够的β胡萝卜素。确实，黄金大米在诞生之初，无法提供足够的β胡萝卜素治疗维生素A缺失问题。但是经过多年的改良，黄金大米治疗维生素A缺失的效果越来越好。2003年，比最早版本多8倍β胡萝卜素的黄金大米诞生，2005年，20倍。

下列说法与原文不符的是（ ）。

- A. 绿色和平与诺贝尔获奖者观点背道而驰
B. 黄金大米出现前的大米不含β胡萝卜素
C. 黄金大米难以有效的治疗维生素A缺失
D. 改良后黄金大米中β胡萝卜素大大提高

55. 迈入移动互联网时代，信息传播的方式发生了巨大的变革，人们更多地依赖网络来获取资讯，越来越少地捧起书本阅读，然而即便互联网为我们接收信息提供了极大的便利，书本也是不可被抛弃的，阅读对人类而言仍拥有重要的价值。我们在微博、微信上读的文章表面上是知识，但事实上这些知识是以一种碎片化的方式传播的，是资讯，资讯和知识是不一样的，资讯是破碎的，像快餐一样，知识是成系统的，有结构的，而学习知识最好的方式，还是应该通过纸质书的阅读。

这段文字旨在说明（ ）。

- A. 互联网时代的信息传播方式更多样化
B. 只有形成系统的知识才能获得智慧
C. 碎片化阅读是现今时代快节奏的产物
D. 互联网时代仍然需要纸质书籍的阅读

56. 近年来，频频见诸媒体的校园暴力事件引发了全社会关注。在公众普遍的不满与愤怒之下，有一种声音很有市场，即主张降低刑事责任年龄，以动用刑罚严惩校园欺凌者。对这一主张，需要认真辨析。客观地说，当前公众对校园欺凌现象的焦虑，某种程度上因为过度关注而被夸大了。然而，试图通过降低刑事责任年龄来遏制校园暴力，无论从理论还是实践角度都行不通。在我国，以14周岁为刑事责任最低年龄是我国刑法发展与进步的结果，这种孩子之间的互相欺凌乃至实施其他不良行为，在某种程度上也是“成长中”的现象。对未成年人的不良行为包括欺凌行为，应当给予必要的宽容，尤其是刑法的干预要保留必要的“谦抑”。面对校园欺凌现象频发，要更多反思家长、学校、社会乃至国家的责任，并进行相应的制度完善。

下列说法正确的一项是（ ）

- A. 青少年中的暴力欺凌是成长中正常现象
B. 我国刑事责任最低年龄符合目前中国国情
C. 我国应当借鉴国外的校园暴力事件处理方式
D. 对未成年人所犯的错误应当给予原谅

57. 日前，交通运输部提出将探索高速公路分时段差异化收费的政策，引发舆论关注。分时段差异化收费将真正降低人们的过路成本还是变相涨价，成为争议的焦点。适当降低夜间收费标准，不仅可以减轻企业物流成本，还将分流部分白天的货车，减轻对国道的压力；然而这一举措也可能导致现行节假日小型客车免费通行政策的终结，六成网友认为大多数高速公路拥堵问题并不严重，采用动态价格调整收费标准意义不大。面对我国收费公路运营收支目前处于净亏损状态的现状，高速公路收费事关企业，事关经济，事关民生。由此看来，在制定收费标准、设计收费方式上，还要坚守住“降本增效”的初心。

这段文字的核心语义是（ ）。

- A. 高速公路收费降价才是民生之举
B. 分时段差异化要考虑“降本增效”
C. 分时段差异化这一举措利大于弊
D. 民众对分时段差异举措持怀疑态度

58. 在人与自然的关系方面，中国古代主张“天人合一”，即人要与自然相协调。“天人合一”观念在先秦时期就已产生，宋代张载第一个明确地提出了“天人合一”的理念，他认为人生的最高理想就是天人协调。中国古代的天人合一思想有非常复杂的内涵，有精华也有糟粕，认为人可以认识自然、改造自然，但这种与自然的互动是以自然的承受力为基础的，主要强调的是人与自然的协调统一，人类不能无限度地改造自然，甚至破坏自然。在顺从自然规律，不过度开发的前提下，人与自然是可以达到和谐互动的。这对今天我们的生态文明建设也有重要的借鉴意义。

这段文字意在说明（ ）。

- A. 只有顺从自然生态文明才能得到保护
- B. “天人合一”的理念中国自古就存在
- C. 人与自然协调的前提是不能无限开发
- D. 宋代张载的思想给后人留下智慧财富

59. 电影是工业时代的消费品，讲求经济效益，追求投资回报比，无可厚非。不过，“套路”太深，却容易把自己套住。缺乏原创、粗制滥造，觉得市场运作就是一切，觉得明星出演就能成功，这样的反例已经太多。其实，艺术作品不只是娱乐工具，优秀作品莫不有着浓厚的人文情怀。《可可西里》用悲壮故事展现人类保护自然生灵的坚持和决绝，《钢琴》用略带幽默与辛酸的故事讲述普通人如何面对被锁定的命运，《推拿》以盲人的世界隐喻人心与人生的困境……不管是对社会暗角的观察、对现实情况的关注还是对世道人心的洞察，好作品绝不会是一张“画皮”。“空口袋立不起来”，不管什么时代，无论什么题材，说到底还是“内容为王”。

这段文字意在说明（ ）。

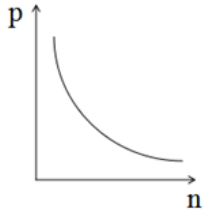
- A. 电影市场不应当片面追求投资回报比
- B. “套路太深”是电影目前的主要弊病
- C. 优秀电影重要的是内容而非哗众取宠
- D. 好的艺术作品不是空有其表的娱乐工具

60. 这个夏天，中国从南到北的很多地区遭遇洪灾，比如河北邢台一个村庄被淹，好几个孩子在洪水中丧命。巨大的生命财产损失，提醒整个社会展开更深入的反思。值得注意的是，今年受灾之后，网上“今不如昔”的感慨不少。被淹的村民指责地方政府和官员抗洪救灾不力，参与抗洪的基层官员抱怨“我们水里干，百姓看翻船”。这种相互不满的背后，反映的是基层官民之间的失信甚至情绪对立。敌对情绪之下，防汛救灾陷入某种程度的混乱，也就不难理解。

作者意在说明（ ）。

- A. 应努力提高我国的抗险排洪能力
- B. 只有政府取得信任才能避免灾难
- C. 群众应当与政府同舟共济抗洪灾
- D. 官民间的情绪对立造成抗洪无序

75. 某班级除甲、乙两人之外还有 n 名学生（ n 为正整数），现班级所有学生重新随机分配座位，每张课桌均安排两名学生，若学生总人数为奇数，则有一人独占一张课桌。则以下哪个图形最能反应甲、乙恰好同桌的概率 p 随 n 取值的变化趋势？（ ）




第四部分 判断推理


一、图形推理。请按每道题的答题要求作答。

请开始答题：

76. 从所给的四个选项中，选择最合适的一个填入问号处，使之呈现一定的规律性：（ ）



77. 从所给的四个选项中，选择最合适的一个填入问号处，使之呈现一定的规律性：（ ）



78. 从所给的四个选项中，选择最合适的一个填入问号处，使之呈现一定的规律性：（ ）



79. 从所给的四个选项中，选择最合适的一个填入问号处，使之呈现一定的规律性：（ ）



80. 左图是给定的立体图形、将其从任一面剖开，下面哪一项不可能是该立体的截面？（ ）



81. 把下面的六个图形分为两类，使每一类图形都有各自的共同特征成规律，分类正确的一项是：（ ）



- A. ①②⑥, ③④⑤ B. ①②④, ③⑤⑥
C. ①④⑤, ②③⑥ D. ①②③, ④⑤⑥

82. 把下面的六个图形分为两类，使每一类图形都有各自的共同特征成规律，分类正确的一项是：（ ）



- A. ①②④, ③⑤⑥ B. ①⑤⑥, ②③④
C. ①③⑤, ②④⑥ D. ①④⑤, ②③⑥

83. 把下面的六个图形分为两类，使每一类图形都有各自的共同特征成规律，分类正确的一项是：（ ）




- A. ①②③, ④⑤⑥ B. ①④⑥, ②③⑤
C. ①⑤⑥, ②③④ D. ①②⑤, ③④⑥

84. 把下面的六个图形分为两类，使每一类图形都有各自的共同特征成规律，分类正确的一项是：（ ）



- A. ①②④, ③⑤⑥ B. ①②⑥, ④③⑤
C. ①③④, ②⑤⑥ D. ①②③, ④⑤⑥

85. 把下面的六个图形分为两类，使每一类图形都有各自的共同特征成规律，分类正确的一项是：（ ）



- A. ①②③, ④⑤⑥ B. ①④⑥, ②③⑤
C. ①③⑤, ②④⑥ D. ①③⑤, ②④⑥

二、定义判断。每道题先给出定义，然后列出四种情况，要求你严格依据定义，从中选出一个最符合或最不符合该定义的答案。注意：假设这个定义是正确的，不容置疑的。

请开始答题：

86. 边际效应是指其他投入固定不变时，连续地增加某一种投入，所新增的产出或收益反而会逐渐减少。也就是说，当增加的投入超过某一水平之后，新增的每一个单位投入换来的产出量会下降。根据上述定义，下列可以用边际效应解释的是（ ）。
- A. 锦上添花
 - B. 春晚越办规模越大，但是收视率却逐年下降
 - C. 嗜酒如命的人，越喝越高兴
 - D. 集邮爱好者终于收集到了十二生肖套票的最后一张
87. 循环论证指以所主张的观点本身为根据来证明这种观点为真的谬误论证。循环论证的直接形式是：因为A，所以A；循环论证的相对形式是：因为A，所以B，因为B，所以A。根据上述定义，不属于循环论证的是（ ）。
- A. 铁之所以能压延，是因为铁有压延性
 - B. 圣经说神存在，因为圣经是神的话语，故圣经必然正确无误，所以神是存在的。
 - C. 过去的太阳都从东方升起，所以明天的太阳也会从东方升起
 - D. 吸鸦片之所以会令人昏睡，是因为鸦片有令人昏睡的作用
88. “塔西佗陷阱”，得名于古罗马时代的历史学家塔西佗。通俗地讲就是指当政府部门失去公信力时，无论说真话还是假话，做好事还是坏事，都会被认为是说假话、做坏事。根据上述定义，下列哪项可以避免塔西佗陷阱的是（ ）。
- A. 人无忠信，不可立于世
 - B. 国有诚信必兴，家有诚信必和，人有诚信必贤
 - C. 马先驯而后求良，人先信而后求能
 - D. 宁可穷而诚实，不可富而失信
89. 退税是指国家按规定对纳税人已纳税款的退还，即国家为鼓励纳税人从事或扩大某种经济活动而给予的税款退还。根据上述定义，不属于退税行为的是（ ）。
- A. 海关将实征税额大于应征税额的部分退还给纳税人
 - B. 对出口产品退还其在国内生产和流通环节实际缴纳的税费
 - C. 在境内经加工、制造或修理后复出境的货物退还已缴纳的关税税额
 - D. 企业代扣代缴员工个税时可以相应地从税务机关取得返还的手续费
90. 占有指占有人对不动产或者动产的实际控制。占有人不知道自己是无权占有的，为善意占有；明知自己属于无权占有的，为恶意占有。根据上述定义，下列属于恶意占有的是（ ）。
- A. 甲在路上遇到走失的宠物狗，出于善心将其带回家自己抚养
 - B. 乙暂时保管朋友落在自己家的手机打算第二天归还给本人
 - C. 丙因同事没有准时还钱而留下其质押的笔记本电脑
 - D. 丁在修车摊上购买他人偷来的自行车
91. 周期性失业又称为总需求不足的失业，是由于整体经济的支出和产出水平下降即总需求不足而引起的短期失业，它一般出现在经济周期的萧条阶段。根据上述定义，下列属于周期性的是（ ）。
- A. 某厂商考虑到经济前景黯淡压缩生产导致大量员工失业
 - B. 每年冬天会有大量的采藕人在洞庭湖工作，结束后这批人处于失业状态
 - C. 很多应届毕业生因为缺乏工作经验很难找到工作而失业
 - D. 工厂因引进更为先进的流水线而辞退了一部分富余劳动力

92. 谁主张谁举证指当事人对自己提出的主张提供证据并加以证明。换言之，即当事人对自己的主张，要自己提供证据证明。
根据上述定义，下列符合谁主张谁举证规则的是（ ）。
- A. 甲起诉乙欠自己的钱不还，乙欠款的相关证据需要甲提供
B. 甲起诉乙的狗咬伤自己，乙提供证据证明是甲的过错
C. 甲起诉乙医院发生医疗事故，乙医院提供证据证明不存在医疗过错
D. 甲起诉乙公司环境污染损害健康，乙企业提供证据并无污染环境的行为
93. “亲和效应”指人们往往会因为彼此存在着某种共同或近似之处，感到相互更容易接近；接近后，又因此萌生亲切感。这些共同之处，可以是血缘、地域、学缘，也可以是志向、兴趣、爱好、利益。
下列属于亲和效应的是（ ）。
- A. 小李作为新入职的员工，为了引起领导的重视，常常与大家意见相左
B. 王某的女儿18岁，身患残疾而无法正常行走，内心很自卑，不愿与人交往
C. 李某参加相亲，得知对面的男士跟自己一样也是四川人，顿时显得轻松自如
D. 张某儿子被学校开除，张某带人到学校闹事
94. 休假式治疗是指很多人因为工作强度大、连续时间长、精神长期高度紧张会导致失眠，神经性紊乱身体机理分泌失调等亚健康状态甚至引发多种心脑血管病症，而治疗方案往往要改变其工作作息状态，使其在一段时间内处于无工作的放松状态，辅助以药物来调整其身体正常代谢的治疗手段。
下列各项属于休假式治疗的是（ ）。
- A. 张某最近与妻子关系紧张，夫妻双方常常一见面就吵架，张某决定去外地的朋友家呆一段时间使双方都有一段冷静的时期
B. 马某作为某培训机构的培训师，在培训高峰期时连续工作42天，夜晚失眠在加之身体多种不适，晕倒在讲台上，马某毅然决定休息半年，调养身体
C. 王某坐飞机度假，飞机刚刚起飞没多久就发生事故，王某过度惊吓导致昏迷
D. 岳某为某煤矿的矿工，最近任务量吃紧，岳某带领本组成员在地下连续工作36小时，由于长期不见光，岳某突然失明，单位为其各地寻求名医
95. 通感又叫“移觉”，指在描述客观事物时，用形象的语言使感觉转移，将人的听觉、视觉、嗅觉、味觉、触觉等不同感觉互相沟通、交错，彼此挪移转换，将本来表示甲感觉的词语移用来表示乙感觉，使意象更为活泼、新奇的一种修辞方式。
根据上述定义，下列涉及通感的是（ ）。
- A. 日出江花红胜火，春来江水绿如蓝
B. 羌笛何须怨杨柳，春风不度玉门关
C. 两个黄鹂鸣翠柳，一行白鹭上青天
D. 天阶夜色凉如水，坐看牵牛织女星

三、类比推理。每道题先给出一组相关的词，要求你在备选答案中找出一组与之在逻辑关系上最为贴近，相似或匹配的词。

请开始答题：

96. 百合：百年好合
- A. 牡丹：富贵平安
B. 梅花：岁寒三友
C. 鲤鱼：年年有余
D. 石榴：多子多福
97. 外卖：餐饮业
- A. 快件：运输业
B. 网店：旗舰店
C. 网银：银行业
D. 机器：劳动者
98. 谚语：社会经验
- A. 俗语：广为流传
B. 歇后语：形象风趣
C. 成语：固定词语
D. 惯用语：习惯表达

99. 章鱼：鱿鱼：乌贼
- A. 桂圆：龙眼：荔枝
B. 汤圆：元宵：汤团
- C. 凤梨：菠萝：榴莲
D. 番茄：紫茄：土豆
100. 逻辑：形式逻辑：非形式逻辑
- A. 推理：完全归纳：不完全归纳
B. 论证：类比论证：或然性论证
- C. 概念：集合概念：非集合概念
D. 思维：定性思维：批判性思维
101. 牛奶：酸奶：奶茶
- A. 竹子：竹筏：桌椅
B. 海水：盐分：淡水
- C. 稻谷：水稻：米饭
D. 面粉：馒头：面条
102. 教育：素质教育：人格教育
- A. 慈善：红十字会：壹基金
B. 文化：传统文化：非物质文化
- C. 科学：人文科学：社会科学
D. 音乐：流行音乐：摇滚
103. 茶叶对于（ ），相当于（ ）对于西方
- A. 印度：饮料
B. 东方：舰船
- C. 中国：咖啡
D. 瓷器：美国
104. 雾霾对于（ ）相当于（ ）对于植树
- A. 口罩：土地沙化
B. 工厂停业：水土流失
- C. 汽车尾气：臭氧空洞
D. 净水器：沙尘暴
105. 中秋节对于（ ）相当于（ ）对于月上柳梢头
- A. 露似珍珠月似弓：元宵节
B. 东南见月几回圆：清明节
- C. 凉月如眉挂柳湾：灯节
D. 今夜月明人尽望：上元节

四、逻辑判断。每道题给出一段陈述，这段陈述被假设是正确的，不容置疑的。要求你根据这段陈述，选择一个答案。注意：正确的答案应与所给的陈述相符合，不需要任何附加说明即可以从陈述中直接推出。

请开始答题：

106. 如果时间倒退400年，在北极附近的海岸，你也许会看到类似企鹅一般的海鸟——大海雀。大海雀大约七八十厘米长，大约5千克重，也是扑扇着一对小到可笑的翅膀，在陆地上摇摇摆摆地成群行走。同企鹅一样，大海雀的羽毛下充满了脂肪，能帮助它们抵御严寒。虽然大海雀和南极的企鹅在亲缘关系上差得很远，而且老死不相往来，但由于它们生活在类似的寒冷环境中，结果在进化过程中变得惊人地相似。生物学家称这种现象为“趋同进化”。由此可以推出的是（ ）
- A. 大海雀因环境因素最终进化成企鹅
B. 如今在北极地区已经看不到大海雀
- C. 人类的贪婪最终导致大海雀的灭亡
D. 大海雀的羽毛能够给人们带来丰厚的利润
107. 某学校推选学生参加市里举办的知识竞赛，年级主任说：“如果不推选小王或小孙的话，那么就推选小周去参赛。”校长说：“我不同意。”据此，下列哪项判断最为准确地表达了校长实际同意的意思？
- A. 小王和小孙参赛，小周不参赛
B. 小王和小孙不参赛，小周参赛
- C. 小王、小孙、小周不都被推选去参赛
D. 小王、小孙、小周都不被推选去参赛

108. 为什么春节、感恩节以及圣诞节等适合家人团聚的节日都发生在冬天？专家认为，寒冷与孤独感之间存在着某种联系。当一个人感到隔绝与孤独时，周遭的环境会变得越发寒冷。这并不只是形容人情冷暖的修辞，而是实实在在的感觉。如果以下各项为真，最能支持上述观点的是（ ）
- A. 身体上感觉到热量有助于保持人的心态健康
 - B. 冬天因孤单而咨询心理医生的人数有明显的上升
 - C. 生理上的寒冷可以通过心理上的温暖来治愈
 - D. 很多表达家庭温馨的电影选择在冬季上映
109. 甲、乙、丙、丁四位影迷有这样一段对话。甲说：“如果A电影能入围最佳影片，那么B演员就能入围最佳男主角。”乙说：“我不认为A电影入围不了或者B演员能入围。”丙说：“A电影绝对能入围最佳影片。”丁说：“B演员入围不了最佳男主角。”如果四个人中只有一个人说对了，那么可以推出（ ）
- A. A电影和B演员都入围不了
 - B. A电影可以入围最佳影片，但B演员入围不了最佳男主角
 - C. A电影入围不了最佳影片，但B演员可以入围最佳男主角
 - D. A电影和B演员都可以入围
110. 亚伯拉罕·林肯曾在书中写到：“母鸡是最聪明的动物，因为她只在下完蛋后才高声炫耀。”母鸡在下完蛋后的确是会咯咯叫，但是从演化角度，母鸡下完蛋后理应“闭嘴不言”，以从天敌嘴下保住后裔。然而一种假说认为，母鸡下完蛋后的咯咯叫声，有助于保护自己的蛋。如果以下各项为真，不能加强上述假说的是（ ）。
- A. 母鸡鸣叫悠长断续，捕食者可以听到但难以定位
 - B. 在远离巢穴与蛋的地方鸣叫以转移捕食者的注意力
 - C. 母鸡的鸣叫可以起到快速召唤同伴进行防御的作用
 - D. 母鸡下蛋后鸣叫可能提升此后短时间的交配概率
111. 有调查数据显示：在社会竞争中，外表吸引力足可带给一个人许多优势——教师倾向于忽视可爱学童的劣迹，有魅力的成年人总体收入更高，婚姻幸福比例也更高，甚至就连他们走在人行道上时，路人都会无意识地自发为其让出更大空间。如果以下各项为真，最能支持上述观点的是（ ）
- A. 定期运动和均衡营养能够很有效的改善外表
 - B. 近几年来有关医疗整容事故的报道层出不穷
 - C. 男女两性的吸引力随着年龄增大均呈现递减
 - D. 外表成熟稳重的人更容易在求职过程中取得成功
112. 病毒在不同物种之间能够担任基因传递员的角色，有一些基因被病毒带入新宿主体内后，能够给新宿主带来有利的生物学功能，这样的基因在进化过程中就有可能在新宿主的基因组内保存下来，并不断地传递下去。病毒促进了不同物种之间的基因交流，而这正是生物进化的重要途径之一。如果以下各项为真，最能加强上述观点的是（ ）
- A. 病毒的存在可以筛选和保留下免疫力强大的个体从而推动生命的演化
 - B. 病毒在特定条件下具有一定的生命特征但自己却无法完成任何生命过程
 - C. 在人类的基因组中有高达10万条片段来自病毒
 - D. 据科学家统计，病毒每年就能在不同物种之间传递一万万亿个基因

113. 美国科学发展协会曾做过一个关于人们认知的实验，该实验由招录了的66位肥瘦不一的实验者，让他们目测路程长度。实验负责人发现，面对同样实际长度为25米的路程，行动不便的肥胖者认为其足有30米；行动自如的瘦子认为其只有15米。总体来说，肥胖者目测出来的路程距离要比普通体重者长约10%。如果以下各项为真，最能解释上述现象的是（ ）
- A. 完成任务的能力不同会让人们在认知上增加困难
 - B. 认知能力不足会让其所见的事实发生轻微扭曲
 - C. 在对事实的认知上，人们都认为自己看到的是事实
 - D. 胖子在认知和行为上受到非常不公平的对待
114. 对于抱怨者的悲剧，我们是如此无能为力，于是我们很快感到绝望。为了不让自己的情绪被“负能量”拉到谷底，我们暗下决心，未来倘远远望见抱怨者，务必目不斜视、即刻逃离。由此可以推出（ ）
- A. 如果自己的情绪被“负能量”拉到了谷底，那么说明望见了抱怨者
 - B. 如果自己的情绪没有被“负能量”拉到了谷底，那么说明没有望见抱怨者
 - C. 如果望见了抱怨者没有逃离，那么自己的情绪会被“负能量”拉到谷底
 - D. 如果望见了抱怨者目不斜视即刻逃离，那么自己的情绪就不会被“负能量”拉到谷底
115. 有研究人员指出，抑郁症并非只是一件令人痛苦的事情，而是有其特别的意义，但是我们的医疗干预措施正使其更加恶化。正如发烧是免疫系统对感染的对抗反应：通过提高体温，使白细胞开始战斗，抑郁症可能是人们对痛苦的一种适应性反应。因此，人们对于抑郁症的忍受并非是徒劳的。如果以下各项为真，最能支持上述观点的是（ ）
- A. 某种程度上抑郁会让人对人际关系有深入的理解
 - B. 抑郁症使人们对死亡思考颇多从而引发自杀性现象
 - C. 抑郁症是一种很常见同时也很严重的疾病
 - D. 苦难是人生取得成功的先决条件

第五部分 资料分析

针对下列图、表或文字回答问题。你应根据资料提供的信息进行分析、比较、计算、处理。你可以在题本上运算。

请开始答题：

一、根据以下材料，回答问题。

初步核算，2015年一季度我国国内生产总值140667亿元，同比增长7.0%，增速同比下降0.4个百分点。分产业看，第一产业增加值7770亿元，同比增长3.2%；第二产业增加值60292亿元，增长6.4%；第三产业增加值72605亿元，增长7.9%。从环比看，一季度国内生产总值增长1.3%。

一季度，固定资产投资（不含农户）77511亿元，同比名义增长13.5%。其中，国有控股投资23611亿元，增长14.4%；民间投资50349亿元，增长13.6%，占全部投资的比重为65%。分产业看，第一产业投资1553亿元，同比增长32.8%；第二产业投资31361亿元，增长11.0%；第三产业投资44597亿元，增长14.7%。

一季度，全国房地产开发投资16651亿元，同比名义增长8.5%（扣除价格因素实际增长9.5%），其中住宅投资增长5.9%。房屋新开工面积23724万平方米，同比下降18.4%，其中住宅新开工面积下降20.9%。全国商品房销售面积18254万平方米，同比下降9.2%，其中住宅销售面积下降9.8%。全国商品房销售额12023亿元，同比下降9.3%，其中住宅销售额下降9.1%。房地产开发企业土地购置面积4051万平方米，同比下降32.4%。3月末，全国商品房待售面积64998万平方米，同比增长24.6%。

一季度，社会消费品零售总额70715亿元，同比名义增长10.6%（扣除价格因素实际增长10.8%）。其中，限额以上单位消费品零售额32472亿元，增长7.8%。按经营单位所在地分，城镇消费品零售额60709亿元，同比增长10.4%，乡村消费品零售额10007亿元，增长11.6%。3月份，社会消费品零售总额同比名义增长10.2%（扣除价格因素实际增长10.2%），环比增长0.71%。

116. 若保持环比增速不变，则2015年第二季度，我国国内生产总值约为：（ ）

- A. 138862
- B. 141573
- C. 142496
- D. 150514

117. 2014年第一季度，第二产业投资是第一产业投资的（ ）倍。

- A. 18
- B. 21
- C. 24
- D. 27

118. 2015年第一季度全国房地产开发企业土地购置面积同比下降了（ ）万平方米。

- A. 991
- B. 1351
- C. 1643
- D. 1942

119. 2015年第一季度，全国住宅销售单价同比：（ ）

- A. 提高了0.64%
- B. 提高了0.78%
- C. 下降了0.1%
- D. 下降了0.64%

120. 根据材料，以下说法不正确的是（ ）。

- A. 2015年第一季度，三大产业中第三产业增加值的增长最多
- B. 与去年同期相比，2015年第一季度，第一产业投资占固定资产投资（不含农户）的比重有所下降
- C. 2015年第一季度，三大产业中，第二产业投资增速最慢
- D. 2015年1-2月社会消费品零售总额同比名义增速高于1-3月

二、根据以下材料，回答问题。



121. 2015年第一季度到2016年第二季度，我国居民人均可支配收入最低的季度是：（ ）
- A. 2015年第一季度
 - B. 2015年第二季度
 - C. 2016年第一季度
 - D. 2016年第二季度

三、根据以下资料，回答问题。



130. 关于我国2015年货物进出口情况，以下说法正确的是（ ）。

- A. 我国对主要国家和地区的货物进口额均比去年有所下降
- B. 我国对美国 and 东盟的进口额下降的一样多
- C. 机电产品出口额是高新技术产品出口额的近2倍
- D. 加工贸易进口额占货物进口额的比重高于上年同期

六、根据以下材料，回答问题。

2015年年末全国大陆总人口137462万人，比上年末增加680万人，其中城镇常住人口77116万人，占总人口比重（常住人口城镇化率）为56.10%，比上年末提高1.33个百分点。全年出生人口1655万人，出生率为12.07‰；死亡人口975万人，死亡率为7.11‰。

2015年全年国内生产总值676708亿元，比上年增长6.9%。其中，第一产业增加值60863亿元，增长3.9%；第二产业增加值274278亿元，增长6.0%；第三产业增加值341567亿元，增长8.3%。



131. 2015年，全国人均国内生产总值增长：（ ）

- A. 1.8%
- B. 5.6%
- C. 6.4%
- D. 7.8%

132. 2010—2014年这五年，四大直辖市中地区生产总值年均增量最大的是：（ ）

- A. 北京
- B. 天津
- C. 上海
- D. 重庆

133. 三次产业中，2015年增加值占国内生产总值比重高于上年的有几个？（ ）

- A. 0
- B. 1
- C. 2
- D. 3

134. 2010-2014年，城镇人口占比变化最大的年份，其人口增长了：（ ）

- A. 641
- B. 644
- C. 668
- D. 710

135. 以下选项不能从材料中推出的是：（ ）

- A. 2014年城镇人口增长率
- B. 2014年上海市生产总值在国内生产总值中所占比重
- C. 2010-2014年，乡村人口年均增长率
- D. 2014年我国大陆人口出生率