

第一部分 常识判断

根据题目要求，在四个选项中选出一个最恰当的答案。

请开始答题：

1. 下列关于“海上丝绸之路”的说法错误的是（ ）。
 - A. 是陆上丝绸之路的一种补充形式
 - B. 是意大利人马可波罗回国所走之路
 - C. 始于秦汉，繁荣于唐宋，衰落于明清
 - D. 是古代中外贸易和对外交往的海上通道
2. 某高校拟结合9月份我国通行的节日、纪念日举办校园文化系列活动，下列哪些主题会出现在当月的活动项目计划中（ ）。
 - ①学习国防知识，增强国防观念
 - ②缅怀抗战先烈，弘扬抗战精神
 - ③吾爱吾师，感念师恩
 - ④节约粮食，从我做起
 - ⑤口腔健康，全身健康
 - A. ①③④⑤
 - B. ①②④⑤
 - C. ②③④⑤
 - D. ①②③⑤
3. 下列我国的世界遗产不属于多省联合申遗的是（ ）。
 - A. 中国丹霞
 - B. 大足石刻
 - C. 土司遗址
 - D. 丝绸之路
4. 下列关于国际战争的说法错误的是（ ）。
 - A. 前苏联于1978年入侵阿富汗，持续十余年
 - B. 1990年开始的海湾战争源于伊朗入侵科威特
 - C. 中东战争是以色列与周边阿拉伯国家所进行的5次大规模战争
 - D. 1982年4月—6月，英国和阿根廷爆发了马尔维纳斯群岛海战
5. 下列关于世界古代文明的说法正确的是（ ）。
 - A. 《理想国》的作者是古希腊哲学家苏格拉底
 - B. 公元1世纪前后，罗马帝国分裂为东罗马帝国和西罗马帝国
 - C. 古埃及人建造的胡夫金字塔是世界上现存规模最大的金字塔
 - D. 世界四大文明古国是指古代埃及、古代希腊、古代印度和古代中国
6. 下列哪一选项不属于孔子提倡的教学方法（ ）。
 - A. 因材施教
 - B. 学而优则仕
 - C. 启发诱导
 - D. 学思行结合
7. 自来水厂用来进行水消毒处理的常用化学试剂是（ ）。
 - A. 臭氧
 - B. 氯气
 - C. 过氧化氢
 - D. 碘伏
8. 王某将自家三层楼房的承建工程承包给没有施工资质的包工头李某。双方合同约定，李某“包工不包料”，在施工过程中产生的一切责任由李某承担。李某找来邻居张某帮工，工资100元/天。施工过程中脚手架倒塌，将在地面上递砖块的张某压成重伤。张某要求包工头李某赔偿医药费、误工费等。李某不肯，双方闹至法院。那么，下列说法正确的是（ ）。
 - A. 李某承担全部责任
 - B. 王某、李某、张某都要承担责任
 - C. 李某、张某承担责任，王某没有责任
 - D. 王某、李某承担责任，张某没有责任

9. 历法是推算年月日，使其与相关天象对应并协调时间的方法。现行历法主要有三种：阳历即太阳历，主要依据为回归年；阴历或称太阴历，主要依据为朔望月；阴阳历的平均历年为回归年，历月为朔望月。那么，我国农历属于（ ）。
- A. 阴历
B. 阳历
C. 阴阳历
D. 以上都不是
10. 下列关于生活常识的表述错误的是（ ）。
- A. 水在真空中会先沸腾后结冰
B. 颜色深的汽车隔热膜的隔热效果好
C. 纯水（只有水分子）在 0°C 时不会结冰
D. 天凉时，湿润的地方比干旱的地方使人觉得更冷
11. 下列关于胎儿与母体关系表述错误的是（ ）。
- A. 胎儿和母体的血液通过脐带相通
B. 胎儿和母体具有不同的遗传物质
C. 胎儿在母体中的发育场所是子宫
D. 胎儿和母体通过胎盘进行物质交换
12. 随着我国社会逐步进入老龄化，现有的养老模式一般包括家庭养老、机构养老、社区养老和以房养老等。下列关于我国农村老人养老模式的表述错误的是（ ）。
- A. 张大爷根据四个儿子之间的协议，每月轮流到其中一个儿子家中生活
B. 王大娘的两个儿子均没空照顾老人，于是将其送到附近一家养老机构
C. 李大爷选择将房子抵押给金融机构，由金融机构每月支付其养老费用
D. 赵大娘不愿离开熟悉的社区和朋友，于是选择在社区服务机构中养老
13. 下列哪两种疾病由细菌引起（ ）。
- A. 手足口病、狂犬病
B. 麻疹、腮腺炎
C. 肺结核、破伤风
D. 非典型肺炎、水痘
14. 下列行为属于公民正确行使法定权利的是（ ）。
- ①陈某向有关部门举报公交站旁的诈骗团伙
②林某将朋友送给他的手表又送给自己弟弟
③张某在妻子中止妊娠后第四个月起诉离婚
④吴某应聘时受到用人单位性别歧视而将其起诉
- A. ①②③
B. ①②④
C. ②③④
D. ①③④
15. 近年来，粉尘爆炸事件屡见不鲜。下列粉尘中不容易引起爆炸的是（ ）。
- A. 面粉
B. 奶粉
C. 肥皂粉
D. 水泥粉
16. 下列哪一选项描述的是竞争关系（ ）。
- A. 鹬蚌相争
B. 不见兔子不撒鹰
C. 螳螂捕蝉，黄雀在后
D. 鸠占鹊巢
17. 对着电视画面拍照，应关闭照相机闪光灯和室内照明灯，这样照出的照片画面更清晰。这是因为（ ）。
- A. 闪光灯和照明灯在电视屏上的反射光会干扰电视画面的透射光
B. 闪光灯和照明灯在电视屏上的反射光会干扰电视画面的散射光
C. 闪光灯和照明灯在电视屏上的透射光会干扰电视画面的散射光
D. 闪光灯和照明灯在电视屏上的透射光会干扰电视画面的反射光

18. 香烟点燃后，所产生的能减低红血球将氧输送到全身的成分是（ ）。
- A. 焦油
B. 一氧化碳
C. 苯并芘
D. 尼古丁
19. 首因效应也叫第一印象效应，是指个体在社会认知过程中，通过“第一印象”最先输入的信息对客体以后的认知产生的影响作用。下列选项符合首因效应的是（ ）。
- A. 物以类聚
B. 削足适履
C. 恶人先告状
D. 一俊遮百丑
20. 磁共振成像系统（MRI）不可能对人体造成下列哪一种伤害？（ ）
- A. 强静磁场
B. 随时间变化的梯度场
C. 射频场导致热效应
D. 对人体的高能辐射
21. 海绵城市，是指城市能够像海绵一样，在适应环境变化和应付自然灾害等方面具有良好的“弹性”，下雨时吸水、蓄水、透水、净水，需要时将蓄存的水“释放”并加以利用。下列属于“城市海绵体”的是（ ）。
- A. 完善的地下排水管网，绿地、花园、大型写字楼等城市配套设施
B. 江河、湖、湿地等系统，绿地、花园、可渗透路面等城市配套设施
C. 完善的地下排水管网，绿地、花园、硬质柏油或水泥等城市配套设施
D. 江河、湖、湿地等系统，城市花园，硬质柏油或水泥等城市配套设施
22. 下列说法错误的是（ ）。
- A. 2016年里约热内卢举办了第31届夏季奥林匹克运动会
B. 河北张家口具有2022年第24届冬季奥运会主办资格
C. 动漫人物铁臂阿童木出任东京申奥特殊大使开创了先河
D. 北京是目前唯一获得夏季奥运会和冬季奥运会举办权的城市
23. 下列言行体现公民没有自觉履行法定义务的是（ ）。
- ①“听说你养母病了？”“与我无关，我是被收养的。”
②“听说你生父生病了？”“与我无关，我已经被叔叔收养了。”
③“爸，大学催缴学杂费了。”“你都成年了，自己挣钱交去。”
④“爸，小学催缴生活费了。”“我与你妈离婚了，找她要去。”
- A. ①③
B. ①④
C. ②③
D. ②④
24. 下列教育家与其代表作对应不正确的是（ ）。
- A. 韩愈—《师说》
B. 颜元—《存学篇》
C. 孟子—《劝学篇》
D. 陶行知—《教学做合一》
25. “云母屏风烛影深，长河渐落晓星沉”描写的是一天之中的哪一时段（ ）。
- A. 黎明
B. 午后
C. 黄昏
D. 夜半

第二部分 言语理解与表达

本部分包括表达与理解两方面的内容。请根据题目要求，在四个选项中选出一个最恰当的答案。

请开始答题：

26. 在“互联网+”时代，通过教育信息化建设，可以突破_____障碍，逐步缩小区域、城乡数字差距，扩大优质教育资源覆盖面，把优秀的教育资源送到农村去，送到最需要的地方去，让更多的孩子同在蓝天下共享优质教育。
填入划横线部分最恰当的一项是（ ）。
- A. 文化
B. 思维
C. 认知
D. 空间
27. 汛期恶劣的环境，也让查找堤坝渗漏部位和渗漏入、出水口极为困难。而如能及时对管涌渗漏进行快速_____，确定其具体位置、形状，采取相应有效措施，就能够_____洪灾中可能发生的溃坝风险。
依次填入划横线部分最恰当的一项是（ ）。
- A. 防堵 回避
B. 封堵 避免
C. 监测 避让
D. 检测 规避
28. 在动画片的题材中，童话、神话、民间故事等文化事象占有了很大的比例，就是因为这些题材都是带有浓厚幻想色彩的_____故事，具有鲜明的_____、假定与象征的因素，神奇虚幻的故事借助动画的假定性不仅可以得到淋漓尽致的表现，而且动画艺术的特性也能够得以充分的发挥。
依次填入划横线部分最恰当的一项是（ ）。
- A. 虚假 含意
B. 虚拟 喻义
C. 虚构 寓意
D. 虚幻 含义
29. 礼仪服饰庄重而_____，自生一种威仪。事实上，这种威仪感，来自礼服各个不同部件背后的渊源和寓意。而另一方面，如果将礼服层层剥开来看，就是一部_____的政治史。
依次填入划横线部分最恰当的一项是（ ）。
- A. 华美 恢弘
B. 艳丽 壮阔
C. 美丽 宏伟
D. 秀美 磅礴
30. 20世纪90年代，有人_____传统书信将被新兴的通信方式取代。然而我们惊奇地发现，传统的纸质书信依然健康发展，与电子通信方式_____，在当下生活中发挥着重要的作用。
依次填入划横线部分最恰当的一项是（ ）。
- A. 坦言 并驾齐驱
B. 预言 并行不悖
C. 断言 相向而行
D. 妄言 背道而驰
31. 古典农业社会中，人的乡愁和城市没有太大关系。彼时的乡愁大抵是怀才不遇的流荡，以及战争带来的_____和乡土难返。而现在，大多数“乡愁感慨”，是具有城市空间生存经历的人发出的；他们发愁的是“工作好不好找，能不能买得起房子”等等。过去随时可能返回的家乡，消失在现代化社会的大结构背景当中。他们对乡愁的_____可能完全不是同一个方向，甚至可能是“城愁”。
依次填入划横线部分最恰当的一项是（ ）。
- A. 背井离乡 认同
B. 流离失所 认识
C. 民不聊生 认可
D. 饥寒交迫 认知

32. 沿着卢瓦尔河，法国的历史被书写进河谷里_____的城堡群中。想要探寻几百年间法国乃至欧洲王宫贵胄间的权利斗争，窥视_____的宫廷秘事，就要从走进这一座座城堡开始。依次填入划横线部分最恰当的一项是（ ）。
- A. 鳞次栉比 不可捉摸
B. 星罗棋布 波诡云谲
C. 浩如烟海 变化莫测
D. 不计其数 变幻无常
33. 近年来，一些不负责任的谣言泛滥成灾，极大地_____着社会成本，_____着世道人心。_____网络谣言、净化网络环境已经成为包括广大网民、互联网企业和管理部门等在内的全社会的共识。依次填入划横线部分最恰当的一项是（ ）。
- A. 耗费 扰乱 遏止
B. 消耗 损害 遏制
C. 耗尽 蛊惑 禁绝
D. 侵蚀 破坏 杜绝
34. 书法一旦离开了文字所表达的思想内涵和精神境界，就如同艺术只剩下技术而毫无风骨气韵可言。书法艺术只有有了思想上的_____，文学上的滋润，文化上的_____，心灵上的寄托，才能_____出打动人心的魅力。依次填入划横线部分最恰当的一项是（ ）。
- A. 高尚 传承 展现
B. 充沛 弘扬 展示
C. 充盈 传承 彰显
D. 高贵 弘扬 凸显
35. “一带一路”的宏伟构想，从历史深处走来，融通古今、连接中外，_____和平、发展、合作、共赢的时代潮流，_____着丝绸之路沿途各国发展繁荣的梦想，_____古老丝绸之路以崭新的时代内涵，契合沿线国家的共同需求，为沿线国家优势互补、开放发展开启了新的机遇之窗。依次填入划横线部分最恰当的一项是（ ）。
- A. 追溯 实现 植入
B. 顺应 承载 赋予
C. 遵循 明晰 提出
D. 适应 承接 蕴蓄
36. 语言本身就是人类文化长期_____的智慧结晶，语言又构成人类文化最集中和最深刻的一种象征。一切人类创造的思想文化成果都需要通过语言来深度表达和精彩_____，如果将文化视为人类精神或思维自觉_____的形形色色的神奇“痕迹”，那么，语言就是这种“痕迹”中最鲜活、最深邃和最久远的核心部分。依次填入划横线部分最恰当的一项是（ ）。
- A. 演进 描述 保存
B. 培育 演绎 留传
C. 发展 诠释 存留
D. 积淀 阐释 遗留
37. 所谓类文本，指的是出版物中所有作者文字之外的部分。尽管类文本也是阅读对象，但它们_____地成为阅读的客体，甚至造成了对于文本的阅读_____，实在有_____之嫌。依次填入划横线部分最恰当的一项是（ ）。
- A. 反客为主 困难 以一持万
B. 主客颠倒 妨碍 舍本逐末
C. 喧宾夺主 障碍 本末倒置
D. 太阿倒持 艰难 轻重倒置
38. 责任心，是创业者_____的品质。经常在生活中磨练的人一定碰到过困难与荆棘、遇到过挑战与挫折、感受过真情与冷暖、领悟过付出与回报，久而久之，人的内心变得坚强，说话做事更显得担当，“责任”二字通过在潜移默化的行为训练_____到创新创业者的血液里，变成人的气节与气质，形成了独有的_____。依次填入划横线部分最恰当的一项是（ ）。
- A. 千金难求 植入 感召力
B. 不可多得 渗入 亲和力
C. 难能可贵 融入 竞争力
D. 绝无仅有 介入 创新力

39. 良好的生态环境，是最公平的公共产品，是最_____的民生福祉。当前，我国资源约束_____，环境污染严重。生态系统退化的问题十分严峻。人民群众对清新空气，干净饮水，安全食品，优美环境的要求越来越强烈。
- 依次填入划横线部分最恰当的一项是（ ）。
- A. 普遍 不力
B. 重要 紧张
C. 普惠 趋紧
D. 关键 不够
40. 随着3D打印技术的发展，人们将不再需要等待皮肤在实验室中研发出来，化妆品公司也将能够更加快速地通过_____皮肤来创建相应的模型，而且还能够创建更加强大的原型。皮肤非常薄，对3D打印而言，制造皮肤将是一个相对_____的过程。3D打印机中的一个注射器能够沿着器官线移动，并非非常缓慢地挤压出细胞溶液。然后，再一层层增加，以此达到用户所想要的厚度。
- 依次填入划横线部分最恰当的一项是（ ）。
- A. 打印 容易
B. 复制 简单
C. 保养 复杂
D. 修复 简易
41. 虽然虚拟博物馆如雨后春笋般涌现，但博物馆管理人员依然相信这对实体博物馆而言是机遇，而非冲突。“比如举世闻名的艺术作品《蒙娜丽莎》，一些3D复制品可能将画作精细到连脸部细纹都能看得一清二楚，但大家还是_____地涌入卢浮宫。因为即使复制出一模一样的《蒙娜丽莎》，博物馆里那种神圣、庄严的感觉还是无法复制。”管理人员如是说。
- 填入划横线部分最恰当的一项是（ ）。
- A. 欢呼雀跃
B. 如痴如狂
C. 情有独钟
D. 欣喜若狂
42. 研究显示，一种普通的沙漠苔藓能直接从空气中而不是地下_____水分，此项发现可被用于启发在发展中国家_____清洁饮用水的方法。包括仙人掌在内的大多数沙漠植物，依靠强大的根系_____稀有的地下水。
- 依次填入划横线部分最恰当的一项是（ ）。
- A. 吸取 收取 吸收
B. 吸收 收集 吸取
C. 吸收 收取 吸取
D. 吸取 收集 吸收
43. 今天，科技发展极大地改善了人类生活的方方面面，使得人们难以脱离科技成果，退回到现代科技之前的生活状态中。但越来越多的人也意识到，一些科技成果常常携带着_____的后果，可能对人类生活产生负面影响。
- 填入划横线部分最恰当的一项是（ ）。
- A. 昭然若揭
B. 不言自明
C. 毋庸讳言
D. 难以预测
44. 本地杂草野花由于经历了千百年的自然_____，对当地气候和土质都有极好的适应性，根本不需要过多额外的养护。而且，与属于外来物种的人工草坪相比，本地杂草野花还有一个_____就是生态安全。
- 依次填入划横线部分最恰当的一项是（ ）。
- A. 洗礼 优点
B. 进化 长处
C. 选择 优势
D. 淘汰 好处

50. 自然界产生的电磁辐射，又称为环境电磁波的本底辐射。本底辐射对人类生存环境，无不良影响。“阳光也是一种电磁辐射，亿万年来我们正是依靠阳光的照射才生存到现在。”但是，另外一类电磁辐射源所发射的电磁波，会对环境产生不良影响，对人类健康造成危害。资料显示，环境中的电磁波辐射污染源包括人类发明、制造和使用的能够产生和辐射电磁波的一切电子仪器、装置和设备。这一类电磁辐射源，被称为电磁波辐射污染源。
- 下列说法与原文不符的是（ ）。
- A. 阳光属于本底辐射中的一种
B. 雷达属于电磁波辐射污染源
C. 电磁波不会对人类造成危害
D. 本底辐射对环境无不良影响
51. 科学家们表示，年幼的狒猴会学着在别的狒猴呼喊结束后再发声，这一发现或可帮助我们_____。除了人类以外的灵长类动物都学不会发声，没有模仿所听到的声音的能力——这种能力对于说话来说必不可少。但是狒猴研究者表示，灵长类动物仍然在以近乎交谈的方式互相呼喊，因为它们会等待别人呼喊结束后再发声——而这种能力经常在语言进化的讨论中被忽略。如果这种技能是后天习得的，那么它该更接近人类的相当技能，因为婴儿是在和母亲咿咿呀呀的过程中学会这种技能的。
- 填入划横线部分最恰当的一项是（ ）。
- A. 更好的分析人类交往的方式
B. 更好地理解人类语言的起源
C. 更好的解决人类交流的障碍
D. 更好探讨人类文明的起源
52. 中国的FAST（500米口径球面射电望远镜）主体的落成为何引起海内外的热烈关注？原因有三。一是看得远。作为目前口径最大的射电望远镜，FAST在理论上可以接收到137亿光年以外的电磁信号。二是很灵活。FAST的索网结构可以随着天体移动变化，极大提升观测效率。三是高精度。FAST射电望远镜的结构，处处都是毫米级精度要求；用来编织索网手臂般粗细的钢缆，加工精度都被控制在1毫米以内；最终的天线精度是3毫米，小面板的制造精度是1.5毫米。这一切意味着我们将能倾听来自宇宙更深处的声音，观测宇宙更隐蔽的奥秘。
- 这段文字最适合的标题（ ）。
- A. 海内外热烈关注中国的FAST
B. 走进中国的FAST 走进宇宙深处
C. 中国的FAST有三大过人之处
D. 一起倾听来自宇宙深处的声音
53. 家犬是人类的好朋友，他们尽管相互之间差异巨大，这些不同的家犬群体却有一个共同的祖先——灰狼。灰狼在全球分布非常广泛，但各地的家犬并不是从各地的灰狼演化而来。从基因组DNA入手，比较来自不同地区的家犬群体的遗传多样性，研究人员发现，来自东亚南部地区的家犬群体具有最高的多样性。同时，系统发育树的结构也支持以上的结论。在系统发育树上，每一个枝的末端代表一个群体，亲缘关系较近的群体在树上的位置也会比较近。在这一研究中，来自东亚南部地区的家犬样品，都位于系统发育树的基部位置。
- 这段文字意在说明（ ）。
- A. 家犬起源于全球分布非常广泛的灰狼
B. 性情不同、形态各异的家犬有着共同起源地
C. 系统发育树原理为动物演化研究提供了支撑
D. 基因组DNA的研究根本解决了家犬起源问题

54. ①更令人震惊的是，这些土著们在语言和文化上表现出超乎想象的统一性
 ②他们没有航海设备，只有原始的舟筏，却在占据了将近地球三分之一面积的大洋中，找到了一个个孤悬海上的小岛
 ③他们有着相似的风俗习惯，在相隔极远、完全陌生的岛上，竟然可以用同一种语言进行简单交流
 ④原始的南岛语族，创造了航海奇迹
 ⑤这使得许多世纪后，“地理大发现”浪潮中驶入太平洋的西方航海家们惊异地发现，几乎他们每发现一处新的岛屿，都已有了土著们居住过的痕迹
 ⑥然后定居其上，传承和发展着自己的文化
 将上述6个句子重新排列，语序正确的是（ ）。
- A. ④⑤②①③⑥
 B. ④②⑥⑤①③
 C. ②⑥⑤④③①
 D. ③①②⑥④⑤
55. ①我们要感恩大自然造就我们的生命，给我们来到世界的机会，感恩大自然赋予我们丰富的生活所需资源
 ②宋代张载指出：“乾曰父，坤曰母”。就是说，天就是我们的父亲，地就是我们的母亲
 ③我们要树立人与天地万物同属一个生命世界、生死与共的天人观，树立感恩自然、孝敬自然、爱护自然的大自然观、大环境观和大生态观
 ④大自然是我们生命所来与所归的地方，人人来自自然，在自然界中生息，最后又回归自然
 ⑤阳光、空气和水，人们须臾不可离，没有大自然，人就无法生活，无法生存，人与自然生死攸关
 ⑥没有自然界，就没有我们的一切
 将上述6个句子重新排列，语序正确的是（ ）。
- A. ⑥④②⑤①③
 B. ③①⑤④②⑥
 C. ②④③①⑥⑤
 D. ④②⑥①⑤③
56. 作为一个信息大平台、文化大熔炉，互联网对亿万网民的求知途径、思维方式、价值观念产生着重要影响。互联网的传播优势和舆论功能，为推动信息交流、促进文化繁荣、凝聚社会共识提供了全新的渠道和手段。然而网络不是世外桃源，离开法治和道德，网络谣言、网络诈骗、网络陷阱等就会大行其道，广大网民特别是青少年就可能深受其害。全国7亿多人上网，肯定需要建设和管理，我们要加强网络内容建设，做强网上正面宣传，培育积极健康、向上向善的网络文化。
 对这段文字概括最恰当的一项是（ ）。
- A. 网络是把双刃剑，需要加强管理
 B. 网络犯罪猖獗，需加强法制约束
 C. 网络既促进交流也带来网络犯罪
 D. 网络使用需加以引导，扬长避短
57. 我国各地的雾霾，从总的方面来说是各种来源污染排放物经过一系列的化学和物理过程的产物，这里既有一次排放，还有二次化学转化和物理过程。从南到北情况十分复杂，当下的普遍情况既不同于当年伦敦的情况，也不同于洛杉矶的情况，曾有学者讲北京的情况属于“伦敦型”和“洛杉矶型”的复合型，实际上事情绝非是一个“复合型”可以概括。还让人担心的是：眼下从上到下、各省各地，从官员到普通老百姓都认为燃煤是问题的根子，似乎解决了城市燃气化以后，问题就可以大大解决了，其实我们的一次排放物或者说二次过程的出发物质绝不只是一个二氧化硫，或者说再加上一个氮氧化物那么简单。
 这段文字概括最恰当的是（ ）。
- A. 雾霾形成的原因复杂
 B. 雾霾形成的主要特点
 C. 雾霾类型具有多样性
 D. 雾霾危害具有普遍性

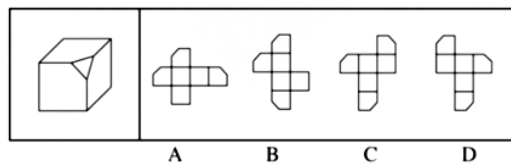
58. 维生素C又叫抗坏血酸，是一种水溶性维生素，溶液显酸性。医学研究表明，人类在不良情绪下，会产生过多氧自由基，损伤细胞和组织，导致皮肤失去弹性，出现皱纹。而维生素C与氧自由基发生反应，从而清除自由基，可有效避免肌肤老化。那么，维生素C又是如何美白皮肤的呢？原来，皮肤的颜色主要取决于肌肤中黑色素的含量。抑制酪氨酸酶的合成是美白的关键之一。而维生素C能抑制此酶的活性，阻断黑色素生成，且可将已形成的黑色素还原成无色的黑色素前质。
- 下列说法与原文不符的是（ ）。
- A. 维生素C能够避免肌肤老化
B. 酪氨酸酶合成可以美化美白肌肤
C. 维生素C能阻断黑色素生成
D. 不良情绪容易使人出现皱纹
59. 民众是否爱好学术，直接影响到学术本身的升沉；而学人不唤起国人对学术的自觉，“文德”不能与民分享，则“民德”就会堕落，“文德”本身也会变成无源之水，无根之木，也就没了提升的基础。为了使“文德”更好地转化为“民德”，蔡元培提出了以大学为社会文化中心的主张。
- 这段文字意在说明（ ）。
- A. 大学是“文德”的中心
B. “民德”是“文德”的本源
C. “文德”与“民德”的双向关联
D. “文德”对“民德”有提升作用
60. 成语“刻舟求剑”，源自《吕氏春秋》。古人使用这个成语时，更多想到的是时间轴意义，“子在川上曰：逝者如斯夫，不舍昼夜”，但它所讲述的故事，又提示了我们道理与知识是如何“分道扬镳”的。船在运动，河底静止，剑从船上掉落河中，是从运动状态进入静止状态，刻痕如何保持得了与剑对应的位置？由是而知，_____，这才是“刻舟求剑”真正传递的“道理”。填入划横线部分最恰当的一项是（ ）。
- A. 意识是客观世界存在的反映
B. 要在动态中认识事物的本质
C. 知识道理在时空里是相对的
D. 运动和静止是可以相互转化

第四部分 判断推理

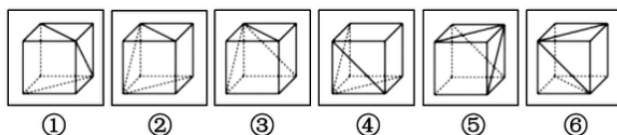
一、图形推理。请按每道题的答题要求作答。

请开始答题：

71. 左边给定的是削掉一个角的纸盒，下列哪一项不是由它展开而成？（ ）

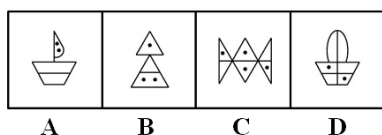



72. 把下列的六个图形分为两类，使每一类图形都有各自的共同特征或规律，分类正确的一项是（ ）。

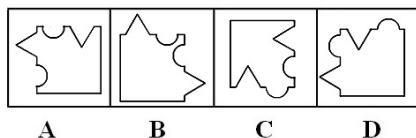
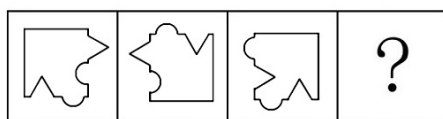


- A. ①③④, ②⑤⑥ B. ①②⑥, ③④⑤
C. ①②⑤, ③④⑥ D. ①③⑥, ②④⑤

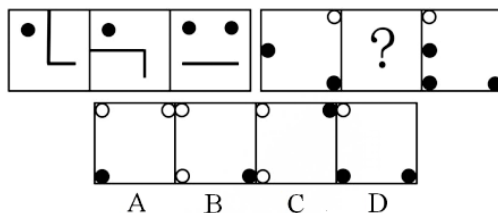
73. 从所给的四个选项中，选择最合适的一个填入问号处，使之呈现一定的规律性（ ）。



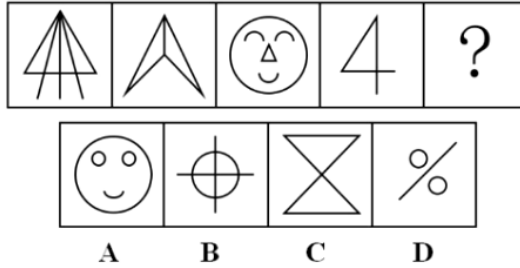
74. 从所给的四个选项中，选择最合适的一个填入问号处，使之呈现一定的规律性（ ）。




75. 从所给的四个选项中，选择最合适的一个填入问号处，使之呈现一定的规律性（ ）。



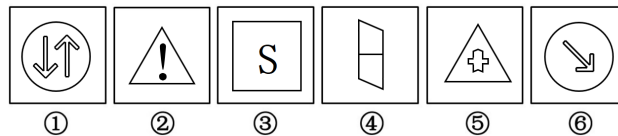
76. 从所给的四个选项中, 选择最合适的一个填入问号处, 使之呈现一定的规律性 ()。



77. 从所给的四个选项中, 选择最合适的一个填入问号处, 使之呈现一定的规律性 ()。



78. 把下列的六个图形分为两类, 使每一类图形都有各自的共同特征或规律, 分类正确的一项是 ()。



- A. ①②⑤, ③④⑥
C. ①②④, ③⑤⑥

- B. ①③⑥, ②④⑤
D. ①③④, ②⑤⑥

二、定义判断。每道题先给出定义, 然后列出四种情况, 要求你严格依据定义, 从中选出一个最符合或最不符合该定义的答案。注意: 假设这个定义是正确的, 不容置疑的。

请开始答题:

79. 共享经济指借助网络第三方平台, 基于闲置资源使用权的暂时性转移, 实现生产要素的社会化, 提高存量资产的使用效率以创造更多价值, 促进社会经济的可持续发展。

根据上述定义, 下列经济活动不属于共享经济的是 ()。

- A. 王某在某网络平台上订车去飞机场, 方便快捷
B. 李某在某网络平台上贷款炒股, 获得了预期收益
C. 张某在某网络平台上购买外卖美食, 在家享受美味
D. 马某旅行前在某网络平台预订民宿, 抵达后入住

80. 自我效能感是个体对自己能否成功进行某一行为达到某种预期效果的主观预期和推断。当面临困难任务时, 低自我效能感的人比高自我效能感的人更集中于问题存在的障碍、失败影响以及个人缺陷上。根据上述定义, 下列选项属于低自我效能感表现的是 ()。

- A. 破釜沉舟
B. 画饼充饥
C. 睹物兴悲
D. 心急如焚

81. 数据挖掘 (Data mining) 是指从大量的存储数据中利用统计、情报检索、模式识别、在线分析处理和专家系统 (依靠过去的经验) 等方法或技术, 发现隐含在其中、事先不知道但又是潜在有用的信息和知识的信息处理过程。
根据上述定义, 下列不属于数据挖掘应用的是 ()。
- A. 某全球零售企业在分析上一年度消费者购物行为后推出“尿布+啤酒”促销举措, 使得二者销售量大幅增加
 - B. 某国际快递和物流公司使用RFID (无线射频识别) 技术在不同时间点跨境全程监控和调整药品装运的温度
 - C. 某大型网上书店在客户选购一种图书时, 推出“购买该商品的用户还购买了”等栏目, 从而增加可观收益
 - D. 某高校要求教师使用网上教学管理系统, 录入学生的期末考试成绩, 以便借助短信群发软件告知学生成绩
82. 我国婚姻法规定, 禁止直系血亲和三代以内旁系血亲结婚。直系血亲是指和自己有直接血缘关系的亲属, 三代以内旁系血亲是指与己身出自同一父母或同一祖父母、外祖父母, 除直系血亲外的所有血亲。
根据上述定义, 下列选项中的甲和乙可以结婚的是 ()。
- A. 张某是甲 (女) 的姨夫, 乙系张某的儿子
 - B. 李某是乙 (女) 的姑父, 甲系李某的儿子
 - C. 甲是林某与前夫的儿子, 乙是林某与后夫的女儿
 - D. 王某是张某的舅舅, 甲系王某的儿子, 乙系张某的女儿
83. 逻辑思维是人的理性认识阶段, 是人类反映事物本质和规律的认识过程。逻辑思维既涉及逻辑思维形式和逻辑方法规则, 也涉及逻辑思维的基本规律。逻辑思维形式和逻辑方法规则是指把自然语言抽象概括为形式语言, 形成初始符号或规则, 用来研究概念、判断和推理, 只在局部范围内起作用; 逻辑思维基本规律是人类进行正确逻辑思维的根本准则和基本依据, 普遍适用于人们的思维。
根据上述定义, 下列选项违反逻辑思维形式和逻辑方法规则的是 ()。
- A. 把不同概念相互混淆或改换同一概念的含义
 - B. 把两个互相矛盾或对立的思想都认为是真的
 - C. 对某个概念进行划分时存在越级划分的错误
 - D. 把没有经过证明的假设作为论证的充分前提
84. 心理人类学是介于文化人类学与心理学之间的交叉学科, 主要研究并了解文化对所属社会成员产生影响的心理机制, 发现在个体水平上的心理变量与在总体水平上的文化、社会、经济、生态和生物变量之间的关系。
根据上述定义, 下列选项属于心理人类学研究范畴的是 ()。
- A. “五四”前后诗歌风格的比较
 - B. 当代流行话语下的社会主流价值
 - C. 草原文明与蒙古民族性格的养成
 - D. 从《背影》看作者对父亲态度的变化
85. 非爱行为, 指以爱的名义, 对自己亲近的人进行非爱性的掠夺, 即违背他人主观意愿, 在精神与行为方面强制控制, 迫使对方按照施控者的意愿去行为做事, 这一行为往往发生在夫妻、恋人、父母与子女等最亲近的人之间。
根据上述定义, 下列属于非爱行为的是 ()。
- A. 张某按照医嘱, 要求女儿每三个小时做一次牵引, 以消除疼痛
 - B. 林某强迫儿子每天练琴3小时, 争取在钢琴大赛中取得好成绩
 - C. 陈某为防止精神病的女儿逃逸, 将其关在地下室禁止其出入
 - D. 李某按照轮流陪护协议, 要求妻子前往医院陪护患重病的母亲

三、类比推理。每道题先给出一组相关的词, 要求你在备选答案中找出一组与之在逻辑关系上最为贴近, 相似或匹配的词。

请开始答题:

86. 茶树：茉莉花茶
A. 梅树：梅花糕
C. 螃蟹：蟹黄包
B. 小麦：肉夹馍
D. 冬瓜：冬瓜糖
87. 进士：状元
A. 河水：海水
C. 学位：博士
B. 银河：天文
D. 宪法：民法
88. 救援：围魏救赵
A. 进攻：风声鹤唳
C. 追击：穷寇勿追
B. 防守：草木皆兵
D. 转移：斗折蛇行
89. 虚数：复数
A. 法律：刑法
C. 祥林嫂：《祝福》
B. 麦子：水稻
D. 人工智能：计算机科学
90. 讨论：会议：方案
A. 调研：基层：实情
C. 分析：汽车：技术
B. 研究：手机：销量
D. 合作：课题：计划
91. 中子：辐射：军事
A. 货车：交通：运输
C. 薄膜：隔热：大棚
B. 电解质：物理：化学
D. 干冰：吸热：消防
92. 农家乐：农家：乐
A. 一日游：一日：游
C. 袋鼠跳：袋鼠：跳
B. 广场舞：广场：舞
D. 颅内伤：颅内：伤
93. 盲动：一败涂地：重起炉灶
A. 超速：风驰电掣：按部就班
C. 熬夜：萎靡不振：养精蓄锐
B. 跟风：鹦鹉学舌：真知灼见
D. 传神：生动逼真：洛阳纸贵
94. 番茄之于（ ）相当于（ ）之于蹴鞠
A. 美洲；中国
C. 植物；人类
B. 白菜；篮球
D. 炒饭；健身
95. 犹疑：深信
A. 晚造：提前
C. 婉拒：褒扬
B. 老到：幼稚
D. 爽利：强横
96. 违约之于（ ）相当于（ ）之于承诺
A. 法律；民俗
C. 合同；食言
B. 处罚；兑现
D. 赔偿；责任
97. （ ）之于精当相当于固若金汤之于（ ）
A. 瑕瑜互见；牢
C. 无懈可击；城
B. 字字珠玑；防御
D. 不刊之论；坚实

四、逻辑判断。每道题给出一段陈述，这段陈述被假设是正确的，不容置疑的。要求你根据这段陈述，选择一个答案。注意：正确的答案应与所给的陈述相符合，不需要任何附加说明即可以从陈述中直接推出。

请开始答题：

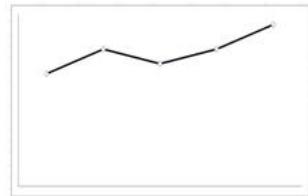
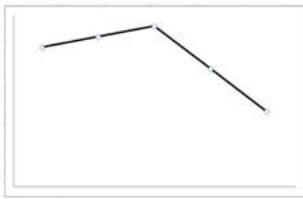
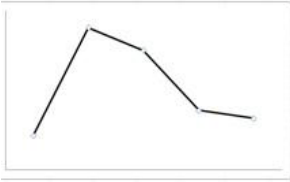
98. 汽车行业作为制造业中技术含量、智能化程度和产业集中度较高的代表。已经成为了德国“工业4.0”的先到阵地。长期处于2.0工业思维的中国汽车制造业要在全球占有一席之地，进行技术创新与变革和拥有丰富经验的资深人才必不可少，而高薪和福利成为吸引人才的致胜法宝。由此可以推出（ ）。
- A. 如果能够吸引到资深人才，中国汽车制造业的改革就能成功
 - B. 高薪和福利是很多中国职场人士选择职业时的一个重要关注点
 - C. 不进行技术变革，中国汽车制造业就不能在全球占有一席之地
 - D. 德国汽车制造业在世界汽车行业具有举足轻重的地位和影响力
99. 一项研究显示，先让受试者参加消除某项偏见的学习，并给受试者播放与消除该偏见学习相关联的声音。之后，让受试者进入深度睡眠状态，同时重复播放那些相关联的声音，以重新激活消除该偏见的学习。结果发现，该偏见比睡眠前大大减少，且睡眠质量越高，偏见减少得越多。研究人员由此推测，睡眠干预可减少社会偏见与歧视。
- 以下哪项如果为真，最能支持上述论证？（ ）
- A. 普通民众难以得到消除偏见学习的睡眠干预
 - B. 睡眠充足、睡眠质量高的人比其他人更不易产生偏见与歧视
 - C. 有身高歧视、相貌歧视的人经过睡眠干预后，歧视程度明显降低
 - D. 在接受睡眠干预的受试者中，有一部分并不存在明显的偏见或歧视
100. 提高能源使用效率、鼓励能源灵活利用是英国减少温室气体排放政策的一个必要环节，它需要采用管理智能技术，包括通过智能表将能源使用信息从需求方或者客户发送到能源公司等，该信息可用于制定和实施更高效的能源使用条例。但英国消费者对此态度不一，因为该技术用于监控和支持能源高效率使用行为时，居民个人及家庭的能源数据不得不被动分享。所以，个人使用能源相关数据的被动分享有可能成为推广智能技术的主要障碍。
- 以下哪项如果为真，最能支持上述论证？（ ）
- A. 60%的被调查者表示，不愿意因数据被动分享而降低个人能源使用比例
 - B. 60%的被调查者认为，数据的被动分享大大增加个人隐私被侵犯的风险
 - C. 60%的被调查者表示，那些关心气候变化的人更可能接受数据被动分享
 - D. 60%的被调查者认为，数据不可能不被分享，否则智能技术不可能应用
101. 荷兰研究人员一直在试图模拟月球和火星的土壤条件进行农作物栽培实验。他们对该项实验种出的小红萝卜、豌豆、黑麦和西红柿进行初步分析。实验结果令人充满希望，这些产品不仅安全，而且可能比在地球上土壤种出的农作物更健康。英国媒体称，能在火星土壤种出可食用作物，殖民火星的希望又向前迈进了一步。
- 以下哪项如果为真，不能质疑英国媒体说法的是（ ）。
- A. 火星土壤重金属占比和地球土壤不一样
 - B. 在另一个同类实验中土豆的长势很糟糕
 - C. 从实验到真正付诸实践还有很长的路要走
 - D. 月球、火星、地球的气候条件有很大不同
102. 如果向大气排放的CO₂累积超过32000亿吨，那么到本世纪末，将升温控制在2°C以内的门槛就守不住了。有科学家认为，为了达到将升温幅度控制在2°C以内的目标，仅仅限制CO₂排放是不够的，必须在全球范围内大规模开展大气CO₂的回收行动，使大气污染程度得到有效控制和缓解。
- 若要使上述科学家的想法成立，最需要补充以下哪项作为前提？（ ）
- A. 全球范围内普及关于气候变化的科学知识
 - B. 各国政府推出有效政策来控制CO₂排放量
 - C. 科学界整合资源来支持发展地球工程技术
 - D. 各地都建立能有效回收和储存CO₂的机制

103. 很多家长认为，孩子不听话，“打屁屁”惩罚一下，至少能让孩子注意到自己的行为不当，变得更听话一些。还有一些人坚持“不严加管教会惯坏孩子”的传统信念，认为“打屁屁”是为孩子好。研究者对16万名儿童在过去5年里的经历进行研究，通过收集“打屁屁”行为的元数据加以分析，发现：打屁股会在儿童成长过程中造成智商低、攻击性行为高等多种负面影响。
- 以下哪项如果为真，最能支持上述结论？（ ）
- A. 最新调查显示，智商相对较低的孩子大多数经常被家长打屁股
 - B. 本身不听话且更容易惹祸的孩子更有可能受到父母的严厉惩罚
 - C. 研究报告称全球大约80%的父母都有以打屁股管教孩子的经历
 - D. 被打屁股而困惑的孩子只懂得按家长要求去做而不会独立思考
104. 英国一项研究发现，人只要在每餐饭前半小时喝一杯500毫升的水，并坚持3个月，体重就能减轻2至4公斤，研究团队邀请了84位超重的成人，随机分成2组，其中41位被要求在餐前喝500毫升水，另外43位则照常生活，3个月后，团队发现三餐前喝水的人，平均体重下降了4.3公斤，而餐前没喝水的人，平均体重只下降了0.81公斤。研究人员说：没有喝水的那组人，“平均运动量”比餐前饮水的人更高，这说明餐前喝适当的水真能减肥。
- 下列哪项如果为真，最能支持上述结论？（ ）
- A. 餐前喝水的那组人同时也注意控制饮食
 - B. 餐前没喝水的人中有的体重减轻了4公斤
 - C. 除了餐前喝水，两组的其他情况都是一样的
 - D. 餐前没喝水的人就餐中会喝更多的汤和饮料
105. 某科研机构提出潮湿的沙子是古埃及人在沙漠中搬运巨大石块和雕像的关键，研究人员指出，古埃及人将沉重的石块放在滑撬后，先在滑撬前铺设一层潮湿的沙，再牵引它们，这种搬运方式起到了意想不到的效果。在实验中，研究人员使用流变仪测试沙子的硬度，以证实需要多少牵引力才能使一定数量的沙子变形，并在此基础上设计了牵引模型，从中发现将潮湿的沙铺在滑撬前能更容易移动重物，而且沙子所含水分决定了沙子的硬度和牵引力。
- 以下哪项如果为真，最能支持上述结论？（ ）
- A. 在一幅古埃及墓室壁画中，一名男子站在滑撬前方，似乎正在浇水
 - B. 滑撬牵引力与沙子硬度成反比，潮湿沙子的硬度是干燥沙子的两倍
 - C. 实验证明，铺设在滑撬前的潮湿沙子容易堆积，形成较大的滑动阻力
 - D. 一个实验室版的埃及滑撬被成功建造，能够模拟古埃及工地的实况

117. 2015年, 全国建立的慈善超市较2014年约 ()。

- A. 增加519个
- B. 减少519个
- C. 增加686个
- D. 减少686个

118. 下面哪一张图能正确反映2011~2015年民政部门接收捐赠衣被数量的变化? ()



119. 能够从上述资料中推出的是 ()。

- A. 2011~2015年民政部门接收的社会捐赠款在持续增加
- B. 2015年民政部门接收捐赠衣被同比降幅高于2014年的二分之一
- C. 2012~2015年社会组织接收社会捐赠款同比增长最快的年份是2012年
- D. 相比2014年, 2015年在社会服务领域提供志愿服务的人次有所增加

120. 2015年受益的困难群众较2013年增长约 ()。

- A. 47.6%
- B. 40.4%
- C. 34.5%
- D. 27.6%