

第一部分 常识判断

根据题目要求，在四个选项中选出一个最恰当的答案。

请开始答题：

1. “三权分置”改革，是继家庭联产承包责任制后我国农村改革的又一重大制度创新，是农村基本经营制度的自我完善，以下不属于“三权”的是？（ ）
A. 集体土地所有权
B. 宅基地使用权
C. 农户承包权
D. 土地经营权
2. 以下选项中的植物属于同一科目的是（ ）。
A. 苹果、玫瑰
B. 含羞草、梅花
C. 郁金香、仙客来
D. 水仙、荷花
3. 被蚊子咬了，用普通肥皂蘸水在叮咬处轻轻涂抹，可以迅速消除痛痒，消除红肿，这是因为？（ ）
A. 肥皂有消炎杀菌的作用
B. 肥皂水呈碱性，可以中和产生“痒”的物质
C. 肥皂水蒸发吸热，可以消除瘙痒感
D. 心理作用
4. 以下物质的用途是利用了其化学性质的是（ ）。
A. 金属钨用于制造灯泡里的灯丝
B. 竹炭可以吸收甲醛
C. 氢气用作高能燃料
D. 利用“干冰”进行人工降雨
5. 野外作业时，下列寻找水源的方法不正确的是？（ ）
A. 生长着灰菜、蓬蒿、沙里旺的地方，水位比较高，且水质也好
B. 初春时，其他树枝还没发芽时，独有一处树枝已发芽，此处有地下水
C. 入秋时，同一地方其它树叶已经枯黄，而独有一处树叶不黄，此处有地下水
D. 夏季蚊虫聚集，且飞成圆柱形状的地方一定有水
6. 以下诗句所描写的节日与其他三项不同的是？（ ）
A. 但愿人长久，千里共婵娟
B. 千门开锁万灯明，正月中旬动地京
C. 去年元夜时，花市灯如昼
D. 风雨夜深人散尽，孤灯犹唤卖汤元
7. 在网络购物中，可以实行七天无理由退货的商品是（ ）。
A. 定做的皮鞋
B. 阳澄湖螃蟹
C. 未拆封的CD
D. 在线下载的综艺节目
8. 以下动物属于鱼类的是？（ ）
A. 海马
B. 娃娃鱼
C. 章鱼
D. 鲸鱼
9. 在热凉粥时，我们会发现锅内发出“扑嘟、扑嘟”的声音，并不断冒出气泡来，但一尝，粥或饭并不热，这是因为？（ ）
A. 锅内的温度不够高
B. 凉粥的沸点低
C. 锅的工作原理是先热下面再热上面
D. 凉粥流动性差且不易传导热
10. 电梯是我们日常生活中必不可少的工具，它在给人们带来便捷的同时也带来了一定的安全隐患，当电梯突然坠落时，以下做法不正确的是（ ）。
A. 将电梯的每一楼层按钮都按下
B. 双手撑开贴住电梯墙面
C. 紧握电梯内把手
D. 双腿呈挺直姿势

11. 霜冻是一种较为常见的农业气象灾害，会使农作物受到损害，甚至死亡。以下最有可能出现霜冻天气的是？（ ）
- A. 早春多云的黎明
B. 初夏多雨的傍晚
C. 深秋晴朗的夜里
D. 冬季飘雪的早晨
12. 《春江花月夜》又称《夕阳箫鼓》，是中国古典民乐的代表作之一，最早是用（ ）弹奏的曲子。
- A. 琵琶
B. 古筝
C. 古琴
D. 扬琴
13. 以下关于汽车的物理常识表述错误的是？（ ）
- A. 汽车的座椅设计得既宽且大——减小了座椅对坐车人的压强，使人乘坐舒服
B. 运动的汽车尾部卷扬的尘土——汽车快速行驶时，车的尾部会形成一个高气压区
C. 开车时系安全带——防止惯性的危害
D. 汽车的车身设计成流线型——减小汽车行驶时受到的阻力
14. 生活中如果家里的水管坏了或者家具的螺丝掉了，我们常说去“五金”店购买，那么“五金”不包括以下哪种金属？（ ）
- A. 金
B. 银
C. 铁
D. 铝
15. 玉米在生长的过程中，有时会出现“白化苗”，这是由于缺少（ ）。
- A. 钾肥
B. 水
C. 叶绿素
D. 氧气

第二部分 言语理解与表达

本部分包括表达与理解两方面的内容。请根据题目要求，在四个选项中选出一个最恰当的答案。

请开始答题：

16. 长征这一人类历史上的伟大壮举，留给我们最宝贵的精神财富，就是中国共产党人和红军将士用生命和热血_____的伟大长征精神。
填入划横线部分最恰当的一项是（ ）。
- A. 练就
B. 造就
C. 铸就
D. 成就
17. 给予公众适当的正面_____, 为守法者树立良好的公众形象，_____良好的法治氛围，违法者在这样的环境和氛围里也能更在行动上守法尊法。
依次填入划横线部分最恰当的一项是（ ）。
- A. 领导 建造
B. 引导 营造
C. 指引 打造
D. 培养 衬托
18. 要始终把人民的冷暖和幸福放在心中，把人民的喜怒哀乐_____在自己的笔端，_____奋斗人生，刻画最美人物。
依次填入划线部分最恰当的一项是（ ）。
- A. 注入 抒写
B. 灌注 复制
C. 倾注 讴歌
D. 贯注 歌颂
19. 一旦英雄事迹成了被遗忘被抹黑的对象，英雄史诗成了_____的一枚颗粒，属于一个民族支柱的精神高地也会被侵蚀殆尽。
填入划线部分最恰当的一项是（ ）。
- A. 鱼龙混杂
B. 泥沙俱下
C. 鱼目混珠
D. 良莠不齐
20. 我们的机器状态向来不稳定，从来没法确定会发生什么，但这工厂是我们自行设计筹建的，难免_____。
填入划横线部分最恰当的一项是（ ）。
- A. 视如敝屣
B. 蓬荜生辉
C. 敝帚自珍
D. 差强人意
21. 近年来，“中医药式微”和“中医药衰落”的论调_____, 并出现了对中医药“妖魔化”的倾向，给中医药的健康发展带来了严重的负面影响。
填入划横线部分最恰当的一项是（ ）。
- A. 方兴未艾
B. 蔚然成风
C. 沸反盈天
D. 甚嚣尘上
22. 在一系列的研讨会上，各种_____交锋，_____成一股清流，润物细无声地对中国文艺评论的面貌产生着重要影响。
依次填入划横线部分最恰当的一项是（ ）。
- A. 真知灼见 汇聚
B. 远见卓识 会聚
C. 一得之见 聚集
D. 一孔之见 汇合

23. 中华民族历来重视家庭，传统家庭美德_____在中国人的心灵中，融入中国人的血脉中，是支撑中华民族生生不息、_____的重要精神力量。
依次填入划横线部分最恰当的一项是（ ）。
- A. 雕刻 薪火相传 B. 铭刻 涅槃重生
C. 雕琢 柳暗花明 D. 铭记 薪尽火传
24. 抱残守缺和故步自封，_____和浮躁喧嚣，都不是繁荣文艺应有的态度。文艺创新需要_____、不拘一格，但这和盲目的标新立异、追求怪诞是两回事。
依次填入划横线部分最恰当的一项是（ ）。
- A. 急公好义 匠心独运 B. 急于求成 离经叛道
C. 杀鸡取卵 独树一帜 D. 急功近利 独辟蹊径
25. 杭州史上“最严减负令”出台6年来，各类数学杯赛、奥数班_____没有减少，_____越来越兴旺。不少家长和老师都明晓“只有5%的智力超常儿童适合学奥数”，_____奥数试题难度和偏度都远超义务教育水平，_____奥数依然持续高温。
依次填入划横线部分最恰当的一项是（ ）。
- A. 不仅 反而 而且 但 B. 虽然 但是 并且 而
C. 不但 而且 因为 所以 D. 不是 而是 同时 致使
26. 债转股是一把“双刃剑”，要是企业借机甩脱债务，却未能改善经营状况，则就得不偿失了，甚至会拖累银行陷入亏损泥沼，损失亦会扩大。更何况，此轮债转股的对象，多为产能严重过剩行业，企业经营普遍不佳，行业也未见起色。因此，债转股在实施过程中，想要坚守市场化原则和法律原则，需要防范行政干预和道德风险，将风险控制住，避免企业亏损恶化危及到金融机构。
这段文字意在说明（ ）。
- A. 债转股给各行业所带来的不利影响 B. 坚持市场化和法律原则在债转股中的重要性
C. 债转股过程要防范政府干预和道德风险 D. 债转股要充分发挥企业的积极性
27. 较之于快节奏下的文化“速成品”，一些传统艺术，尤其是处于迟暮之年的传统艺术，面临着前所未有的传承困境。有人认为传统艺术如今是曲高和寡，虽然这个说法并非完全准确，但它也的确暴露了目前很多传统艺术受众少、产量低、生存困难的不争事实。诸如川剧脸谱、潮剧脸谱表现出来的边缘化窘境，关键原因在于内容思想的晦涩难懂，造成了观众的不理解，也不愿花费时间和金钱去观看的现实。可以说，这些传统艺术犹如现实中的乌托邦，是行走在艺术领域中的边缘种类。
这段文字旨在说明（ ）。
- A. 传统艺术要想获得持续发展需重视市场需求 B. 文化“速成品”对传统艺术造成了巨大冲击
C. 传统艺术是小众化艺术，没有贴近生活 D. 应加大对传统艺术在政策和资金方面的扶持
28. 一般来说，公民个人信息泄露主要是由于内部人员泄露或黑客入侵。但无论哪个原因，信息收集平台都有责任提高信息安全的技术水平，确保自己的信息保护机制足以抵御黑客入侵，也有责任设立严密的监管机制，防止内部人员监守自盗。这条防线才是防止信息泄露最关键的一环。遗憾的是，目前似乎未见较为完善的相关监管及规章制度。一个合理的设想是，政府部门、机构或交易平台若有必要收集、存储公众个人信息，应通过一定标准的认证，只有达到相应的信息保护技术水平，以及设定了规范的管理制度之后，才能被允许收集、存储公众个人信息。
通过上述文字可以得知（ ）。
- A. 造成公民个人信息泄露的原因不是内部人员透露就是黑客入侵
B. 目前政府及相关机构在收集和储存个人信息时需通过标准认证
C. 要想避免信息泄露必须在提升信息安全技术同时建立监管机制
D. 个人信息泄露的频发要求政府部门加大对不法行为的惩处力度

29. 在家风培育中涵养家国情怀。家风相连成民风，民风相汇成国风。家风好，就能家道兴盛、和顺美满；家风差，难免殃及子孙、贻害社会。同时，国家安定也是家庭幸福的保障，只有实现中华民族伟大复兴的中国梦，家庭梦才能梦想成真。承接上述文字最恰当的一项是（ ）。
- A. 因此，我们需要以良好的家风为支点，进而推动社会和谐、国家发展，为实现伟大复兴的中国梦提供磅礴的动力之源
- B. 所以，要想重视家庭建设和家风培育，最重要的还是要不断共享发展成果，提升群众获得感和幸福感
- C. 所以，广大家庭都要重言传、重身教，教知识、育品德，帮助孩子扣好人生的第一粒扣子，迈好人生的第一个台阶
- D. 因此，涵养家风既要培养修身齐家的“小确幸”，也要培育孩子不懈追求国家富强、人民幸福的大情怀
30. 目前出现的房价暴涨，已经对我国的社会经济运行产生了深刻的影响，特别是一些城市出现的通过假离婚来满足限购政策之下的购房资格，不仅使限购政策的效果打了折扣，而且对世道人心产生了危害，一些上市公司通过售卖一两套住房改善公司财务指标，也使实体经营的意义受到了冲击。因此，作为政府必须看到这种暴涨所产生的负面作用，并采取必要的措施来遏制涨势。要控制房价暴涨，必须找到病根才能对症下药，这个病根就在于金融杠杆在房地产市场的过度使用，使住房这个不动产被赋予了金融产品的特点，出现了越来越浓重的投机炒作。最能概括这段文字中心的一项是（ ）。
- A. 房价暴涨严重影响了我国社会经济的健康运行和发展
- B. 房价暴涨的原因在于过度发挥其在房地产市场充当金融杠杆的作用
- C. 要使房地产市场恢复居住为主的功能，严格控制金融杠杆的启动
- D. 通过假离婚获得购房资格的做法使得限购政策并未起到应有效果
31. 当前，处于新常态下的中国经济面临着下行压力，旧的供给结构不能应对过剩产能带来的问题。为此，中国需要供给侧改革，供给侧改革是在中国转型时期的重要举措，是适应和引领经济发展新常态的重大创新。这段文字意在说明（ ）。
- A. 中国经济面临巨大的下行压力
- B. 目前推行供给侧改革势在必行
- C. 中国迈入经济发展新常态
- D. 需要对旧的供给结构进行改革
32. 企业信用信息披露质量与市场信用监管效率息息相关。虚假的企业信用信息披露会严重影响事中事后监管中的信用分类结果，形成监管死角，而没有及时准确全面地处理虚假信息披露企业会严重影响信用信息披露质量这个企业信用监管最基础的保障条件，让造假者有侥幸心理，让守信披露企业无法享受应有的利益，最后形成一个劣胜优汰的无效市场，让信用监管效率大幅下降。高质量的信用信息披露则能够提高市场信息对称程度，提升市场信用监管效率。与这段文字意思不相符的一项是（ ）。
- A. 市场信用监管效率与企业信用信息披露质量关系密切
- B. 对虚假信息披露企业处理不当会产生一系列后果，最终形成无效市场
- C. 市场信息的对称程度是企业信用监管最基础的保障条件
- D. 提升市场信用监管效率途径之一是进行高质量的信用信息披露

33. 三星堆遗址的考古遗存从新石器时代晚期延续至春秋前期，有两千年之久，反映了从原始社会的解体到文明的诞生、发展至衰落的全过程。它的神像、面具、神树都是对中原青铜文明的创新性吸纳，是具有本土文化基因的长江流域居民，吸纳中原青铜冶铸技术之后，铸造出的符合自己精神信仰、生活传统与独特审美的祭祀礼器。来自黄河流域的司母辛鼎与来自长江流域的大禾人面纹方鼎、象纹大铜铙出现在同一个对话场景中，确实可以说明中国青铜时代所达到的高度。
- 下列选项符合文意的一项是（ ）。
- A. 司母辛鼎和象纹大铜铙集中体现了黄河流域先民的智慧
 - B. 中原青铜文明是在吸纳长江流域居民先进文明的基础上形成的
 - C. 三星堆遗址是我国春秋战国时期文化的典型代表
 - D. 青铜器在古代的用途之一是作为祭祀的礼器
34. 有人疑虑，现阶段突出群众满意度的考核价值，会刺激一些干部追求短期的治理效果，做表面文章。因为即便地方下定决心、加大投入、埋头苦干，也还需要不短的时间才能见到效果。这个过程有可能出现评价错位，比如“种树的人”得不到合理评价、受委屈，而“乘凉的人”却坐享其成、得奖掖。但是，从生态文明建设评价考核的内在要求讲，群众的感受和发言权，是不可或缺的一环，也只有把群众满意度作为评价考核的出发点和落脚点，追求评价考核结果与群众切身感受的一致性，才能增强评价考核制度的说服力。
- 这段文字主要表达的意思是（ ）。
- A. 生态建设存在干部为追求短期治理效果而做表面文章的问题
 - B. 生态文明建设的评价考核机制应该突出人民群众的感受
 - C. 注重群众满意度可以增强政府生态文明建设的公信力
 - D. 党员干部要摒弃坐享其成的心理，注重治理的长期效果
35. 电子墨水技术是利用电压驱动墨滴进行物理运动，从而实现画面显示的一种技术，“它的效果非常接近传统的印刷纸张，在环境光下可以自然、舒适地呈现画面，因为它本身并不发光，所以不会伤害我们的双眼。”电子墨水屏表面附着很多体积很小的“微胶囊”，封装了带有负电的黑色颗粒和带有正电的白色颗粒，通过改变电荷使不同颜色的颗粒有序排列，从而呈现出黑白分明的可视化效果。
- 下列选项符合文意的一项是（ ）。
- A. 电子墨水技术是目前最先进的实现画面显示的技术
 - B. 电子墨水屏之所以出现黑白分明的效果是由于白色颗粒的有序排列
 - C. 采用电子墨水技术所达到的效果优于传统印刷纸张
 - D. 电子墨水技术不会伤害我们眼睛的原因是它自身不发光

第三部分 数量关系

在这部分试题中，每道题呈现一段表述数字关系的文字，要求你迅速、准确地计算出答案。
请开始答题：

36. 10, 15, 21, 29, 41, 61, ()

- A. 93
B. 95
C. 97
D. 99

37. 5, 3, 20, 103, 535, ()

- A. 2445
B. 2556
C. 2695
D. 2778

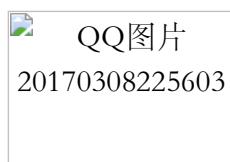
38. 30.8, 22.16, 6.32, 26.64, ()

- A. 8.96
B. 32.96
C. 32.128
D. 38.128

39. 3, 5, 11, 16, 25, 39, 72, ()

- A. 53
B. 68
C. 85
D. 112

40.



- A. 32
B. 52
C. 92
D. 122

41. A、B两辆公交车早上8:00同时从甲站开出，前往乙站。已知A车全程共10站，中途每站停留3分钟；B车全程共18站，中途每站停留2分钟，两车同时到达乙站。若A、B两车到达乙站后均立即保持原平均速度空车返回（中途不停靠），则A、B两车到达甲站的时间关系为以下哪种？（ ）

- A. A比B早8分钟到达
B. A比B晚8分钟到达
C. A、B同时到达
D. 无法判断

42. 已知现在时刻是下午4点整，多少分钟后，时针和分针到刻度“4”的距离第一次相等？（ ）

- A. $210/11$
B. $240/11$
C. $210/13$
D. $240/13$

43. 有一家祖孙三人正好同一天生日。这一天他们的年龄加起来正好100周岁。已知祖父的岁数正好等于孙子过的月数，父亲过的星期数（假设恰好为整数星期）恰好等于他儿子过的天数。问此时祖父年龄比他的儿孙年龄和多多少岁？（ ）

- A. 18
B. 20
C. 24
D. 32

44. 某单位举办一次考试，80分以下的人数比不及格人数的5倍少6，及格的人数比不低于80分人数的4倍还多2，是及格人数的5倍，则不低于80分的人数是（ ）。

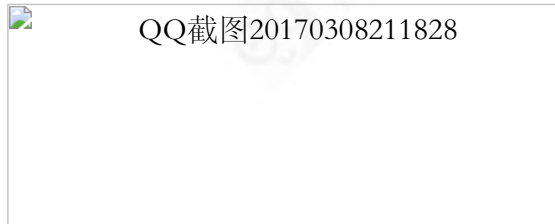
- A. 32
B. 28
C. 30
D. 36

第四部分 判断推理

一、图形推理。请按每道题的答题要求作答。

请开始答题：

51. 从所给的四个选项中，选择最合适的一个填入问号处，使之呈现一定的规律性（ ）。



52. 从所给的四个选项中，选择最合适的一个填入问号处，使之呈现一定的规律性（ ）。



53. 从所给的四个选项中，选择最合适的一个填入问号处，使之呈现一定的规律性（ ）。



54. 从所给的四个选项中，选择最合适的一个填入问号处，使之呈现一定的规律性（ ）。



55. 从所给的四个选项中，选择最合适的一个填入问号处，使之呈现一定的规律性（ ）。



56. 从所给的四个选项中, 选择最合适的一个填入问号处, 使之呈现一定的规律性 ()。



57. 从所给的四个选项中, 选择最合适的一个填入问号处, 使之呈现一定的规律性 ()。



58. 从所给的四个选项中, 选择最合适的一个填入问号处, 使之呈现一定的规律性 ()。



59. 从所给的四个选项中, 选择最合适的一个填入问号处, 使之呈现一定的规律性 ()。



60. 从所给的四个选项中, 选择最合适的一个填入问号处, 使之呈现一定的规律性 ()。



二、类比推理。每道题先给出一组相关的词, 要求你在备选答案中找出一组与之在逻辑关系上最为贴近, 相似或匹配的词。

请开始答题:

61. 清正廉明: 官员

- A. 如花似玉: 女子
- C. 诲人不倦: 教师

- B. 温文尔雅: 律师
- D. 争奇斗艳: 花朵

62. 见贤思齐: 不思进取

- A. 不胫而走: 不翼而飞
- C. 抱薪救火: 饮鸩止渴

- B. 哀兵必胜: 哀鸿遍野
- D. 洞若观火: 雾里看花

63. 汽车：比赛：赛车
 A. 桌子：椅子：桌椅
 B. 轮船：载货：货轮
 C. 酒：葡萄：葡萄酒
 D. 刀：切菜：菜刀
64. 箭：弓
 A. 铅笔：橡皮擦
 B. 火车：铁轨
 C. 衣服：扣子
 D. 煤气灶：电磁炉
65. 水：热水器：热水
 A. 二氧化碳：干冰机：干冰
 B. 黄豆：豆浆机：豆浆
 C. 白菜：腌制：泡菜
 D. 水果：榨汁机：果汁
66. 说：学：逗：唱
 A. 德：智：体：美
 B. 煎：炒：烹：炸
 C. 唱：念：做：打
 D. 金：木：水：火
67. 王八吃秤砣：铁了心
 A. 不自量力：鸡蛋碰石头
 B. 口若悬河：滔滔不绝
 C. 走着瞧：骑驴看唱本
 D. 狗咬吕洞宾：不识好人心
68. 健身：健康
 A. 美容：漂亮
 B. 成长：学习
 C. 治疗：疾病
 D. 寒冷：保暖
69. 洗衣机：衣服
 A. 冰箱：制冷
 B. 路由器：无线网
 C. 保鲜膜：保鲜
 D. 微波炉：食物
70. 自行车：链条
 A. 楼房：电梯
 B. 飞机：航线
 C. 钢笔：墨囊
 D. 收割机：农机

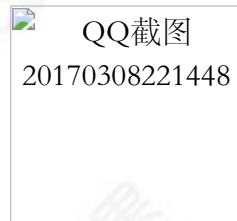
三、逻辑判断。每道题给出一段陈述，这段陈述被假设是正确的，不容置疑的。要求你根据这段陈述，选择一个答案。注意：正确的答案应与所给的陈述相符合，不需要任何附加说明即可以从陈述中直接推出。





请开始答题：

71. 一项调查结果表明：参与学生会或者社团活动的大学生相对于那些不参加学生会或者社团活动的大学生社交能力更加出色。因此，参加学生会或者社团活动能够促进大学生社交能力的提升。以下最能削弱上述结论的一项是（ ）。
- A. 有的同学参加了社团活动社交能力不高
 B. 参加过多的学生会或社团活动将影响大学生的学习成绩
 C. 社交能力不足的大学生一般不愿意参加学生会和社团活动
 D. 家庭教育对于大学生社交能力的培养十分重要

72. 某县有甲、乙两所中学，近5年中，乙中学高考一本上线学生人数是甲中学一本上线学生人数的2倍。于是乙中学校长表示，乙中学的教学质量比甲中学的要好。以下最能削弱乙中学校长观点的一项是（ ）。
- A. 高考成绩是衡量中学教学质量的重要指标
B. 最近5年，乙中学参加高考的学生是甲中学的2倍多
C. 甲中学的办学时间比乙中学更久
D. 甲中学的特级教师的人数比乙中学多
73. 某高校出台了新的规定，研究生毕业实行导师负责制。只有得到导师的批准，研究生才能顺利毕业。不过，如果被抽查出已经毕业的研究生毕业论文不合格，研究生的导师将受到教育部门的处分。由此可以推出（ ）。
- A. 研究生小王没能顺利毕业，一定是他的导师没有批准他毕业
B. 李教授指导的研究生的毕业论文被抽查的结果都是合格，因此李教授不会受到处分
C. 研究生小张的毕业论文不合格，那么他一定不能顺利毕业
D. 研究生小刘去年顺利毕业了，那么一定得到了导师的批准
74. 为了员工的健康，T公司建立了一个员工健身中心。次年的员工年度体检结果显示，大多数员工的健康状况均有了明显的改善。因此，员工健身中心对于T公司员工的健康起到了很好的促进作用。以下最能削弱上述论证的一项是（ ）。
- A. M公司也建立了健身中心，然而员工的健康状况并未改善
B. 自健身中心建立起，T公司员工去锻炼的人很少
C. T公司有的员工一直都有锻炼的习惯
D. 健身中心建立前后，T公司的员工的工作强度、作息时间等基本相同
75. 王哲、李佳、张林三名工作人员在一个办公室，他们分别来自广东、江西与安徽。李佳的哥哥和张林是同学，张林的学历比来自安徽的要低，来自广东的是独生子并且学历最高。由此可以推出（ ）。
- A. 王哲来自广东，张林来自江西
B. 王哲学历最高，李佳来自江西
C. 张林学历最低，王哲来自安徽
D. 李佳学历最低，张林来自江西
76. 为了改进管理制度，单位领导决定试行两套不同的管理制度，将员工分成两组，第一组保持原来的按时上下班打卡制度，第二组采取不用定时上下班打卡，根据上级的安排按时完成任务即可。经过半年的试行之后，发现第二组的员工工作效率比第一组的高。因此，灵活的工作制度更利于提高员工的工作效率。以下最能支持上述论证的一项是（ ）。
- A. 两组员工的工作积极性原来就存在差异
B. 两组的员工人数相等
C. 第二组的员工在试行前的工作效率不如试行后高
D. 工作效率高的员工可以得到丰厚的奖金
77. 工程学院要选2名队员去参加校级的游泳比赛，关于学院游泳队张、王、赵、林四位同学是否入选有如下意见：
I. 张同学和赵同学都应该入选；
II. 王同学成绩一直很稳定，应该入选；
III. 张同学和赵同学最多入选一个；
IV. 林同学最近身体状况不佳，不应该入选。
已知以上意见只有一条与选拔结果不符，由此可以推知（ ）。
- A. 王同学和张同学没能入选
B. 林同学和赵同学入选
C. 张同学和赵同学都入选
D. 王同学入选，林同学未入选

78. 饮茶是我国传统饮食文化，同时，由于茶中含有多种抗氧化物质与抗氧化营养素，以及多种维生素和氨基酸。因此，喝茶有助防老，清油解腻，增强神经兴奋以及消食利尿等养生保健功能。然而，对于缺铁性贫血者、神经衰弱者、动性胃溃疡患者等饮茶也会对健康带来危害。由此可以推出（ ）。
- A. 为了健康，我们都应该多饮茶
B. 并非所有人都适合饮茶
C. 身患疾病的患者不适合饮茶
D. 应该大力发扬我国的饮茶文化
79. 为了落实素质教育，促进学生的全面发展。某地教育部门计划实施考试制度改革，高中录取学生时不再将中考成绩作为唯一标准，将思想道德、社交能力等指标纳入考核标准，以选拔出能力更加全面的学生。教育部门的改革计划基于的假设是（ ）。
- A. 有比较科学的方法可以客观地评价学生的思想道德和社交能力等指标
B. 思想道德、社交能力等不合格的学生很难取得成功
C. 该项改革能够得到大多数家长和支持
D. 能够考入高中对学生的前途至关重要
80. 黄曲霉毒素是主要由黄曲霉寄生曲霉产生的次生代谢产物，它们存在于土壤、动植物、各种坚果中，是霉菌毒素中毒性最大、对人类健康危害极为突出的一类霉菌毒素。研究发现，大多数花生和玉米中不可避免的会存在黄曲霉毒素。因此，我们不应该再食用花生油和玉米油。以下最能反驳上述论证的一项是（ ）。
- A. 很多人都喜欢吃花生油和玉米油
B. 花生油和玉米油含有人体必需的营养元素
C. 大多数花生和玉米的黄曲霉毒素含量极低，不会对人体健康造成危害
D. 花生和玉米制作成食用油后黄曲霉毒素的含量会大幅降低
81. A、B是两个质量完全相同的实心长方体，轻轻放入水中后，静止时如图所示。则下列说法正确的是（ ）。







- A. 两物体排开水的体积大小关系是：
- B. 两物体受到水的浮力大小关系是：
- C. 两物体的密度大小关系是：
- D. 两物体下表面受到水的压强大小关系是：

四、科学推理。每道题给出由文字、图表构成的背景材料，要求考生在给定材料的基础上，灵活运用基本科学知识进行推理判断，从四个备选项中选出正确的选项。

请开始答题：

82. 用力拉着物块在水平面上运动，达到一定速度后，撤去拉力，物块做减速运动直到停止，物块从撤去拉力到停止前的过程中。以下说法正确的是（ ）。
- A. 物块的惯性越来越小
B. 物块所受滑动摩擦力越来越小
C. 物块在水平方向上受到向前的冲力
D. 物块的动能越来越小

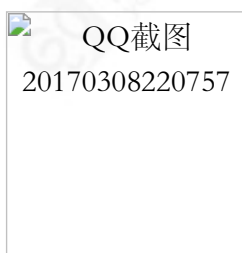
83. 举重是我国的优势体育项目。一位身高170cm的运动员和一位身高160cm的运动员，在挺举项目中用相同时间，把同样重的杠铃举起，如下图所示。如果他们对杠铃所做的功分别为  和 ，功率分别为  和 。









则下列关系式中正确的是（ ）。<



- A. 、
- B. 、
- C. 、
- D. 、

84. 如下图所示，电源电压恒定不变，闭合开关S，滑片P向左移动。下列说法正确的是（ ）。



- A. 示数变小，示数变小
- B. 示数不变，示数变大
- C. 示数不变，示数不变
- D. 示数不变，示数不变

85. 下图是同学们探究“平面镜成像特点”的几种情境。下列说法正确的是（ ）。



- A. 若蜡烛A距玻璃板4cm，则蜡烛B距玻璃板8cm才能与蜡烛A的像完全重合
- B. 若蜡烛A在玻璃板中的像偏高且倾斜，则乙图是产生该现象的原因
- C. 若在玻璃板与B蜡烛之间放一块挡光板，则不能透过玻璃板看到A的像
- D. 以上说法均不正确

第五部分 资料分析

针对下列图、表或文字回答问题。你应根据资料提供的信息进行分析、比较、计算、处理。你可以在题本上运算。

请开始答题：

一、一、根据以下资料，回答问题。

2015年1-7月份，全国房地产开发投资52562亿元，同比名义增长4.3%，增速比1-6月份回落0.3个百分点。其中，住宅投资35380亿元，住宅投资占房地产开发投资的比重为67.3%，比上年同期下降0.85个百分点。

1-7月份，东部地区房地产开发投资30186亿元，同比增长4.7%，增速比1-6月份回落0.2个百分点；中部地区投资10781亿元，增长3.9%，增速比1-6月份提高0.3个百分点；西部地区投资11596亿元，增长3.8%，增速比1-6月份回落0.9个百分点。

1-7月份，房地产开发企业房屋施工面积654172万平方米，同比增长3.4%，增速比1-6月份回落0.9个百分点。其中，住宅施工面积456000万平方米，增长1.0%。房屋新开工面积81731万平方米，下降16.8%，降幅比1-6月份扩大1个百分点。其中，住宅新开工面积56684万平方米，下降17.9%。房屋竣工面积37833万平方米，下降13.1%，降幅比1-6月份收窄0.7个百分点。其中，住宅竣工面积28077万平方米，下降15.6%。

1-7月份，房地产开发企业土地购置面积12113万平方米，同比下降32.0%，降幅比1-6月份收窄1.8个百分点；土地成交价款3593亿元，下降25.6%，降幅收窄3.3个百分点。

86. 若2015年1-7月，东部地区房地产开发投资中有62%是住宅投资，则2015年1-7月东部地区住宅投资占全国的（ ）。

- A. 42% B. 49%
C. 53% D. 61%

87. 2014年1-7月份，中部地区投资额约比西部地区（ ）。

- A. 多784亿元 B. 少784亿元
C. 多815亿元 D. 少815亿元

88. 2015年1-7月份，房地产开发企业每平方米的土地购置价格比去年同期增长了（ ）。

- A. 4.8% B. 6.4%
C. 7.7% D. 9.4%

89. 2015年1-7月，全国住宅投资同比增速为（ ）。

- A. 3% B. 3.5%
C. 4% D. 4.5%

90. 能够从上述资料中推出的是（ ）。

- A. 2015年7月份，全国房地产开发投资同比名义增长率超过4.3%
B. 2015年1-7月份，东部地区房地产开发投资额是中西部地区的2倍多
C. 2015年1-7月份，住宅施工面积占房地产开发企业房屋施工面积的比重高于上年同期
D. 2015年1-7月份，住宅新开工面积占房屋新开工面积的比重不足7成

二、二、根据以下资料，回答问题。



91. 除总发电量外，表格中所列数据中，2016年1-7月月均产量同比增长的有（ ）个。
A. 15
B. 16
C. 13
D. 14
92. 在火力、水力、核能、风力发电中，有几种发电形式在2016年1-7月的累计发电量占总发电量的比重高于上年同期水平？（ ）
A. 4
B. 3
C. 2
D. 1
93. 2016年上半年，我国柴油产量比汽油多（ ）万吨。
A. 419.30
B. 2705.00
C. 2285.70
D. 6779.90
94. 以下四项数据，2015年7月份产量排序正确的是（ ）。
A. 煤油 > 石脑油 > 燃料油 > 石油沥青
B. 煤油 > 石油沥青 > 石脑油 > 燃料油
C. 石油沥青 > 煤油 > 石脑油 > 燃料油
D. 石油沥青 > 石脑油 > 煤油 > 燃料油
95. 根据以上材料，下列说法错误的是（ ）。
A. 2016年7月燃料油产量同比变化幅度最小
B. 2016年7月份煤层气产量大于2016年1-6月月均产量
C. 2016年1-7月累计石油沥青比上年同期增产约123吨
D. 2016年1-7月中，液化天然气月均产量超过50万吨

三、三、根据以下资料，回答问题。

