

第一部分 常识判断

根据题目要求，在四个选项中选出一个最恰当的答案。

请开始答题：

- 关于我国气候的描述，下列说法中正确的是（ ）。
 - 我国400mm等降水量线大致沿秦岭——淮河一线分布
 - 内蒙古高原气候主要为高原山地气候
 - 北京冬季寒冷干燥，为温带大陆性气候
 - 我国热带季风气候区有红树分布
- 关于世界著名建筑说法错误的是（ ）。
 - 印度泰姬陵是一座白色大理石建成的穆斯林风格建筑
 - 西斯廷教堂内有米开朗琪罗名作《创世纪》
 - 麦积山石窟位于宁夏，是我国四大名窟之一
 - 自由女神像位于美国纽约，由法国设计师设计
- 关于湖泊，下列说法错误的是（ ）。
 - 构造湖是在地壳内力作用形成的构造盆地上经储水而形成的湖泊
 - 潟湖一般分布于沙漠中的绿洲中
 - 长白山天池为中国最深的高山湖泊
 - 美国五大湖属于冰川湖泊
- 《资治通鉴》，是①南宋司马光所主编的一本史书。书中记载的历史由②周幽王写起，一直到五代的后周世宗显德六年征淮南，③共跨16个朝代，它是中国的一部④编年体通史，在中国史书中有极重要的地位。

上述文字中划线处共有（ ）处错误。

 - 一处
 - 两处
 - 三处
 - 四处
- 关于我国近现代著名历史人物，下列说法错误的是（ ）。
 - 林则徐主张严禁鸦片，向西方学习，与好友魏源共同编著了《海国图志》
 - 詹天佑主持修建了中国自主设计并建造的第一条铁路
 - 秋瑾是我国女权和女学思想的倡导者，曾积极响应萍浏醴起义
 - 黄兴曾组建革命团体华兴会并担任会长
- 下列选项中所涉及作品的作者处于同一时期的是（ ）。
 - 《两都赋》 《秋声赋》
 - 《聊斋志异》 《喻世明言》
 - 《赤壁赋》 《小石潭记》
 - 《文心雕龙》 《世说新语》
- 关于诗歌，下列说法错误的是（ ）。
 - 《诗经》是我国最早的一部诗歌总集，作者为屈原
 - 《陌上桑》是我国汉乐府民歌的名篇
 - 古体诗和近体诗是唐代形成的概念，是从诗的音律角度来划分的
 - 赋、比、兴均属于传统诗歌表现手法

8. 关于刑法，下列说法正确的是（ ）。
- A. 甲已满十五周岁，为泄私愤在村子公用的水井中投毒，造成两人中毒死亡，由于甲未成年，不用承担刑事责任
 - B. 乙患有间歇性精神病，病发时用刀具砍伤路人造成路人重伤，乙不承担刑事责任
 - C. 丙为盲人，诈骗前妻丁钱财共计5万元整，由于盲人身份，丙不承担刑事责任
 - D. 戊因恼恨丁插足其和女友之间的感情，欲施加报复，在购买刀具时经人举报被抓，由于未给丁造成实际伤害，戊不承担刑事责任
9. 下列做法中正确的是（ ）。
- A. 甲男因意外下落不明一年半，其妻子可以向法院申请宣告甲男死亡
 - B. 乙女在车祸意外后成为植物人，则丧失了对患有精神病丈夫的监护权
 - C. 丙男失踪后，其儿子应当偿还丙所有债务
 - D. 丁女下落不明满四年，宣告死亡后其丈夫应向人民法院提出撤销婚姻关系申请
10. 关于少数民族的节日，下列说法中正确的是（ ）。
- A. 酥油花灯节是蒙古族的传统节日之一
 - B. 雪顿节是满族为庆祝新年而举办的盛会
 - C. 傣族的泼水节和佛教有关
 - D. 三月三歌会是朝鲜族特有的节日
11. 2018年7月25日至27日，第十届金砖国家峰会顺利举办，下列关于金砖国家峰会的说法正确的是（ ）。
- A. 首届金砖国家峰会在中国举办
 - B. 金砖五国中最后加入的是印度
 - C. 本次金砖国家峰会在巴西里约热内卢召开
 - D. 金砖五国均为发展中国家
12. 关于我国《宪法》，下列说法中正确的是（ ）。
- A. 社会主义制度是我国的根本制度，人民民主专政是中国特色社会主义最本质的特征
 - B. 公有制经济是国民经济中的主导力量
 - C. 一切法律、行政法规和地方性法规都不得同宪法相抵触
 - D. 在我国境内的草原、滩涂、荒地以及自然资源均属于国有资产
13. 关于行政复议法，下列说法中错误的是（ ）。
- A. 经营者认为行政机关侵犯其合法经营自主权的可以申请行政复议
 - B. 对于行政机关做出的行政处分或者其他人事处分决定不服的，可以提起行政复议
 - C. 不服行政机关对民事纠纷作出的调解，可以依法申请仲裁
 - D. 公民对行政机关做出的具体的行政行为不服的，可以在知道该具体行政行为之日起六十日内提出行政复议申请
14. 根据我国《消费者权益保护法》，下列哪些商品商家不可以拒绝消费者七天无理由退货（ ）。
- A. 消费者通过网络购买的衣物
 - B. 消费者以电话方式购买的鲜活海鲜
 - C. 消费者以电视直销方式定做的茶具
 - D. 消费者邮购的报刊
15. 有些家庭主妇在清洁卫生间时喜欢在洁厕灵中掺入84消毒液，这样的做法其实是错误的，原因是（ ）。
- A. 洁厕灵和84消毒液同时使用可能导致马桶釉面发黄
 - B. 84消毒液和洁厕灵同时使用会释放一氧化碳引起中毒
 - C. 洁厕灵和84消毒液可发生反应释放出氯气，引起氯气中毒
 - D. 84消毒液和洁厕灵同时使用可能使卫生间滋生细菌

16. 近日来长生生物疫苗造假案引起社会广泛关注，下列关于疫苗的说法错误的是（ ）。
- A. 疫苗是指用各类病原微生物制作的用于预防接种的生物制品
 - B. 菌苗是用细菌或螺旋体制作的疫苗
 - C. 疫苗有活疫苗和死疫苗两种
 - D. 减毒活疫苗的效力短，一般在一年内有保护效力
17. 关于物态变化，下列说法中错误的是（ ）。
- A. 水蒸发属于汽化，汽化会对外界吸热
 - B. 石蜡加热后会熔化，熔化会对外界吸热
 - C. 灯泡中钨丝变细属于液化现象，液化会对外界放热
 - D. 冬季地面结霜属于凝华现象，凝华会对外界放热
18. 关于金属中的“最”，下列说法正确的是（ ）。
- A. 地壳中含量最多的金属是铁
 - B. 导热最强的金属是银
 - C. 延展性最强的金属是铜
 - D. 熔点最低的金属是钨
19. 下列关于我国科技成就说法正确的是（ ）。
- A. “东风”系列导弹是我国一系列近程、中远程导弹
 - B. “北斗”导航系统目前已经成功发射40颗卫星
 - C. “天宫一号”目标飞行器预计使用年限为15年
 - D. “神州”系列飞船是我国自行研制的已经达到国际第二代载人飞船技术的飞船
20. 关于农业及农业科技发展，下列说法中错误的是（ ）。
- A. 目前已经可以实现在沙漠中种植水稻
 - B. 超级杂交水稻可实现亩产1000公斤
 - C. 海水稻并不是生长在海水中的水稻
 - D. 矮败小麦是一种植株小，亩产低的小麦

第二部分 言语理解与表达

本部分包括表达与理解两方面的内容。请根据题目要求，在四个选项中选出一个最恰当的答案。

请开始答题：

21. 近年来，有的地方电视台和报刊违规播放刊登一些虚假广告，误导消费者。_____，记者调查和梳理互联网平台广告也发现不少问题广告，比如“几块钱就可买冰箱”。填入划横线处最恰当的一项是（ ）。
- A. 无独有偶
B. 毋庸置疑
C. 众所周知
D. 祸不单行
22. 在一些地方，相关工作人员也许算不得官员，但由于与老百姓直接打交道，一举一动关乎公权力形象，更需严于律己，把老百姓放在心上，如果不作为、乱作为，就没有必要_____。填入划横线处最恰当的一项是（ ）。
- A. 越俎代庖
B. 尸位素餐
C. 鸠占鹊巢
D. 牝鸡司晨
23. 从国内目前的现状来看，刚刚装修完的房屋绝大多数都会存在甲醛污染，很难避免。温度高会加快甲醛的挥发速度。但总体来看，甲醛挥发是一个缓慢过程，因此清除甲醛也必须_____。填入划横线处最恰当的一项是（ ）。
- A. 全力以赴
B. 持之以恒
C. 一以贯之
D. 任重道远
24. 孩童的天性就是玩，俄国著名教育家列斯加夫特曾言“我们应该利用游戏，教会儿童掌握自己动作的本领。”过多的兴趣班安排不仅会_____家长的财力，更会压榨孩子的玩乐时间。家长与其让孩子不甚情愿地在各类兴趣班中_____，不如趁暑假的大好时光多陪陪孩子，让其在大自然中充分玩耍。依次填入划横线处最恰当的一项是（ ）。
- A. 侵蚀 迁徙
B. 耗费 辗转
C. 耗尽 游走
D. 消耗 流连
25. 招商局作为中国最古老的企业，在近一个半世纪中的经营从未中断。它不仅开创了中国现代工商业和金融业，亦与国家命运_____，是现代中国曲折前行的_____。更重要的是，今天它仍旧保持着活跃的生命力。依次填入划横线处最恰当的一项是（ ）。
- A. 一脉相承 写照
B. 息息相关 映像
C. 唇齿相依 预兆
D. 休戚相关 缩影
26. 当前，我们正处在一个挑战_____、风险日益增多的时代。要尊重他国自主选择的社会制度和发展道路，尊重彼此核心利益和重大关切，客观理性看待别国发展壮大和政策理念，努力_____、聚同化异。这样，才能共同维护来之不易的和平稳定局面和良好发展势头。依次填入划横线处最恰当的一项是（ ）。
- A. 日出不穷 和而不同
B. 层出叠见 求同存异
C. 成千上万 取长补短
D. 源源不断 精益求精
27. “低价游，高价购”，是游客诟病已久的旅游业_____。这样的利益链条，势必将所有费用_____到游客身上，这早已不再是健康有序的市场之举，而是涉嫌合同欺诈、有违职业道德的违法行为。依次填入划横线处最恰当的一项是（ ）。
- A. 痼疾 转移
B. 绝症 转换
C. 顽疾 转嫁
D. 硬伤 嫁祸

35. 海淘平台方面，不管是负有连带责任还是补充责任，都应加强对海淘药品的监督管理，消费者个人也要对自己的身体负责。作为消费者，首先应明白对症下药和_____的道理。其次，应更加_____看待海淘药，不应盲目相信“外国的月亮”。一旦生病，不应_____，更不能自行诊断随意用药，这是对自己身体的不负责。

依次填入划横线处最恰当的一项是（ ）。

- A. 因人而异 理性 讳疾忌医
B. 有的放矢 公正 掩耳盗铃
C. 因事制宜 理智 欲盖弥彰
D. 东施效颦 客观 因噎废食

36. 专注的养成也需要时间的_____。完善细微过程，不被焦虑捆绑手脚，才能使问题_____，才能以强劲持续的竞争力，在珍贵时光中积累出与众不同。如今，越来越多的“匠心”为人知晓，正是匠师们不走捷径，对细节进行_____的打磨锻造，日复一日的坚持，年复一年的专注，才让日常的点滴积累飞跃，完美绽放。

依次填入划横线处最恰当的一项是（ ）。

- A. 积淀 不攻自破 锲而不舍
B. 积累 昭然若揭 孜孜不倦
C. 沉淀 迎刃而解 一丝不苟
D. 锤炼 马到成功 谨小慎微

37. 练就真本领、具备真实力并不是_____可以办到的，本领像春起之苗，不见其增、日有所长。然而，有些年轻人养成了“速成”的思维，遇到需要增本领、提实力的时候，首先想到的是有没有捷径可走，这种“速成”思维容易使人_____，具备的实力也不会长久。有实力的人在遇到旗鼓相当甚至更强大的对手时会不卑不亢，那份被实力韬养出的自信会_____在举手投足间。

依次填入划横线处最恰当的一项是（ ）。

- A. 一帆风顺 蜻蜓点水 显示
B. 轻而易举 舍本逐末 惊现
C. 一蹴而就 急于求成 展现
D. 一朝一夕 浅尝辄止 展露

38. 将课业交由他人代笔，既欺骗了别人，也_____了自己，背离了教育初衷不说，更_____了价值观。应该说，遇到疑惑选择“不耻下问”是值得_____的学习习惯，但拿到作业选择“不耻代写”显然会误入投机取巧的成长歧途。知识本无价，能用金钱购买到的作业既得不到收获，还丧失了诚信，可谓有百害而无一利。

依次填入划横线处最恰当的一项是（ ）。

- A. 迷惑 扭曲 苛求
B. 蒙蔽 亵渎 提倡
C. 糊弄 丧失 倡导
D. 瞒骗 影响 推崇

39. 我们必须意识到，骚扰电话出现的根源在于利益的_____。由于打骚扰电话本身属于低成本经营，因此别有用心之人会铤而走险，_____从中获益。所以，即使整治行动能够沉重地打击不法分子的嚣张气焰，使骚扰电话在相当长的一段时间内_____，我们仍不可掉以轻心。

依次填入划横线处最恰当的一项是（ ）。

- A. 驱使 考虑 无影无踪
B. 推动 努力 烟消云散
C. 诱惑 企图 销声匿迹
D. 驱动 妄图 杳无音讯

40. 电竞运动所做的是在专业教练指导下，高效的训练与竞争，而沉迷网游的玩家所做的不过是_____的消遣。前者会不断在训练和比赛中填补技术_____，所花费的时间最终都转化为职业经验。而在网游中消耗时间的人，一无专业的战术指导，二无严格的训练计划，操作、玩法都相当随意，所投入精力的回报同职业选手不可_____。

依次填入划横线处最恰当的一项是（ ）。

- A. 漫无目的 漏洞 同日而语
B. 随心所欲 纰漏 一决高下
C. 予取予求 疏漏 平分秋色
D. 游刃有余 缺陷 相提并论

41. 随着技术的不断进步，指纹识别、虹膜识别、人脸识别等生物认证方式不断推陈出新，传统的“用户名+密码”已经进化到当前的“用户名+密码+生物特征+活体检测”等更高级、立体的防护体系。面对科技含量越来越高的认证技术，无论是老百姓还是企业，都感到安全系数也随之提升。然而，事实并非如此。比如，人脸识别技术虽然看起来颇为先进，但是一旦有不法分子破解了其中的技术屏障，在获得消费者其他信息的条件下，就可能通过“刷脸”的方式侵害消费者利益。

该文段意在说明（ ）。

- A. 刷脸登录存在安全漏洞
- B. 现阶段防护体系不健全
- C. 应提升生物认证技术的科技含量
- D. 生物认证技术并没有想象中安全

42. 新风系统虽然具备空气净化器的功能，但其工作原理却大不同。新风系统是由送风系统和排风系统组成的一套独立空气处理系统，其基本原理和作用是在导入室外空气的同时排出室内浊气，达到不开窗也能够通风换气的效果。新风系统安装上静电集尘盒或滤网，就会具备空气净化功能。另外，新风系统再安装上热交换机，便具有热交换功能。不难发现，空气净化器的作用在于清洁室内已有空气，而新风系统则是通过排、送风管道实现室内外空气流通，同时净化送入的空气，实现全热交换。当然，无论是新风系统还是空气净化器，采用滤网净化空气都需要定期更换滤网，若更换不及时则会产生二次污染的风险。

下列选项不符合文意的一项是（ ）。

- A. 新风系统的作用优于空气净化器
- B. 空气净化器需要定时间更换滤网
- C. 空气净化器主要净化室内的已有空气
- D. 新风系统可以实现室内室外通风换气

43. “天下大事，必作于细”。近几十年来，我们国家经历了大规模、超快速的城镇化，城市建设是日新月异，让很多国家都望尘莫及。但是，一个先进的城市光有高楼大厦、地铁高铁这些光鲜外表还不够，还要将精细化管理思想引入城市管理领域。管理者只有如匠人般苦下精雕细琢的功夫，用细节化管理的药方治疗城市粗放发展引起的痼疾，才能使城市建设的成果不断造福人民。所以，“城市管理应该像绣花一样精细”，才能使我们的家园变得更加和谐温润，才能使我们国家在各个方面都能赶上发达国家。

上述文段主要说明（ ）。

- A. 我国应加强城市管理，赶上发达国家
- B. 城市管理水平需要从细节之处提升
- C. 我国当前城市化建设取得巨大的进步
- D. 管理者应该树立精细化管理的意识

44. 一年之内，不到四个月的时间，滴滴接连两次发生女乘客被害事件。历史总是惊人的相似，纵观事件背后，企业监管漏洞可谓是酿成悲剧的“罪魁祸首”。诚然，一个新兴产业的诞生，不免会存在监管的滞后，但作为服务社会的新兴产业，更应该积极配合相关部门，完善相关产业领域的法律法规，建立一个符合公众道德、伦理认知的新秩序。鉴于此，包括滴滴在内的网约车平台，当痛定思痛，彻底排查制度、监管、运营等方面漏洞，健全制度、用好技术，主动对接相关部门，接受监管，切实保障乘客安全。

上述文段主要想说明的是（ ）。

- A. 网约车平台应该拓宽监管范围
- B. 企业监管漏洞百出，影响恶劣
- C. 新兴产业应该彻底排查监管漏洞
- D. 莫让监管漏洞再度“吞噬”生命

45. 于西曼表示，当前大型商场门庭冷落，内需无法拉动得到强劲增长。其实，这并不完全是商品不丰富所致，而是有美丽竞争力的商品困乏。国人审美需求提高而鼓囊的钱袋子拥有的购物欲却无处在内地释放，就只能外求，所以导致“中国大妈扫货现象”席卷世界。这种墙外开花的反常现象，应当引起国人反思。国货当自强，自强的基石是否要从提高基本的美商和颜值入手。而整体美商指数的提高，与社会物质发达水平和国民素质的提高“正相关”。这段文字意在强调（ ）。
- A. 国货当自强取决于社会物质发达水平和国民素质
B. 应对大妈国外扫货这种反常现象采取合理的措施
C. 提高美商指数有助于增强国货的竞争力
D. 我国商场缺乏美丽且具有竞争力的商品
46. 绝大多数的椰子树都是生长在海边的。海边还会缺水吗？椰子为什么还要储存水？请注意，此“水”非彼“水”，海水非淡水，不能被椰子所利用。这是由于海水有一定的盐度，渗透压较高。渗透压高的溶液会将水从渗透压低的溶液中吸引过来，以使自己变稀，渗透压降低；使对方溶液浓度变大，渗透压升高，最终达到平衡二者渗透压相等。海水渗透压较高，海水进入以后，不是水往细胞体内跑，而是细胞体内的水往外跑，会让细胞脱水。所以，母树必须为椰子储备足够萌芽的淡水，于是，就有了椰子水。针对上述文段，不符合文意的一项是（ ）。
- A. 椰子树的生长不能直接利用海水
B. 椰子水是指椰子树为萌芽储存的淡水
C. 渗透压高的溶液会使对方渗透压降低
D. 海水进入椰子树会使细胞体脱水
47. 铅笔颜色的深浅是针对不同书写目的推出的不同型号。从石墨被发现可以用来写写画画开始算起，铅笔其实有近五百年的历史，其间经过不断改进。现在典型的铅笔的笔芯由石墨粉混合黏土制成，外层则是起到保护作用的木质外壳。根据石墨和黏土的混合比例不同，笔芯的软硬也不一样，从最软的10B到最硬的6H都有，B是“黑”（Black）的意思，也就是说，标号越高的B系笔芯越软也越黑，可以用来画素描或是填涂答题卡。反过来H就是“硬”（Hard）的意思，H标号越高笔芯就越硬，画出的痕迹也越浅，可以用来写字或是给图画打轮廓。从上述文段中不能得出的是（ ）。
- A. 铅笔的用途
B. 铅笔笔芯的材料
C. 铅笔的市场前景
D. 铅笔颜色深浅不一的原理
48. 有人说，以国际慢食全球大会的召开为标志，中国步入了“慢食元年”，实则不然。“慢食”看似一个舶来品，但其实早就根植于我国的传统文化中。在《论语·乡党第十》中，孔子就提出了一种“食不厌精，脍不厌细”的饮食之礼：“食噎而渴，鱼馁而肉败，不食。色恶，不食。失饪，不食。不时，不食。割不正，不食。不得其酱，不食。肉虽多，不使胜食气。惟酒无量，不及乱。沽酒市脯不食。不撤姜食。不多食。祭于公，不宿肉。祭肉，不出三日，出三日，不食之矣。”这种对时、节、度的讲究，与“慢食”提倡的优质清洁不谋而合。这段文字主要强调的是（ ）。
- A. “慢食”文化源于我国的传统文化
B. “慢食”理念根植于我国的传统文化之中
C. 我国传统的饮食讲究与“慢食”理念一致
D. 目前我国还未能步入“慢食元年”

49. ①虽然此判断颇受欢迎，但细想却存在很大问题
 ②质量的高低永远是相对的，而不是绝对的
 ③标准之所以高，那是因为大多数人在大多数的情况下，无法达到
 ④那就是认为，只有高标准才能有高质量
 ⑤这就意味着，高标准必然带来大规模的教育失败
 ⑥关于提高教育质量存在一个认识误区
 将以上6个句子重新排列，语序正确的一项是（ ）。
- A. ②⑥④③⑤①
 B. ⑥④①②③⑤
 C. ③②⑥①④⑤
 D. ①②③⑤⑥④
50. ①在今天看来，其繁体字形、反切注音以及受时代局限而作出的错误释义等，都已经不能切合当代初学儿童的需求
 ②在形式上，应充分发挥融媒体理念，利用传统媒体与新媒体各自的优势，让语文教学实现立体化传递
 ③具体来说，在内容上，字课教育应实现对汉字形音义的关联，对字形文化的挖掘，以及汉字与古代诗文的相互印证等
 ④“字课”的说法早已有之。1901年曾出版过一套书，叫作《澄衷蒙学堂字课图说》
 ⑤但我们仍可借鉴其字课理念，在吸收传统语文教育经验的基础上，对字课从内容到形式作全面改进，为语文教育拓展途径
 ⑥这套书以“字课”命名，从字形分析、字义讲解、文化信息等方面对每个字进行说解，以图画辅助展示词义信息
 将以上6个句子重新排列，语序正确的是（ ）。
- A. ④①③②⑥⑤
 B. ④⑥①⑤③②
 C. ④⑥①②⑤③
 D. ①⑤③②④⑥
51. 一年一度的高考，可谓是人生关键时刻。十余年寒窗苦读，只为此刻临门一脚，因而对绝大多数考生而言，高考在心中有着非比寻常的重要意义。然而，出于种种原因，每年总有一小部分比例的考生被高校录取后，选择主动放弃报到，在一些人看来，这是对教育资源的浪费。不过在笔者看来，“爽约”看似任性，实则其背后或许有现实苦衷，毕竟长期以来的“一考定终身”思维，让考生和家长不得不左思右想、慎之又慎。
 作者对“爽约”所持的态度是（ ）。
- A. 肯定
 B. 理解
 C. 否定
 D. 未作评价
52. 教育是国运之本，是支撑国家发展的坚强基石，也是人才培养的主要途径。教师是教育的灵魂，我们常说“什么样的教师，就教出什么样的学生”，显而易见，教师跟学生的成长、人才的培养有直接的联系。中国高等师范学府北京师范大学以“学为人师，行为世范”为校训，对教师及未来的教师进行定位。事实上，从社会发展、个人生存角度来说，教师也是一种职业，但因教师面对的受众不同，这份职业就具备了其他职业所没有的独特性，它承担着千千万万家庭的希望，也承担着中华民族伟大复兴的希望。因此，必须厚植教育情怀。
 文章接下来最可能讲的是（ ）。
- A. 厚植教育情怀存在局限性
 B. 我国教育情怀的发展现状
 C. 教育对于国家发展的意义
 D. 厚植教育情怀的具体做法

53. 利用老年人心理软肋的营销模式，是否有违商业营销伦理，蛮值得追问。而即便是撇开这一营销模式的是非不论，商家促销送礼品，销售人员巧舌如簧的确也十分普遍，但是不是一口一个“爸爸”，戳中消费者的心理软肋，就可以伺机叫价，相关的商品和服务价格就可以不受约束和限制，答案显然是否定的。事实上，就连网购商品都可以有后悔权，那么，对于这类利用老年人心理弱点的保健品销售模式，为了保障老年群体的权益，防范这类亲情饥渴下的上当受骗，同样应当让老年人享有后悔权，这一权益保障的到位，不仅将有助于老年人冷静消费，利用老年人亲情渴求的不良营销，也才难有可乘之机。

上述文段主要说明（ ）。

- A. 老年人享有后悔权的重要意义
- B. 造成“亲情式”营销模式的原因
- C. 打击“亲情式”营销模式的具体方法
- D. 应该完善老年人享有后悔权的保障机制

54. 古人倡导：吾一日三省吾身。古人智慧的珍贵之处在于，不断反省自己才能获得成长与蜕变。人贵在自省自警。我们尊重在演艺事业上奋力拼搏的人，但也不会纵容不良风气等乱象的滋生，并且期待，每一个艺人无论在舞台上扮演什么样的角色，获过多大的荣誉，在台下都能时刻拒绝浮躁，审视自我。唯有如此，才能获得更多赞誉，才能成为一个德艺双馨的人，成为一个受到人民喜爱的艺术家。

上述文段主要想说明（ ）。

- A. 应该尊重辛苦拼搏的艺人
- B. 不断自省是获得成长的必要条件
- C. 艺术家的珍贵之处在于审视自我
- D. 演艺人员要时刻自省自警

55. 近年来留学消费开始向工薪家庭延伸，“留学热”也呈现出不断低龄化的趋势。不少留学生的父母都希望孩子能够借此获得更强的竞争力，从而收获更大的成功，但如果只是盲目功利地让孩子早早出国，那么可能反倒事与愿违。与本科和研究生阶段才开始留学相比，低龄留学存在更多未知的风险。这些低龄留学生由于年龄过小，心智不够成熟，自制力可能也不够。一旦离开父母，进入约束更小的陌生环境，如果不能很好地适应，他们更容易出现厌学、攀比这类消极现象。试想，如果孩子本身存在很多问题，那么这种留学也很难让他们拥有更好的未来。

上述文段意在说明（ ）。

- A. 出国留学给孩子带来的消极影响
- B. 社会各界应正确看待低龄化留学
- C. 近年来低龄留学已成为一种择学趋势
- D. 莫把低龄留学当成改变命运的万能药

56. 每次午饭后很容易犯困，很多人都觉得这是因为吃完饭后全身的血液都集中到消化系统，帮助胃肠蠕动和消化，造成大脑供血不足，让大脑缺氧了，才会觉得困。但事实可能并非如此，因为如果是大脑缺氧，那么感受到的不是困意而应是晕。那么到底是为什么？这可能跟你吃的东西有关系。美国的研究人员发现，胆囊收缩素可能与餐后的睡意有关。研究人员测试了吃饭前后受测者胆囊收缩素的分泌量和睡意量表分数，发现两者成正相关。如果吃的食物太油腻，胆囊收缩素大量分泌，这可能是饭后觉得困的原因。除此之外，餐后血糖升高也可能会让你犯困，因为餐后血糖升高会抑制下丘脑分泌一种“食欲素”。当食欲素含量低下，人就会觉得昏昏欲睡，不想运动。

下列说法符合上文意思的一项是（ ）。

- A. 食物是导致餐后犯困的主要因素
- B. 收缩素的分泌量与食欲素成正比
- C. 胆囊收缩素可能影响餐后的睡意
- D. 食欲素含量升高会使人容易犯困

57. 一直以来有一幅火爆朋友圈的“中国肿瘤患者就诊迁徙图”被无数媒体广泛转发和引用，这是以200多万肿瘤患者的居住地为起点，以最终就诊医院所在地为终点，画出的肿瘤病人的就诊路线，这幅看起来像极了春运图和双十一物流图的肿瘤病人迁徙图的背后，揭示今天中国医疗资源分配不均的困境和无奈，而“迁徙图”的出品团队——零氪科技之所以用数据绘制这样一幅图，就是在探索用专业和信息技术帮助医疗机构乃至管理机构推动这个困局的改变。

“这个困局”指的是（ ）。

- A. 中国肿瘤患者就诊路线
- B. 中国医疗资源分配不均匀
- C. 我国的肿瘤患者人数颇多
- D. 用数据绘制就诊迁徙图

58. 在现实的儿童教育当中有一个很大的问题就是溺爱，尤其是老人的溺爱，是不由自主的。家长无原则的退让，所谓的疼爱，让孩子们失去了承担责任、反省自我、接受挫折的勇气与能力。家长们总认为：“孩子大了自然就懂了”，殊不知3-6岁正是儿童形成自我认知、社会认知的最初阶段，家长们不自觉的行为却剥夺了孩子成长的机会，为孩子人格、性格、看待事物的问题和角度等带来了不可估量的影响。所以我认为，经历是孩子成长的必经之路，_____。
- 填入划横线部分最恰当的一项是（ ）。
- A. 请培养孩子自力更生的能力
B. 请把经历成长的机会还给孩子
C. 相信你们的做法其实没那么重要
D. 请学会不被其他意见影响或左右
59. 某知名教授曾提出，青年人应该掌握至少三大财富能力：正确运用金钱的能力、处理物质欲望的能力、了解匮乏与金钱极限的能力。这三种能力背后所折射出的，正是对自己负责、独立解决财富问题的能力，这对于一个人的一生来说至关重要。仔细观察那些善于创造财富、积累财富的民族，事实上从幼儿阶段就注重培养孩子与财富有关的观念，教导孩子自食其力，告诉孩子赚钱只有合法与否，没有贵贱之分等。值得欣喜的是，尽早培养学生的理性消费和财富观念，已经逐渐成为社会共识。越来越多的老师、家长，已经深刻地意识到研究和引导孩子的财富观，不仅是提升孩子思想道德素质的客观需要，也是关乎学校和家庭将培养怎样的人的大问题。
- 这段文字意在说明（ ）。
- A. 青少年不能缺少财富观教育
B. 掌握三大财富能力的重要性
C. 应该尽早培养孩子的财富观
D. 当前青少年缺乏财富观教育
60. 阅读不能解决孩子生活中的任何问题。它不会让父母重归于好，也不能让小狗起死回生，更不能让妈妈摆脱病魔。可是，阅读能增强孩子内心的力量，让孩子不会沉溺在自己的忧伤中，借助阅读走出焦虑和忧伤。童书对孩子心灵的引导作用是显而易见的，因为孩子要比成人更容易进入书中。不论是童话故事还是生活故事，作为小读者的孩子，都喜欢把自己投射在角色上，仿佛自己就是书中的某一个角色，和他们一起感受喜怒哀乐，也从角色身上学习处理情绪和矛盾的方法。
- 下列最适合做这段文字标题的是（ ）。
- A. 孩童时代的图书
B. 多愁善感的童年
C. 图书走入孩子心灵深处
D. 用图书抚平孩子的忧伤

第四部分 判断推理

一、图形推理。请按每道题的答题要求作答。

请开始答题：

76. 从所给的四个选项中，选择最合适的一个填入问号处，使之呈现一定的规律性（ ）。



77. 从所给的四个选项中，选择最合适的一个填入问号处，使之呈现一定的规律性（ ）。



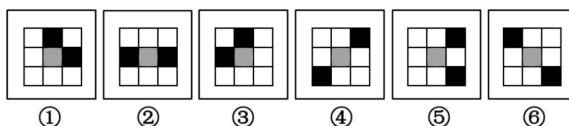
78. 把下面的六个图形分为两类，使每一类图形都有各自的共同特征或规律，分类正确的一项是（ ）。



- A. ①④⑤, ②③⑥
C. ①③④, ②⑤⑥

- B. ①②③, ④⑤⑥
D. ①⑤⑥, ②③④


79. 把下面的六个图形分为两类，使每一类图形都有各自的共同特征或规律，分类正确的一项是（ ）。



- A. ①②③, ④⑤⑥
C. ①③⑥, ②④⑤

- B. ①④⑤, ②③⑥
D. ①③④, ②⑤⑥

80. 把下面的六个图形分为两类，使每一类图形都有各自的共同特征或规律，分类正确的一项是（ ）。



- A. ①②③, ④⑤⑥
C. ①⑤⑥, ②③④

- B. ①③⑥, ②④⑤
D. ①④⑤, ②③⑥

81. 把下面的六个图形分为两类，使每一类图形都有各自的共同特征或规律，分类正确的一项是（ ）。



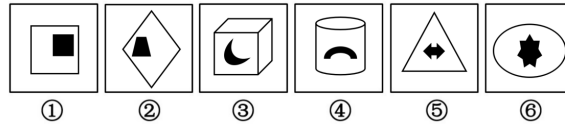
- A. ①④⑤, ②③⑥
C. ①⑤⑥, ②③④

- B. ①②④, ③⑤⑥
D. ①②③, ④⑤⑥

82. 从所给的四个选项中，选择最合适的一个填入问号处，使之呈现一定的规律性（ ）。



83. 把下面的六个图形分为两类，使每一类图形都有各自的共同特征或规律，分类正确的一项是（ ）。




- A. ①④⑤, ②③⑥
 B. ①⑤⑥, ②③④
 C. ①③④, ②⑤⑥
 D. ①②④, ③⑤⑥

84. 下列选项中，由左边的立方体展开而成的是（ ）。



85. 从所给的四个选项中，每个立体图形均由9个正方体拼成，哪个立体图形的左视图和主视图均为左侧图形（ ）。



二、定义判断。每道题先给出定义，然后列出四种情况，要求你严格依据定义，从中选出一个最符合或最不符合该定义的答案。注意：假设这个定义是正确的，不容置疑的。

请开始答题：

86. 海豚式升迁是某公司培训的一大特色。海豚是海洋中最聪明最有智慧的动物，它下潜得越深则跳得越高。海豚式升迁即重视员工素质的培养，并提倡员工的升迁基于基层的训练。也就是说一个干部要负责更高层次的部门时，先让他去该岗位的基层锻炼一个时期。有的已经到了很高的职位了，但如果缺乏这方面的经验，也要派他下去；有的各方面经验都有了，但综合协调的能力较低，就要派他到这些部门去锻炼。

根据上述定义，下列属于海豚式升迁的是（ ）。

- A. 孙伟是某公司人力部门的负责人，现总公司要将孙伟调到市场部做负责人
 B. 刘宏伟是产品部门的负责人，现公司将其调到运营部基层去工作，积累经验，以便做运营部的负责人
 C. 后勤部优秀员工刘虹被派到保安部基层工作半年，之后升任为保安部的负责人
 D. 分公司采购部负责人被派到总公司采购部培训，回来升任总经理

87. 人们相信，巧合背后一定有蹊跷，例如心灵感应，或者冥冥中存在神秘力量。其实并不是巧合，其发生机会比我们直觉以为的可能性大很多，巨数法则，指如果样本足够大，极端不可能发生的怪事、奇事、离谱事也是有可能发生的，也就能理解那些所谓“惊人”的巧合。令人不可思议的巧合若放在大背景下观察，根据“巨数法则”就有发生的可能。由此提醒人们别被巧合忽悠了。

根据上述定义，下列现象不能用巨数法则解释的是（ ）。

- A. 大学开学，小明发现室友和自己同年同月同日生，不由得感叹：是一种缘分啊！
 B. 某人习惯每月买一张彩票，今年在4个月内中了两次彩票巨奖，大家都说这是神灵赐福了
 C. 埃梅里说自己 and 男友有心灵感应，因为自己心里一想到他，他就打电话来
 D. 孙明在高考的时候，以为自己会被分到奇数考场，没想到被分到了第二个考场

88. 情绪中暑指当气温超过35℃、日照超过12小时、湿度高于80%时，气象条件对人体下丘脑的情绪调节中枢的影响就明显增强，人容易情绪失控，频繁发生摩擦或争执的现象，叫情绪中暑，又叫夏季情感障碍综合症。其主要有三个表现，一是情绪烦躁，二是心境低落，三是行为古怪，常会固执地重复一些生活动作。

根据上述定义，下列属于情绪中暑的是（ ）。

- A. 欧阳锋最近情绪非常烦躁，经常会因微不足道的小事，对家人或同事发火
 - B. 受天气影响，苏明最近对什么事情都不感兴趣了，觉得日子过得没劲，对同事和家人缺乏热情，只想赶紧下班回到开着暖气的房子，喝一杯热水
 - C. 公安部表示，炎热的夏季人们容易发生争执，暴力冲突事件较其他季节明显高发
 - D. 在炎热的高温环境中，小张一家注意饮食调整，增加营养，家庭生活和睦
89. 挪用公款罪，是指国家工作人员利用职务上的便利，挪用公款归个人使用，进行非法活动，或者挪用公款数额较大、进行营利活动，或者挪用公款数额较大、超过3个月未还的行为。挪用资金罪，是指公司、企业或者其他单位的人员，利用职务上的便利，挪用本单位资金归个人使用或者借贷给他人，数额较大、超过三个月未还，但未用于从事不正当的经济活动，或者虽未超过三个月，但数额较大、进行营利活动的，或者进行非法活动的行为。

根据上述定义，下列应该按照“挪用资金罪”被定罪的是（ ）。

- A. 某国际连锁酒店的总经理，善于理财，经常拿公司账面很多钱去买股票来挣钱
 - B. 老张是某企业高管，经常会给老婆上交一大笔钱，但是这笔钱的来源不是工资
 - C. 欧阳格是一家事业单位的会计，利用职务之便，挪用公款1000元为妻子买礼物
 - D. 各地频发暴雨，财政部某工作人员竟然挪用用于救灾的款项，买了一辆豪华超跑
90. END情绪是指职场中人在每到年底的工作中，总觉得焦躁不安、做事提不起精神，甚至对工作产生了强烈的厌恶情绪。END情绪通常表现为：跳槽、盼放假、岁末辞职。其实，只要善于调节自己的心理，END情绪就会烟消云散。

根据上述定义，下列哪项能够调节END情绪？（ ）

- A. 职场人士年末出现“抓狂”现象，其实都是心理负荷过大，应该通过适当的方式调整情绪
 - B. 某企业每到年末，都会为员工在附近的健身房办理健身卡，让员工去运动，因为运动可以唤起人的兴奋因子
 - C. 先就业后择业是跳槽的心理基础，驱动力在于他们变换生活方式，调整工作空间等想法
 - D. 每到年尾或年初总会有些公司出现大换血的情形，这段时期被职场人士称为“跳槽季节”
91. 周期性行业是指和国内或国际经济波动相关性较强的行业，比方资源类、大宗工业原材料等。与周期性行业相反，防守型行业指经营和业绩波动基本不受宏观经济涨落影响的行业，不会随经济周期大起大落。其产业的产品需求相对稳定，并不受经济周期处于衰退阶段的影响。

根据上述定义，下列不属于防守型行业的是（ ）。

- A. 通信行业
 - B. 医药行业
 - C. 食品行业
 - D. 水泥行业
92. 土拨鼠效应指开放式办公室中的员工在听到喧哗的声响或者其他声音时，总忍不住在格子间抬头张望，观察四周的动静，这就是“土拨鼠效应”。无论是有较大的声响还是异乎寻常的动静，所有人都抬起头来，目光越过隔间的隔板，想看看发生了什么，像土拨鼠般抬头，目光越过隔板，这样还可以进行同事交谈以及开团队会议，而不用去茶水间或者会议室。

根据上述定义，下列涉及土拨鼠效应的是（ ）。

- A. 在考试的时候，总有考生一听到开门就抬头看一下
- B. 为了确保授课效果以及工作环境，某教育公司采用独立办公室办公
- C. 每当电脑中QQ消息提醒声音响起时，员工们总是抬头四处看看是谁的声音
- D. 休息室紧挨着开放式办公的市场部，每到中午，从休息室传来的饭香总引得员工四处张望

93. 人们对损失和获得的敏感程度是不同的，美国经济学家卡尼曼与特沃斯基提出了卡尼曼风险定律，人们在面临获得的时候往往会规避风险，即见好就收，而在面临损失的时候往往会偏爱风险，即富贵险中求，而损失和获得又是相对于参照点而言的。
根据上述定义，下列不符合卡尼曼风险定律的是（ ）。
- A. 开发市场A，年肯定盈利200万，而开发市场B，今年有50%的可能性盈利300万，50%的可能性盈利100万或更少，大多数销售经理会选择开发市场B
- B. 若260万盈利为考核目标，开发市场A，离考核目标差60万，损失奖金。开发市场B，50%的可能离考核目标差160万，损失奖金，但有50%的可能超过考核目标40万，即50%的可能性获得奖金，大多数销售经理会选择开发市场B
- C. 很多股民在股市上升时，手中的股票上涨，往往见好就收，多半会及时将股票抛出
- D. 对于经济谈判者来说，能够认识到人们总是更倾向于避免损失这一点是很重要的，可以在谈判中尽量回避提到对手可能有的损失，促进谈判的成功
94. 死缓，是指对应当判处死刑，但又不是必须立即执行的犯罪分子，在判处死刑的同时宣告死缓执行，实行劳动改造，以观后效。在死刑缓期执行期间，如果没有故意犯罪，二年期满后，减为无期徒刑；如果确有重大立功表现，二年期满后，减为25年有期徒刑；在死刑缓期执行期间，故意犯罪，情节恶劣的，由最高人民法院核准，判处死刑立即执行。无期徒刑是介于有期徒刑和死刑之间的一种严厉的刑罚，实际执行的刑期不能少于十三年。
根据上述定义，下列判断正确的是（ ）。
- A. 某贪官贪污数额特别巨大，被判处死刑缓期二年执行，而在死刑缓期执行期间，表现良好，没有故意犯罪，减为无期徒刑，执行无期徒刑十年之后，就刑满释放了
- B. 陶乐因破坏交通工具，造成严重后果，被判处死刑缓期二年执行，在死刑缓期执行期间，揭发他人重大犯罪行为，基于其重大立功表现，减为25年有期徒刑
- C. 张曼在死刑缓期执行期间，加强自身改造，表现良好，改为25年有期徒刑
- D. 陈东因故意伤害，被判处死刑缓期二年执行，在死刑缓期执行期间，虽有重大立功表现，仍被判处立即执行死刑
95. 理查德·费曼创造了一种学习方法，费曼学习法。该方法主要包含四步：第一步：把它教给一个小孩子。也就是想一下，如果你要把它教给一个6~10岁的孩子，你会讲哪些，当你自始至终都用孩子可以理解的简单的语言写出一个想法，那么你便迫使自己在更深层次上理解了该概念。第二步：回顾。第三步：将语言条理化，简化。第四步（可选）：传授。如果你真的想确保你的理解没什么问题，就把它教给另一个人，检测知识最终的途径是你有能力把它传播给另一个人。
根据上述定义，下列没有涉及费曼学习法的是（ ）。
- A. 现在你手上有一套自己书写的笔记，将这些笔记用简单的语言组织成一个流畅的故事
- B. 如果你想确保自己的理解没什么问题，就把它教给另一个人，这是学习中必不可少的步骤
- C. 若没有记熟概念，就回到原始材料，重新学习，有助于用基本的术语解释这一概念
- D. 在一张白纸上写下你想要学习的主题，设想自己要把它教给一个8岁的孩子，你会讲哪些

三、类比推理。每道题先给出一组相关的词，要求你在备选答案中找出一组与之在逻辑关系上最为贴近，相似或匹配的词。

请开始答题：

96. 围魏救赵：战国
- A. 乐不思蜀：三国
- B. 上屋抽梯：汉朝
- C. 闻鸡起舞：宋朝
- D. 精忠报国：南宋
97. 牙缝：牙线：清洁
- A. 发动机：车针：故障
- B. 键盘：电路板：编码
- C. 汽车：底盘：支撑
- D. 螺丝钉：改锥：拧转

98. 直角梯形：等腰梯形
 A. 四边形：封闭图形
 C. 矩形：菱形
 B. 不等边三角形：等腰三角形
 D. 锐角：直角
99. 流感：季节性
 A. 虱子：无翅
 C. 下呼吸道感染：肺炎
 B. 宿主：呼吸道
 D. 白喉：猩红热
100. 小暑：立秋：处暑
 A. 儿童节：植树节：世界读书日
 C. 金文：隶书：行书
 B. 刘彻：刘恒：赵匡胤
 D. 烧制：点蓝：掐丝
101. 阳光：灿烂
 A. 杯子：实用
 C. 风云：突变
 B. 露珠：晶莹
 D. 空调：便宜
102. 产品对于（ ）相当于（ ）对于人身保险
 A. 有形产品；保险
 C. 开发；购买
 B. 核心产品；人寿保险
 D. 需要；目的
103. 器乐：戏曲
 A. 五线谱：简谱
 C. 豫剧：越剧
 B. 无脊椎动物：哺乳动物
 D. 鲨鱼：鲛鲨
104. （ ）对于长春相当于（ ）对于黑龙江
 A. 君子兰；喜都
 C. 高句丽古迹；中央大街
 B. 茶啊冲；龙江
 D. 哈尔滨；松花江
105. 经济学：市场经济：看不见的手
 A. 营销：服务营销：直销
 C. 面包蟹：黄道蟹：馒头蟹
 B. 木犀科：茉莉花：香魂
 D. 中药：当归：枸杞

四、逻辑判断。每道题给出一段陈述，这段陈述被假设是正确的，不容置疑的。要求你根据这段陈述，选择一个答案。注意：正确的答案应与所给的陈述相符合，不需要任何附加说明即可以从陈述中直接推出。

请开始答题：

106. 移动互联网带来了方便快捷，也带来了许多烦恼。某网友发文“一觉醒来，手机里多了上百条验证码，而账户被刷光还背上了贷款”，近期犯罪分子利用“GSM劫持+短信嗅探”的方式盗刷网友账户的事件，成为网络热点。该如何防范这种短信嗅探犯罪呢？安全专家指出，最简单的一招就是睡觉前关机。
- 下列哪项可以削弱上述观点（ ）。
- A. 有一部分人工作特殊，需要时刻保持开机状态，不能做到睡前关手机
 B. 嫌疑人要实现盗刷需要很多条件，例如受害者手机要开机，手机要保持静止状态
 C. 以“GSM劫持+短信嗅探”的方式盗刷事件，抓人难度系数太大，并且无法防范
 D. 站在用户角度，提高防范意识是应该的

107. 近日，网上有一条帖子被网民热转，文中称：许多人日常食用的是低钠盐，而低钠盐就是高钾盐，若一直食用易导致高钾血症。专家介绍，低钠盐是以碘盐为原料，添加了含量约为30%左右的氯化钾，减盐不减咸，有助于促进人体钠钾平衡，那么，吃低钠盐容易导致高钾血症的说法是否真实？某营养科副主任医师指出，大部分人可以放心食用低钠盐。
- 下列各项，除了哪一项，均无法支持上述结论（ ）。
- A. 高钾血症是临床常见的一种电解质紊乱疾病，每个人身体中都含有血钾，但若血钾超过 5.5mmol/L ，便是高钾血症
- B. 对大多数的人群来说，低钠盐虽然含有氯化钾，并且氯化钾过多会导致高钾血症，但是人体肾功能的排泄可以完全地对消钾离子的摄入
- C. 对小部分的特殊人群而言，如肾功能已经出现障碍、严重肾功能不全或尿毒症人群，若是食用低钠盐，要格外注意高钾血症的发生
- D. 一些生活中常见的食物如肉、豆制品、坚果类食品等的含钾量都比较高，建议易患高血钾症的人群慎重食用
108. 小王搬进一栋位于北京二环的四层公寓，每层有两家住户，每家住户只住一人，该栋公寓住户的情况如下：
- ①至少有两家住户是本地人；
- ②广东人和福建人不在同一层，并且隔了1个楼层；
- ③东北人住在最顶层，经常和同层邻居老乡在顶层天台聊天；
- ④四川人和湖南人在同一个楼层；
- ⑤广东人比福建人的楼层低。
- 如果以上判断为真，下列一定为真的是（ ）。
- A. 四川人在第1层
- B. 湖南人在第2层
- C. 北京人在第2层
- D. 福建人在第4层
109. 部分一线城市房租上涨，租金上涨是多因素共同作用的结果，资本并非唯一原因。但本轮的租金上涨，确实和资本进入长租公寓后争抢房源并推动预期有很大关系。有些城市的中介机构哄抬房价，当资本无序进入租赁市场时，短期内必然会带动租金上涨。
- 由此可以推出（ ）。
- A. 大多数中介机构哄抬房价，导致房租暴涨近28%
- B. 中介机构哄抬房价，导致一线城市房租上涨
- C. 有些一线城市可能没有出现房租上涨的情况
- D. 有些一线城市的中介机构并没有哄抬房价
110. 近日，一段监控视频成为舆论热点。视频显示，某公司检查人员，将一大堆烟头丢在保洁人员刚扫过的走廊上拍照后扬长而去。公司声明称，为更方便地统计未被清理的烟头数量，两名检查人员才把烟头都扔在一块进行“清点”。为何要把烟头扔到地上，才能清点？网友质疑铺天盖地，无法理解为何该公司会发布如此有违基本逻辑的声明。
- 下列哪项可以解释上述现象（ ）。
- A. 如果只为清点，检查人员在为何要在拍照后还不停地踩踏这些烟头，并扬长而去？
- B. 这样一纸“奇葩”声明，表面上看来是公司工作人员情商不高、水平不够
- C. 公司对随意丢弃烟头等垃圾的员工，教育、处罚还不多，管理工作还存在短板
- D. 为避免事情进一步扩大，舆论影响公司形象，公关人员未经过多思考，匆忙发布声明

111. 29岁的成都市民高女士去某银行应聘，等到她提交了身份证，却被告知无法录用。原来，高女士两年前拖欠了担保公司6万余元的债务迟迟未能归还。经法院主持调解达成还款协议后，高女士一家人再次食言，仍未履行调解协议。2018年4月，担保公司向法院申请执行，高女士一家人收到法院通知后仍未还钱，随后执行法官将其列入失信被执行人名单。高女士很委屈，认为用人单位拒绝录用老赖是就业歧视。
- 下列哪项可以支持上述高女士的观点（ ）。
- A. 国家和社会应提供更多的就业岗位，尊重和维护公民的就业权，并监督用人单位不设置不合理的就业门槛
- B. 金融机构对客户诚信度和行业形象的要求一贯较高，如果失信行为泛滥，金融机构可能沦为较大受害者，其完全有必要将诚实守信作为入职门槛
- C. 就业歧视指同等条件下设置了有违法律、公序良俗、社会公德的条件，此事件中，金融机构拒绝录用进入失信被执行人名单者不侵犯其就业权
- D. 失信被执行人毕竟没有违法犯罪，仅有诚信污点，银行不应直接剥夺其在银行就业的权利
112. 近日，某大学设置严格门禁制度在舆论场上引发了热议，“非校内人员谢绝入校”的做法的确引起了不少争议。支持者认为：大学就应该实行严格的门禁，校外人士不能进入校园。而反对者认为，校园开放是当前国际主流，即使是欧美国家那些著名的私立大学，大多也不设门禁，甚至连围墙也没有，校园与所在城区融为一体，所以大学最好不要设置过于严格的门禁制度。
- 以下哪项如果为真，最能削弱上述支持者的观点（ ）。
- A. 不管怎么说，无论是带着孩子来参观校园的家长，还是希望在学校操场上跑步的市民，他们的诉求并非不合理
- B. 提供给学生一个舒适、安全的学习环境，仍是大学教育的首要之义
- C. “一刀切”是解决不了问题的，结合实际情况灵活处理大学门禁问题才是上策
- D. 大学是否要设置门禁，是一个争议了十几年的老话题了，从保护学生安全、维护教学秩序等方面，一直争吵到所谓“大学精神”和“大学教育与公众教育”
113. 丰富的物质文化遗产和非物质文化遗产是中华民族的宝贵财富，也是全人类的宝贵财富。传承和保护好非物质文化遗产，既需要保护凝聚着前人智慧的古老工艺、技艺，更需要拓宽传播渠道，提升传播效果。提升非物质文化遗产传播效果，除了运用数字技术，还要注重传播的温度、质感。借助现代数字技术，可以将非物质文化遗产以活态展现出来，使之成为触手可及的文化产品。但也应清醒认识到，数字化传播只是一种传播手段。如果一味追求与新技术结合，反而容易弱化文化内涵，降低传播效果。
- 由此可以推出（ ）。
- A. 文化遗产传播要有温度有质感
- B. 数字化传播可能是让非物质文化遗产活起来的有效方式之一
- C. 提升传播效果，要么运用数字技术，要么注重传播内容的温度以及质感
- D. 强化文化内涵，会提升传播效果

114. 曾经，公用电话是城市的一个标志，人们通过那一个个“小亭子”满足便捷通信需求；可如今，它成为小广告的栖身地，不少城市中的“牛皮癣”集中地，不仅被遗忘，还破坏市容。正如“好汉不提当年勇”，公用电话已经完成了历史使命，就别再讨论过去的风光了。手机已经成为每个人的标配，公用电话应该统统拆了之。

以下哪项如果为真，最能质疑上述结论（ ）。

- A. 因城而异，因地制宜，决定公用电话去留，是物尽其用，也是以人为本
 - B. 大部分网友表示公用电话并不影响城市形象和交通
 - C. 在发达城市，可以在火车站、机场、热门景点设置公用电话亭，看是否有人使用，如果使用率高则保留公用电话，如果使用率低则拆除公用电话
 - D. 对公用电话亭的去留，应本着以人为本，满足群众需要的原则，既不应该全部一拆了之，又不原封不动，毫无改进
115. 近日，有媒体调查发现，在各大网购及社交平台上，“代写作业”竟成热门生意。原本旨在帮助学生假期学习的课业任务，摇身一变成为写手牟利的“摇钱树”，引起热议的同时，更值得各方深思。一些学者认为：一些学校课业繁重导致出现“代写作业”行业。

以下哪项如果为真，可以质疑上述结论（ ）。

- A. 有的家长暑期安排层层加码，各式各样的特长班、学习班让孩子无暇完成作业
- B. 有的学校布置作业流于形式，只强调数量而忽视质量
- C. 出现代写作业行业，印证了教育评价体系和诚信教育体系不完善
- D. 教育部门需要高度重视，减轻课业负担，打击“课业造假”苗头

二、根据以下资料，回答问题。

2018年一季度，A区广播影视创收收入8.03亿元，与上年同比增长16.21%。其中，自治区级7.41亿元，同比增长15.63%；地市级0.56亿元，同比增长28.83%；县级0.06亿元，同比下降8.67%。

一季度，在广播影视创收收入中，A区广播电视广告收入1.18亿元，同比增长0.56%，其中广播广告收入0.25亿元，同比增长5.43%。全区网络收入5.83亿元，同比增长14.57%，其中有线广播电视收视费收入2.2亿元，同比下降6.67%；全区电影院创收收入约0.103亿元（从今年起，广播影视行业统计口径更新，电影院创收收入替代电影院线票房收入计入创收收入）。

2018年上半年，全区广播影视创收收入15.53亿元，同比增长0.15%，其中自治区级14.34亿元，同比增长0.94%；地市级1.09亿元，同比下降7.16%；县级0.104亿元，同比下降19.61%。

上半年，全区广播电视广告收入2.79亿元，同比下降6.42%，其中广播广告收入同比增长8.11%，电视广告收入同比下降14.27%。全区有线电视网络收入10.84亿元，同比下降0.88%，其中有线广播电视收视费收入4.33亿元，同比下降12.13%。2018年，新媒体业务收入纳入广播影视行业统计范围，上半年我区新媒体业务收入即交互式网络电视（IPTV）收入为0.92亿元。

121. 2017年一季度，A区自治区级广播影视创收收入约是地市级的（ ）倍。

- A. 10.5
B. 13.3
C. 14.7
D. 17.9

122. 已知2017年A区广播电视广告收入7.73亿元，同比下降4.98%，若2018年保持同样的增长速度，则2018年下半年A区平均每月广播电视广告收入约为（ ）亿元。

- A. 0.61
B. 0.76
C. 0.89
D. 0.98

123. 2018年二季度，A区有线广播电视收视费收入环比约下降了（ ）。

- A. 31.8%
B. 3.7%
C. 3.2%
D. 2.3%


124. 2017年上半年，A区广播广告收入与电视广告收入的比值约为（ ）。

- A. 0.54: 1
B. 0.43: 1
C. 1: 0.43
D. 1: 0.54

125. 关于A区广播影视创收收入的情况，下列说法不正确的是（ ）。

- A. 2018年第二季度自治区级、地市级、县级广播影视创收收入均低于第一季度
B. 2017年一季度，全区网络收入超过5亿元
C. 2018年1-6月，地市级广播电视创收收入同比下降700多万元
D. 2018年一季度，全区广播广告收入占广播影视创收收入的比重不到一成

三、根据以下资料，回答问题。






126. 下列4家影院中，2018年8月19日观影人次最多的是（ ）。

- A. JackieChan北京耀莱
B. 首都电影院西单店
C. 深圳市百老汇电影中心影院
D. 武商摩尔国际电影城

134. 下列哪张图能正确反映2014-2017年我国纸及纸板（未切成形的）的进出口总额同比增量的变化趋势？

()



135. 根据以上资料，下列说法正确的是（ ）。

A. 2012-2017年我国纸及纸板（未切成形的）的出口总量超过3800万吨

B. 2013年我国纸及纸板（未切成形的）的出口额比2011年增长不到30%

C. 2012年我国纸及纸板（未切成形的）的进口量同比减少14.8万吨

D. 2012-2017年我国纸及纸板（未切成形的）的出口额占当年进出口总额比重同比上升的有5年