

# 2020年联考行测模考第22期

## 第一部分 常识判断

根据题目要求，在四个选项中选出一个最恰当的答案。

请开始答题：

- 2020年7月24日，国家主席习近平近日在吉林考察时强调，要坚持新发展理念，深入实施（ ）战略，加快推动新时代吉林全面振兴全方位振兴。  
A. 吉林振兴  
B. 东北振兴  
C. 乡村振兴  
D. 产业振兴
- 2020年7月26日，国产大型水陆两栖飞机（ ）AG600在山东青岛团岛附近海域成功实现海上首飞。  
A. 歼-20  
B. 运-20  
C. 鲲龙  
D. C919
- 2020年7月24日，全国妇联作出决定，授予云南省丽江市华坪女子高级中学党支部书记、校长，华坪县儿童福利院院长（ ）全国三八红旗手标兵称号。  
A. 张桂梅  
B. 赵锦云  
C. 陈俊武  
D. 黄文秀
- 八一建军节到来之际，国家主席习近平到空军航空大学视察时强调，要贯彻新时代党的强军思想，把（ ）战略转化为发展规划和务实举措，落实到办学治校各领域和全过程。  
A. 科教兴国  
B. 人才强军  
C. 技术强军  
D. 科技强国
- 2020年7月22日，经地方申请、第三方评估，商务部将（ ）、杭州湖滨路、重庆解放碑、成都宽窄巷子、西安大唐不夜城这5条步行街命名为“全国示范步行街”。  
A. 北京南锣鼓巷  
B. 厦门中山路  
C. 武汉汉江路  
D. 南京夫子庙
- “临川四梦”是由明代戏剧作家、文学家汤显祖所作，其中不包括（ ）。  
A. 《牡丹亭》  
B. 《西厢记》  
C. 《邯郸记》  
D. 《南柯记》
- 下列历史人物按时间先后顺序排列正确的是（ ）。  
A. 嵇康——王勃——杜牧  
B. 杜牧——王勃——嵇康  
C. 王勃——嵇康——杜牧  
D. 杜牧——嵇康——王勃
- 关于热带季风气候，下列说法错误的是（ ）。  
A. 分布在纬度10度到回归线附近的亚洲大陆东南部等地  
B. 热带季风发达，一年中风向的季节变化不明显  
C. 年降水量多，一般在1500—2000mm，集中在6—10月份（北半球）  
D. 全年高温，春秋极短
- 下列关于地震，说法错误的是（ ）。  
A. 按地震的成因，可分为构造地震、火山地震、塌陷地震和诱发地震四种  
B. 一次地震只有一个震级，但有多烈度  
C. 四大地震带中，最大的地震带是环太平洋地震带  
D. 距震中越近，烈度越大；反之越小

10. 下列不属于开始于两汉时期政治经济制度的是（ ）。
- A. 刺史制  
B. 察举制  
C. 一条鞭法  
D. 编户齐民
11. 关于生物净化，下列说法错误的是（ ）。
- A. 植物净化大气主要是通过叶片的作用实现的  
B. 海洋中降解石油烃的微生物主要是酵母  
C. 淡水生态系统中的生物净化，细菌起主导作用  
D. 生物净化能力都有一定的限度
12. 下列古代名医与其所在朝代对应错误的是（ ）。
- A. 张仲景——隋朝  
B. 孙思邈——唐朝  
C. 华佗——东汉  
D. 李时珍——明朝
13. 关于石油污染，下列说法错误的是（ ）。
- A. 石油污染的主要污染物是各种烃类化合物  
B. 石油污染会致使海水缺氧  
C. 蒸发作用是海洋油污染自然消失的重要因素  
D. 沉入海底的石油或石油氧化物不再会上浮到海面
14. 下列不平等条约按签订时间先后顺序排列正确的是（ ）。
- A. 南京条约—天津条约—马关条约—辛丑条约  
B. 天津条约—南京条约—马关条约—辛丑条约  
C. 南京条约—天津条约—辛丑条约—马关条约  
D. 天津条约—南京条约—辛丑条约—马关条约
15. 香蕉的供给量增加是指供给量由于（ ）。
- A. 香蕉的需求量增加而引起的增加  
B. 人们对香蕉偏好的增加  
C. 香蕉的价格提高而引起的增加  
D. 由于收入的增加而引起的增加
16. 关于利息，下列说法错误的是（ ）。
- A. 资本的报酬  
B. 劳动的报酬  
C. 资本这一生产要素的价格  
D. 由资本市场的供求双方决定的
17. 甲将自有房屋出售给乙，乙将双方约定的房款支付给甲，将房子交给儿子丙使用。后由于价格变动，甲又将房子出售给丁，并办理了房屋过户手续，此时，该房屋的所有权归属（ ）。
- A. 甲  
B. 乙  
C. 丙  
D. 丁
18. 剥夺政治权利是一种附加刑，是指剥夺犯罪分子参加国家管理和政治活动权利的刑罚方法。下列权利中不属于剥夺政治权利的内容的是（ ）。
- A. 选举权和被选举权  
B. 言论、出版、集会、结社、游行、示威自由的权利  
C. 担任国家机关职务的权利和担任国有单位领导职务的权利  
D. 担任公司、企业领导职务的权利
19. 下列国家中，不是实行总统共和制的是（ ）。
- A. 巴西  
B. 美国  
C. 埃及  
D. 德国
20. 运用试管苹果技术来推广优良苹果品种，这种技术属于（ ）。
- A. 基因工程  
B. 细胞工程  
C. 酶工程  
D. 发酵工程

## 第二部分 言语理解与表达

本部分包括表达与理解两方面的内容。请根据题目要求，在四个选项中选出一个最恰当的答案。

请开始答题：

21. 现实告诉我们，在技术迭代越来越快的今天，时常是待到历尽千辛万苦，做成“另一个微软”“另一个英特尔”时，昨天的偶像却已成\_\_\_\_\_，新生代们早已后来居上，开辟出一片新天地。不做“另一个”，瞄准“下一个”，才能实现真正的超越。  
填入划横线部分最恰当的一项是（ ）。
- A. 明日黄花  
B. 时过境迁  
C. 月过中秋  
D. 古调不弹
22. 在技术上，对垃圾分类处理不可怀有\_\_\_\_\_的思想。垃圾分类是个技术活儿，要从娃娃抓起，让垃圾分类的技术规范进幼儿园、进小学课本，必须从源头灌输，并逐渐成为人们的生活习惯。  
填入划横线部分最恰当的一项是（ ）。
- A. 信手拈来  
B. 手到擒来  
C. 随心所欲  
D. 一蹴而就
23. 从创作过程上讲，习近平同志指出：“创新是艺术的生命。艺术创作中出现的一些问题，同创新能力不足很有关系。”例如有的千篇一律、抄袭模仿，有的胡编乱造、\_\_\_\_\_等，追名逐利，没有“走心”。  
填入划横线部分最恰当的一项是（ ）。
- A. 巧舌如簧  
B. 哗众取宠  
C. 骇人听闻  
D. 言之凿凿
24. “原生家庭”这个概念，大体上指的是一个人成年之前所处的家庭。有媒体把被收养的孩子的亲生父母家称为“原生家庭”，这可真是天大的\_\_\_\_\_。而它在我国大众中的爆红，折射出的是国内心理咨询领域泥沙俱下的乱象。2017年心理咨询师武志红推出的一本“透视国民性”的巨著，更是为这个概念在大众中的泛滥起到了\_\_\_\_\_的作用。  
依次填入划横线部分最恰当的一项是（ ）。
- A. 误会 推波助澜  
B. 误解 煽风点火  
C. 错误 助纣为虐  
D. 疏忽 火上浇油
25. “续集热”是影视市场竞争的必然产物，毋庸置疑，续集在票房续航能力、激发市场活力、节约广告成本等方面，具备独特优势。但凡票房强劲的作品，观众\_\_\_\_\_，也会期待再出续集。然而，若仅是“换汤不换药”，或原作未提前预留空间，勉强拍出续集，这样的\_\_\_\_\_，未必被观众认可。  
依次填入划横线部分最恰当的一项是（ ）。
- A. 津津乐道 风头豹尾  
B. 意犹未尽 狗尾续貂  
C. 一见如故 虎头蛇尾  
D. 趋之若鹜 敷衍塞责
26. 传统文化并非遗世独立，它不是\_\_\_\_\_深陷尘霾的古籍善本，不是深山老林寻访追忆的碑林庙宇，而是贯穿衣食住行融入群众血脉的民族惯性，是所有老百姓在日常生活的一呼一吸中\_\_\_\_\_的事物  
依次填入划横线部分最恰当的一项是（ ）。
- A. 与世隔绝 唾手可得  
B. 束之高阁 司空见惯  
C. 断编残简 屡见不鲜  
D. 因循守旧 习以为常

27. 李渔因为性至巧，由是竭力崇尚创新。李渔的文学创作特别是小说戏剧创作的确多有\_\_\_\_\_、让人耳目一新的地方，他自己也不无自豪地说于小说创作不乏特长。对他的研究，主要集中在其通俗文学创作与戏剧理论方面，近年也\_\_\_\_\_到其他方面，但对其性格的研究实未引起足够的重视。依次填入划横线部分最恰当的一项是（ ）。
- A. 别出心裁 扩充  
B. 妙笔生花 扩散  
C. 独出机杼 拓展  
D. 奇技淫巧 开辟
28. 吕立新是近几年中国艺术品界杀出的一匹黑马，在短短几年间成为书画投资者们信赖与追捧的明星，被誉为书画投资界的“\_\_\_\_\_”。他多年前慧眼资助的\_\_\_\_\_的年轻艺术家已成为当下一画难求的市场宠儿。依次填入划横线部分最恰当的一项是（ ）。
- A. 拓荒者 默默无闻  
B. 风向标 一文不名  
C. 指南针 江郎才尽  
D. 马前卒 鲜为人知
29. 几千年来华夏大地上出现了许多精彩纷呈的民间艺术种类，因其悠久的岁月、鲜明的美感、\_\_\_\_\_的技艺而闻名于世，无不蕴含着浓郁的地域特色与淳朴的民风民俗，\_\_\_\_\_着无数先人的智慧，透射出五千年文明古国深厚的文化底蕴和中国人生机勃勃的创造力。依次填入划横线部分最恰当的一项是（ ）。
- A. 鬼斧神工 呈现  
B. 炉火纯青 固结  
C. 行云流水 凝集  
D. 巧夺天工 凝结
30. 面对排佛之声，智圆不是与其\_\_\_\_\_，而是巧妙地调和儒释，求同存异。为此，他提出“宗释复宗儒”，即会通儒释。其要旨大体有三：第一，儒释并非对立，而是各有畛域。第二，儒释同归，二教言异而理同。如儒家的伦常观念同样适用于佛教，二者可以互相\_\_\_\_\_。第三，提倡心性理论，实现佛教中道观与儒家中庸论之间的融通。依次填入划横线部分最恰当的一项是（ ）。
- A. 针锋相对 阐释  
B. 据理力争 补充  
C. 水火不容 借鉴  
D. 并行不悖 说明
31. 人们对阅读的兴趣和需求\_\_\_\_\_。读文学书固然是好，但有些人对文学并不爱好，反而愿意看些“杂”书。这些所谓不入流的书籍未必就不上“档次”，相反，对有些人来说读了可能\_\_\_\_\_，如虎添翼。比如一些爱宠物的人士多读些有关如何调教猫狗的文章，会让宠物更健康、更幸福，社会更和谐。依次填入划横线部分最恰当的一项是（ ）。
- A. 迥然不同 心驰神往  
B. 形形色色 如沐春风  
C. 因人而异 锦上添花  
D. 五花八门 醍醐灌顶
32. 《当小学生遇见苏轼》爆红后，难免有不甘心的学校家长群起而\_\_\_\_\_，不过，倒不是悲观主义论调，“复制”起来还真不容易。专家说，城市孩子可以大数据研究苏轼，农村孩子也别闲着，你也可以研究马牛羊研究天气。这话听起来挺\_\_\_\_\_，不过，本质仍是走“站着说话不腰疼”的路线。依次填入划横线部分最恰当的一项是（ ）。
- A. 模仿 不合时宜  
B. 攻讦 理所当然  
C. 效仿 因地制宜  
D. 效尤 随机应变

33. 春秋文学语言的发展大趋势，是“殷商古语”走向没落衰亡，而“文言”\_\_\_\_\_，从春秋铭文可以看出“殷商古语”在春秋时期走向\_\_\_\_\_，从《诗经·鲁颂》可以看出颂诗语言由“殷商古语”向“文言”转化，从鲁国《春秋》可以看出“文言”艺术的提升，春秋时期这三个语言范本展现了“殷商古语”与“文言”\_\_\_\_\_的大势。

依次填入划横线部分最恰当的一项是（ ）。

- A. 盛极一时 异化 此起彼伏  
B. 蒸蒸日上 衰落 厚此薄彼  
C. 如日中天 消亡 此起彼伏  
D. 方兴未艾 式微 此消彼长

34. 革命纪念馆的设立由高层级主管部门\_\_\_\_\_把关，陈列展览大纲有高层次专家审核论证，其政治正确性、主题严肃性和形式艺术性自不待言。经过层层关口，为何仍旧存在文字\_\_\_\_\_进而是常识性错误甚至硬伤，使其严肃性和严谨性打了折扣，其中的深层次症结恐非本文所能详论。对博物馆工作者来说，无论何种主客观原因，都绝不是降低陈列展览质量标准甚至\_\_\_\_\_的借口。

依次填入划横线部分最恰当的一项是（ ）。

- A. 审批 瑕疵 粗制滥造  
B. 审核 漏洞 粗枝大叶  
C. 审理 缺陷 敷衍了事  
D. 审议 弊病 偷工减料

35. 裂纹、质地、色彩，玉雕的每一次刀落都可能发现新的变化，因材施艺成为玉雕师的必备技艺。不能\_\_\_\_\_就是玉雕最大的特点。随着石料不断被雕琢，其表面会出现新的颜色变化，最吸引高兆华的，正是雕琢玉雕过程中需要不断地再次设计。“所以这是一项无法用机器\_\_\_\_\_的技艺，机器做不到辨别玉石里层的颜色，还有制作过程中的押裂。”

依次填入划横线部分最恰当的一项是（ ）。

- A. 墨守成规 改变  
B. 闭门造车 替换  
C. 按图索骥 替代  
D. 指鹿为马 取代

36. 本该在故土安度晚年的他们，为了帮助子女照顾晚辈、操持家务而漂泊异乡，媒体将他们称为“老漂族”。所谓“漂”，意指户口和户籍在彼地，而生活与工作在此地，相对于流入地而言可称之为“外来人员”。在户籍附带了一切的情况下，“漂”所面临的壁垒与樊篱，除了政策性因策，还有心理性障碍。于是便有了逃离与回归。年轻人尚且有如此多的不适，那么有着强烈“叶落归根”倾向的老人们，适应新的环境则更加困难。当他们离开熟悉的社区，陌生环境带来的压力感、隔阂感和边缘感等不良心理感受会成为巨大的挑战。“老漂族”这个庞大群体的生存状态，值得各方重视，给予他们“心安即故乡”的归宿感。

这段文字意在说明（ ）。

- A. 漂泊异乡的人们更缺少归属感  
B. “老漂族”应得到社会的重视  
C. 政府应大力解决老年人口问题  
D. “老漂族”的生活现状及挑战

37. 网约车是“互联网+”的创新产品。但任何产品创新，安全都是生命线。忽视安全底线的创新，即便能取得一时成功，但长久损害的是消费者利益和创新的品质。更高品质的出行，不仅意味着交通工具使用效率、出行便捷度的提升，也必然包括安全性的更高要求。然而，一些互联网产品热衷于制造概念，通过资本力量快速抢占市场，刻意放大某些方面的利好，却牺牲了对安全的考量，没有沉下心来打造高完成度的产品，甚至把产品风险、安全成本转嫁给社会公众。这种不负责任的做法，处处映照出企业在产品设计、创新中安全理念的缺位。

这段文字意在说明（ ）。

- A. 提高产品的安全性能是互联网公司成功创新的关键  
B. 忽视产品安全会损害消费者利益和创新产品的品质  
C. 网约车创新不应该忽视安全底线，损害消费者利益  
D. 互联网公司应该在确保安全的条件下进行产品创新

38. 分门别类梳理近20年中国科技发展，可以清晰辨识出一道技术瓶颈前移、上移的轨迹——在几乎所有国民经济产业门类中，我们的技术水平、产品档次已经基本上从中低端迈上了中高端，国际竞争态势从总体跟跑到总体并行甚至个别领跑，这使我们不再妄自菲薄。但在某些产业门类，尤其是某些产业链顶端，我们与先进水平的差距仍很明显，我们受制于人、被“卡脖子”的环节，从金字塔中下层上移到了塔顶，这提醒我们不能妄自尊大，并看清要追赶什么。  
这段文字意在强调（ ）。
- A. 高精尖科技的落后制约我国经济发展  
B. 我国应当着力突破高端产业技术瓶颈  
C. 核心技术受制于人倒逼加快创新步伐  
D. 科技攻关必须摒弃幻想依靠自身攻坚
39. 冠状动脉造影曾被认为是诊断冠心病的金标准。现在，对于病情较轻的或疑似冠心病的患者，通常用64排高分辨率CT冠脉造影替代。医生只通过静脉为病人注射造影剂，等造影剂到达冠状动脉后，用64排CT对病人心脏做高分辨率检查，完整、清晰的三维立体冠状动脉图像就呈现在医生眼前。64排CT冠脉造影不仅可以看到血管腔的充盈情况，还能看到血管壁上的情况。可以达到比较高的敏感性和特异性。而且快捷方便，仅需数分钟即能完成，费用也比造影低得多。但CT冠脉造影有时会受到呼吸、心跳的影响，对患者心率要求较高。  
以下说法与原文相符的是（ ）。
- A. 以往了解患者的血管病变情况只能通过冠状动脉造影  
B. 冠状动脉造影属于诊断手术对治疗冠心病患者有创伤  
C. 利用CT冠脉造影诊断疾病具有效率、费用等方面优势  
D. CT冠脉造影的工作原理是通过动脉为病人注射造影剂
40. “懂得核反应堆”、“学微积分”……某名校幼升小的选拔中，家长们在孩子简历上大做文章，争先恐后地秀出了这些让人睁目结舌的“牛娃简历”，希望为孩子争得一张“入场券”。教育焦虑是一个老生常谈的社会痛点，每次总引发热议，每一个人对此似乎都有发言权。但不同的是，这次的幼儿园“牛娃”，最值得关注的却不是教育焦虑，而是家长们的公然作假。不能否认，这个世界确实有天才和神童的存在。但天才从来都是稀缺品，怎么可能在一场幼升小选拔中成批涌现呢？或许，有人会说家长们只是为了有效引起校方关注适当“包装”而已，虽然有夸大嫌疑，但不必过于较真。果如是，就更可怕了。  
关于“牛娃简历”现象，下列哪项符合作者的态度？（ ）
- A. 家长对优质教育资源的渴求情有可原  
B. 名校过度渲染教育竞争之举不容姑息  
C. “牛娃简历”背后造假问题值得警惕  
D. 父母作假对孩子的负面影响令人忧虑
41. 在中国，一方面，虽然大学教授会要求学生借阅书籍，但大多是建议，并不会对阅读情况进行考核，也不会再在研讨课中利用书籍的内容展开讨论。中国大学教授把更多精力用在了学术研究上，对教学投入不够。中国学生借阅图书主要凭兴趣。另一方面，中国大学生主动借阅图书的不多，而且流行工具阅读（考研、考公务员、出国留学等）、快餐（消遣）阅读和电子阅读。这是造成中美阅读差异的最大原因。中国大学应该进一步改革对教师的评价体系，从过度重视论文、课题、经费考核，转向重视教育教学，布置、引导大学生借阅图书，让大学生多读书。  
这段文字意在强调（ ）。
- A. 阅读习惯与读书偏好的不同造就了中美大学生阅读差异  
B. 中美大学生阅读差异主要体现在书目选择与阅读动机上  
C. 解决高校教师重学术轻教学的问题需改革教师评价体系  
D. 改善学生阅读需发挥大学教师在教育教学中的引导作用

42. 外卖对健康的影响，不在于外卖还是堂食的餐饮服务形式，而在于它导致了“餐馆食物”替代自己烹饪。相对于自己烹饪，餐馆食物在两方面不利于健康。首先是食材的来源。餐馆食材都是大宗购进，餐馆会倾向于低价的食材。不能说高价的食材一定就好，但低价食材存在问题的可能性会更大。其次，餐馆食品需要追求符合大多数人口味的“好吃”，这意味着更多的油和更“重”的口味。外卖是一种新兴的餐饮服务方式，跟旧有的餐厅就餐相比，它在食品安全和健康方面没有明显的不足。但是，它的便捷会促使人们更加依赖餐馆食品，而餐馆食品带来的健康问题很难解决。这段文字意在强调（ ）。
- A. 外卖的问题在于使人们依赖不健康的餐馆食品  
 B. 餐馆食品的食材来源与烹饪特点注定其不健康  
 C. 食品安全与健康得不到保障是外卖最大的弊端  
 D. “便捷性”对外卖而言是把利弊兼备的双刃剑
43. ①开埠前的天津只不过是一个繁盛一点的县治罢了  
 ②进入20世纪的天津很快成为新兴的商业都市，并在二三十年代达到繁荣的顶峰  
 ③自从有清咸丰十年，与英国订了续约，开为商埠以来，渐渐的改了从前顽固不化鄙陋偏邑的面目  
 ④与上海类似，近代天津也是一个因租界而崛起的城市  
 ⑤1884出版的《津门杂记》形容天津卫“实水陆之通衢，为畿辅之门户，冠盖相望，轮蹄若织，虽大都会莫能过焉”  
 ⑥此时的天津还延续着水陆通衢、畿辅门户的城市定位  
 将以上6个句子重新排列，语序正确的是（ ）。
- A. ⑥①③⑤④②  
 B. ②⑤⑥①③④  
 C. ①⑤⑥③②④  
 D. ④①③⑤⑥②
44. ①剑桥大学研究员瓦伦·沃里尔博士表示，共情能力使人可以识别和回应他人的情绪状态，这是一个重要的心理过程，有助于引导和维持社交，让人收获幸福感  
 ②研究共招募4.6万名志愿者，他们完成“共情商数”（EQ）测试，并提供唾液样本进行DNA检测分析  
 ③感知并理解他人情绪的能力被称为同理心或共情，它包括能够识别他人想法、感受的“认知共情”和能够以适当情绪做出反应的“情感共情”  
 ④女性通常比男性更容易产生同情心，这种差异并非遗传所致，而是与激素水平或社会环境有关  
 ⑤结果显示，约有10%的共情能力差异与遗传因素有关，其中，与低共情能力相关的基因和高自闭症风险存在关联  
 ⑥英国剑桥大学科学家同美国某基因检测公司合作，开展了一项全基因组关联研究  
 将以上6个句子重新排列，语序正确的是（ ）。
- A. ③⑥②⑤④①  
 B. ③⑥⑤①②④  
 C. ④⑥②⑤①③  
 D. ①③④⑥②⑤
45. ①换言之，人类命运共同体首先是一个客观现实，是一个实然性的存在  
 ②但作为观念形态的人类命运共同体不是凭空产生的  
 ③所谓人类命运共同体意识或思想，是关于人类命运共同体是什么以及如何建设人类命运共同体等问题的理论阐释  
 ④这一客观现实正日益清晰地出现在人类经济全球化的实践活动中  
 ⑤而是在人类命运共同体实践基础上生成的  
 ⑥是对世界各国相互联系日益紧密、相互依存日益加深、相互影响空前强烈的客观现实观念反映  
 将以上6个句子重新排列，语序正确的一项是（ ）。
- A. ①④③⑥②⑤  
 B. ①⑥③②④⑤  
 C. ③⑥②⑤①④  
 D. ③②⑤①⑥④

46. 把握新基建带来的新机遇，就要主动投身“新联接”。以手机为例，从通信工具变成智能终端时，众多企业就可以共同开发应用场景，不仅为人们生活工作带去便利，而且还衍生了共生竞争格局，整个手机产业价值释放的空间就完全变了。以5G为代表的“新联接”，意义也在于此：  
\_\_\_\_\_。比如当5G遇到媒体，就能实现8K视频直播；当5G进入车间，就能实现无人化生产；当5G覆盖医院，就能让医生进行远程手术……实践证明，只有联接各行各业，才能进入更多应用场景，孕育更多的创新机遇。  
填入划横线部分最恰当的一句是（ ）。
- A. 跨行业、跨领域创新加速行业数字化转型      B. 不只是万物互联，核心在于联接各个行业  
C. 新联接将促进中国制造向中国智造转型      D. 创新基础设施的建设助力产业加速升级
47. 车尔尼雪夫斯基在《生活与美学》中讲过：“美是生活。”作为全景式反映生活的谚语，其本身就是美的集合。俗话说：“一白一黑是一天，一青一黄是一年。”青黄黑白，四季晨昏，设色对比，简单分明。俗语又说：“人是正月正，景是九月九。”老百姓讲究，宁穷一年，不穷一天，“正月正”乃大年初一，这一天，每一个人都有钱有闲有精神！“九月九”已入深秋时节，天高云淡，凉爽宜人，橙黄橘绿，美景无限。正月正的人，九月九的景，风光鲜丽，正当其时。此类俗谚，既是景语，亦是情语，情景交融，美美与共。  
这段文字意在说明（ ）。
- A. 寓情于景是语言之美的源泉      B. 俗语全景式地反映人民生活  
C. 俗谚蕴含着情景交融的美感      D. 俗语体现人们对美德的礼赞
48. 宋之前，御史与谏官都是宰相的属官，对政府的行政监察，属于内部监督。到了宋朝，台谏从政府系统中独立出来，成为与政府平行的国家机关，台谏官不再是宰相的属官。宋王朝很强调台谏官的独立性。孝宗皇帝与经筵讲官张子韶有过一段对话：孝宗说：“台谏不可承宰相风旨。”张子韶说：“以臣观之，非特不可承宰相风旨，亦不可承人主风旨。”只有让台谏官独立于行政官，才可以做到“弹击之际，无所顾避而得尽公议”。  
这段文字主要说明（ ）。
- A. 监督内部化不利于提高行政监督的效果      B. 台谏官强有力地制衡了执政团队行政权  
C. 台谏系统独立性使宋朝台谏官直言敢谏      D. 权力分立是宋朝政治制度典型特征之一
49. 无论资产阶级用什么样的所谓自由、平等、民主等制度在形式上加以掩饰，都无法改变其社会关系的实质不平等，“司法独立”也属于这些掩饰性的制度。在司法权运行上，西方“司法独立”过于强调形式正义，强调法官和陪审团不受外界影响，“独立”对案件作出裁决。表面上看这消除了封建制度下司法权对封建主的依附，但实质上仍然在维护私有制和资本剥削劳动力的基本社会关系，必然导致司法止步于形式公正，而无法做到实质公正，导致司法变异为诉讼技巧博弈的游戏。  
对这段文字概括最准确的一项是（ ）。
- A. 流于形式的“司法独立”实为私有制的保护伞  
B. 西方司法活动究其本质是司法权对资本的依附  
C. 资本主义的社会公平仅停留在形式公正的层面  
D. 西方“司法独立”难掩社会关系不平等的实质



50. 我国现有杂交稻主要使用“箱式制种”技术，该方法无法实现混播混收，导致对人工的严重依赖，也阻碍了这一产业的快速发展。湖南杂交水稻研究中心研究员曹孟良团队，率先提出了将第三代杂交水稻育种技术“联动”工程雌性不育恢复系，解决机械化制种难题的策略。经6年攻关，团队将水稻雌性可育基因、花粉失活基因、荧光筛选标记基因等3基因表达盒导入雌性不育水稻，杂合转基因水稻进行自交结实。自交结实完成后，通过光电分选，可获得纯合雌性不育水稻，以其为恢复系，用于杂交稻机械化制种。而“落选”的、携带转基因的杂合种子，可继续用于雌性不育水稻繁殖。由此，有效解决了雌性不育水稻繁殖技术难题，并可实现杂交稻种子生产混播混收。

根据这段文字，以下说法正确的是（ ）。

- A. 新型育种技术最终使用转基因水稻进行杂交稻制种
- B. 杂合转基因水稻自交结实只能得到不育水稻
- C. “箱式制种”技术是目前最先进的水稻制种方法
- D. 我国有望进入杂交水稻大规模机械化制种新时代

51. 心灵鸡汤在社交网络时代大行其道，根本原因是：它其实是一种“社交”，是用来“分享”的，而不是要真正从中获得教益。喜欢转发心灵鸡汤的人，内心倒是真诚的，他们相信这些东西可能对朋友们有用，转发之后，将获得朋友的“认同”。但是，这种真诚的背后，又是某种肤浅。他们需要的，其实是虚拟的认同感。这样就能够解释，为什么你读了那么多“缓解焦虑”的鸡汤文章之后，反而更加焦虑了。在阅读心灵鸡汤的时候，你的问题并没有得到解决，而是被悬置了起来，或者被暂时掩盖了起来，但是时间正悄无声息地过去，当你意识到又白白浪费了一段时间之后，焦虑就会加倍。

这段文字最合适的标题是（ ）。

- A. 心灵鸡汤的真相：贩卖焦虑
- B. 偏食心灵鸡汤，只会让心灵更荒芜
- C. 心灵鸡汤泛滥，折射出人心的肤浅
- D. “治病良方”伪装下的“精神鸦片”

52. 每个人的大脑里都有一个“战斗”或“逃跑”系统，这个系统帮助我们应对突发的、可怕的、生死攸关的情况。不过当遭遇重大创伤事件后，这个系统有时会失控，即在创伤事件结束后，部分人的大脑不会平静下来，相反，他们会陷入恐惧状态中。统计结果显示，遭遇严重心理创伤事件的人会将恐怖情绪藏在大脑深处。处于休眠状态的恐惧情绪，一旦被刺激和触发，就会引发强烈的精神性疾病，即创伤后应激障碍症（PTSD）。PTSD是创伤性事件发生后的一种常见的使人衰弱的精神性疾病。患者通常会表现出焦虑、抑郁、慢性头疼或者心血管疾病等症状，部分人会出现药物滥用依赖症。

根据这段文字，下列说法正确的是（ ）。

- A. 滥用药物是PTSD的重要致病因素之一
- B. 人在遭遇严重心理创伤之后会患PTSD
- C. 人脑中某个系统在失控时会引起焦虑
- D. PTSD患者可能会表现出多种患病症状

53. 大学将对国家和民族的文化自信，贯穿于人才培养、科学研究、社会服务等职能发挥的全过程，渗透到课堂教学、素质拓展、校园环境等育人的全方位，在长期的办学实践中形成了自身特有的文化追求、价值理念，形成了师生共有的精神品格，这种追求、理念和品格就是大学的灵魂——大学精神。无论是作为类的存在，还是作为个体的某一所大学，对大学精神的表述虽不尽相同，

\_\_\_\_\_。从这个意义上来说，文化自信是大学精神之根，大学精神是文化自信之脉。

填入划横线部分最恰当的一项是（ ）。

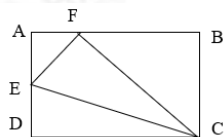
- A. 却都承认文化是立校的根本与办学的目的
- B. 但都确定弘扬文化自信是大学生使命所在
- C. 但其核心都是在阐释对文化的自觉与自信
- D. 却都倡导要形成以自信为基础的大学文化

54. 很多人笃信一个观念：一定要找那个自己“有感觉的”。这没毛病，有感情基础的婚姻确实更牢固。年轻人更注重寻找“灵魂伴侣”，而不过于看重对方外貌、财富、学历等“硬条件”，可以说是对婚姻负责的态度，是缔造幸福家庭的基石。只是，这些想法很多时候容易被极端化。比如，一些年轻人在相亲后，只因为对方穿了自己不喜欢的衬衣，或是鞋子不是自己喜欢的牌子，就认定与自己“三观不合”，放弃进一步接触的机会。过度苛求对方处处与自己“合拍”的思想，很有可能让年轻人忽视对方在性格、爱好等更深层次的优点，错失机会。
- 这段文字意在说明（ ）。
- A. 年轻人在相亲之时很容易对相亲对象处处苛求完美  
B. 寻找“灵魂伴侣”的想法是一种对婚姻负责的想法  
C. “合拍”并不是年轻人寻找“灵魂伴侣”的硬性指标  
D. 年轻人在寻找“灵魂伴侣”时对“合拍”要求应适度
55. 中国是伟大的诗国，也是文章大国，因此自古就有诗文相通的传统。以散文论，它一直离不开诗歌的影响与渗透，因而时时发出诗性智慧的光芒。陶渊明的《归去来兮辞》就有诗的流光溢彩，像“悦亲戚之情话，乐琴书以消忧”“木欣欣以向荣，泉涓涓而始流”等，都是诗意浓郁的写照，一下子把文章点燃了。王勃的《滕王阁序》中多有诗意，像“潦水尽而寒潭清，烟光凝而暮山紫”“落霞与孤鹜齐飞，秋水共长天一色”是诗，而文末以诗压尾。在王勃此文中，诗意与文心达到了高妙的契合，其核心点是“淡远”二字。即使在刘勰的《文心雕龙》中，也透出诗意的光泽，这在诗的引证以及叙述的诗意灵光中都有体现。
- 这段文字意在说明（ ）。
- A. 古代名家散文的创作风格及核心思想  
B. 中国古代诗文相互影响、互相渗透  
C. 中国既是伟大的诗国也是文章大国  
D. 诗歌对我国古代散文产生了很大影响

### 第三部分 数量关系

在这部分试题中，每道题呈现一段表述数字关系的文字，要求你迅速、准确地计算出答案。  
请开始答题：

56. 3个人加工一批零件，已经加工了一部分后，如果再加工8小时，则还会剩下一半零件没有加工；如果每个人效率提升20%，则再加工15小时可以全部完工。如果这批零件让这3个人按照原来的效率加工，第（ ）个小时可以全部加工完。
- A. 18  
B. 19  
C. 20  
D. 21
57. 某公司端午节给员工分福利，将10箱相同的苹果分给5名员工，甲分得两箱，其余员工每人至少1箱，那么不同的分配方案有（ ）种。
- A. 30  
B. 35  
C. 40  
D. 45
58. 某教育机构在培训基地培训学员，3月1日第一批100名学员进入培训基地接受培训，之后每过两个月的1号都会有100名新学员来基地报道，学员每个月月底考核一次，每次考核会有不超过总人数30%的学员通过，那么截止到当年7月1日，留在基地的学员人数至少有（ ）人。
- A. 174  
B. 74  
C. 173  
D. 73
59. 甲、乙两人从A点以相同的速度同时出发，甲向正北行走了5分钟，然后停下休息，乙向正东方向行走了12分钟，此时两人同向而行，乙速度提高 $\frac{1}{4}$ ，甲速度降低 $\frac{1}{3}$ ，（ ）分钟后乙能够追上甲。
- A. 20  
B. 21  
C. 22  
D. 23
60. 临近端午节，单位购买了一批粽子发给员工。如果每位员工分发8个粽子，则剩34个，如果每位员工分发9个粽子，则少6个，已知每个粽子8元钱，如果每位员工分发10个粽子，则单位还要花（ ）元钱购买粽子。
- A. 260  
B. 368  
C. 380  
D. 456
61. 如下图所示，矩形ABCD，AB长度是AD的2倍，E为AD中点，F为AB三等分点，那么矩形面积是三角形EFC面积的（ ）倍。



- A. 3  
B. 4  
C. 5  
D. 6
62. 一个等差数列，前5项之和为335，前7项平均数为75，那么这个数列前10项之和是第10项数字的（ ）倍。
- A. 7  
B. 6  
C.  $\frac{290}{41}$   
D.  $\frac{320}{41}$
63. 某服装店以50元/件的价格购进一批上衣，第一个月按原价卖了60%，第二个月将剩下的服装打7.5折销售，并全部卖出，最后统计，获得了80%利润率。如果这批服装均按原价销售，可以获利（ ）
- A. 85%  
B. 90%  
C. 95%  
D. 100%

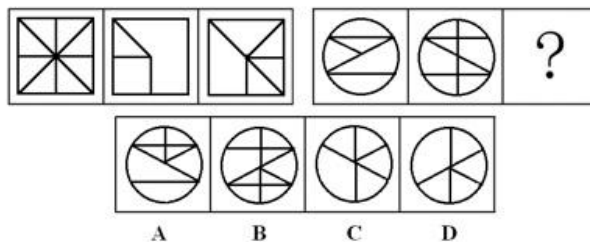
64. 甲和乙各加工相同数量的零件，甲每工作2小时休息30分钟，乙每工作3小时休息30分钟，甲每小时加工的零件数是乙的2倍，如果甲加工完所有的零件需要17小时，那么乙加工完所有的零件所需时间为（ ）小时。
- A. 34  
B. 33.5  
C. 33  
D. 32.5
65. 某单位有10名员工，女生人数比男生人数多50%，从中选择4人参加演讲比赛，且男员工的演讲顺序不能全部相邻。符合要求的演讲顺序有多少种？（ ）
- A. 3648  
B. 4215  
C. 5324  
D. 6129
66. 某艺术学校新学期拟设音乐班和舞蹈班两种班型，共招收了235名学员，音乐学员正好平分为6个班，舞蹈学员正好平分为7个班，且每个音乐班、舞蹈班的学员人数均为不小于5的质数，则一个音乐班和一个舞蹈班的人数之和最多为（ ）人。
- A. 36  
B. 30  
C. 34  
D. 38
67. 某博物馆有一长廊总长57米，计划在长廊的一侧等距离安装宽为2米的落地窗，已知长廊两端的墙与最近的窗户距离为5米，而相邻落地窗之间的墙面宽度为3米，那么一共安装了多少个落地窗？（ ）
- A. 8  
B. 9  
C. 10  
D. 11
68. 医院制剂室有一瓶质量为360克、浓度为20%的高浓度盐水，现需要加入无菌水将其全部稀释成生理盐水（浓度0.9%），而制水机利用普通水制造无菌水的转化率为25%，则此次稀释共需消耗（ ）克普通水。
- A. 7640  
B. 30560  
C. 8000  
D. 32000
69. 今年妈妈与小明的年龄均为完全平方数，妈妈在小明这个年纪时，小明年仅1岁，则妈妈与小明年龄之和为（ ）岁。
- A. 65  
B. 74  
C. 130  
D. 100
70. 班主任组织全班67名同学参加英语、数学和物理三科竞赛，每个学生至少参加1科。已知参加英语竞赛和数学竞赛的各有29人，参加物理竞赛的有37人，且在参加物理竞赛的学生中有20人参加了其他科目，在参加数学竞赛的学生中有17人参加了其他科目，三个科目都参加的有3名同学，则只参加了两科竞赛的有（ ）人。
- A. 22  
B. 20  
C. 25  
D. 27

## 第四部分 判断推理

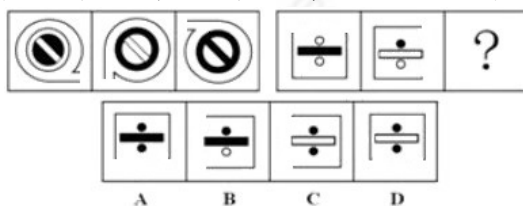
一、图形推理。请按每道题的答题要求作答。

请开始答题：

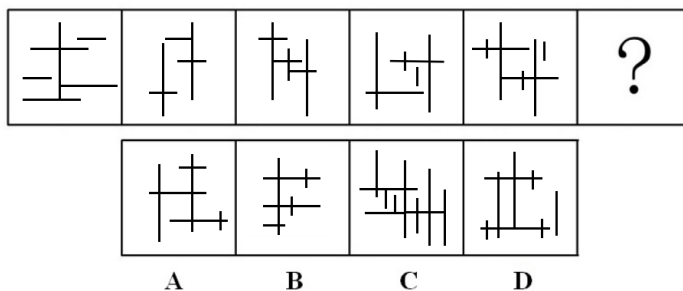
71. 从所给的四个选项中，选择最合适的一个填入问号处，使之呈现一定的规律性（ ）。



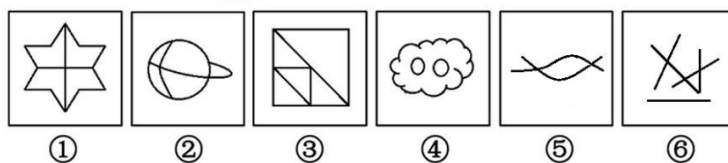
72. 从所给的四个选项中，选择最合适的一个填入问号处，使之呈现一定的规律性（ ）。



73. 从所给的四个选项中，选择最合适的一个填入问号处，使之呈现一定的规律性（ ）。

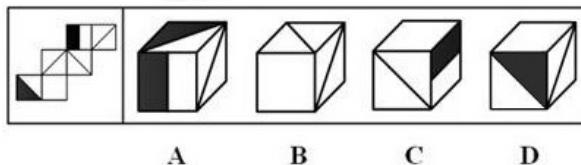


74. 把下面的六个图形分成两类，使每一类图形都有各自的共同特征或规律，分类正确的一项是（ ）。



- A. ①②③, ④⑤⑥      B. ①③⑥, ②④⑤  
C. ①③④, ②⑤⑥      D. ①②⑤, ③④⑥

75. 左边给定的是纸盒的外表面，下面哪一项能由它折叠而成？（ ）



二、定义判断。每道题先给出定义，然后列出四种情况，要求你严格依据定义，从中选出一个最符合或最不符合该定义的答案。注意：假设这个定义是正确的，不容置疑的。

请开始答题：

76. 迁徙行为是动物对外在环境变化的反应，随着季节变化，进行方向确定的、有规律的、长距离的迁居活动。凭借着这种活动，可以满足它们在特定的生活时期所需要的环境条件，使个体的生存和种族的繁荣得到可靠的保证。
- 根据上述定义，下列不属于迁徙行为的是（ ）。
- A. 每到冬天，成千上万头的驯鹿从北向南，朝森林冻土带的边缘地带转移
  - B. 春暖花开时，彩蝶王从中美洲飞到加拿大，等到秋天时它们又飞回中美洲
  - C. 北极燕鸥在北极地区繁殖，却要飞到南极海岸越冬
  - D. 海蟹准确掌握海水涨落时间而出来活动
77. 系统脱敏法又称交互抑制法，主要是诱导求治者缓慢地暴露出导致神经症焦虑、恐惧的情境，在某些特定情景下，并通过心理的放松状态来对抗这种焦虑情绪，从而达到消除焦虑或恐惧的目的。
- 根据以上定义，下列不属于系统脱敏法的是（ ）。
- A. 对于对蛇恐惧的人，让患者观看过治疗者触摸、拿起和放下蛇的示范后，先从事一些与接近、触摸蛇有关的一些活动，而后逐渐接近蛇、触摸它，直到敢于拿起它而无紧张感
  - B. 因喧闹嘈杂的声音而焦虑的人，治疗者与患者在欢快的交谈过程中，逐渐播放提前录制好的嘈杂声音，通过交谈诱发患者的兴奋的欢快情绪，从而对抗因声音引发的焦虑
  - C. 对于刚生完宝宝而抑郁的宝妈，治疗者要求患者合理膳食，补充营养，加强锻炼，同时辅助药物治疗，直至减轻其焦虑情绪
  - D. 对于恐高症患者，治疗者陪伴着患者通过一系列令病人感到恐惧的高空情景，直到抵达原先最害怕的情景而不再紧张为止
78. 回归教育是一种认为人的一生活应是学习和工作不断交替、相互结合的过程，接受义务教育或基础教育乃至高等教育后就业的成年人，应在需要时又返回学校去学习的教育。
- 根据上述定义，下列选项中属于回归教育的是（ ）。
- A. 越来越多的人认识到胎教的重要性了，孕妇的乐观的情绪、文化的熏陶，有利胎儿的生长、发育
  - B. 不少家长在孩子适应了幼儿园之后，就会开始考虑给孩子选兴趣班
  - C. 某厂技术人员为尽快掌握进口设备的操作方法，到本单位举办的职工夜校补习英语
  - D. 由于就业压力的逐年增大，很多应届大学毕业生都选择了继续读研深造
79. 永真命题，指的是不论在何种情况下都不可能假的命题；永假命题，指的是不论在何种情况下都不可能真的命题。
- 根据上述定义，下列属于永假命题的是（ ）。
- A. 婚姻是坟墓，或者婚姻不是坟墓
  - B. 他们不仅是生活上的伴侣，还是志同道合的朋友
  - C. 他既是一个有责任感的男人，也是一个没有责任感的男人
  - D. 她和出轨的丈夫在离婚和不离婚之间至少得选一个
80. 矛盾修辞法是一种修辞手段，它是用两种不相调和，甚至截然相反的词语来形容一件事物，起到一种强烈的修辞效果，使得所表达的语义更强烈。这种修辞格往往能造成一种“出人意料的，引人入胜的”效果。
- 根据以上定义，下列语句中使用了矛盾修辞法的是（ ）。
- A. 有的人活着，他已经死了；有的人死了，他还活着
  - B. 表兄弟表姐妹都笑起来，连最沉默的海燕都笑了
  - C. 素胚勾勒出青花笔锋浓转淡，瓶身描绘的牡丹一如你初妆
  - D. 荷塘的四面，远远近近，高高低低都是树，而杨柳最多

81. 资源诅咒是指自然资源的丰富反而拖累经济发展的一种经济现象。丰富的自然资源可能是经济发展的诅咒而不是祝福，大多数自然资源丰富的国家比那些资源稀缺的国家经济增长的更慢。下列属于资源诅咒的是（ ）。
- A. 长期以来中国被认为是没有石油资源的国家，但是自从大庆、克拉玛依等地发现石油之后，中国摘掉了“贫油国”的帽子
- B. 美国的自然资源雄厚，但是为了保护本国的生态环境，还是选择尽可能从国外进口工业生产中所需要的资源，但经济实力依然世界领先
- C. 荷兰因发现海岸线盛藏巨量天然气，而迅速成为以出口天然气为主的国家，但其他工业逐步萎缩，使得荷兰其他经济部门失去国际竞争力
- D. 中东地区的很多国家依靠丰富的石油资源积累了大量的财富，高楼林立，豪车遍地
82. 半自助游是旅游者在自行决定出游的时候，会将部分自己难以解决的项目交旅行社去处理，如酒店的预订、机票的预订等，因为旅行社在这方面不仅有优势，而且价位比游客自己购买更低廉。于是就形成一半靠自己、一半靠旅行社帮助的出游方式。根据上述定义，下列属于半自助游的是（ ）。
- A. 某旅行社推出大理双飞5日自由行套餐，第1天由北京飞大理，入住五星酒店，接着自由活动，第5天由大理飞回北京，结束愉快的旅途
- B. 某旅行社推出北京一日游产品，行程安排是天安门—毛主席纪念堂—八达岭长城—鸟巢水立方，导游全程讲解照顾，全程为跟团游，包含午餐，晚上18:00散团
- C. 小赵过年回乡探亲，为抢购春运火车票头疼不已的时候，发现在第三方平台购买飞机票价格低廉，于是在该平台购买了往返机票，其余行程自理
- D. 老刘参考旅行社苏州半自助游的方案，设计了符合自己行程的路线，并让儿子订好了相应的机票和酒店，准备在逛景点的时候蹭讲解
83. “郑人买履”讲的是从前有一个人想买一双鞋，就在家把脚的大小量好了尺寸。他来到了集市上卖鞋的店铺里，看好了一双鞋，正准备买的时候，忽然发现自己量好的尺寸放在家里忘了带来了，就回家拿来尺寸，等回来时集市已经关门。旁边的人问他：“你给自己买鞋，为什么不直接试试大小，非按原本的尺寸干啥？”那人就说：“我宁可相信我量的尺寸合适，脚却不一定准确”。用下面哪个词来解释这个寓言最合适？（ ）
- A. 自我作古
- B. 死搬教条
- C. 标新立异
- D. 数典忘祖
84. 遗忘中的抑制现象分为前摄抑制和倒摄抑制两种。先学习的材料对后学习的材料的识记和回忆起干扰作用，称为前摄抑制；后学习的材料对先学习的材料的保持和回忆起干扰作用，称为倒摄抑制。根据以上定义，以下既涉及前摄抑制，又涉及倒摄抑制的是（ ）。
- A. 当我们熟练掌握了空间重构类图形的知识之后，发现之前学过的平面图形类题目反而不会做了
- B. 先学会了骑三轮车，再学自行车时候发现，自行车的车把反而特别难控制
- C. 学习法语的难度要大于英语的学习，但其难度却小于阿拉伯语的学习，如果精通这三门语言后，发现它们之间是有一定联系的，对比学习反而更容易些
- D. 识记一篇文章时，一般总是首尾部分记忆效果好，而中间部分则常常识记较难，也容易遗忘

85. 中国传统医学中“七情”之一的“怒”指人们的欲望或需求受到遏抑，郁怒之火向外发泄的一种表现，通常伴有紧张和不愉快的情绪体验。“惊”指突然遭受意料之外的事，引起心神欠稳或脏腑机能失调，之后又遇到异物异声而产生的伴有紧张惊骇的情绪体验。
- 根据上述定义，下列说法属于“惊”的是（ ）。
- A. 地震导致房屋倒塌，小李被掉落的横梁击中头部而晕厥，被救醒后对地震毫无记忆
- B. 得知自己的兄弟被害，武松非常愤怒，在狮子楼杀死西门庆，而后去衙门自首，将王婆交由官府
- C. 小刘曾被突然闯红灯的汽车撞伤过，后来每当看到突然出现的快速行驶的汽车时都会忍不住尖叫
- D. 张某工作时突然得知妻子顺利生产，并且生了一对龙凤胎的时候，他高兴得蹦了起来

**三、类比推理。每道题先给出一组相关的词，要求你在备选答案中找出一组与之在逻辑关系上最为贴近，相似或匹配的词。**

**请开始答题：**

86. 无瑕：完美
- A. 盘桓：逗留
- B. 琐屑：轻蔑
- C. 胆大：心细
- D. 踉跄：踌躇
87. 拷贝：复制
- A. 马拉松：长跑
- B. 咖啡：牛奶
- C. 引擎：电动机
- D. 维他命：维生素
88. 能源：固体
- A. 黄油：油脂
- B. 技能：考试
- C. 修理厂：维修工
- D. 残疾人：志愿者
89. 福建：闽
- A. 贵州：赣
- B. 安徽：皖
- C. 河南：冀
- D. 重庆：川
90. 蜻蜓点水：浅尝辄止
- A. 分毫不差：一丝不苟
- B. 琳琅满目：贝联珠贯
- C. 安居乐业：颠沛流离
- D. 缘木求鱼：求道于盲
91. 行星：月亮：卫星
- A. 瑞典：北欧：芬兰
- B. 动物：柑橘：植物
- C. 金属：镍：非金属
- D. 山脉：黄河：河流
92. 凭证：证券：流通性
- A. 硬磁：磁铁：磁性
- B. 发表：言论：过激
- C. 光：可见光：直进性
- D. 哲学：真理：客观性
93. 柜子：收纳：木匠
- A. 棉衣：御寒：裁缝
- B. 疫苗：注射：医生
- C. 沙漠：广阔：驴友
- D. 金匠：戒指：装饰
94. 第一产业：农业：畜牧业
- A. 科学：生命科学：自然科学
- B. 有色金属：轻金属：重金属
- C. 医生：专科医生：男医生
- D. 玫瑰花：百合花：丁香花



95. 松树对于（ ）相当于紫微星对于（ ）
- A. 气节；帝星  
B. 长寿；尊贵  
C. 文曲星；柳树  
D. 柏树；小熊星座

**四、逻辑判断。每道题给出一段陈述，这段陈述被假设是正确的，不容置疑的。要求你根据这段陈述，选择一个答案。注意：正确的答案应与所给的陈述相符合，不需要任何附加说明即可以从陈述中直接推出。**

**请开始答题：**

96. 天然香精和人造香精在本质上没有区别，化学家从天然成分中提取化学物质来制成天然香精，而人造香精则由同样的化学物质合成。但由于天然香精必须取材天然，产量较小，动植物加工处理过程中芳香成分也容易损失。所以，人造香精比天然香精更适合商业发展。
- 以下哪项如果为真，最能支持上述观点？（ ）
- A. 与天然香精相比，人造香精产量大，品类繁多，能满足消费者多样化需求  
B. 无论是天然香精还是人造香精，提取过程中都不会添加任何有害成分  
C. 与人工材料相比，天然材料比较容易产生的致命毒素  
D. 天然香精的提取源不完全是香精所模仿的动植物，还会有一些杂质
97. 吸烟会使烟草残留物沾染在人体和家居物品表面，积累多种毒素，普通清洁剂无法去除这些物质，形成“三手烟”污染。研究发现，“三手烟”会危害实验鼠免疫系统。研究人员让窗帘、地毯等居室材料接触香烟烟雾，模拟吸烟者家中的情形，然后将这些布料放在实验鼠笼子里。一个月后，这些实验鼠血液和肝脏里的炎症分子比对照组多出50%；4个月后，实验鼠体内的皮质醇水平比对照组高出4%，空腹血糖和胰岛素水平高出30%，这意味着实验鼠的免疫机能下降、糖尿病风险提高。
- 以下哪项如果为真，可以作为上述结论成立的前提条件？（ ）
- A. 两个月后，实验鼠的肝脏和脑部都出现了免疫细胞损伤  
B. 实验中所用布料已做特殊处理，只含有三手烟成分  
C. 经验证，吸烟和二手烟对人体免疫系统的危害性更大  
D. 实验室的模拟情境并不能完全还原吸烟者家中的真实情形
98. 英国研究团队研发了一种新型芯片，可在数分钟内完成细菌性角膜炎的检测，能有效提高疾病诊断效率。他们开发的这一新型芯片，在实验室中从被感染的眼部组织样本中提取其中的细菌，然后利用配备这一芯片的装置来分析。团队发现，随着细菌在芯片的微型电极间高速通过，只需测算单个细菌的电学特性就能快速确认其中是否存在感染，并且能分辨出是哪些细菌引起的感染，这包括大肠杆菌以及假单胞菌属等。
- 以下哪项如果为真，最能支持上述观点？（ ）
- A. 英国监管当局已批准该技术进行一项由30名病患参与的前期测试  
B. 这项技术本身操作比较简单，但应用和推广需要付出高昂的成本代价  
C. 当前面临抗生素滥用问题的背景下，此项技术能够给人们带来福音，能帮助减少抗生素的滥用  
D. 此技术只需要测量那些从芯片上通过的细菌细胞发出瞬间电信号，就能快速分辨不同的微生物
99. 一个国际科研小组针对全球超过2.7万种脊椎动物建立起身体质量数据库，并分析它们的灭绝风险。结果发现，体型最大、体重最大和体型最小、体重最小的脊椎动物都面临最高的灭绝风险。不同的是，体型和体重最大的脊椎动物面临的主要威胁来自人类捕杀，而最小的动物所受威胁主要来自污染、农业种植和伐木等造成的栖息地减少。需栖息在淡水的小型物种特别容易陷入危险。而一旦失去最大型和最小型脊椎动物，整个生态系统都会受到影响。
- 由此可以推出（ ）。
- A. 最小型脊椎动物的灭绝将为生态系统带来灭顶之灾  
B. 鲸鲨、科莫多巨蜥、猪鼻蝙蝠等脊椎动物繁殖风险最高  
C. 体型最大和最小的脊椎动物所面临的主要威胁不同  
D. 环境污染不会导致体型和体重最大的脊椎动物灭绝

100. 甲、乙、丙、丁四人分别来自A、B、C、D四支队伍。在问到他们各自的队伍时，甲说：我来自D队，丁来自C队；乙说：我不来自B队，丁也不来自D队；丙说：我来自A队，丁来自D队；丁最后说：甲、乙、丙中有两个人说对了一半，有一个人全说错了，而且全说错的这个人来自D队。如果丁说的是真话，可以推出（ ）。
- A. 甲来自C队；丙来自D队  
B. 乙来自B队；丁来自C队  
C. 甲来自A队；丙来自B队  
D. 乙来自A队；丁来自D队
101. 海平面上升速度的加剧，已经或行将成为海岸带的重大灾害。有数据显示，过去100年中，世界海平面平均升高了约12厘米左右。有媒体发文称，依照这样的速度，再过100年，所有沿海城市都将被淹没。以下哪项如果为真，最能质疑该媒体观点？（ ）
- A. 海平面上升不仅会加剧风暴潮灾害，还会加大洪涝灾害的威胁  
B. 由于海平面上升，马尔代夫、夏威夷等群岛都面临消失的危险  
C. 最新测量数据显示，沿海城市的最低海拔高度为3.3米  
D. 对温室气体严控后，海平面上升速度和过去100年相比有所减缓
102. 良好的情绪是一个人健康的基础。只有心理健康，躯体才能健康；关注心理健康，社会才能和谐；社会、政府、企业都关注大众心理健康，才不会连续发生的自杀现象。由此无法推出（ ）。
- A. 只要保持良好的情绪，人就会健康  
B. 心理不健康，躯体却健康的情况是不存在的  
C. 除非关注心理健康，否则整个社会不会和谐  
D. 当社会、政府、企业都不关注大众心理健康时，自杀现象会连续出现
103. 一档新节目近来十分受欢迎，据统计，在某地方台同一时段的节目中收视率遥遥领先，达到27%，而《新闻联播》的收视率不过也才11%左右。为了宣传节目火爆，节目组发通稿称，观看这档节目的观众比《新闻联播》多。以下各项如果为真，最能质疑节目组通告的是（ ）。
- A. 这档节目内容新颖，容易引起观众共鸣，网络评分很高  
B. 《新闻联播》的网上播放次数甚至比不上很多收视平平的节目  
C. 收视率高的电视节目火爆程度也会很高，可以引发更多话题  
D. 该档节目只在地方台播出，《新闻联播》则面向全国观众
104. 并非所有现实题材作品都能自觉灌注现实主义精神，有些现实题材作品并没有揭示生活的本质，而凡是揭示生活本质的现实题材作品都会滋生出媚俗之风，凡是能够赢得大众的共鸣的作品都自觉灌注现实主义精神。由此可以推出（ ）。
- A. 揭示生活本质的作品都能够引起大众的共鸣  
B. 有些会滋生媚俗之风的作品是现实题材作品  
C. 有些自觉灌注现实主义精神的作品不会引起大众共鸣  
D. 有些自觉灌注现实主义精神的作品不是现实题材作品

105. 据邮政法规定，为防止不法分子利用寄递渠道实施违法犯罪活动，要求邮政、快递企业对信件以外的邮件当场验视，拒绝验视的不予收寄。对此，《条例》也作出了强调，经营快递业务的企业收寄快件，应当依照邮政法验视内件，并作出验视标识，对拒绝验视的，经营快递业务的企业不得收寄。有人认为，只要坚持验视邮件，就无必要实行实名登记。

以下选项如果为真，能够削弱上述结论的是（ ）。

- A. 只有平衡好公共安全、个人信息安全与企业盈利三者之间的关系，才能促进快递业的健康发展
- B. 经营快递业务的企业应当妥善保管用户信息等电子数据，采取有效技术手段保证用户信息安全
- C. 寄快递实名制尚涉及法律、技术层面的一些问题，同时基于安全考量，个人信息保密问题也影响其推行
- D. 实行寄快递实名制，可以从源头上对欲通过快递犯罪的行为进行遏制，与验视双管齐下，才能有效监管

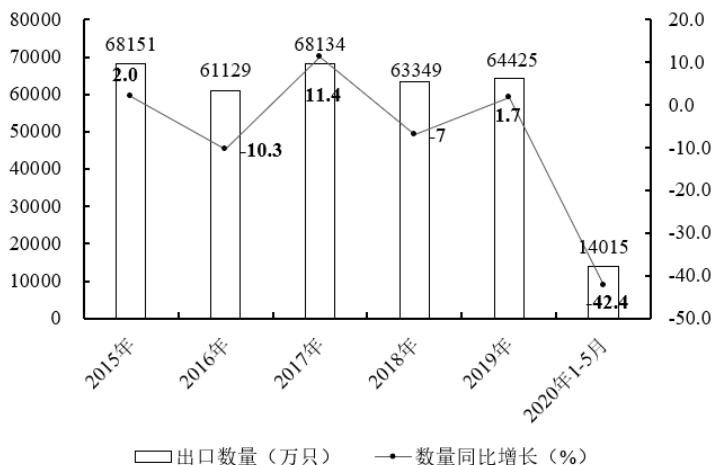
## 第五部分 资料分析

针对下列图、表或文字回答问题。你应根据资料提供的信息进行分析、比较、计算、处理。你可以在题本上运算。

请开始答题：

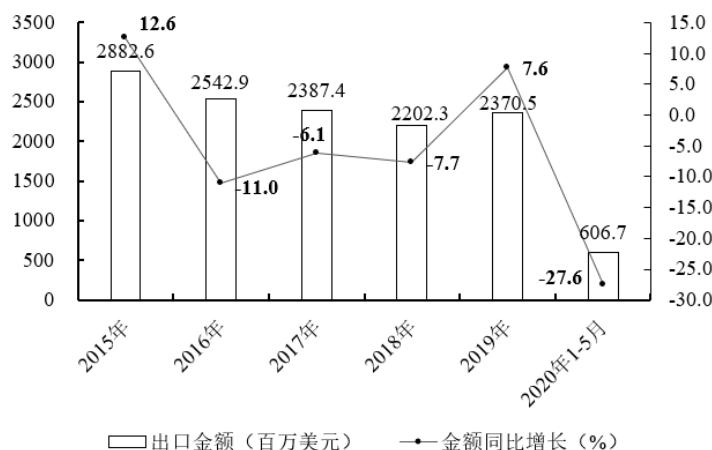
一、一、根据以下资料，回答问题。

2020年1-5月中国手表出口量为14015万只，同比下降42.4%。



2015-2020年1-5月中国手表出口数量情况

从金额方面来看，2020年1-5月中国手表出口金额为606.69百万美元，同比下降27.6%。



2015-2020年1-5月中国手表出口金额统计情况

106. 2020年1-5月中国手表出口均价同比约上升了( )。

- A. -12.4%
- B. 12.4%
- C. 25.7%
- D. -25.7%

107. 2019年6-12月中国月均出口手表( )万只。

- A. 4315
- B. 5728
- C. 6017
- D. 6890

108. 如果“十三五”期间，中国年均出口手表超过60000万只，那么2020年月均出口手表大约需要超过( )万只。

- A. 3580
- B. 4619
- C. 42960
- D. 61245

109. 2018年我国手表出口金额比两年前增长了（ ）。
- A. 13.8%                                  B. 13.3%
- C. -13.8%                                 D. -13.3%
110. 以下关于我国手表出口情况的描述，能够从材料中推出的有（ ）项。
- ①.2015-2019年平均每年手表出口量超过了64000万只  
 ②.2020年1-5月中国手表出口额同比减少了200百万美元以上  
 ③.2018-2019年这两年我国手表出口额同比增速为负
- A. 0                                         B. 1
- C. 2                                         D. 3

二、二、根据以下资料，回答问题。

2016-2017年分行业规模以上工业企业研究与试验发展（R&D）经费情况

行业	2017		2016	
	R&D 经费 (亿元)	R&D 经费 投入强度 (%)	R&D 经费 (亿元)	R&D 经费 投入强度 (%)
制造业	11624.9	1.14	10580.3	1.01
农副食品加工业	274.6	0.46	249.7	0.36
食品制造业	148.1	0.67	152.8	0.64
酒、饮料和精制茶制造业	99.8	0.58	100.6	0.54
烟草制品业	19.8	0.22	21.4	0.25
纺织业	233.2	0.64	219.9	0.54
纺织服装、服饰业	110.5	0.53	107.0	0.45
皮革、毛皮、羽毛及其制品和制鞋业	65.1	0.46	59.0	0.39
木材加工和木、竹、藤、棕、草制品业	60.3	0.47	52.9	0.36
家具制造业	55.4	0.63	42.9	0.49

注：R&D 经费投入强度为 R&D 经费投入与主营业务收入之比。

111. 2017年烟草制品业主营业务收入为（ ）亿元。
- A. 4400                                  B. 6500
- C. 8600                                  D. 9000
112. 2017年表格中R&D经费投入第二多的行业，其当年R&D经费投入金额同比增长了约（ ）。
- A. 6.54%                                 B. 8.24%
- C. 9.97%                                 D. 12.56%
113. 2017年表格中R&D经费投入金额同比增长率低于主营业务收入同比增长率的行业有（ ）个。
- A. 0                                         B. 1
- C. 2                                         D. 3
114. 2017年，以下四个行业中R&D经费投入金额同比增长最快的是（ ）。
- A. 纺织业                                 B. 皮革、毛皮、羽毛及其制品和制鞋业
- C. 木材加工和木、竹、藤、棕、草制品业     D. 家具制造业

115. 以下关于材料中各行业R&D经费投入情况的说法正确的是（ ）。

- A. 2017年R&D经费投入强度最高与最低的行业与2016年相同
- B. 2016年纺织业与酒、饮料和精制茶制造业主营业务收入相同
- C. 2017年表格中各行业R&D经费投入金额均同比增长
- D. 2017年R&D经费投入金额越高的行业，其投入强度越高

### 三、三、根据以下资料，回答问题。

2017年，国有企业营业总收入522014.9亿元，同比增长13.6%。中央企业308178.6亿元，同比增长12.5%；地方国有企业213836.3亿元，同比增长15.2%。

2017年，国有企业营业总成本507003.9亿元，同比增长12.6%，其中销售费用、管理费用和财务费用同比分别增长9.5%、8.5%和8%。中央企业297048.4亿元，同比增长12%，其中销售费用、管理费用和财务费用同比分别增长7.6%、7.9%和4.6%；地方国有企业209955.5亿元，同比增长13.5%，其中销售费用、管理费用和财务费用同比分别增长12.5%、9.3%和11.2%。

2017年，国有企业利润总额28985.9亿元，同比增长23.5%。中央企业17757.2亿元，同比增长16%；地方国有企业11228.7亿元，同比增长37.6%。

2017年，国有企业应交税金42345.5亿元，同比增长9.5%，其中中央企业30812.9亿元，同比增长5%；地方国有企业11532.6亿元。

2017年12月末，国有企业资产总额1517115.4亿元，同比增长10%；负债总额997157.4亿元，同比增长9.5%。中央企业资产总额751283.5亿元，同比增长8.2%；负债总额511213亿元，同比增长7.3%；地方国有企业资产总额765831.9亿元，同比增长11.8%；负债总额485944.4亿元，同比增长11.9%。

116. 2016年，中央企业营业收入约比地方国有企业多（ ）亿元。

- A. 105370.8
- B. 97389.2
- C. 94342.3
- D. 88314.7

117. 2017年，中央企业营业成本同比约增长了（ ）亿元。

- A. 33005.4
- B. 31826.6
- C. 29704.8
- D. 28672.5

118. 2017年地方国有企业应交税金同比增长约（ ）。

- A. 9.9%
- B. 14.0%
- C. 23.7%
- D. 5.0%

119. 2017年12月末，中央企业资产负债率（负债总额÷资产总额）与去年同期相比约（ ）。

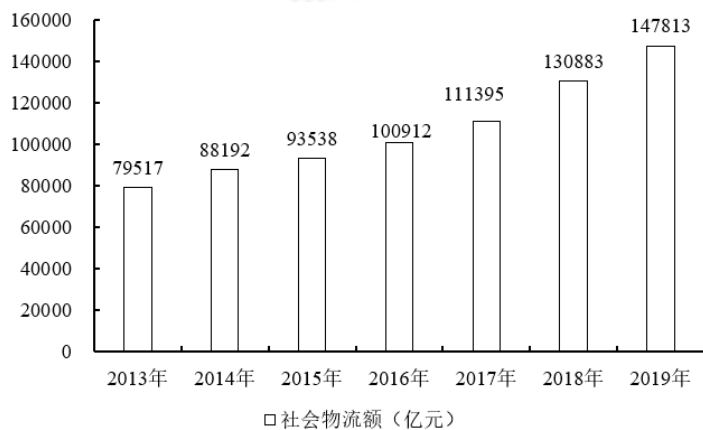
- A. 下降了0.6个百分点
- B. 上升了0.6个百分点
- C. 下降了0.9个百分点
- D. 上升了0.9个百分点

120. 根据上述材料，以下说法正确的是（ ）。

- A. 2016年，国有企业营业总成本不足40万亿元
- B. 2017年，国有企业应交税金占其营业总收入的一成以上
- C. 2017年，中央企业利润额的同比增量高于地方国有企业
- D. 2017年，销售费用、管理费用和财务费用占国有企业营业总成本的比重均低于上年同期水平

#### 四、四、根据以下资料，回答问题。

2019年河南省社会物流总额14.8万亿元，增速高于全国3.3个百分点。其中，社会物流总收入为6914.8亿元，增长9.5%，增速高于全国平均水平0.5个百分点。



2013-2019年河南省社会物流总额

2019年，河南省交通运输、仓储和邮政业固定资产投资增长4.8%。其中全省共有A级以上物流企业170家，比去年新增21家，其中3A级以上物流企业共158家，比去年新增20家，5A级物流企业共11家，比去年新增1家。全省跨境电商进出口(含快递包裹)1581.3亿元，同比增长22.7%。其中出口1133.7亿元，同比增长22.1%；进口447.6亿元。快递包裹出口6709.8万件，货值148.7亿元。郑州海关共监管跨境电商零售进出口清单12679.6万票，同比增长32.8%；货值161.7亿元，同比增长34.3%。

2019年，中欧班列(郑州)实现每周去程14班、回程10班高频高质开行，累计开行1000班，其中去程638班，回程362班，累计货值33.5亿美元，货重54.1万吨；总累计开行2760班，总累计货值117.8亿美元，货重138.5万吨。

2019年，全省机场货邮吞吐量52.4万吨，增长1.3%。其中，郑州机场货邮吞吐量52.2万吨，增长1.4%；洛阳机场货邮吞吐量1156.6吨，下降13.6%；南阳机场货邮吞吐量1016.7吨，下降6.3%。

121. 2019年全国社会物流总额增长了 ( )。

- A. 16.2%
- B. 14.5%
- C. 12.9%
- D. 9.6%

122. 2014-2018年全省社会物流总额年均增长了 ( ) 亿元。

- A. 11383
- B. 10975
- C. 10673
- D. 10273

123. 2018年河南省A级以上，5A以下的物流企业合计有 ( ) 家。

- A. 149
- B. 139
- C. 132
- D. 129

124. 2019年全省跨境电商(含快递包裹)顺差额大约同比 ( )。

- A. 上升120亿元
- B. 上升420亿元
- C. 下降54亿元
- D. 下降200亿元

125. 根据所给材料以下描述正确的是 ( )。

- A. 2019年郑州海关监管的跨境电商零售清单中，平均每票清单的货值同比下降了
- B. 2019年中欧班列(郑州)累计开行班数占总累计开行班数的比重超过40%
- C. 2019年全省除郑州机场以外的机场货邮吞吐量占全省的比重有所降低
- D. 2015年全省社会物流总额同比增速高于上年