

第一部分 常识判断

根据题目要求，在四个选项中选出一个最恰当的答案。

请开始答题：

1. 习近平总书记提出，要改进工作方式方法，改变简单给钱、给物、给牛羊的做法，多采用生产奖补、劳务补助、以工代赈等机制，不大包大揽，不包办代替，教育和引导广大群众用自己的辛勤劳动实现脱贫致富，这对脱贫工作的启示是（ ）。
A. 扶贫不能对群众有求必应
B. 扶贫要采取多劳多得的方式
C. 扶贫要激活群众的内生动力
D. 必须对群众进行选择性的扶贫
2. 习近平总书记出席全国生态环境保护大会时指出：生态环境没有替代品。用之不觉失之难存“天地与我并生，而万物与我为一。”“天不言而四时行，地不语而百物生。”这说明新时代推进生态文明建设，必须坚持（ ）。
A. 绿水青山就是金山银山
B. 良好生态环境是最普惠的民生福祉
C. 充分利用山水林田湖草等资源
D. 人与自然和谐共生
3. 古人云：“凡事预则立，不预则废。”也就是说，凡事只要及早谋划，深思熟虑，才能掌握主动权，最终取得良好的结果，这说明（ ）。
A. 物质是不依赖人的意识的客观存在
B. 意识是人脑特有的机能，是客观存在的人脑中的反映
C. 意识具有能动作用
D. 物质对意识的决定作用是第一位的，意识对物质的能动作用是第二位的
4. 在现实生活中，一些人对道德和法律之间的关系缺乏正确的认识，因此加强道德和法律关系的学习十分重要，下列有关二者关系的说法错误的是（ ）。
A. 在调节范围上，法律的适用范围大于道德的适用范围
B. 在调节主体上，道德调节的主体比法律广泛
C. 在调节方式上，法律具有强制性、滞后性，而道德有明显的自觉性和事前性
D. 道德与法律相辅相成，互相促进，共同发展
5. 爱国主义是动员和鼓舞人民团结奋斗的一面旗帜，是各族人民共同的精神支柱，在维护祖国统一和民族团结，抵御外来侵略和推动社会进步中，发挥了重大作用，在当代中国，爱国主义首先体现在（ ）。
A. 对祖国灿烂文化的热爱上
B. 对自己的骨肉同胞的热爱上
C. 对社会主义中国的热爱上
D. 对祖国历史文物的热爱上
6. 如今的乡村村容村貌大变样，文化生活也日益丰富，然而在一些农村，陈规陋习仍然还有市场，这些陈规陋习带来了诸多的现实问题，加强公民道德建设，大兴乡村文明新风也变得异常紧迫，为加强公民道德建设。可采用的直接措施不包括（ ）。
A. 通过乡规民约来约束
B. 注意提高村民的素质
C. 注重先进文化的引导
D. 提高村民的可支配收入
7. 恋爱五年的陈某和梁某在2011年以120万元的价格购买了一套小户型商品房，陈某垫付了36万元首付，并与梁某一同向银行申请了80万元的贷款。梁某另外支出4万元用于补贴中介费、税费等。可购房后不久，两人却因陈某“还不想结婚”而分手，两人一起购置的房子没有办理产权登记，并一直处于空置状态，对此，下列说法正确的是（ ）。
A. 房屋归继续还贷者所有
B. 陈某贡献大，该房应归陈某所有
C. 房屋为陈某和梁某按份共有
D. 两人等额享有该处房产

8. 有土地才有粮食，有粮则安，无粮则乱。因而帝王要祭祀土地神和粮食神，以求风调雨顺，国泰民安。古代帝王祭祀土地神、粮食神的地方是（ ）。
- A. 太庙
B. 嘉量
C. 社稷坛
D. 吉祥缸
9. 按照二十四节气中春天六个节气的先后顺序，给下列诗句排序，正确的是（ ）。
- ①仲春初四日，春色正中分
②天街小雨润如酥，草色遥看近却无
③微雨众卉新，一雷惊蛰始
④清明时节雨纷纷，路上行人欲断魂
- A. ②③①④
B. ②③④①
C. ③②①④
D. ③②④①
10. 科举考试一直从隋代延续至清代，是我国封建社会选择人才的重要制度。以下关于科举考试描述错误的一项为（ ）。
- A. 正式的科举考试分类：乡试、会试、殿试三级
B. 连登三甲（三元及第），解元——会元——状元
C. 殿试的录取分三甲，其中一甲三名，赐“进士及第”的称号
D. 殿试前三名由低到高分别为榜眼、探花、状元
11. 在东南亚一些国家和地区，有一些地名、庙宇是以“三宝”命名的，如泰国有“三宝塔寺”“三宝城”，马六甲有“三宝庙”。这些国家和地区用“三宝”来纪念的人物是（ ）。
- A. 张骞
B. 哥伦布
C. 郑和
D. 卫温
12. 中华医学博大精深、历史悠久，东汉时期，名医（ ）模仿虎、鹿、熊、猿五种动物的活动姿态，创造出了“五禽戏”帮助人们强身健体。
- A. 华佗
B. 张仲景
C. 李时珍
D. 朱丹溪
13. 有学者指出“统一思想，归本儒家，便是要使全国人有一致的信仰，让大家在相同的目标下，致力于共同的利益，所以统一思想是有其必要的……因此我们平心而论，董仲舒统一思想，尊崇儒术的呼吁，其功当多于过”。董仲舒倡导的儒家思想，其核心“功劳”在于（ ）。
- A. 刺激了古代哲学的进步
B. 促进了古代教育的发展
C. 使儒家思想得以发展完善
D. 为中央集权政治的巩固提供了依据
14. 火柴是根据物体摩擦生热的原理。利用强氧化剂和还原剂的化学活性，制造出的一种能摩擦生火的取火工具，火柴盒两侧的砂纸含有能在低温下燃烧的（ ）。
- A. 砷的化合物
B. 硫的化合物
C. 红磷的化合物
D. 钙的化合物
15. 人的体能并不是固定不变的，可随性别、年龄、昼夜运动和情绪的变化等因素而有所波动。对此，下列说法不正确的是
- A. 正常人体口腔温度又称口温为 36.3°C 至 37.2°C
B. 男性体温一般较女子高 0.15°C 左右
C. 儿童代谢率高，体温可略高于成人
D. 老年人由于代谢率低，故体温偏低

16. 孕期营养对胎儿发育有十分重要的影响，孕妇尤其要注意合理饮食，以保证营养摄入量在正常的范围内，有关孕期饮食，下列说法不正确的是（ ）。
- A. 主食的选择以粗粮为宜，如谷物类、杂豆类
 - B. 蔬菜应首选含有丰富叶酸的绿叶蔬菜
 - C. 肉类的选择以鱼虾为主，其次是去皮的鸡鸭肉
 - D. 水果中含有丰富的维生素，摄入量越多越好
17. 我们在生活中发现食用面条后不久就会觉得饿，而食用大米后不容易饥饿，有关此现象，下列说法不正确的是（ ）。
- A. 面条中的碳水化合物比米饭中含量多
 - B. 碳水化合物的胃排空时间最短，蛋白质次之，脂肪类的胃排空时间最长
 - C. 发酵后的面食更容易消化
 - D. 面条的蛋白质含量高于碳水化合物
18. 随着全球一体化的发展，卫星导航系统在航空、汽车、导航、通信、测绘、娱乐等各个领域均有应用，目前全球有四大卫星定位系统，除了美国全球定位系统，俄罗斯格洛纳斯卫星导航系统和欧盟伽利略卫星导航系统外，还有中国的（ ）。
- A. 东方红卫星导航系统
 - B. 神州卫星导航系统
 - C. 北斗卫星导航系统
 - D. 长征卫星导航系统
19. 我国航天事业创造了以“两弹一星”、载人航天、月球探测为代表的辉煌成就，走出了一条自力更生、自主创新的发展道路，积淀了深厚博大的航天精神，下列主要用于我国探月工程的是（ ）。
- A. 高分系列
 - B. 风云系列
 - C. 东方红系列
 - D. 嫦娥系列
20. 科技工作者已经可以将蕴藏在海底的“冰块”点燃成熊熊燃烧的火焰，让“冰火交融”从梦想变成现实，蕴藏在海底的“冰块”是指（ ）。
- A. 冰水混合物
 - B. 干冰
 - C. 天然气水合物
 - D. 石油

第二部分 言语理解与表达

本部分包括表达与理解两方面的内容。请根据题目要求，在四个选项中选出一个最恰当的答案。

请开始答题：

21. 做文化，最怕没耐心、缺耐性，老是想一蹴而就，总是琢磨怎么能_____。过去为了见成效，还刻意组织观众、让大企业包场，看起来很繁荣，但很难持久。资金和政策的扶助与倾斜，需要耐心，不可能今年一出台，明年就来了政绩。
填入划横线部分最恰当的一项是（ ）。
- A. 水到渠成
B. 顺理成章
C. 立竿见影
D. 瓜熟蒂落
22. 电子支付其实是弱人工智能的体现，在互联网的支撑下，手机银行正_____，每个银行只要有一款通用软件，就可以让手机使用者无需现金完成日常的所有消费和交易。
填入划横线部分最恰当的一项是（ ）。
- A. 炙手可热
B. 声名鹊起
C. 应运而生
D. 大行其道
23. 任何行业，没有真正培养出内生动力，热闹只能是_____。从童书出版来看，在市场培育初期，以版权引进为抓手的选择无可厚非；若长时间依赖于此，难免后继乏力。如果没有本土创作人、插画师、出版人合力增强原创能力，童书市场将难以形成内力的_____，也难说抓住这一轮童书市场爆发的机遇，真正帮助中国童书实现跨越式发展。
依次填入划横线部分最恰当的一项是（ ）。
- A. 掩耳盗铃 积储
B. 昙花一现 积蓄
C. 弹指一挥 积累
D. 空中楼阁 积攒
24. 在文学创作过程中，一旦文学创作较多地关注政治，服务王权、_____帝德，符瑞文化潜在的颂扬功能便会被激起。久成惯例，_____。因此，一旦颂声兴起，符瑞文化与文学契合的历史情境重复显现，符瑞文化必然会现身于中国文学的殿堂。这是符瑞文化与文学关联一个不可忽略的重要方面。
依次填入划横线部分最恰当的一项是（ ）。
- A. 吹捧 耳濡目染
B. 追随 比比皆是
C. 歌颂 屡见不鲜
D. 煽动 不足为奇
25. 关于读书，有一幅漫画被很多人转发：站在不同高度的书籍上，人们看到的风景各异；从低处的_____到高处的霞光万丈，阅读的厚度，决定了人生格局与眼界心胸。如果把人类文明比做一座山峰，那么雄踞高山之巅的，就是历经世代淘洗而_____出的经典文本。
依次填入划横线部分最恰当的一项是（ ）。
- A. 管中窥豹 转化
B. 一叶障目 筛选
C. 一览无余 挑选
D. 一目了然 遴选
26. 虽然奴隶制时代早已过去，但在当今社会，各种形式的奴役依然存在。登录CNN“自由行动”主页，能看到各种各样的现代奴役形式。数千万不幸者的命运_____于网页之上，可谓_____。
依次填入划横线部分最恰当的一项是（ ）。
- A. 展示 耸人听闻
B. 分布 心惊胆战
C. 罗列 动心骇目
D. 浓缩 触目惊心

27. 培养阅读兴趣，是一个_____的漫长过程。同时不能否认的是，一个国家的精神境界，取决于这个国家全民的阅读水平。国家经济的进一步发展，无疑需要文化促进。阅读水平高，精神境界会在自我教育中不断提高，全民文化素养就会相应地_____。
- 依次填入划横线部分最恰当的一项是（ ）。
- A. 潜移默化 一呼百应
B. 曲折离奇 情随事迁
C. 纷繁芜杂 水到渠成
D. 润物无声 水涨船高
28. 饮茶如读书。今日虽有活字排版，洁白书页可读，然古籍善本的魅力并不因此_____，而是愈显_____。倒也不是厚古薄今，只是旧书古茶，时光静好，在卷轴与茶席之间，自有其“味外之味”也。
- 依次填入划横线部分最恰当的一项是（ ）。
- A. 消失 稀有
B. 衰落 珍惜
C. 消弭 珍贵
D. 萧条 可贵
29. 尽管这些建议书在当时深受人们_____，但已经不愿意再打仗的朝廷却反应冷淡，只是对辛弃疾在建议书中所表现出的实际才干很感兴趣，于是先后把他派到江西、湖北、湖南等地担任转运使、安抚使一类的地方官职，这显然与辛弃疾的理想_____。
- 依次填入划横线部分最恰当的一项是（ ）。
- A. 称赞 大相径庭
B. 称颂 泾渭分明
C. 赞扬 貌合神离
D. 赞颂 天差地别
30. 旁人看来，很难想象夷国是如何一次次接受战争的蹂躏，以及由此带来的心理创伤，但隐忍之下，夷国还是等来了_____的那天。若干年后，这个行事低调、_____的夷国依然存在，而那个整天打打杀杀、周旋于齐鲁之间的纪国却成了齐国领土的一部分。
- 依次填入划横线部分最恰当的一项是（ ）。
- A. 柳暗花明 洁身自爱
B. 绝处逢生 独善其身
C. 物极必反 急流勇退
D. 否极泰来 明哲保身
31. 创作者只有真正将自己的心灵融入乡村，_____俗套化的视觉样式，充分挖掘从自我主体出发的视觉体验，才能捕捉生活的质感，挖掘生命的能量，_____时代的脉搏，发现对劳动对乡村的感情，产生出更多有温度、有深度，贴近生活、贴近实际的影像精品。
- 依次填入划横线部分最恰当的一项是（ ）。
- A. 突破 触碰
B. 逃离 把握
C. 超越 靠近
D. 完善 连接
32. “星”闻报道应当有价值坚守、价值担当，追什么“星”、推出什么“星”闻，媒体责任重大。不能为_____受众而“失向”，不能为_____眼球而“失真”，不能为刻意迎合而“失态”，更不能让_____的笑声、无底线的娱乐、无节操的“爆料”淹没我们的生活。
- 依次填入划横线部分最恰当的一项是（ ）。
- A. 满足 博取 欢乐
B. 挽留 抓住 尴尬
C. 取悦 吸引 廉价
D. 收获 夺取 嘈杂
33. 奇葩证明以及它所对应的“公章长征”、“办证难”，是当今社会的一大痛处。说到底，_____的奇葩证明背后，是_____的行政审批。有些审批事项是计划经济时代的产物，早已不合时宜；有些审批事项则是一些部门、一些地方主观设置的_____。时代在进步，制度要更新，过时的证明无须再开；简政放权，没有法律授权的审批事项应该彻底清除。
- 依次填入划横线部分最恰当的一项是（ ）。
- A. 各种各样 无休无止 环节
B. 千变万化 因循守旧 障碍
C. 林林总总 叠床架屋 关卡
D. 形形色色 泾渭分明 壁垒

34. 在出台政策的时候，一定要宣传到位，解读到位，在确保工作人员_____的情况下，_____向百姓传递信号，宣传政策动向，引导事务办理。也只有减少甚至去除中间环节的解读，才能让百姓最为直观、准确地理解各项政策，支持政府各项工作。
依次填入划横线部分最恰当的一项是（ ）。
- A. 如数家珍 客观
B. 了然于胸 直接
C. 清清楚楚 多方
D. 抽丝剥茧 清晰
35. 制度只有与具体实践相结合，不断与时俱进，其所蕴含的力量才能充分_____。制度建设应兼顾必要和_____，做不到的宁可不写，写上的就要管用，保证制度的有效性、可执行性。
依次填入划横线部分最恰当的一项是（ ）。
- A. 释放 可行
B. 启发 效率
C. 迸发 可能
D. 开发 精准
36. 近些年，分享经济凭借互联网优势不仅打破了行业传统，同时也对现行的法律法规提出挑战，例如网约车、共享单车等，这些分享经济模式对法律法规、社会秩序、社会文明等方面提出新挑战。这些新型经济模式出现后，因为相关立法工作滞后，各种乱象丛生。网约车出现后的一段时期内，就因为缺乏有效监管，导致乘客安全事故频发，网约车长期无法获取合法有效身份，徘徊在政策与法律之间。这段文字意在说明（ ）。
- A. 监管混乱阻碍网约车的健康发展
B. 立法滞后导致分享经济问题迭出
C. 分享经济使得相关法律和政策面临新挑战
D. 分享经济新业态需纳入政府重点监管范畴
37. 一个旅游生态处于良性状态的市场是什么样？这就是，无论政府部门、旅游景区还是商家都具有这样的共识：只有真正提升旅游品质，为游客提供良好服务，才能促使旅游市场繁荣发展，让每个人都从中受益。形象地讲，当你到一个陌生地方，当地人会热情为你指路，餐馆会明码标价，商家不会强买强卖……而要做到这些，除了抓好整治工作，更重要的是通过长期坚持，从根本上改变人们的观念。如果还是凭借旅游资源优势，来一个（游客）宰一个，那么今天整治好了，明天可能又会死灰复燃。这段文字意在说明（ ）。
- A. 旅游市场繁荣的根本在于提升旅游品质和服务
B. 建设良性旅游生态需从根本上改变当地公众观念
C. 单凭旅游资源优势无法彻底根治旅游市场的乱象
D. 繁荣发展的旅游市场可实现商家与游客的共赢
38. 在19、20两个世纪中，人类社会经历了两次工业革命，一次物理学革命，两次世界大战。伴随着这些巨变，科学幻想作为一种新生的艺术形式，随着人类科学的发展，也经历了无数的改变。在第二次世界大战的硝烟散尽之后，科幻又一次迎来了高峰，科幻作家们在“冷战”的阴影中继续幻想着未来世界。在他们的心里，在半个多世纪之后的2020年，世界理应更加完美。
文段接下来最有可能讲的是（ ）。
- A. 科幻小说迎来新一轮高峰
B. 2020年的世界是什么样的
C. 人类社会所经历的两次革命
D. 科幻作家为2020年的努力

39. “明清史”、“近代史”和“社会史”这三个人们耳熟能详的概念，并不完全是传统的、甚至本土的概念。在传统史学中，有“明史”，也可以有“清史”，但是不会有“明清史”。将明和清并列到一起，不仅表明他们不是“明朝”和“清朝”、而是“明代”和“清代”的合并概念，既淡化其正统的王朝世系因素，强化其时期的因素，而且表明人们已把明和清视为具有相同特征的一个历史时段，或即共同代表着王朝史的衰落期。

下列说法正确的是（ ）。

- A. “明清史”等概念是现代社会才形成的体系
- B. 在历史研究体系中不可能出现“明清史”的概念
- C. “明清史”的概念即表明人们在淡化其王朝世系因素
- D. 明代和清代是两个具有相同特征的历史时段

40. “西游精神”在哪里?_____。该作品拍摄经年累月，困难的时候只有一台摄像机，但剧组所有人都不畏艰难，认真对待自己的角色。比如饰演“孙悟空”的六小龄童，世家出身，三代人专注演猴戏，“练就七十二变，才能笑对八十一难”，无论是翻筋斗云、撑竹筏出海，还是在黑风山打斗、打死九尾狐等，基本上都不用替身；又如“猪八戒”，早上精神足，钉耙都是扛在肩上，下午的镜头就是拿在手上，傍晚就是在地上拖了；连不发一言的白龙马，都绝少用特效和替身，跟随剧组走遍了中国。

填入划横线部分最恰当的一句是（ ）。

- A. 答案就在团队的精诚合作与克服困难的勇气中
- B. 关键在于对艺术的不懈追求
- C. 这个问题值得当今的每一位影视制作人深思
- D. 答案藏在创作态度里

41. ①经典之所以成为经典，因为它是一个时代人类思想的精华
②如何培养国民良好的阅读习惯，不仅事关个人的生活，也事关国家和民族的未来
③首先，对读者自身而言，改变简单的、被动的阅读模式很重要。仅是阅读还不够，需要思和悟，要让阅读成为一种兴趣、一种内驱力、一种人的本质需要
④真正的阅读应该是形与神、心与思的对话
⑤其次，无论是数字化阅读，还是阅读纸质图书，都可以从经典开始。蜜蜂采蜜，要采花蕊中最精华的部位，读书也同理
⑥阅读不仅可以熏陶我们的心灵，阅读更决定一个民族的精神境界

将以上6个句子重新排列，语序正确的是（ ）。

- A. ①②⑥③⑤④
- B. ⑥②④③⑤①
- C. ①⑥④②③⑤
- D. ⑥④③⑤①②

42. ①“中年危机”是一个模糊的概念
②特别是对许多妈宝们来说，心理上还没从父母那里断乳，一下子就“中年”了，似乎一生的责任压力都可以就这样烟消云散了
③女性的中年危机一般是指更年期，随着雌性激素的分泌减少而导致身心的一系列症状
④至于男性的“中年危机”甚至可以被认为是一个伪概念，心理学研究已经发现并证实，男性的“中年危机”往往是伴随着太太进入更年期后出现
⑤那些娶了年轻太太的中年男人反而不太能观察到“中年危机”
⑥在我看来，80后、90后的年轻人唏嘘于“中年将至”，不过是面对压力的一种退缩方式

将以上6个句子重新排列，语序正确的是（ ）。

- A. ①③④⑤⑥②
- B. ①③⑥④②⑤
- C. ③④⑤①⑥②
- D. ③①④⑥②⑤

47. 自“新农村”建设开展以来，特别是全面实现小康战略、精准扶贫等措施启动后，我国农村积贫的状况已大为改观。但在城镇化的大背景下，农村特别是中西部地区农村，“空心化”现象依然普遍，留守下来的“一老一小”的生存状况堪忧。留守儿童的辍学问题已被社会所熟知，此前有东部城市的“童工”问题就是冰山一角，而很多留守老人的生活也令人“心酸”。在农村，许多老人本该颐养天年，却不得不“身履险地”，得自理日常起居，乃至要上山砍柴、下地干活，有的即令是到了耄耋之年亦须终日劳作。乡村，要留得住“乡愁”，首先就是让留守的人留得安心，最关键的就是要提供好农村的基本公共服务。加大美丽乡村建设的公共财政投入，确保让留守人员享受基本公共服务、基本社会保障资金足额到位，应跟明确的绩效评估挂钩。

适合做该段文字标题的是（ ）。

- A. 如何才能留住“乡愁”
- B. 留得安心，留得放心
- C. 农村“空心化”现象普遍
- D. 做好农村基本公共服务

48. 我们党历来重视创新发展问题，尤其是十八大以来，多次强调创新驱动是事关“两个一百年”奋斗目标、实现中华民族伟大复兴中国梦的重大战略，郑重提出了创新发展的一系列重大理论和实践问题。我们国家的创新氛围和创新实践出现了令人鼓舞的新气象，尤其在高铁、航天等领域内取得重大突破，达到世界先进水平，引起了全球关注。当然，我们也要清醒地看到，我国离创新型国家的建设目标还有很长一段路要走。无论是创新氛围、创新能力，还是创新路径上都存在着很多突出问题。创新思维尚未能成为全民族的思想基因。中华民族有过辉煌的创新历史，但近代社会以来，我们的创新能力和创新实践逐渐落后于他国，其中一个突出问题是，创新意识没有变成全民族最为活跃的思维，相反习惯于驾轻就熟的传统，习惯于按部就班的做法。思想的惰性，需要引起高度重视。

这段文字意在强调（ ）。

- A. 应警惕思维惰性，大力推进全民创新
- B. 创新是中国历来十分重视的全民问题
- C. 创新领域存在问题，创新思维尚未形成
- D. 当前创新氛围良好，但应时刻居安思危

49. “正常情况下，我们买的东西都是自己需要或喜欢的，特别对于年轻人来说，大家偶尔冲动消费一两次无需过度紧张。但如果你经常在购物时不考虑物体本身的实用价值，而是完全出于一种要占有它的快乐，不买就十分难熬，那么你可能已经进入病理性状态。”北京大学精神卫生研究所（第六医院）睡眠医学科副主任医师张卫华介绍，焦虑症、强迫症和躁狂症患者都有可能出现疯狂购物、不计后果消费的行为。

下列说法与原文相符的是（ ）

- A. 冲动消费的情况在年轻人群体中发生的概率相对较低
- B. 应在购物时多考虑物品本身的价值才能避免购物成瘾
- C. 焦虑症患者、强迫症患者有出现疯狂消费行为的可能
- D. 人们喜欢购物是因为购物能给人带来一种占有的快乐

50. 法治与德治，是人类社会进行自我管理和规制的一对经典关系，也是一道贯穿古今的国家治理难题。“徒善不足以为政，徒法不能以自行”。法治和德治既相互区别又相互联系，两者不可分离、不可偏废。_____。实现国家治理的现代化必须依靠法治与德治协同发力、共同铸成。

填入划横线部分恰当的一项是（ ）。

- A. 因此应在全社会大力推行依法治国和以德治国这两大理念
- B. 法律的实施有赖于道德支持，道德的践行离不开法律约束
- C. 道德可以促进法律更好的发展和实施，是法律的精神基础
- D. 应深入研究法治与德治的关系，以寻求更好的治国理念

51. 中国经济近年来一直在高呼向服务业转型，快递这个产业既包含了最初级的劳动密集型特点，同时又在智能物流方面具有很高的科技含量，很多快递公司甚至已经开始向人工智能、大数据、机器人和无人机等高端领域转型。在中国经济苦寻转型之路的过程中，快递业可以算是做出了一个极佳的样本。快递业对中国经济的贡献，还体现在支撑了网络购物的快速发展，使得中国迅速成为全球第一网购大国。2014年，中国的在线零售额就已经超越美国成为全球第一，如果没有快递业的支撑，我国的网络购物也不可能如此高速增长。能够在电子商务这样的新型业态上抢占全球第一的位置，对于中国这样的发展中国家而言也算极为罕见。

这段话主要强调的是（ ）。

- A. 快递业的迅速发展推动了我国网络购物的高速增长
- B. 我国作为全球第一网购大国网络销售额持续攀升
- C. 在向服务业转型的过程中应积极培养高端产业
- D. 快递业顺应了经济转型趋势并推动我国经济发展

52. 随着中国农村转移劳动力的减速，特别是老龄化社会的到来，中国人口红利正成为过去。以劳动力密集型的制造业为核心的经济动力正在减弱，新常态下的中国经济转型使命日益迫切。“一带一路”为中国的发展提供了新空间：沿线不少国家正在加速工业化进程，将他们纳入中国的生产体系将有助于延续“中国制造”的生命力；其市场亦能拉动中国国内已经满溢的产能实现创新升级。对于积累了大量优势产能又亟需实现转型升级的中国来说，加速走出去是寻求自身发展机遇的自然结果。

文段表达的主要意思是（ ）。

- A. 人口红利成为过去正迫切要求中国经济转型
- B. 中国要以“一带一路”为契机实现经济转型
- C. 加速走出去是实现我国经济转型的关键一环
- D. 新常态下实践“一带一路”政策是唯一选择

53. “刷脸登录”就是通过人脸识别系统登录，这种发轫于20世纪60年代，应用于20世纪90年代，并在今天广泛渗透进人们生活的个体识别技术已经遭遇危机。其中最大的危机就是不安全，这对于趋向于完全依赖技术的人来说，不啻再一次敲响了警钟，也是对人脸识别系统简便安全有效的“打脸”。现在的问题是，暂缓全面使用人脸识别技术，还是与其他个体识别技术共同使用，这不仅是留给安保领域、金融系统等部门的一个现实难题，也是全社会面临的难题。

下列说法与原文相符的是（ ）。

- A. 个体识别技术当下遭遇安全危机
- B. “刷脸登录”技术的使用陷入两难
- C. 应建议暂缓使用人脸识别技术
- D. 人脸识别技术兴盛于上世纪60年代

54. 硝酸盐是有氧环境中稳定的含氮化合物形式，也是含氮有机物经无机化作用分解的最终产物。含有大量硝酸盐的饮水经人食用后，在人体内可被还原为亚硝酸盐使人中毒，或是产生致癌、致畸、致突变的物质。研究人员整合分析了全国52个盆地尺度地下水系统的深层、浅层地下水硝酸盐调查数据，全面进行了地下水硝酸盐污染程度评价。结果显示，滨海地区特别是滨海岩溶地区地下水中硝酸盐污染程度远高于内陆地区。氮同位素污染示踪表明，除了农业施肥外，土壤中氮素和生活废水排放也是影响地下水中硝酸盐分布的重要因素。

下列说法与原文相符的是（ ）。

- A. 硝酸盐可以产生微量致癌、致畸、致突变的物质
- B. 农业施肥是导致地下水中硝酸盐增加的主要原因
- C. 硝酸盐是含氮有机物经过有机化分解的最终产物
- D. 内陆地区地下水硝酸盐污染程度远低于滨海地区

55. 人是需要有点精神的，中国人自古就很讲究修齐治平，只有修炼出内在道德品质，才能把握人生的方向和发展。在孟子看来，这种精神就是一股气，一种“浩然之气”。他说：“夫志，气之帅也；气，体之充也。夫志至焉，气次焉。故曰：‘持其志，无暴其气’。”这个志向，就是“富贵不能淫，贫贱不能移，威武不能屈”的大丈夫气节。曾国藩曾经评价说：“思夫人皆为名所驱，为利所驱，而尤为势所驱。当孟子之时，苏秦、张仪、公孙衍辈，有排山倒海、飞沙走石之势，而孟子能不为所摇，真豪杰之士，足以振厉百世者矣。”

文段中提到孟子等人的思想是为了说明（ ）。

- A. 人要重视精神境界尤其是浩然之气的修炼 B. 生而为人应有不屈不挠、永不言败的气节
C. 孟子的儒家文化在中国文化中起重要作用 D. 道德品质的培养是追求人生理想中的关键

第三部分 数量关系

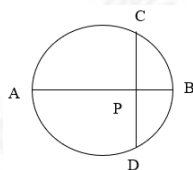
在这部分试题中，每道题呈现一段表述数字关系的文字，要求你迅速、准确地计算出答案。

请开始答题：

56. 一批零件平均分给甲乙两名工人加工，甲加工完需要40小时，如果甲效率提高 $\frac{1}{3}$ ，两名工人同时开始加工，用时45小时同时结束，期间甲帮乙加工了一段时间，那么如果甲不帮乙加工，乙加工完自己的任务需要（ ）小时。

A. 70
B. 80
C. 90
D. 100

57. 下图是一个圆形广场，AB和CD均为广场内道路，其中AB为直径，且两条道路垂直于P点，已知小张匀速从B点走到P点需要耗时30秒，如果AP长度是BP的4倍，那么他以相同的速度从P点走到C点需要（ ）秒时间。



A. 80
B. 60
C. 50
D. 45

58. 6个人围着一张圆桌就餐，其中有两对情侣，如果安排就座时每个人均随机入座，则恰好只有一对情侣相邻就餐的概率为（ ）。

A. 20%
B. 40%
C. 25%
D. 30%

59. 甲、乙、丙三个公司召开联欢晚会，甲公司有4个节目，乙、丙公司分别有3个和2个节目，已知晚会表演要以乙公司节目开场并以丙公司节目结束，且每个公司的节目不能相邻，那么满足要求的节目表演顺序共有多少种？（ ）

A. 530
B. 635
C. 725
D. 864

60. A、B两地相距100千米，甲、乙两辆大巴车往返于A、B两地，某个时刻甲、乙两车分别从A、B两地同时出发相向而行，已知甲车速度为45千米/小时，乙车速度为55千米/小时，两车相遇后，乙车降速 $\frac{2}{11}$ 继续前行，到达目的地后两车立即返回，那么两车从出发到第二次相遇所用的时间大约为乙车从B地行驶到A地所用时间的（ ）倍。

A. 1.2
B. 1.6
C. 2
D. 2.5

61. 某粮店以3元/斤价格购进500公斤大米，并装成10斤一袋出售，原计划每袋售价为36元，卖了一部分后降价促销，剩余的大米以每袋34元全部售出，最后统计发现，所得利润率比原计划少了2个百分点，那么降价销售的大米有（ ）公斤。

A. 300
B. 200
C. 150
D. 100

62. 甲、乙、丙、丁4人共加工30个零件，按照加工数量多少的顺序分别是甲、乙、丙、丁。已知甲的加工量是乙和丙的加工量之和；乙的加工量是丙和丁的加工量之和。那么甲加工的零件个数为？（ ）

A. 14
B. 13
C. 11
D. 12

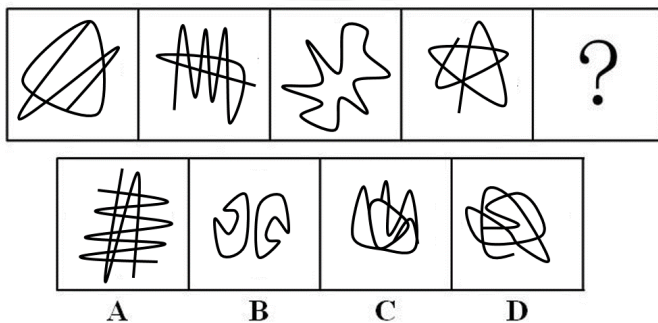
63. 某班共有50名学生做化学实验，所有学生按照三人一组或两人一组分组，已知两人组的组数比三人组的组数多了5组，那么全班共分了（ ）组。
- A. 21
B. 22
C. 23
D. 24
64. 某幼儿园老师给幼儿园孩子买了A、B、C三种漫画书若干本，已知每本书的价格为10元，每个孩子可以选择其中的一种或多种漫画，但每种漫画书只能选一本，有5个孩子选择了3本漫画书，选择两本漫画书的孩子是选择三本的孩子3倍，最后这批漫画书正好分完，如果这批书共花费了500元钱，那么只选择一本漫画书的孩子占比为（ ）。
- A. 10%
B. 15%
C. 20%
D. 25%
65. 有浓度为15%的A溶液600克，若干克浓度为20%的B溶液，现在各取出一半混合后能得到浓度为17%的溶液，那么将剩下的溶液混合在一起，又加了一部分水，结果浓度变成了10%，问加了（ ）克水。
- A. 350
B. 370
C. 400
D. 420
66. 一群小朋友围成一圈玩游戏，开始每隔1米站一个人，后来为了让更多的小朋友参与进来，在圆圈周长不变的前提下将间隔缩小到0.8米，这时发现原先的小朋友中有10个人没有移动位置，那么新加入的小朋友的人数为（ ）人。
- A. 20
B. 15
C. 13
D. 10
67. 甲的年龄比乙大12岁，5年前甲的年龄是乙的2倍，9年前甲的年龄是丙的5倍，那么几年后三人的年龄之和恰好为丙的年龄的4倍？（ ）
- A. 5
B. 7
C. 3
D. 9
68. 某单位有A、B、C、D、E、F六名员工在工作日轮流值夜班（周一到周五），每人值班一天，已知某个周一A第一次值夜班，那么C第十次值夜班是（ ）。
- A. 周二
B. 周三
C. 周四
D. 周五
69. 某车间主任将275个A零件，195个B零件和110个C零件分别尽可能多地均分给车间员工加工，分完后剩下的三种零件个数之比恰好为1:3:4，那么该车间员工人数可能是（ ）人。
- A. 10
B. 20
C. 25
D. 30
70. 箱子里面装有不同颜色的同类型手套各若干双（不分左右手），如果最多摸出37只手套时，就一定能保证出现相同颜色的手套至少5双，那么箱子中所装的手套颜色有（ ）种。
- A. 4
B. 3
C. 6
D. 5

第四部分 判断推理

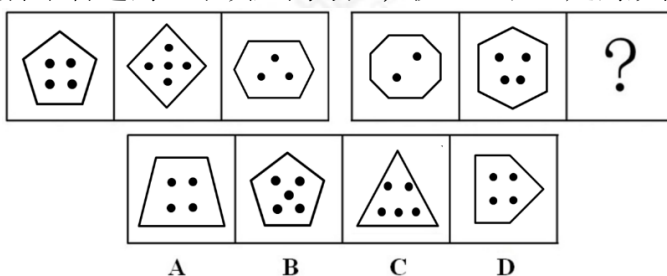
一、图形推理。请按每道题的答题要求作答。

请开始答题：

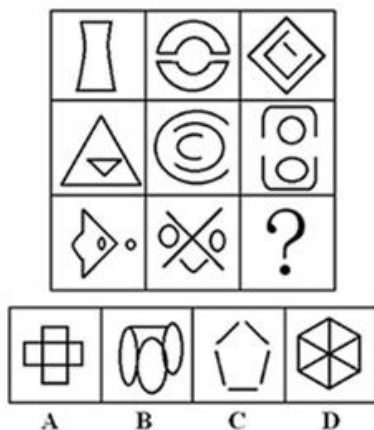
71. 从所给的四个选项中，选择最合适的一个填入问号处，使之呈现一定的规律性（ ）。



72. 从所给的四个选项中，选择最合适的一个填入问号处，使之呈现一定的规律性（ ）。



73. 从所给的四个选项中，选择最合适的一个填入问号处，使之呈现一定的规律性（ ）。



74. 把下面的六个图形分为两类，使每一类图形都有各自的共同特征或规律，分类正确的一项是（ ）。



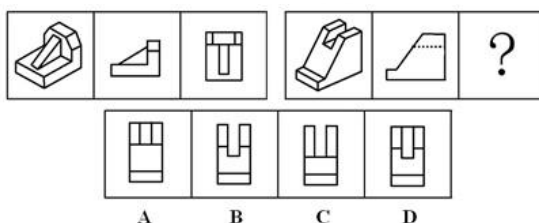
A. ①②④, ③⑤⑥

B. ①③⑤, ②④⑥

C. ①②⑤, ③④⑥

D. ①④⑤, ②③⑥

75. 从所给的四个选项中，选择最合适的一个填入问号处，使之呈现一定的规律性（ ）。



二、定义判断。每道题先给出定义，然后列出四种情况，要求你严格依据定义，从中选出一个最符合或最不符合该定义的答案。注意：假设这个定义是正确的，不容置疑的。

请开始答题：

76. 二八法则是指一个事物20%的特性决定了事物80%的重要性，起关键作用的往往是少数，少数决定多数，因此应该把80%的时间花在20%的事情上。
根据上述定义，下列事例中符合“二八法则”的是（ ）。
- A. 某书店图书种类繁多，虽然单类书销量都不高，但销售总额十分可观
 - B. 某小吃摊只有20%的食物受到年轻人欢迎，但摊主依然没有减少小吃种类
 - C. 某报业公司的大部分盈利都来自于仅占极少数版面的娱乐新闻
 - D. 某国议会以60%的赞成票通过了弹劾总统的法案
77. 紧急避险是指为了使国家、公共利益、本人或者他人的人身、财产和其他权利免受正在发生的危险，不得已采取的损害另一较小合法权益的行为。此外，刑法规定，为了避免本人危险而采取紧急避险的行为，不能适用于职务上、业务上负有特定责任的人。
根据以上定义，以下属于紧急避险的是（ ）。
- A. 小李下班回家途中遇到歹徒正在抢一名女子的手提包，立即出手制服歹徒
 - B. 小王开车时刹车突然失灵，为避免撞上前方的油罐车，只好撞向路旁绿化带
 - C. 小刘为验证驯养的狗是否服从命令，令狗撕咬路人，路人顺手抄起砖块把狗砸伤
 - D. 轮船触及暗礁，船长第一时间发现并迅速乘救生艇逃生，造成其余船员无一生还
78. 外来物种入侵是指生物物种由原产地通过自然或人为途径迁移到新的生态环境的过程。包含两层意思：（1）物种必须是外来、非本土的；（2）该外来物种能在当地的自然或人工生态系统中定居、自行繁殖和扩散。入侵的外来物种可能会破坏景观的自然性和完整性，摧毁生态系统，危害动植物多样性，影响遗传多样性。
根据上述定义，下列哪项不是外来物种入侵（ ）。
- A. 某国蛇种类繁多，当地人又喜欢把蛇当作宠物饲养，中国人刘海抓住商机，承包山林进行宠物蛇养殖，造成当地老鼠几乎绝迹
 - B. 凤眼莲在19世纪30年代作为观赏类植物引入中国内地各省推广种植，由于繁殖迅速，又几乎没有竞争对手和天敌，对发电航运和生态环保构成极大压力
 - C. 名为“清道夫”的鱼原产于亚马逊河流域，在湛江赤坎水库已经泛滥成灾，水库内目前生活着超过10万斤清道夫鱼，不仅破坏了生态平衡，还严重威胁水库坝体安全
 - D. 法国传教士曾将欧洲的荆豆引种到四川城口教堂附近，作为围篱栽培，现已侵入山坡灌丛、草地，对当地生态系统景观产生不良影响
79. 来料加工贸易是指外商提供全部原材料、辅料、零部件、元器件、配套件和包装物料，必要时提供设备，由承接方加工单位按外商的要求进行加工装配，成品交外商销售，承接方收取工缴费的业务。进料加工是指国内有外贸经营权的单位用外汇购买进口部分或全部原料、材料、辅料、元器件、配套件和包装物料加工成品或半成品后再返销出口国外市场的业务。
根据上述定义，以下哪项是来料加工贸易？（ ）
- A. 某沿海企业使用外商提供的零部件和设备，按照要求进行加工，产品全部由该企业销往内陆省份
 - B. 外商提供全部材料和资金，某内陆企业只需提供劳动力按照外商要求进行加工，生产的产品交还外商
 - C. 国外某公司在我国投资建设电子产品生产厂，零部件由该厂进口，产品全部销往国外
 - D. 某企业是知名国产手机品牌的代工厂，原材料、零部件和设备由品牌商提供，企业只收取加工费用

80. 挪用资金罪是指公司、企业或者其他单位的工作人员（不含具有国家工作人员身份的人）利用职务上的便利，挪用本单位资金归个人使用或者借贷给他人，数额较大、超过3个月未还的，或者虽未超过3个月，但数额较大、进行营利活动的，或者进行非法活动的行为。
根据以上定义，下列属于挪用资金罪的是（ ）。
- A. 某大学校长江某任职期间挪用公款60万元用于炒股，进行营利活动
 - B. 某镇党委副书记徐某以虚开或多开计生宣传费用票据的方式贪污公款2.65万元
 - C. 某公司董事长李某挪用公司资金1万元借给朋友，两个月后朋友将所借资金归还于公司
 - D. 某工厂会计刘某从公司账目上支取5000块钱用于购买毒品，一周后归还于公司
81. 社会心理学家曾对此做过一个试验：在召集会议时先让人们自由选择位子，之后到室外休息片刻再进入室内入座，如此五至六次，发现大多数人都选择了他们第一次坐过的位子。在社会心理学中，人们把一个人自己选定的角色位置不因其他因素而发生太大变化的现象，称之为定位效应。
根据以上定义，以下属于定位效应的是（ ）。
- A. 小刘想从事服装设计，择业时一味追寻与预期匹配的岗位，错失了其他机会
 - B. 市场经济下，企业要想长远发展，必须与时俱进，准确定位市场需求
 - C. 做数学题时，头脑灵活的学生往往想要用多种不同的解题方法来解题
 - D. 大学课堂上，开学时选择坐最前排和最后排的同学，在学期末会发生变化
82. 错觉是一种被歪曲了的知觉，指人在特定的条件下对客观事物的不正确感知，把实际存在的事物扭曲地感知为与实际事物完全不相符的事物。
根据上述定义，以下不属于错觉的是（ ）。
- A. 感觉一公斤铁要比一公斤棉花沉
 - B. 愉快时觉得时间过得飞快，烦闷时度日如年
 - C. 在海上漂泊一段时间的人看到海市蜃楼
 - D. 为肥胖的人推荐竖条服装，使其显得苗条
83. 斜杠青年是指一群不再满足“专一职业”的生活方式，而选择拥有多重职业和身份的多元生活的人群。数字游民是指无需办公室等固定工作地点，而是利用技术手段，尤其是无线网络技术完成工作的人。
根据上述定义，以下属于斜杠青年的是（ ）。
- A. 张涛是一家科技公司的程序员，休息的时候就变成了笔耕不辍的作家
 - B. 小福是一名淘宝店主，但每逢电商促销时又化身买家从各大网站淘货
 - C. 营养师李乐追求丰富多彩的生活，做一名自由摄影师一直是她的梦想
 - D. 张教授今年终于如愿当上了爸爸，从此又多了一重新的身份
84. 从社会来源和社会后果角度，可将成就动机分为外在动机和内在动机。外在动机是指人为了某些外在结果而从事某项活动的动机，而内在动机则是指由个体的内在需要而引起的动机。
根据上述定义，下列说法正确的是（ ）。
- A. 小钱喜欢奥数，经常参加奥数比赛，每次比赛后都能收到妈妈的礼物，奖品是小钱的内在动机
 - B. 小赵喜欢蹦极带来的刺激感，所以经常参与蹦极活动，喜欢是小赵参加蹦极的内在动机
 - C. 一想到谈成这笔生意就可以升职加薪，小李就干劲十足，升职加薪是小李谈生意的内在动机
 - D. 小孙晨跑时看到草地上有一块名表，趁没人看见将表据为己有，名表是小孙晨跑的外在动机
85. 危机型公关指由于企业的管理不善、同行竞争甚至遭遇恶意破坏或者是外界特殊事件的影响，而给企业或品牌带来危机，企业针对危机所采取的一系列自救行动，包括消除影响、恢复形象等；征询型公关指以采集社会信息为主码，以了解社会舆论为手段，为组织的经营管理决策提供咨询。
根据上述定义，下列属于危机型公关的是（ ）。
- A. 某汽车公司建立在用户名册里定期随机抽选用户聘为用户顾问，征集他们对汽车性能的意见
 - B. 被媒体曝光丑闻后，某明星通过微博向公众说明事情原委并诚恳道歉，事态才没有进一步扩大
 - C. 某航空公司为手提重物的旅客提供垫手的小方布，获得了旅客的一致好评
 - D. 某火锅店被曝光使用地沟油，该店向公众道歉后宣布停业整顿，并承诺公布调查结果

三、类比推理。每道题先给出一组相关的词，要求你在备选答案中找出一组与之在逻辑关系上最为贴近，相似或匹配的词。

请开始答题：

86. 主视图：视图
A. 负数：整数
C. 服饰：汉服
B. 水泥：建筑
D. 摇滚：音乐
87. 一蹴而就：一事无成
A. 扬汤止沸：釜底抽薪
C. 锱铢必较：睚眦必报
B. 白云苍狗：海枯石烂
D. 叶公好龙：两面三刀
88. 起草：文件
A. 登记：结婚
C. 签订：合同
B. 结晶：蜂蜜
D. 批复：被动
89. 风景画：油画
A. 工笔画：写意画
C. 民族舞：舞蹈
B. 神话戏：黄梅戏
D. 甲骨文：金文
90. 方法：学习：好坏
A. 色彩：建筑：高低
C. 策略：比赛：输赢
B. 国籍：国民：贵贱
D. 角度：颜色：黑白
91. 写作：出版：稿酬
A. 教练：比赛：奖金
C. 超速：违章：罚款
B. 中介：签约：交易
D. 狩猎：出售：收入
92. 塑料：陶瓷：树脂
A. 玻璃：精钢：金属
C. 小说：散文：文章
B. 翡翠：铂金：玛瑙
D. 表扬：赞美：褒奖
93. 电动势：伏特：电学
A. 电流强度：库伦：电磁学
C. 频率：赫兹：周期
B. 功：牛顿：力学
D. 发光强度：坎德拉：光学
94. 大豆对于（ ）相当于（ ）对于淀粉
A. 植物；土豆
C. 种子；糖类
B. 水稻；蔗糖
D. 黄豆；果糖
95. 激进对于（ ）相当于（ ）对于繁华
A. 观点；城市
C. 保守；萧条
B. 顺从；荒凉
D. 先进；兴旺

四、逻辑判断。每道题给出一段陈述，这段陈述被假设是正确的，不容置疑的。要求你根据这段陈述，选择一个答案。注意：正确的答案应与所给的陈述相符合，不需要任何附加说明即可以从陈述中直接推出。

请开始答题：

96. 从近几年楼市的成交量来看，整个房地产市场已经明显降温，大家的购房热情也严重下降，炒房者和投资者都在不断的抛售房产，可见房地产市场不容乐观。但仍然有很多开发商在不断盖房子。下列哪项最能解释上述现象？（ ）
- A. 房价趋势和国民经济增长率、居民可支配收入呈正相关
 - B. 许多开发商因为房子盖好后卖不出去导致资金链断裂而破产
 - C. 在融资渠道收窄之后开发商普遍背负着沉重的负债压力
 - D. 面对如今的趋势，开发商应该会放慢自己盖房的速度
97. 研究显示，来自成年颈动脉体的神经干细胞能转化成神经元和血管。这一发现或对儿童肿瘤等疾病的疗法发展产生影响。研究人员为了验证成人颈动脉体干细胞（CBSCs）的可塑性，将人类神经嵴来源的CBSCs导入携带荧光标记的转基因小鼠体内。结果显示，CBSCs除了神经形成中的已知作用外，还能够经历内皮细胞分化，有助于缺氧环境中器官神经和血管的生成。以下哪项如果为真，最能支持上述研究人员的观点？（ ）
- A. 目前尚不知晓人的CBSCs能否在自体之外保持其分化能力
 - B. 研究人员发现，另一种脊髓神经干细胞也具有相类似的功能
 - C. CBSCs转化成血管细胞的过程中对促红细胞生成素非常敏感
 - D. 神经干细胞血管的生成将直接抑制幼儿某些类型肿瘤生长
98. 理想中的母语，既有合理的分层分域，让表达得体而有效，又有着无垠的更新资源，任何语种、任何创造都可以冲击表达的习惯，同时又能拥有强大的自净能力。更重要的是，母语应该包含尽可能自由的表达，以促进自身的多元化。一个生动的词汇或短语出现了，我们高兴，但又知道它使用时的边界，满屏“洪荒之力”这类网络用语委实让人厌烦。能写出新鲜时尚的语句，也能转换典雅或平实的风格。食无定味，适口为佳，美好语言的标准主要有两条：有效、悦耳。由此可以推出的是（ ）。
- A. 新词汇或新短语的使用并不一定受到读者欢迎
 - B. “洪荒之力”等类似词汇的使用，确实让人厌烦
 - C. 母语应该包含尽可能自由的表达，这是最重要的
 - D. 只要是有效、悦耳的语言，就一定是美好的语言
99. 随着越来越多“零排放”汽车走向市场，未来空气中源于汽车尾气的污染将逐渐减少，但科研人员担心另一种污染，那就是汽车刹车时因摩擦而产生的金属微粒在空气中会对身体造成危害。研究发现，车辆在刹车时，因刹车片、轮胎等部位的摩擦，会产生铜、铁和锰等金属微粒，这些金属微粒会与空气中的酸性硫酸盐反应。以下哪项如果为真，最能支持上述科研人员担心的问题？（ ）
- A. 一般的路段空气中没有硫酸盐，而无硫酸盐参与的情况下，金属微粒难以进入机体组织内部
 - B. 汽车刹车不是空气中金属微粒的唯一来源，垃圾焚烧装置等也会产生金属微粒
 - C. 金属微粒与硫酸盐相结合，从而变得可溶，由此形成的微粒在随着呼吸进入人体后危害健康
 - D. 即使“零排放”汽车也会产生噪音，这将作用于人的中枢神经系统，使脑血管张力遭到损害
100. 生活中也不难发现，长寿老人几乎都步履稳健、行走如风。因此，双腿健康可以使活过百岁的可能性大大提高。以下哪项如果为真，能够反驳上述观点？（ ）
- A. 只有双腿健康，经络传导才畅通，气血才能顺利送往各个器官
 - B. 人老后，腿部和大脑间指令的准确性和传导速度都有所下降
 - C. 目前没有证据显示刻意快步走能够增加人的寿命
 - D. 很多运动员即便双腿健康灵活，也会出现英年早逝的现象

101. 某公司近期将选拔优秀员工进行一次免费欧洲游，闲暇时间，甲、乙、丙三人一起讨论起旅游的事情：
- 甲说：“如果我能参与这次欧洲游，那么乙肯定也能参加。”
- 乙说：“今年甲的业绩这么好，一定能被选中，但是我就不行了，肯定去不了。”
- 丙说：“如果我参加这次欧洲游，那么乙应该是没机会去。”
- 事后证明甲、乙、丙三人中只有一个人的推测是正确的。
- 下述说法中正确的是（ ）。
- A. 丙说的是真话，乙不能参加这次欧洲游 B. 甲说的是真话，乙能够参加这次欧洲游
- C. 乙说的是真话，乙不能参加这次欧洲游 D. 丙说的是真话，甲能够参加这次欧洲游
102. 国内外学者通过研究海参中的多糖、皂苷、多肽等活性营养成分发现，这些活性营养成分具有一定的防癌抗癌的功效，其机理包括增强细胞免疫活性、诱导肿瘤凋亡等。因此有专家称，长期食用海参可以治疗癌症。
- 以下哪项为真时，最能削弱上述专家的观点？（ ）
- A. 海参中含有的硫酸软骨素具有很强的抗炎作用，可以帮助缓解关节炎疾病
- B. 一些长期处于负面情绪的人，会以一种慢性的持续性的刺激来降低免疫力，增加癌症风险
- C. 研究中使用的是海参内提取的活性成分，活性成分能抗癌并不代表食用海参就能抗癌
- D. 香菇多糖具有抗癌作用，吃香菇防癌抗癌的性价比远远高于吃海参
103. “世界各国间存在着复杂的利益关系。其中，国家间的共同利益是国家合作的基础。”但是，学生甲并不赞同这句话。
- 那么，下列选项与学生甲的观点最为接近的是（ ）。
- A. 如果国家间需要合作，那么肯定需要具备共同的利益
- B. 国家间进行了合作，但是相互间并没有共同的利益
- C. 只要国家间没有共同的利益，就无法进行相互间的合作
- D. 国家间存在共同的利益，但是国家间不会有合作关系
104. 正常情况下眼睛应该在童年时期某个合适的时间点停止生长发育，如果超过这个时间点后仍过度生长，就会导致光线从瞳孔中进入后不能正确地落在视网膜上成像，从而引发近视。最近某研究团队在视网膜中发现了一种细胞，该细胞能释放促进眼睛生长的特定信号。由于室内光线有较高的红绿对比度，会使该细胞受到刺激释放信号。因此研究人员建议，儿童应多去室外接触不同的光线，有助预防近视。
- 以下哪项如果为真，最能支持上述建议？（ ）
- A. 这种细胞是研究人员通过分析利用微型玻璃电极记录的小鼠视网膜细胞中的电信号得到的
- B. 近视与基因的关联程度非常高，父母都是中高度近视的，孩子8成以上的概率会近视
- C. 其他研究小组实验证实，这种细胞只是瞬间起作用，并不能真正促进眼睛的生长发育
- D. 在室外停留活动的孩子，发生近视的几率仅为室内停留相同活动时间孩子的50%左右

105. 某中学举行古诗词比赛，其中一个考题是：第一句诗为“孤帆远影碧空尽，惟见长江天际流”，第二句诗为“坐观垂钓者，徒有羡鱼情”，第三句诗为“痛饮狂歌空度日，飞扬跋扈为谁雄”。请将这三句诗分别与下列选项中的作者进行对应，选项分别为：A李白、B杜甫、C孟浩然。一位诗人只对应其中一句诗。

有以下三位同学参与回答这道题：

刘浩：我最欣赏杜甫，不管是否正确，第一句诗我都选他；

周群：第三句诗与杜甫的内敛的性格不符，一定不是他写的；

沈海：如果刘浩第三句诗选李白，那么周群第一句诗选杜甫。

上述三个人的话均符合其实际所做选择，并且三个人每句诗所选择的对应作者各不相同。

由此推出沈海的回答依次是（ ）。

- A. 杜甫、孟浩然、李白
B. 李白、杜甫、孟浩然
C. 李白、孟浩然、杜甫
D. 孟浩然、杜甫、李白

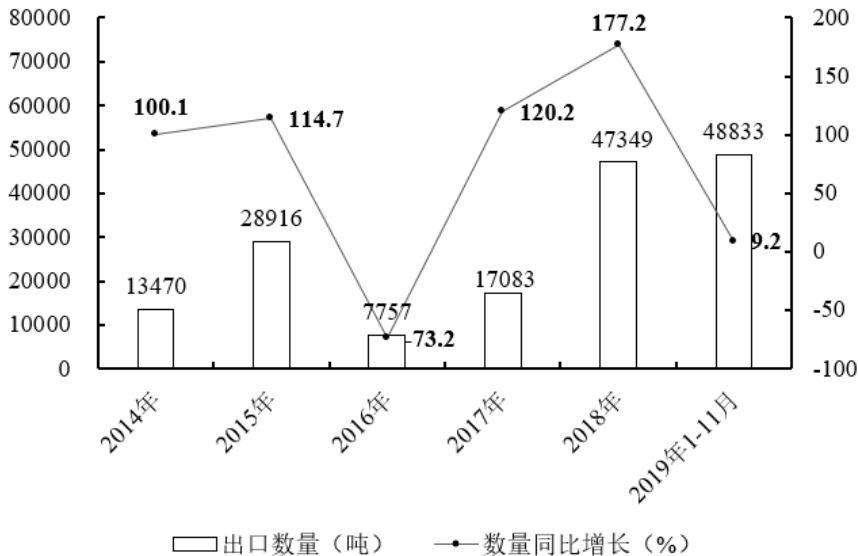
第五部分 资料分析

针对下列图、表或文字回答问题。你应根据资料提供的信息进行分析、比较、计算、处理。你可以在题本上运算。

请开始答题：

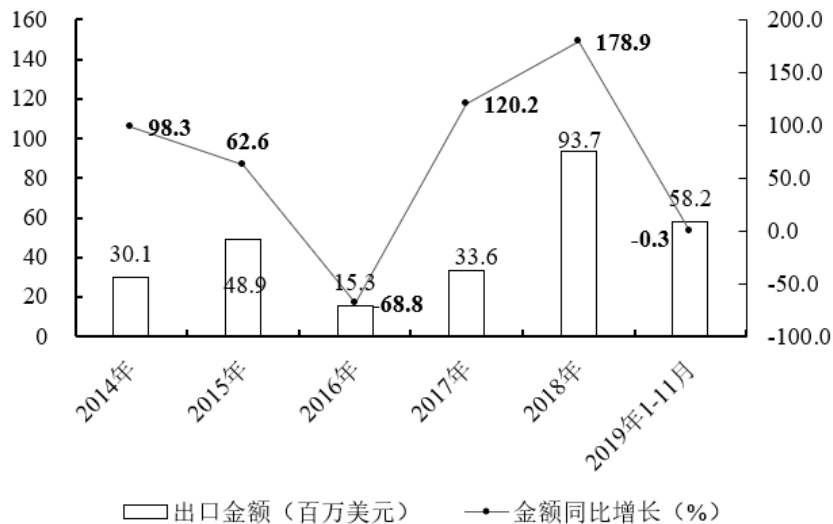
一、根据以下资料，回答问题。

2019年1-11月中国棉花出口量为48833吨，同比增长9.2%。



2014-2019年11月中国棉花出口数量情况

从金额方面来看，2019年1-11月中国棉花出口金额为58.24百万美元，同比下降0.3%。



2014-2019年11月中国棉花出口金额统计情况

106. 2019年1-11月中国棉花出口均价同比约上升了 ()。

- A. -9.5%
- B. 9.5%
- C. -8.7%
- D. 8.7%

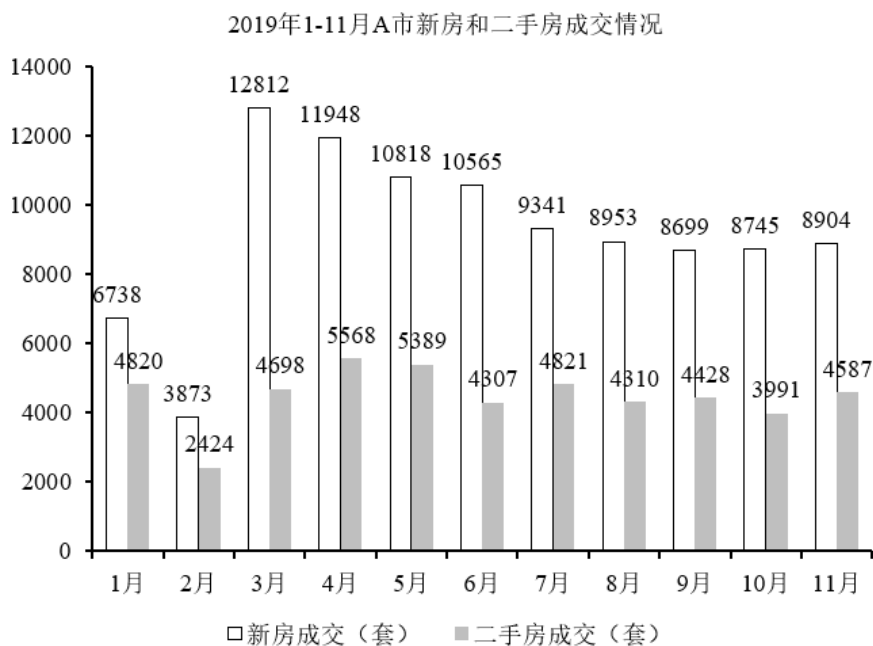
107. 2013年每吨棉花的出口价格大约为 () 美元。

- A. 2235
- B. 2255
- C. 0.198
- D. 0.197

108. 2018年12月我国棉花出口额约为（ ）万美元。
 A. 3530 B. 5840
 C. 35.3 D. 58.4
109. 2015年我国棉花出口量同比增长量大约是上一年的（ ）倍。
 A. 3.9 B. 3.2
 C. 2.8 D. 2.3
110. 以下关于我国棉花出口情况的描述，无法从材料中推出的有（ ）项。
 ①.2014-2019年棉花出口量增速最高年份的增速与增速最低年份的增速相差200个百分点以上
 ②.2015年棉花出口额超过了2013年出口额3倍
 ③.如果2019年全年棉花出口额与上年持平，则2019年12月出口额占全年比重须达到40%以上
 A. 0 B. 1
 C. 2 D. 3

二、根据以下资料，回答问题。

2019年11月A市新房成交8904套，环比增长1.8%，同比减少55.1%。二手房成交4587套，环比增长14.9%，同比减少41.8%。



11月，从各区来看，南海区、三水区新房成交均超2000套，顺德区成交1991套，高明区成交1164套，禅城区成交最少仅778套。与上月相比，禅城区、顺德区、高明区成交均有所下跌，其中顺德区成交环比跌幅最大，环比下跌21.4%。与上年同期相比，仅高明区成交有所上涨，涨幅55.2%。禅城区、南海区、顺德区成交同比跌幅超40%。

11月，二手房方面，南海区成交最大达2224套，禅城区、顺德区、三水区成交超500套，高明区成交最少仅343套。与上月相比，除顺德区外，其它行政区成交均有所上涨，涨幅超15%。顺德成交环比下跌16.5%。与上年同期相比，禅城区成交同比上涨12.3%，其他行政区成交均有所下跌，其中，顺德成交跌幅最大达74.1%。

111. 2019年11月A市新房成交量同比减少了（ ）套。
 A. 10927 B. 8920
 C. 3480 D. 2505

112. 2019年1-6月A市新房成交量月均增长了约（ ）套。
 A. 638 B. 765
 C. 812 D. 904
113. 2019年三季度A市二手房成交量环比增长了（ ）。
 A. 11.8 B. 9.2
 C. -9.2% D. -11.2%
114. 2019年11月，A市二手房成交量最大的区与成交量最少的区的成交量占全市总成交量的比重相差（ ）。
 A. 41个百分点 B. 32个百分点
 C. 41% D. 32%
115. 根据所给材料以下描述正确的是（ ）。
 A. 2019年11月A市二手房成交量同比减少了不到3000套
 B. 2019年1-11月A市新房和二手房成交量每个月环比变化趋势相同
 C. 2019年11月A市南海区新房成交量占全市新房成交量比重超过22%
 D. 2019年11月与上月相比，禅城区、顺德区、高明区新房和二手房成交量均有所下跌

三、根据以下资料，回答问题。

2019年1-11月份规模以上工业企业主要财务指标

	营业收入		营业成本		利润总额	
	1-11月 (亿元)	同比增长 (%)	1-11月 (亿元)	同比增 长(%)	1-11月 (亿元)	同比增长 (%)
总计	950007.5	4.4	799947.6	4.6	56100.7	-2.1
其中：采矿业	41696.4	4.4	30201.7	6.5	5174.0	1.0
制造业	838148.9	4.2	708109.4	4.5	46283.4	-4.1
电力、热力、燃气 及水生产和供应业	70162.3	6.8	61636.5	5.4	4643.3	17.7
其中：国有控股企业	261062.9	3.5	213519.2	4.4	16036.6	-11.2
其中：股份制企业	705603.9	5.9	592976.7	6.1	40482.3	-1.6
外商及港澳台商 投资企业	211736.9	-0.3	178063.8	-0.2	14111.2	-3.3
其中：私营企业	311735.5	7.2	269677.4	6.8	15893.3	6.5

116. 2018年1-11月规模以上工业企业营业收入利润率为（ ）。
 A. 5.9% B. 6.3%
 C. 7.4% D. 8.1%
117. 根据材料判断以下选项2019年1-11月同比增长量最大的为（ ）。
 A. 股份制企业营业收入 B. 股份制企业营业成本
 C. 私营企业营业收入 D. 私营企业营业成本
118. 如果保持2019年1-11月规模以上工业企业营业成本同比增速不变，那么两年后规模以上工业企业营业成本将达到（ ）万亿元。
 A. 87.5 B. 83.7
 C. 875000 D. 837000

119. 2019年1-11月,采矿业营业利润率大约同比()。
- A. 增加了3.4个百分点
B. 增加了0.4个百分点
C. 下降了3.4个百分点
D. 下降了0.4个百分点
120. 根据所给材料以下描述正确的是()。
- A. 2019年1-11月,表格中所涉及到的三个行业,其营业利润率同比上升的有2个
B. 2018年1-11月,电力、热力、燃气及水生产和供应业营业收入小于营业成本
C. 2019年1-11月,表格中所涉及到的各类型企业,其营业利润率均同比下降
D. 2019年1-11月,制造业每元成本所创造的利润大约同比上升了9%

四、根据以下资料,回答问题。

在2016年之前,中国白酒产量呈稳定增长趋势,由2015年的1312.8万千升增长至2016年1358.4万千升。2017年-2018年中国白酒产量连续2年下降,由2017年的1198.1万千升下降到2018年的871.2万千升。2019年1-10月白酒累计产量635.1万千升,同比增长1.4%。2019年全国白酒产量将维持在880万千升左右。

2015年白酒行业规模以上企业1563家,2018年规模以上白酒企业数量为1445家。2019年1-4月,规模以上企业进一步减少到1176家,与2018同期相比减少了274家。预计2019年全年规模以上白酒企业将减少至1098家。

近几年,白酒企业营收小幅波动,基本维持在5000亿元。2018年规模以上白酒企业完成销售收入5363.83亿元,同比增长12.88%。2019年1-10月,规模以上白酒企业销售收入4548.63亿元,同比增长10.45%。预计2019年全年规模以上白酒企业销售收入5896.54亿元。

近几年,白酒企业利润持续增长。2017年规模以上白酒企业利润突破千亿,2018年规模以上白酒企业实现利润总额1250.50亿元,同比增长29.98%。2019年1-10月,规模以上白酒企业实现利润总额1122.20亿元,同比增长19.34%;预计2019年全年规模以上白酒企业利润总额有望突破1500亿元。

随着国民收入的不断提高,生活品位也发生相应的提升,对进口白酒的需求量逐步扩大。据海关数据显示,2018年,我国白酒行业进口量为297万升,同比增长22.73%;同期,进口金额达1.02亿美元,同比增长45.71%。2019年1-10月白酒进口数量为294.1万升,同比增长28.7%;进口金额为1.04亿美元,同比增长48.6%;预计2019年白酒进口量382万升,金额1.46亿美元。

根据数据显示,2018年我国白酒出口量为1721万升,同比小幅增长3.86%,占国内白酒产量的比重的0.19%。从出口金额来看,2018年,白酒出口金额约为6.55亿美元,同比增长39.36%,但与国内白酒销售规模相比仍相差巨大。2019年1-10月白酒出口数量为1323.5万升,同比下降4.5%。出口金额为5.24亿美元,同比增长2.6%。2019年全年白酒出口数量1643万升,出口金额6.74亿美元。

121. 根据预测数据,2019年最后两个月白酒产量同比增长率大约为()。
- A. 8%
B. 1%
C. 1.5%
D. 1%
122. 2018年1-4月白酒行业规模以上企业数量是全年数量的()。
- A. 1倍
B. 0.8倍
C. 1.4倍
D. 2倍
123. 根据预测数据,2019年全年规模以上白酒企业销售收入将比两年前增长大约()。
- A. 11.8%
B. 19.8%
C. 20.2%
D. 24.1%
124. 2019年1-10月白酒进口量拉动全年白酒进口量增长了()。
- A. 22个百分点
B. 27个百分点
C. 22%
D. 27%

125. 根据所给材料以下描述正确的是（ ）。

- A. 根据预测数据，2016年以后，中国白酒产量连续下降
- B. 预计2019年规模以上白酒企业数量将比2015年下降将近30%
- C. 2015年开始，我国每年白酒企业收入均维持在5000亿元以上
- D. 2018年我国白酒出口单价比进口单价略小