

第一部分 常识判断

根据题目要求，在四个选项中选出一个最恰当的答案。

请开始答题：

- 截至2015年4月21日，我国由南到北的四大自贸区“连点成线”，勾画出改革开放、创新发展的新格局。下面哪一个不属于我国的这四大自贸区？
 - 中国(广东)自由贸易试验区
 - 中国(天津)自由贸易试验区
 - 中国(海南)自由贸易试验区
 - 中国(上海)自由贸易试验区
- 2015年4月2日，经过伊朗与伊核问题六国多轮密集会谈，伊朗外长扎里夫与欧盟外交和安全政策高级代表莫盖里尼在瑞士洛桑就伊核问题发表联合声明，宣布伊核问题谈判各方已就焦点问题找到框架性解决方案，将立即着手文本起草工作。下列国家中不属于伊核问题六国的国家是（ ）。
 - 美国
 - 英国
 - 中国
 - 伊朗
- 第十七次中日韩环境部长会议4月29日至30日在（ ）举行。中国环境保护部部长陈吉宁、日本环境省大臣望月义夫、韩国环境部部长尹成奎率团出席会议。三国部长审议并签署了《中日韩环境合作联合行动计划(2015—2019)》。
 - 日本京都
 - 韩国釜山
 - 中国上海
 - 中国北京
- 下列哪项全国人民代表大会的职权在其闭会期间由全国人大常委会行使？（ ）
 - 选举国家主席、副主席
 - 根据中央军事委员会主席的提名，决定中央军事委员会其他组成人员的人选。
 - 决定驻外全权代表的任免
 - 批准省、自治区和直辖市的建置
- 关于宣告死亡，下列哪个选项是正确的？（ ）
 - 宣告死亡的申请人没有先后顺序限制
 - 被宣告死亡的人与配偶的婚姻关系，自死亡宣告之日起消灭
 - 被撤销宣告死亡的人与配偶的婚姻关系自行恢复
 - 被撤销死亡宣告的人有权请求依《继承法》取得其财产者返还原物或给予赔偿
- 《宪法》2004年修正案对我国非公有制经济的规定是（ ）。
 - 国家鼓励、支持和引导非公有制经济的发展，并对非公有制经济实行监督和管理
 - 国家鼓励、支持和引导非公有制经济的发展，并对非公有制经济依法实行监督和管理
 - 国家鼓励、支持和指导非公有制经济的发展，并对非公有制经济依法实行监督和管理
 - 国家鼓励、扶持和引导非公有制经济的发展，并对非公有制经济实行监督和管理
- 下列关于认识与实践的说法错误的是（ ）。
 - 实践是认识的来源
 - 认识是实践的需要的结果
 - 理性认识能够促进实践的发展
 - 理论指导实践是认识的目的
- 五行学说认为世界本源就是木、火、土、金、水五种具体的物质形态，五行学说的这种观点属于（ ）。
 - 客观唯心主义
 - 辩证唯物主义
 - 主观唯心主义
 - 唯物主义

9. 毛泽东思想中初步形成了农村包围城市的思想，把中国革命从学习苏联模式的城市中心论转移到农村中心论上来，是在（ ）中提出的。
- A. 《中国的红色政权为什么能长期存在》 B. 《中国革命和中国共产党》
C. 《星星之火，可以燎原》 D. 《国民革命与农民运动》
10. 某企业2015年4月份上缴增值税57万元，上交的增值税属于货币的哪项职能？（ ）
- A. 流通手段 B. 价值尺度
C. 世界货币 D. 支付手段
11. 《淮南子·兵略训》中认为“若乃人尽其才，悉用其力”，这种思想体现了哪种管理原理？（ ）
- A. 激励原理 B. 能级原理
C. 系统原理 D. 权变原理
12. 300千米以上的大气层气温高达1000℃以上，但在其中运行的人造卫星不会烧毁，主要原因是（ ）。
- A. 卫星与大气处于相对静止状态
B. 卫星在大气中高速运行，能很好地散热
C. 该层大气稀薄，卫星从中吸收的与之摩擦产生的热量都有限
D. 该层大气密度很大，有利于卫星散热
13. 关于海洋空间利用的叙述，错误的是（ ）。
- A. 海洋可利用空间包括海上、海中、海底三部分
B. 海洋空间资源开发对科学技术和资金投入依赖性大，技术难度高，风险大
C. 海滨浴场和海上运动区都是对海洋空间利用的方式
D. 由于深海环境黑暗、高压、低温、缺氧，所以深海空间不能利用
14. 诗言志，史铸诗。诗人毛泽东以其气势磅礴的诗篇反映了中国革命的峥嵘岁月。下列诗句所指史实按发生的时间先后顺序排列正确的是（ ）。①“外侮需人御，将军赋采薇。”②“金沙水拍云崖暖，大渡桥横铁索寒。”③“秋收时节暮云愁，霹雳一声暴动。”④“宜将剩勇追穷寇，不可沽名学霸王。”
- A. ①②③④ B. ②③④①
C. ③④②① D. ③②①④
15. 明清时期，年画、剪纸画等绘画作品大量出现，主要是因为（ ）。
- A. 白话文开始兴起 B. 理学兴盛
C. 市民阶层逐渐壮大 D. 思想控制空前严密
16. 下面哪项不是造成温室效应的气体（“温室气体”）的是（ ）。
- A. 二氧化碳 B. 甲烷
C. 氧化亚氮 D. 一氧化碳
17. 生活中的最佳饮水温度是()?
- A. 18-24度 B. 44-59度
C. 34-39度 D. 33度左右
18. 以下属于社会职能的是（ ）。
- A. 民主政治建设职能 B. 实行计划生育的职能
C. 治安职能 D. 宏观调控职能

19. 下列关于行文规则说法错误的是（ ）。
- A. 行文应当确有必要，讲求实效，注重针对性和可操作性
 - B. 上行文原则上主送一个上级机关，根据需要同时抄送相关上级机关和同级机关，不抄送下级机关。
 - C. 请示应当一文一事。
 - D. 下行文主送受理机关，根据需要抄送相关机关。重要行文应当同时抄送收文机关的直接上级机关
20. 中国传统戏曲的脸谱被誉为角色“心灵的画面”，下列人物适用于红色脸谱的是（ ）。
- A. 关羽
 - B. 包拯
 - C. 刘邦
 - D. 赵高

第二部分 言语理解与表达

本部分包括表达与理解两方面的内容。请根据题目要求，在四个选项中选出一个最恰当的答案。

请开始答题：

21. 没有任何一种食物或者食物_____能够保护你不得癌症，但强有力的证据显示：多吃各种植物性食物，如蔬菜、水果、全谷粗粮和豆类，有助于降低多种癌症的风险。人们都喜欢“简单易行”的养生法，所以_____的“养生小百科”“生活小智慧”极为流行。如果再有一点“科学研究表明”，或者能够摆出一堆科学名词与科学理论，就可以登上“大雅之堂”，被媒体追捧。依次填入划线部分最恰当的一项是（ ）。
- A. 成分 形形色色
B. 种类 汗牛充栋
C. 成分 纷繁芜杂
D. 种类 五花八门
22. 这种简易包装的月饼被老百姓亲切的称为“素颜月饼”。简易包装，不仅减少了浪费，还给购物的消费者带来了实惠，少了_____的包装，物品的价值才能更好体现出来。月饼“素颜”了，其他物品是不是也该考虑一下不再_____包装，不再浓妆艳抹了呢？依次填入划线部分最恰当的一项是（ ）。
- A. 琳琅满目 一味
B. 五彩斑斓 追求
C. 五光十色 肆意
D. 花里胡哨 过度
23. 今年9月，香港立法会财务委员会通过今年公务员的加薪_____，中低层公务员加薪3.92%，高级公务员加薪2.55%，生效日期_____至今年4月1日。香港公务员加薪公开透明，虽然公务员工资年年调，但不仅没有大面积的反对声，还颇受社会支持。依次填入划线部分最恰当的一项是（ ）。
- A. 幅度 延续
B. 幅度 回溯
C. 速度 推迟
D. 速度 上溯
24. 一年一度的七夕已过去，“中国情人节”的喧嚣渐渐平息。在现代社会，这样没来由却热闹的故事，不知凡几，对此，少有人愿意深思。其实，七夕是七夕，情人节是情人节，它们诞生于不同的文化传统中，即使有相似处，也未必能_____。依次填入划线部分最恰当的一项是（ ）。
- A. 等量齐观
B. 同日而语
C. 厚此薄彼
D. 另眼相看
25. 让民众不害怕的制度可促使人们_____表达意愿，牛铭实以陕甘宁边区广泛推行的秘密投票形式“豆选”为例，认为这是让人诚实表态的机制，“不秘密投票，金钱暴力就会影响个人的选择”。依次填入划线部分最恰当的一项是（ ）。
- A. 自由
B. 真实
C. 自主
D. 平等
26. 这种大牛市会有一种溢出的效应，什么叫溢出的效应？因为从价格来看，为什么外国的参展团比中国还多，这说明北京的房价已经具备了国际竞争力。实际上我们_____的比较一下来看，在国际大都市当中，北京的房价从均价来看已经是最高了，中国老百姓这种消费能力在全世界大多数当中已经_____，而且是国际最贵的行列。依次填入划线部分最恰当的一项是（ ）。
- A. 横向 首屈一指
B. 纵向 独一无二
C. 横向 空前绝后
D. 纵向 名列前茅

27. 政府投资强力_____下，虽实现了城市的急剧扩大，城镇化率大幅提高，但也造成严重副作用。在山西大同样本中，政府短短五年内的大手笔投资，实现了城市面貌_____的变化，但随着执政强人离去和宏观经济形势的变化，这个将中国当下的城市发展模式——经营土地、负债发展运用到极致的城市，也暴露出求大求全、超前规划与建设的_____，以致债务缠身，残局待解。依次填入划线部分最恰当的一项是（ ）。
- A. 拉动 惊心动魄 弊端
B. 驱动 翻天覆地 弊病
C. 推动 日新月异 瑕疵
D. 带动 瞬息万变 缺陷
28. 在政治领袖依靠口才获取选票的时代，这位曾经的物理学家反其道而行之，依靠务实的风格走上“国民母亲”的历史高位。默克尔的公共形象_____了德国人的主要特质：务实、低调、不太幽默，这些标签在繁荣时期略显无趣，但在危机时期_____。默克尔的威望很大程度上是在欧元区数次濒临悬崖的欧债危机中树立起来的，欧元区的命运看起来与德国希望欧盟走向哪里_____。依次填入划线部分最恰当的一项是（ ）。
- A. 展现 中规中矩 息息相通
B. 代表 不足为奇 休戚与共
C. 浓缩 难能可贵 息息相关
D. 呈现 不一而足 休戚相关
29. 形式是_____的，但如果唯形式至上，就会陷入形式主义的泥潭。然而，这是现代意义上的形式主义，集中体现为对于程序规定的_____遵循，脱离实际的一味实施。在中国，形式主义远_____这一种，更多的形式主义是传统与现代交织的变种，并且传统人治的色彩更浓。依次填入划线部分最恰当的一项是（ ）。
- A. 必须 严格 不只
B. 允许 教条 不只
C. 需要 主动 不止
D. 必要 刻板 不止
30. 法医古称仵作，意为_____尸体的人。今日法医鉴定成为司法重要组成部分。“法医学已涉及到每个家庭，每个人。你到医院看病，对结果不满意，可能主动申请鉴定；一个广告牌倒了砸伤人，刮风下雨树枝把人伤了，要维权，必须要做鉴定。”女法医王健文初出道时，她的职业曾把相亲对象吓跑，她想不到数十年后这个令其_____的职业会与社会贴得如此紧密。依次填入划线部分最恰当的一项是（ ）。
- A. 检查 讳莫如深
B. 检察 讳莫如深
C. 检查 谈虎色变
D. 检察 谈虎色变
31. 如今，医疗的局限性被越来越多的人认识和承认。当生命机体由于疾病或严重伤害的时候，有的时候医疗是_____的。当一个人走到生命尽头，医疗从业者应该如何帮助病人，以更人道、自然、_____的方式离开这个世界，在世界范围内，越来越多的人围绕这个议题展开了研究，并且有了相当多的成果。依次填入划线部分最恰当的一项是（ ）。
- A. 无所适从 安静
B. 无力回天 安适
C. 回天乏术 和谐
D. 手足无措 舒适
32. “逢节必送礼”显然已经超越了普通的节日礼节，成了_____的例行事务。在这“送礼风”的背后，其实隐藏着奢靡之风的影子。当人与人之间的情感表达只能依靠送礼来实现，这也是对感情的物化。它不仅造成了公共资源的大量浪费，引发多种社会问题，还会助长攀比、挥霍风气，与勤俭美德_____。依次填入划线部分最恰当的一项是（ ）。
- A. 耳熟能详 南辕北辙
B. 不可或缺 不谋而合
C. 必不可少 背道而驰
D. 众所周知 针锋相对

33. 其实很久以来, 很多的网球迷已经习惯甚至_____了李娜这种直爽、有一说一的性格, 然而这样一番话还是在中国大陆网络上激起了一番_____。但细细想来, 李娜的话并没有什么问题, 因为她正在以个人身份参加职业巡回赛, 而不是在代表国家队参加奥运会或者联合会杯的时候来说这些。依次填入划线部分最恰当的一项是 ()。
- A. 厌恶 热议
B. 了解 讨论
C. 看惯 关注
D. 爱上 争吵
34. 鄂尔多斯市现代农牧业办公室工作人员介绍, “三区规划”为每一个搬迁的农牧民提供一套住房、找到一份工作、落实一份社保、发放一份补贴。财力_____的前几年, 这项政策执行顺畅, 但现在财政紧张, 进展一下子就_____下来。依次填入划线部分最恰当的一项是 ()。
- A. 雄厚 缓慢
B. 丰厚 停顿
C. 不足 暂停
D. 有限 中止
35. 清代, 由于朝廷有效控制新疆地区, 打通了玉路, 上等玉料源源不断流入中原, 玉器生产因此出现了空前繁荣的局面, 无论是宫廷还是民间, 都有大批手艺_____的玉匠。流传至今的清代玉器数量之大、品类之多, 更是令人_____, 仅存于北京故宫博物院的清代玉器就有数万件。依次填入划线部分最恰当的一项是 ()。
- A. 超群绝伦 叹为观止
B. 出神入化 登峰造极
C. 滚瓜烂熟 瞠目结舌
D. 挥洒自如 拍案叫绝
36. 在网络化的时代, 在全民既是信息的接受者也是信息的创造者传播者的时代, 普罗大众用登上_____的“春晚”的方式, 表明一个新文艺时代的到来。依次填入划线部分最恰当的一项是 ()。
- A. 名震中外
B. 举世闻名
C. 万众瞩目
D. 引人注目
37. 如何对待转基因食品, 世界各国态度不一, 科学界也有很大分歧, 或许这种争论将长久持续下去。很少有一项技术像转基因这样, 让各方观点如此对立: 相互矛盾的实验证据, 极端对立的利益表达, _____的研究结论, 让消费者_____。然而, 对消费者来说, 比争论更重要的是对转基因食品消费的知情权和选择权。依次填入划线部分最恰当的一项是 ()。
- A. 莫衷一是 无所适从
B. 众说纷纭 一筹莫展
C. 不刊之论 无所适从
D. 不易之论 一筹莫展
38. 环境保护部有关负责人介绍说, 2012年的监测结果表明, 全国环境质量状况总体保持_____, 但形势依然严峻。根据公报内容, 环境形势_____主要体现在水环境质量、大气环境质量以及农村环境问题等几个方面。依次填入划线部分最恰当的一项是 ()。
- A. 平衡 问题
B. 平稳 严峻
C. 乐观 走向
D. 积极 恶化
39. 对于今天的孩子们, 如果只关注他们将来该做个什么样的人, 不把意志品质作为一个做人的目标提出来, 最终我们只能培养出狭隘、自私、脆弱和境界不高的人。遗憾的是, 我们在这方面做得并不_____。依次填入划线部分最恰当的一项是 ()。
- A. 不以为意
B. 尽如人意
C. 尽善尽美
D. 称心如意

40. 成熟的人，不为得而狂喜，不为失而痛悲，竭心尽力之后，坦然接受而已；成熟的人，不因功成名就而_____，也不因籍籍无名而_____，持一颗平淡的心，不卑不亢地生活。成熟的人，能够担当，懂得感恩，心静气和，淡定从容。
依次填入划线部分最恰当的一项是（ ）。
- A. 目空一切 黯然伤神
B. 欣喜若狂 望而却步
C. 狂妄自大 碌碌无为
D. 目中无人 卑躬屈膝
41. 现在，日本的主要政治家放弃了政治判断，将一味的追随美国作为唯一的政治方针，说到底他们不能被称为“政治家”都值得质疑。最多算得上殖民地总督。当然他们也没什么所谓的智慧。退一百步来说，即使他们拥有智慧也完全没有在用。他们没有用脑子的意思。中国的政治家毫无疑问在用智慧来搞政治。因此，在政治智慧这个问题上，比较两国政治家根本没有意义。
这段文字旨在说明（ ）。
- A. 对比中日政治家没有意义
B. 中国政治家在从政方面更优秀
C. 不应该对比中日政治家的政治智慧
D. 中国政治家比日本政治家更智慧
42. 近年来，尽管中央不断加强对于官员出国的限制，甚至专门规定，处级以上干部出境需要审批和备案。但是，掩盖身份、绕过重重障碍，成为外逃官员们的主要手法。根据媒体多年的报道，“失踪”的官员，大多因经济问题而潜逃隐匿。而随着近年来“裸官”出现，官员“失踪”的数量也在增长。在出境管理上，虽然我们有相关规定，但真实情况是审查失之宽松。应该建立起“谁审查，谁负责”的机制。这段文字主要说明（ ）。
- A. 官员外逃的主要手法是掩盖身份
B. 解释官员“失踪”的原因
C. 应完善有关出境管理的规定
D. 呼吁建立相关审查负责机制
43. 近期的一档汉字读写电视节目上，“成人体验团”70%的成员写不出“癞蛤蟆”三字，此事在网络上引发热议。有着6000余年历史的汉字，传承着中华民族的文化基因。汉字的诞生，让中华民族的文化魂魄有所寄托与依归。然而，历史的转折总是不期而至。随着互联网技术的不断发展，电脑日渐普及，很多人已经不愿意再去一笔一画地书写汉字。栩栩如生的汉字，若在我们的忽视与冷漠中，慢慢成为历史的遗迹，我辈岂不是有愧于先人一笔一画刻凿出来的古老文明？我们自己又有什么理由不重视实用性与艺术性兼具的国之瑰宝？作者通过这段文字想表达的主要内容是（ ）。
- A. 强调汉字对于中华民族的重要意义
B. 呼吁人们重视汉字，坚守汉字
C. 以电脑打字代替书写汉字是文化的退步
D. 我们不能愧于先人刻凿出的古老文明
44. 不可否认《变形金刚》的前三部电影在亚洲都非常受欢迎，尤其是在中国。所以，我们在开拍前，确实觉得需要把这部电影带到亚洲来拍。选择来中国，更主要因为这里有太多不一样的东西，在这里你可以做很多事情。我不太同意把这个决定完全看作商业策略，在我看更是出于应该给这里的观众带来一些新鲜感的考虑，即便是美国观众也希望看到的东 西，并且也完全不同于《钢铁侠3》那一类型电影。《变形金刚4》中国演员的表演始终贯穿其中，而且我们去了北京、香港等地拍摄，也在继续挑选适合拍摄的地点。这里有很多事情我们可以做。这段文字的主旨是（ ）。
- A. 解释《变形金刚4》在中国取景的原因
B. 《变形金刚》在中国最受欢迎
C. 强调中国更加适合《变形金刚4》的拍摄
D. 中国有很多不一样的东西
45. 全球气候变暖已成为国际社会关注的焦点问题。它严重影响了人类环境和自然生态，导致水资源失衡、农业减产、生态系统严重损害，对人类社会可持续发展带来了巨大冲击。全球气候变化研究第四次评估报告表明：气候变暖的原因除了自然因素影响以外，主要是归因于人类活动，特别是与人类活动中排放二氧化碳的程度密切相关。因此，低碳消费方式成为世界各国发展经济的必然选择。这段文字意在表明（ ）。
- A. 气候变暖严重影响了生态环境
B. 应当积极利用低碳消费方式发展经济
C. 分析气候变暖的原因
D. 生态系统等严重损害带来了巨大冲击

46. 今年暑期荧屏很热闹，顶着减压“神剧”头衔的《新洛神》、《天天有喜》等剧在各大卫视开辟出新一轮战场。雷剧在荧屏开花，有网友不免质疑，电视台购剧时的“节操”在哪儿？雷剧就是希望博眼球，抢收视，这只是暂时现象，但是作为媒体，还是要把握主流的导向，寻找既通俗又符合观众口味的电视剧来引导观众。这段文字的主要内容是（ ）。
- A. 说明今年暑期雷剧火爆荧屏
B. 雷剧霸占荧屏与电视台购剧品味有关
C. 媒体应把握主流的导向，引导观众
D. 好的电视剧应做到既通俗又符合观众口味
47. 上世纪80年代，大部分中国美术界比较有主见的人，其实对毕加索已经不再感兴趣了。从民国到1949年，从70年代末到80年代，中国接受西方的现代主义，以毕加索为例，出现了很多波折。他曾经被民国的留法生喜欢或者不喜欢，解放后一度在中国消失，文革后又以一种迟到的方式成为被模仿的权威和超越的对象。在小圈子里，年轻人已经不太看得起他了，大家开始关注二战后，被称之为后现代的新兴艺术，开始关心像杜尚、路易斯这些人。下列选项正确的是（ ）。
- A. 文革以后西方现代主义成为被模仿的权威和超越的对象
B. 目前中国美术界有主见的人对毕加索不感兴趣
C. 解放后西方的现实主义一度在中国消失
D. 杜尚、路易斯的艺术水平高于毕加索
48. 从上世纪九十年代开始，特别是新世纪以来，文学和文学的语境都发生了剧烈的变化。这一变化首先是文学不再处于中心位置，也即所谓的边缘化现象。但这并不意味着文学的消失甚至死亡，恰恰相反，文学一直以自身的方式生长，优秀的作品始终是一本批评杂志发展的基础。在这样的语境中，如何以新的办刊方式应对新的文化秩序，确实是一个很大的难题。这段文字意在说明（ ）。
- A. 文学一直以自身的方式生长
B. 新世纪以来，文学和文学的语境发生了剧烈变化
C. 文学没有消失，也没有死亡
D. 应思考如何以新的办刊方式应对新的文化秩序
49. 小城市脱胎于小城镇，二者之间有着血脉联系。30年前的那一波小城镇热，现在演化成小城市热，也符合事物成长的内在规律。但是，今天当我们高调推进小城市发展的时候，有必要回顾与反思昔日小城镇论的思维误区。因为稍不注意，可能会如当年一样，跌入误区，影响小城市的健康发展。作者通过这段文字想说明的是（ ）。
- A. 小城市与小城镇之间有着血脉联系
B. 提倡回顾与反思昔日小城镇论的思维误区
C. 小城镇热演变成小城市热符合成长规律
D. 不进行回顾与反思会使小城镇发展跌入误区
50. 戴尔·卡耐基被誉为20世纪最伟大的心灵导师和成功学大师，他曾说：“无论你是谁，你在何处，或你在做什么，使你快乐或不快乐的，是你如何想。”由此可见，一个人的心理对他是否快乐有着非常关键的影响。8月22日，美国“每日健康”网站刊登心理学专栏作家泰蕾兹·博查德的文章，指出不自信、想太多、情绪推理、“应该”论等10种心理会让你不快乐。这段文字主要强调的是（ ）。
- A. 一个人如何思考至关重要
B. 个人的心理会对其愉悦感产生影响
C. 卡耐基更懂得快乐的本质所在
D. 我们应该掌握10种导致不快乐心理
51. ①章小东说这都是她在海外的亲身经历②小说由一个个或温暖、或残忍、或凄凉的吃饭故事串成③2013年8月，小说《吃饭》在中国大陆出版④章小东在《吃饭》中还写到了美国生活中那些鲜为人知的“质地”⑤她仅仅是把这20多年吃饭的故事，全部拼拢在一起⑥章小东把她的“吃饭哲学”写成小说，名字就叫做“吃饭”以下排列顺序正确的是（ ）。
- A. ④⑤②①⑥③
B. ⑥③①④⑤②
C. ⑥③②①⑤④
D. ④⑥③①⑤②

52. ①国际上关于脑死亡的第一部法律诞生于1970年②目前，全世界已经有30多个国家为脑死亡立法，中国没有立法，但通过了脑死亡标准。③1959年，法国学者首次提出“昏迷过度”的概念，并开始使用“脑死亡”一词④美国堪萨斯州率先制定了关于脑死亡的法规《死亡和死亡定义法》⑤在中国，捐献者和其家属可自主、自愿选择“脑死亡”或“心死亡”的标准⑥而管理层面仍以“心死亡”标准确定最终器官捐献者，是为“中国三类标准”将以上6个句子重新排列，语序上正确的是（ ）。
- A. ④②⑤⑥①③
B. ③①④②⑤⑥
C. ④⑥③①②⑤
D. ③②①⑤⑥④
53. 中国的人均耕地从1949年的2.61亩，到2008年减为1.37亩，减少了47.5%；人均粮食产量从1949年的208.95公斤，到2008年增为398.12公斤，增加了90.5%。曾经被中外相当多的人认为难以解决的中国人的吃饭问题，看来完全是可以解决的。中国不但可以养活现在的13亿人，而且可以很好地养活更多的人。可知政策当否，远远较人口和土地的多少更为重要。以上文字的意思是在强调（ ）。
- A. 中国用较少的耕地养活13亿人口
B. 中国耕地减少现象值得关注
C. 中国人可以解决自己的吃饭问题
D. 政策对指导粮食生产意义重大
54. 由于有机农产品不使用化学农药，化学农药的残留要比常规农产品低得多，在这方面可以说较为安全。但是有机农业并非就完全不使用农药，只不过用的是源于细菌、植物的所谓天然农药。其实，有些天然农药已被发现具有一定的毒性。例如有机农业使用的天然杀虫剂鱼藤酮具有肝毒性，还能诱发帕金森病。另一类天然杀虫剂除虫菊酯有的具有神经毒性，它们的毒性有时比人工合成的拟除虫菊酯要高得多。有机农业通常使用铜盐作为杀真菌剂，导致有机农产品中铜的含量要比常规农产品高。如果人体摄入过量的铜，也会对健康有害。这段文字意在提示人们（ ）。
- A. 有机农产品未必一定是健康产品
B. 天然农药同样会存在农药残留问题
C. 使用天然农药的有机食品相对健康
D. 有机农产品存在的主要问题
55. 某人遇到难事，去庙里求观音，走进庙里才发现观音像前有一个人在拜。那人和观音长得一模一样，丝毫不差。这人问：“你是观音吗？”那人答道：“我正是观音”。这人又问：“那你为什么还拜自己？”观音笑道：“我也遇到了难事，但我知道求人不如求己”。这段文字意在说明（ ）。
- A. 遇到难事要拜观音。
B. 观音不是无所不能的。
C. 要发挥主观能动性，没有什么不可能。
D. 多发挥自己的作用，不能总是依靠别人。
56. 麦田怪圈是在麦田或其他农田上，透过某种力量把农作物压平而产生出的几何图案。此现象在二十世纪七十年代后期才开始引起公众注意。目前，有众多麦田圈事件被他人或者自己揭发为有人故意制造出来以取乐或者招揽游客。但是，麦田圈中作物的“平顺倒塌”方式以及植物茎节点的烧焦痕迹并非人力所能做到的，至今对于该现象是何种设备或做法能够达到还没有一个合理的解释。此点也是外星支持论者的主要物证基础。下列对于这段话的理解，正确的一项是（ ）。
- A. 麦田怪圈是指出现在麦田上神秘的几何图案
B. 麦田怪圈最早出现于上个世纪七十年代后期
C. 麦田怪圈既有地球人所为，又有外星人所为
D. 目前关于麦田怪圈的形成原因还处于争议中
57. 龙是中国最重要的物质和非物质文化遗产，一向是中国最具代表性的形象遗产。但近年来中国自己似乎得了“恐龙病”，龙的传人被自己的影子吓坏了。特别是在国际场合，中国媒体和有关机构不敢理直气壮地亮出龙的形象，生怕外国人误解中国，理由是“龙在西方是邪恶的”。从古至今，恐怕还没有哪个国家为了想象中的、别人可能的误解，而放弃自己的文化图腾。作者通过这段文字意在说明（ ）。
- A. 龙图腾是中国最具代表的形象遗产
B. 对龙图腾的放弃反映了文化自信心的丧失
C. 不应该揣测西方人观察问题的方式而放弃龙图腾
D. 虽然龙在西方代表邪恶，我们也不应放弃龙图腾

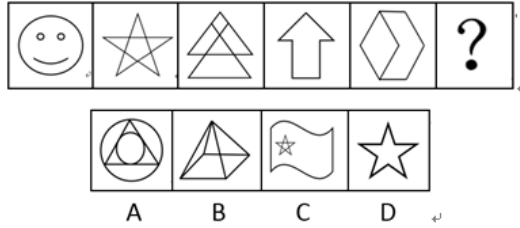
58. 国家对风景名胜区实行科学规划、统一管理、严格保护、永续利用的原则。_____。在不少风景区，“以景养景”、“靠山吃山”、大兴土木的情况并不鲜见，神神鬼鬼、牵强附会的所谓文化景点亦随处可见，而架索道、建豪华宾馆、搞娱乐城等，也是司空见惯。扛着名胜的旗，谋着实在的利，至于风景的原貌、游客的体验则变成次要的。填入横线上最恰当的一句是（ ）。
- A. 但是，游客们却将这些规定视若无睹 B. 愿景是美好的，但现实是残酷的
C. 然而，规定是一回事，现状则是另一回事 D. 各地方应当严格遵守国家规定
59. 商人看重的则是后一种“生意”，即以物生物。做生意就像饲养母鸡一样，抛出的是麸糠，获致的是鸡蛋甚至金蛋。对于人类现实存在着的社会生活而言，这两种“生意”，自然都是不可缺少的。但从目前的行情看，后一种“生意”正酿成热门，甚至连“文人下海”也似乎成了一种时髦。这就不免令人有些担心，因为随着“文学艺术商品化”，的呼声越来越高，两种生意就可能渐渐地只剩一种生意了。
- “这就不免令人有些担心”中的“这”指代的是（ ）。
- A. 两种生意只剩一种生意的现状
B. 只关注商业上的生意，甚至文人也开始追求商业利益
C. “文学艺术商品化”，的呼声越来越高
D. 两种生意不可或缺
60. 电视鉴宝节目的兴起，让人们目睹了文物鉴定专家的过眼神功；故宫“瓷器门”事件，又让鉴定文物的科技手段进入大众视野。实际上，在瓷器等文物的鉴定上，常规目测法和各种无损检测技术都有可能出现误判，导致漏过赝品或者误杀真品，因此，将多种方法结合起来，是文物鉴定的基本原则。这段文字意在强调（ ）。
- A. 电视鉴宝节目掀起文物鉴定热潮 B. 科技手段推动了文物鉴定的发展
C. 文物鉴定需要结合多种方法手段 D. 无损检测技术在文物鉴定中更为可靠

第四部分 判断推理

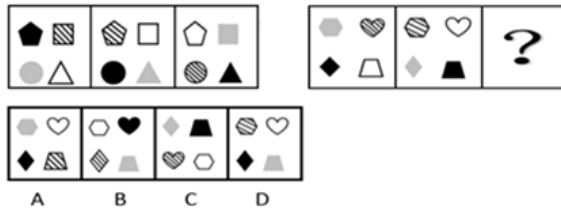
一、

请开始答题：

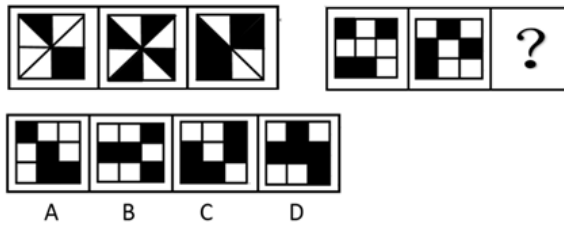
71. 从所给四个选项中，选择最合适的一个填入问号处，使之呈现一定规律性



72. 从所给四个选项中，选择最合适的一个填入问号处，使之呈现一定规律性：



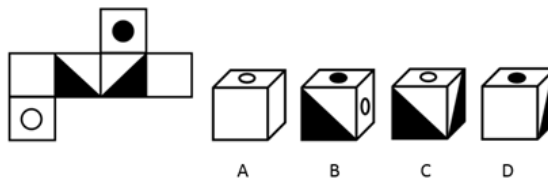
73. 从所给四个选项中，选择最合适的一个填入问号处，使之呈现一定规律性：



74. 从所给四个选项中，选择最合适的一个填入问号处，使之呈现一定规律性



75. 从所给四个选项中，选择最合适的一个填入问号处，使之呈现一定规律性：



76. 沉默的螺旋是一个政治学和大众传播理论。理论描述了这样一个现象：人们在表达自己想法和观点的时候，如果看到自己赞同的观点，并且受到广泛欢迎，就会积极参与进来，这类观点越发大胆地发表和扩散；而发觉某一观点无人或很少有人理会，即使自己赞同它，也会保持沉默。意见一方的沉默造成另一方意见的增势，如此循环往复，便形成一方的声音越来越强大，另一方越来越沉默下去的螺旋发展过程。该理论基于这样一个假设：大多数人会力图避免由于单独持有某些态度和信念而产生的孤立。根据上述定义，以下属于沉默的螺旋的表现的是（ ）。
- A. “日心说”曾一度不被认可，却也最终被证明是比“地心说”更科学的理论
 - B. 竞选时，如果某一方故意夸大自己的支持率，会使原本持观望态度甚至不太赞同的人们倒向自己一方
 - C. 自媒体平台使更多的人敢于在网络上表达自己真实的想法，即使这些想法与众不同
 - D. 小明与老师讲解的答案不同，却不敢向老师提问，虽然心中疑惑，还是改了自己的答案
77. 鳄鱼法则：又叫“鳄鱼效应”，假定一只鳄鱼咬住你的脚，如果此时你用手臂试图挣脱你的脚，鳄鱼会同时咬你的脚与手。你越挣扎，被咬住的就越多。所以万一鳄鱼咬住你的脚，你唯一的办法就是牺牲一只脚。根据上述定义，下列属于鳄鱼法则的应用的是（ ）。
- A. 足球场上被罚黄牌，就要在之后的比赛中小心谨慎，避免领到第二张黄牌
 - B. 做游戏从未赢过，就要避免做类似游戏
 - C. 小陈平日学习马虎，但在难度更高的竞赛中常能取得好成绩，主要是因为他善于解决难题
 - D. 股市交易中，当你发现自己的交易背离了市场方向，必需立即止损，不得有任何延误，不得存有任何侥幸心理
78. 德西效应：当学生尚没有形成自发内在学习动机时，教师从外界给以激励刺激，以推动学生的学习活动，这种奖励是必要和有效的。但是，如果学习活动本身已经使学生感到很有兴趣，此时再给学生奖励不仅显得多此一举，还有可能适得其反。一味奖励会使学生把奖励看成学习的目的，导致学习目标的转移，而只专注于当前的名次和奖赏物。根据上述定义，下列属于德西效应的应用的是（ ）。
- A. 老师利用奖励小红花的办法鼓励小朋友积极参加扫除活动，小朋友表现积极
 - B. 小张为了追求更好的职位而跳槽到另一家公司
 - C. 家长为了鼓励小孩子学画画，给画画好的孩子奖励糖果，结果原本喜欢画画的小孩子由于家长给的糖果数量减少而不愿意继续画画
 - D. 学校以班级一本上线率作为高三老师的考核标准
79. 重大交通事故是指具有以下情形之一的：
- (1) 死亡一人或者重伤三人以上，负事故全部或者主要责任的；
 - (2) 死亡三人以上，负事故同等责任的；
 - (3) 造成公共财产或者他人财产直接损失，负事故全部或者主要责任，无能力赔偿数额在三十万元以上的。
- 以下各项不属于重大交通事故的是（ ）。
- A. 贾某在主干道正常行驶，一辆红色别克忽然从转弯处逆向驶出，贾某躲闪不及，两车相撞造成对方乘客死亡
 - B. 林某与正常行驶的面包车相撞，没有造成人员伤亡，但面包车上运送的价值百万的实验器材损毁
 - C. 薛某高速路倒车与后来车辆相撞，造成4人重伤
 - D. 林某与贾某两车相撞，造成三人死亡，交警裁定两车负同责

80. 安泰效应源于古希腊神话，有一个大力神叫安泰，他是海神波塞冬与地神盖娅的儿子，他力大无比，百战百胜。但他有一个致命的弱点，那就是他一旦离开大地，离开母亲的滋养，就失去了一切力量，他的对手刺探了这个秘密，设计让他离开大地，把他高高举起，在空中把他杀了。后来，人们把一旦脱离相应条件就失去某种能力的现象称为“安泰效应”。寓意就是没有群众的支持，任何支持都是软弱无力的；水失鱼，犹为水；鱼无水，不成鱼。以下哪项不符合安泰效应？（ ）
- A. 木秀于林风必摧之
B. 众人拾柴火焰高
C. 众人划桨开大船
D. 孤掌难鸣
81. 光的反射一种光学现象，指光在传播到不同物质时，在分界面上改变传播方向又返回原来物质中的现象。光遇到水面、玻璃以及其他许多物体的表面都会发生反射。当光在两种物质分界面上改变传播方向又返回原来物质中的现象，叫做光的反射。以下哪项不涉及光的反射？（ ）
- A. 在水面看见鱼后，要瞄向略偏的位置捕捉才能抓到鱼
B. 下雪后，会觉得阳光特别耀眼
C. 司机可以通过后视镜看到后面的车辆
D. 潜艇利用专门的设备可以看到水面的情况
82. 侵占罪：是指以非法占有为目的，将代为保管的他人财物或者他人的遗忘物、埋藏物非法占为己有，数额较大，拒不交还的行为。即明知属于他人交与自己保管的财物、遗忘物或埋藏物而仍非法占为己有。根据上述定义，下列属于侵占罪的是（ ）。
- A. 业务员李某在与对方公司签订协议的途中，携带巨额定金潜逃
B. 朋友到杨某家里做客，杨某收拾房间时发现朋友价值不菲的手表落到了自家沙发上。第二天朋友打来电话询问，杨某将手表交还给朋友
C. 张某听从赵某推荐，购买理财产品，一段时间后张某要将自己提现，赵某表示没有到规定时间，不能给予提现服务
D. 孙某早上9点去游泳馆游泳，刚打开储物柜发现里面有一部iPhone6，孙某将其装入自己的口袋后打算直接离开，在服务台有服务人员和另一客人询问储物柜内是否有手机，孙某拒不承认并马上离开
83. 离退休综合症是指老年人由于离退休后不能适应新的社会角色、生活环境和生活方式的变化而出现的焦虑、抑郁、悲哀、恐惧等消极情绪，或因此产生偏离常态的行为的一种适应性的心理障碍，这种心理障碍往往还会引发其它生理疾病、影响身体健康。由于当事者在生活内容、生活节奏、社会地位、人际交往等各个方面都会发生很大变化，导致当事人适应不了环境的突然改变，而出现情绪上的消沉和偏离常态的行为，甚至引起疾病，就是所谓“离退休综合征”。根据上述定义，下列行为属于离退休综合症的是（ ）。
- A. 纪检委张书记退休后，性情大变，以前是严谨少言的人，现在整天唠唠叨叨，动不动就对老伴儿发脾气，晚上还经常失眠
B. 李老师退休后想找个家教的工作“发挥余热”，跑了好几个培训机构都接连碰壁，他一气之下干脆回家专职辅导小孙子去了
C. 吴局长为了给自己挣够“养老钱”，退休前贪污了一笔公款，并且没有被人发现。但他退休后却整天坐立不安，门外有点儿响动就吓得浑身冒冷汗
D. 老赵是某知名美术学院的优秀教师，退休后自己成立了一个画室，工作订单络绎不绝，老赵没多久就给累得住院了

84. 负相关是指两个变量变动方向相反，一个变量由大到小或由小到大变化时，另一个变量相反由小到大或由大到小变化。也就是说，在负相关的情况下，一个变量随着另一个变量的变化而发生相反方向的变化。其中，两个变量之间有着必然的联系。根据上述定义，下列可以确定具有负相关性的是（ ）。
- A. 一个国家的人均资源占有量越多，人们生活越安逸，这个国家越贫穷
 B. 亚洲地区天亮太阳升起，美洲地区天黑太阳下降
 C. 一个人学生时代成绩好，成年后不一定成就大
 D. 原油价格与黄金价格捆绑波动，二者走势基本一致
85. 所谓价值链截取战略，就是指企业在任何时期，始终选择行业中最有价值的经营环节，并持续创造价值作为竞争手段，以此来实现企业各个时期的发展或战略目标。从定义中可以看出，价值链截取战略是一种竞争战略，是一种实现企业各个时期目标的竞争手段。根据上述定义，下列哪项属于价值链截取战略？（ ）
- A. 著名服装企业“雅戈尔”将其生产线出售，专注服装设计、品牌经营
 B. 某家电企业在原有实体店经营的基础上，又开辟了网络销售渠道
 C. 农产品企业采取涉足种植、储运和销售一条龙作业的经营模式
 D. 屈臣氏里经常会出现其自主品牌的商品
86. 五禽：虎熊
- A. 七情：哀乐
 B. 五味：甘甜
 C. 六畜：狗鸡
 D. 四气：冬夏
87. 燃气灶：厨房：房屋
- A. 牙膏：牙刷：盥洗室
 B. 热水：暖瓶：饮水机
 C. 商品：店铺：商场
 D. 药品：药厂：药店
88. 自负：自信
- A. 武断：果断
 B. 刻板：死板
 C. 结果：成果
 D. 原创：抄袭
89. 袜子：手套
- A. 眼睛：眼镜
 B. 筷子：耳钉
 C. 刀叉：碗碟
 D. 帽子：口罩
90. 离婚：结婚：订婚
- A. 问诊：生病：受寒
 B. 收货：订货：验货
 C. 安胎：怀胎：保胎
 D. 离职：任职：招聘
91. 安检：安全
- A. 海关：走私
 B. 体检：健康
 C. 消防：火灾
 D. 质检：伪劣
92. 云：水
- A. 太阳：光
 B. 大气：臭氧
 C. 地球：月亮
 D. 相机：交卷
93. 麻将：扑克
- A. 围棋：象棋
 B. 国画：芭蕾
 C. 京剧：歌剧
 D. 乒乓球：篮球

94. 四书：五经
- A. 礼仪：廉耻
B. 六艺：礼乐
C. 孝悌：忠义
D. 五行：八卦
95. 俗语中说：艺高人胆大，胆大艺更高。除非有艰苦的训练，否则胆大也不会使艺更高；高手过招，只有过硬的心理素质和专业素质，才能技胜一筹。如果上述条件为真，以下说法正确的是（ ）。
- A. 只要胆大，就一定能技胜一筹
B. 没有艰苦的训练，就不能在高手过招时技胜一筹
C. 高手过招，只要有艰苦的训练，就能获得最终的胜利
D. 艺高且胆大的人，一定受过艰苦的训练，一定能技胜一筹
96. 一位中学老师称，近两年学校里的中高考状元，基本家里条件都很好。中考结束，学校有5个排名前列的孩子都上了重点线，他们都来自开跑车、住别墅的家庭。现在的尖子生，除了家庭教养外，父母都舍得花钱，送各种培训班，甚至请私人家教，成绩都是钱堆出来的。所以，教育的差别越来越大，穷人的孩子要想成绩好，光能吃苦是远远不够的，起跑线已经低了一个级别。以下哪项最能削弱上述结论？（ ）
- A. 每年到世界一流大学留学的人中，有80%毕业于清华、北大等国内重点高校
B. 股票、期货等高收入行业的从业人员大都毕业于金融类高校
C. 一两所学校两年的数据仍然具有很大的偶然性和特殊性
D. 保送、加分、自招等高考政策叠加了优越家庭的家庭优势
97. 航空公司打出广告：本公司连续飞行39800公里无事故，因此航运交通是世界上最安全的交通方式。客运公司看到广告后，为反驳其观点，也打出自己的广告：本公司连续行驶39800小时无事故。工商总局经过调查，确认两家公司广告数据的真实性。则以下哪项最能解释上述两组数据？（ ）
- A. 该航空公司是业内飞行安全度最高的公司
B. 该客运公司是去年运营里程最长的客运公司
C. 航运交通、客运交通的安全性不能仅以无事故作为衡量标准
D. 航运交通能在较短时间有较大里程数，而客运交通能在较小里程中耗费较长时间
98. 雾霾是“雾”和“霾”的组合词，是特定气候条件与人类活动相互作用的结果。高密度人口的经济及社会活动必然会排放大量细颗粒物（PM2.5），一旦排放超过大气循环能力和承载度，细颗粒物浓度将持续积聚，此时如果受静稳天气等影响，极易出现大范围的雾霾。雾霾天气是一种大气污染状态，雾霾是对大气中各种悬浮颗粒物含量超标的笼统表述，尤其是PM2.5（空气动力学当量直径小于等于2.5微米的颗粒物）被认为是造成雾霾天气的“元凶”。由此，可以推出（ ）。
- A. PM2.5就是雾霾
B. 雾天一定会有大量污染物混合在雾气中
C. 雾霾是现代才有的污染现象
D. PM2.5大量聚集，超过环境自我净化的能力，可能会加剧雾霾的严重性

99. 某地发生交通事故，事故现场目击人员有如下陈述：
甲：事故是由于路面结冰导致的
乙：事故是由于司机违反禁行标志导致的
丙：事故是由于司机酒后驾驶导致的，但是司机没有违反禁行标志
丁：如果司机违反禁行标志，那么他一定酒后驾驶
戊：司机确实违反禁行标志，但是没有酒后驾驶
若上述说法中只有一人为真，则以下各项哪项确定为真？（ ）
A. 戊说真话，路面确实已经结冰
B. 丁说真话，事故是由司机酒后驾驶导致的
C. 丁说真话，事故不是由于路面结冰造成的，且司机并没有酒后驾驶
D. 戊说真话，事故的原因是司机违反禁行标志
100. 现在很多大型企业在招聘时，评价标准日益严格，学历、能力、经验等个方面都要进行考量。如果既没有高学历又没有工作经验，往往得不到大型企业的认可；只有那些有能力的人才能在大型企业中获得更好的发展。由此可以推出（ ）。
A. 不被公司认可的，都是学历不高且没有工作经验的
B. 没有经验的新人往往得不到更好的发展
C. 有能力的人都会获得更好的发展
D. 获得企业认可的人，也不一定具有高学历
101. 现在社会中，随着电影电视的发展，青少年越来越多的受到影视作品的影响。小学生用床单当斗篷，学习蝙蝠侠从高空坠落的悲剧已经多次报道；认为喜洋洋一定能够战胜灰太狼的小朋友比比皆是……类似这样的例子不胜枚举。以下哪项最能质疑上述论证？（ ）
A. 80年代儿童也会受到电视节目的影响，当年很多孩子正是因为电视剧的影响而立志做警察或者当兵的
B. 影视作品呈现越来越多元化的趋势
C. 儿童是影视业的新兴消费群体，父母越来越舍得给孩子花钱，越来越多的符合儿童需求的节目也应运而生
D. 成年人也会受到影视作品的影响
102. 在N大学中，辩论队的所有成员中，只要是理学院的就一定是男生，文学院的有些女生也是N大学辩论队的成员。由此可以判断以下哪项一定为真？（ ）
A. 辩论队中的女生都是文学院的
B. 辩论队中的所有女生都不是理学院的
C. 辩论队中的所有男生都是理学院的
D. 文学院有男生是辩论队的成员
103. “羡慕嫉妒恨”是近年来的网络流行语，也被很多年轻人所接受，广泛应用在日常生活中。其实这句话正好刻画了嫉妒的生长轨迹：始于羡慕终于恨。对于一个人来说，被人嫉妒等于领受了嫉妒者最真诚的恭维，被嫉妒的人会有是一种精神上的优越和快感。而嫉妒别人，则或多或少透露出自己的自卑、懊恼、羞愧和不甘。忌恨优者、能者和强者，既反映自己人格的卑污，也不会有任何好结果。由此，可以推出（ ）。
A. 没有任何人会嫉妒不如自己的人
B. 羡慕嫉妒恨，对于解决问题改变现状并没有实际价值
C. 我们应该用祝福的心态看待他人，用他人的成功激励自己
D. 我们应该保持一种“比上不足，比下有余”的心态，学会宽慰自己

104. 赵老师、钱老师、孙老师分别是老中青三代老师的一员，分别教授数学、语文、英语中的一个科目，赵老师与语文老师年龄不同。孙老师比英语老师年龄小，语文老师比钱老师年龄大。老、中、青三代老师分别为（ ）。
- A. 赵老师、钱老师、孙老师
B. 赵老师、孙老师、钱老师
C. 钱老师、孙老师、赵老师
D. 孙老师、赵老师、钱老师

二、类比推理。每道题先给出一组相关的词，要求你在备选答案中找出一组与之在逻辑关系上最为贴近，相似或匹配的词。

请开始答题：

105. 街知巷闻：东张西望
- A. 欢天喜地：上行下效
B. 左顾右盼：前呼后拥
C. 千辛万苦：十全十美
D. 前赴后继：天南地北

115. 根据材料, 以下说法正确的是 ()。

- A. 2015年1-3月, 工业民间固定资产投资同比增速为11.3%
- B. 2015年1-4月, 西部地区民间固定资产投资不到东部地区的1/3
- C. 2014年1-4月, 制造业民间固定资产投资不到3万亿元
- D. 2015年4月, 全国固定资产投资增速小于12.0%

三、2014年全国农民工总量为27395万人, 比上年增加501万人, 增长1.9%。其中, 外出农民工16821万人, 比上年增加211万人, 增长1.3%; 本地农民工10574万人, 增加290万人, 增长2.8%。

按输出地分, 东部地区农民工10664万人, 比上年增长2.0%; 中部地区农民工9446万人, 比上年增长111万人, 增长1.2%; 西部地区农民工7285万人, 比上年增长180万人。

按性别分, 在全部农民工中, 男性占67.0%, 女性占33.0%。其中, 外出农民工中男性占69.0%, 女性占31.0%; 本地农民工中男性占65.1%, 女性占34.9%。

分年龄段看, 农民工以青壮年为主, 16-20岁占3.5%, 21-30岁占30.2%, 31-40岁占22.8%, 41-50岁占26.4%, 50岁以上的农民工占17.1%。

2014年全国农民工规模(单位: 万人)

	2010年	2011年	2012年	2013年	2014年
农民工总量	24223	25278	26261	26894	27395
1. 外出农民工	15335	15863	16336	16610	16821
(1) 住户外出农民工	12264	12584	12961	13085	13243
(2) 举家外出农民工	3071	3279	3375	3525	3578
2. 本地农民工	8888	9415	9925	10284	10574

116. 2013年全国农民工总量的同比增速比2014年高 ()。

- A. 1.5%
- B. 1.5个百分点
- C. 0.5%
- D. 0.5个百分点

117. 2011-2014年, 本地农民工人数同比增速最快的为 ()。

- A. 2014年
- B. 2013年
- C. 2012年
- D. 2011年

118. 2014年, 东部地区农民工占全国农民工总量的比重比上年约 ()。

- A. 上升0.04个百分点
- B. 下降0.04个百分点
- C. 上升0.4个百分点
- D. 下降0.4个百分点

119. 2014年, 40岁及以下农民工人数为 () 万人。

- A. 8273
- B. 14519
- C. 15478
- D. 11916

120. 根据材料, 以下说法正确的是 ()。

- A. 2014年, 全国农民工总量超过举家外出农民工的8倍
- B. 2014年, 西部地区农民工同比增长2.5%
- C. 2014年, 外出农民工中男性比女性多5719万人
- D. 2011-2014年, 外出农民工同比增量先下降后上升