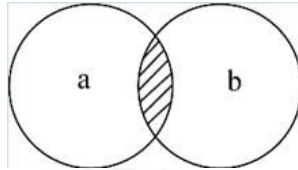


第一部分 常识判断

根据题目要求，在四个选项中选出一个最恰当的答案。

请开始答题：

1. 关于导体及其导电原理，下列说法错误的是（ ）。
- A. 金属导电，是因为金属中有可以自由移动的电子
 - B. 人体导电，是因为人体内含有大量水分和矿物质
 - C. 石墨导电，是因为石墨中含有碳元素
 - D. 酸碱溶液导电，是因为溶液内含有自由离子
2. 图中a表示地壳中含量最多的三种元素氧、硅、铝，b表示人体内含量最多的三种元素。关于阴影部分代表的元素，下列说法错误的是（ ）。



- A. 在冶金工业中有广泛用途
 - B. 其单质可以燃烧
 - C. 是碱类物质必不可少的元素
 - D. 是大气中的一种重要元素
3. 2014年是第二次世界大战爆发75周年，3月28日，国家主席习近平在德国科尔伯基金会发表演讲，谈到二战时引用到的名言是（ ）。
- A. 谁忘记历史，谁就会在灵魂上生病
 - B. 胜利不会向我走来，我必须自己走向胜利
 - C. 历史的道路不是涅瓦大街上的人行道，它完全是在田野中前进的
 - D. 世界上最宽阔的是海洋，比海洋更宽阔的是天空，比天空更宽阔的是人的胸怀
4. 关于我国农村三级卫生服务网络，下列说法正确的是（ ）。
- A. 主要承担预防保健、基本医疗、健康教育、计生指导等任务
 - B. 包括乡镇卫生院、村卫生室和家庭自我保健
 - C. 以让农民“看病不出乡镇”为发展目标
 - D. 以乡镇卫生院为基础
5. 下列关于党风建设的创新，按时间先后顺序排列正确的是（ ）。
- ①以马克思列宁主义的理论思想武装起来的中国共产党，在中国人民中产生了新的工作作风，主要就是理论和实践相结合的作风，和人民群众紧密地联系在一起的作风以及自我批评的作风
 - ②工作作风上的问题绝不是小事，如果不坚决纠正不良风气，任其发展下去，就会像一座无形的墙把我们党和人民群众隔开，我们党就会失去根基、失去血脉、失去力量
 - ③务必使同志们继续地保持谦虚、谨慎、不骄、不躁的作风，务必使同志们继续地保持艰苦奋斗的作风
 - ④抓精神文明建设、抓党风、社会风气好转，必须狠狠地抓，一天不放松地抓，从具体事件抓起
- A. ①③②④
 - B. ③④①②
 - C. ③①④②
 - D. ①③④②

6. 下列按主导产业演进顺序排列正确的是（ ）。
- ①石化产业
②旅游服务业
③服装业
④信息产业
⑤农产品加工业
- A. ⑤④①③②
B. ⑤①③②④
C. ⑤③①②④
D. ③①⑤④②
7. 《国家“十二五”时期文化改革发展规划纲要》提出要加大政府对文化事业建设的投入力度。下列属于政府投入保障政策的是（ ）。
- A. 支持文化企业在海外投资、投标、营销、参展和宣传等活动
B. 继续完善文化市场的准入政策，吸引社会资本投资文化产业
C. 文化内容创意生产、非物质文化遗产项目经营享受税收优惠
D. 通过政府购买服务的方式，鼓励社会力量提供公共文化产品
8. 关于中国共产党历史上的重要会议，下列说法不正确的是（ ）。
- A. 古田会议：解决新型人民军队建设问题
B. 遵义会议：纠正“左倾”的军事路线
C. 洛川会议：决定北上抗日的总方针
D. 瓦窑堡会议：确定建立抗日民族统一战线的方针政策
9. 为了抑制通货膨胀，国家宏观调控部门可以采取的措施是（ ）。
- A. 降低再贴现率
B. 降低央行基准利率
C. 提高个人所得税起征点
D. 提高银行存款准备金率
10. 关于欧洲主权债务危机的原因，下列说法不正确的是（ ）。
- A. 欧元升值
B. 欧元区经济低迷
C. 巨额财政赤字
D. 财政政策与货币政策的不协调
11. 下列做法不符合法律规定的是（ ）。
- A. 甲村村委会在村民会议上提交了修建学校的经费筹集方案
B. 乙村村委会与村民李某签订山林承包合同，承包期为10年，到期后，村委会又将山林承包给该村村民赵某
C. 丙村有一座石灰矿，丙村村委会组织该村村民成立丙村经济合作社，以经济合作社的名义申请石灰矿的采矿许可证
D. 丁村享有选举权的村民有500人，其中300人参与了村委会主任选举，候选人王某、张某和黄某分别获得选票120票、100票和80票，因而王某当选
12. 新中国成立后，我国在一些前沿技术领域取得了一批具有较大国际影响力的创新成果。下列全部属于近30年来取得的重大突破的一项是（ ）。
- A. 哥德巴赫猜想、载人航天、古生物考古、南水北调
B. 月球探测、核电工程、反西格玛负超子、陆相成油理论
C. 超大规模集成电路、第三代移动通信、高性能计算机、超级杂交水稻
D. 激光照排技术、量子通讯、古生物考古、人工合成牛胰岛素结晶

13. 下列情形符合法律规定的是（ ）。
- A. 甲乙二人自由恋爱，因两人均年满20周岁，经双方父母同意，两人可以结婚
 - B. 丙12岁，玩火酿成火灾造成重点财产损失，但丙不承担失火罪的刑事责任
 - C. 丁6岁，春节收到红包若干，其母认为丁尚年幼，红包里的钱应该归监护人所有
 - D. 戊16岁，在校学生，到4S店购买豪华小轿车一辆，该购买合同有效
14. 在计算机网络通信领域中，防火墙是一项确保信息安全的设备。它会依照特定的规则，允许或是限制传输的数据通过。小张在自己的电脑上安装了防火墙软件，下列论述正确的是（ ）。
- A. 防火墙软件有可能导致小张的电脑不能访问特定的web网站
 - B. 防火墙软件有可能导致小张无法访问自己电脑硬盘上储存的文档
 - C. 防火墙软件使得小张在网络购物时，不容易被虚假广告所欺骗
 - D. 防火墙软件使得小张在和陌生网友聊天时，可以伪装自己的性别和姓名
15. 关于政治思想，下列表述错误的是（ ）。
- A. 孟德斯鸠提出三权分立学说
 - B. 伏尔泰最早提出社会契约论
 - C. 柏拉图主张建立哲学王统治的国家
 - D. 让·布丹提出君主权学说
16. 下列哪项没有运用热胀冷缩原理？（ ）
- A. 医生用水银温度计给病人量体温
 - B. 架设电线时，两个电线杆之间的电线要略有下垂
 - C. 夏季自行车胎不能打太足的气
 - D. 古代人在冬天往岩石缝里灌水，水结冰后膨胀使岩石碎裂
17. 下列诗句描写菊花的是（ ）。
- A. 纵被东风吹作雪，绝胜南陌碾成尘
 - B. 不要人夸好颜色，只留清气满乾坤
 - C. 疑是广寒宫里种，一秋三度送天香
 - D. 寂寞东篱湿露华，依前金靥照泥沙
18. 信念是人们在一定认识的基础上，对某种思想理论、学说和理想所抱的坚定不移的观念和真诚信服、坚决执行的态度。检验信念正确与否、科学与否的唯一标准是（ ）。
- A. 理论推断
 - B. 社会实践
 - C. 主观愿望
 - D. 真诚信仰
19. 1710年到1760年，英国大量从中国进口茶叶等特产，在此期间，英国为此向中国支付了大量白银，该国的白银几乎耗尽。而当时英国的产品在中国几乎无人知晓。上述现象说明当时（ ）。
- A. 英国的生产力远落后于中国
 - B. 英中贸易对英国而言贸易逆差显著
 - C. 英国对中国有明显经济优势
 - D. 中国成为英国原料产地和商品市场
20. 甲向乙购买了一只羊，钱已付，因天黑路滑，甲决定明天再来牵羊，乙将甲所买的羊与自己的羊一起拴在门口树下，当晚雷雨交加，将甲所买的羊与乙的羊一起击死，关于此事件中乙是否需要赔偿甲的说法正确的是（ ）。
- A. 乙有过错，乙应该承担全部赔偿责任
 - B. 乙有小部分过错，乙要承担小部分赔偿责任
 - C. 乙有大部分过错，乙要承担大部分赔偿责任
 - D. 乙没有任何过错，乙不用承担任何赔偿责任

第二部分 言语理解与表达

本部分包括表达与理解两方面的内容。请根据题目要求，在四个选项中选出一个最恰当的答案。

请开始答题：

21. 一般地说，“智慧”不同于“知识”的最大特点在于“智慧”具有原创性。“知识”要求“广”，“智慧”要求“新”。但两者又非绝对_____：“智慧”必须有“知识”做基础，反之，只死读书，而无己见，无创意，那就容易成为_____，也不算是“智慧”。依次填入划横线部分最恰当的一项是（ ）。
- A. 对立 学究
B. 矛盾 古董
C. 等同 桎梏
D. 排斥 束缚
22. 吴越历史舞台的中心在哪里，多年以来一直是学者与公众共同关注的焦点。尽管古籍文献对此有所_____，但是多_____，有的虽言之凿凿却只是演义。依次填入划横线部分最恰当的一项是（ ）。
- A. 论证 浮光掠影
B. 涉及 穿凿附会
C. 记载 语焉不详
D. 描述 轻描淡写
23. 法治和礼治发生在两种不同的社会_____中。这里所谓的礼治也许就是通常所谓的人治，但是“礼治”一词不会像“人治”一词那样容易引起_____，以致有人觉得社会秩序是可以由个人好恶来维持的了。依次填入划横线部分最恰当的一项是（ ）。
- A. 形态 歧义
B. 模式 偏差
C. 情态 误解
D. 形势 干扰
24. 元代的方回，论诗颇有眼力，而对朱熹的诗却抬举过分，事出反常。这里除了有乡里私心的原因之外，很可能与方回“秽德彰闻，依托道学”的隐曲有关，文人既心存依附之念，势必_____。再如，中国古代文论的作者，常常自己就兼作家身份，“文章得失寸心知”，发而为论，时有取长补短或_____的隐衷。依次填入划横线部分最恰当的一项是（ ）。
- A. 进退维谷 才短思涩
B. 随波逐流 博采众长
C. 进退失据 扬长避短
D. 骑虎难下 避实就虚
25. 柏克和阿伦特等思想家把博爱和同情视为感伤主义，是滥情、不理智的表现，认为结果会_____，达不到改善弱者境遇的效果。贫困等问题的解决还是要靠政治，而非部分人的善心。填入划横线部分最恰当的一项是（ ）。
- A. 适得其反
B. 事与愿违
C. 南辕北辙
D. 雪上加霜
26. 莫里哀曾说：“喜剧的责任，就是通过娱乐来纠正人的缺点。”近年来的法国轻喜剧，尤其擅长_____，用淡淡的笑声拆解社会难题的九连环，具有较高的思想价值和现实意义。填入划横线部分最恰当的一项是（ ）。
- A. 举重若轻
B. 借古讽今
C. 微言大义
D. 振聋发聩

27. 就如同那些古典音乐爱好者批驳iPod播放器在玷污耳朵一样，喜欢闻书香的人更_____。太多人无法想象没有书架的家居环境，也无法接受电子文字_____纸质书籍所拥有的心理感情空间，尽管他们都_____电子纸张是一场未来十年注定将要发生的大趋势。
- 依次填入划横线部分最恰当的一项是（ ）。
- A. 挑剔 代替 承认
B. 偏执 挤占 明白
C. 保守 填充 认为
D. 高雅 侵占 觉得
28. 周敦颐通过自己的努力，丰富和发展了儒家思想理论体系，开拓了儒学发展的新境界，使之_____，一扫魏晋南北朝及隋唐五代的_____，回归到原有的正统地位，赢得了与释、道竞争的全面胜利，取得了意识形态的主导权。
- 依次填入划横线部分最恰当的一项是（ ）。
- A. 独树一帜 弊端
B. 柳暗花明 萧条
C. 脱胎换骨 落寞
D. 焕然一新 颓势
29. 日前，被称为“法国大展”的“名馆名家名作”纪念中法建交50周年特展在国家博物馆展出。这是一次重量级的展览，10幅名作都是从法国各大国立博物馆_____的精品之作，_____了法国从文艺复兴到当代的艺术精华。
- 依次填入划横线部分最恰当的一项是（ ）。
- A. 精挑细选 再现
B. 沙里淘金 展现
C. 百里挑一 融合
D. 优中选优 浓缩
30. 如果说清末的红学还只是一种开玩笑式的诨号，1921年后红学则确实已成为一种_____的专门之学，由于胡适的提倡，《红楼梦》的考证工作已和中国近代学术的主流——从乾嘉考据学到“五四”之后的国故整理——汇合了。因此，从学术史的观点来看，“红学”无疑地可以和其他当代的显学如“甲骨学”或“敦煌学”等_____，而毫无愧色。
- 填入划横线部分最恰当的一项是（ ）。
- A. 严格 平分秋色
B. 严谨 三足鼎立
C. 严密 等量齐观
D. 严肃 并驾齐驱
31. 网络举报是一把双刃剑，监督和隐私各有边界，如脱缰之马的“网络监督”，很多时候_____，一旦_____到普通公民的“隐私领地”或者_____集体权益，必将会使整个社会陷入不安。
- 依次填入划横线处最恰当的一项是（ ）。
- A. 扑朔迷离 触及 影响
B. 真假难辨 践踏 危及
C. 良莠不齐 侵犯 损伤
D. 鱼龙混杂 闯入 伤害
32. 一个世界级的伟大作家当然先要有作品的_____，这一点，莫言毋庸置疑：近30年出版了10多部长篇小说、100多部中短篇小说，塑造出了_____的人物。
- 依次填入划横线部分最恰当的一项是（ ）。
- A. 厚度 无与伦比
B. 高度 千奇百怪
C. 广度 形态各异
D. 深度 栩栩如生

33. 从历史的角度看，生态问题只有通过不断重建天人之间的统一才能解决，仅仅赞美自然的原初形态，一味讴歌、缅怀天人之间的原始统一，只能得到某种抽象、空泛的满足，而无法真正解决生态的问题。生态的危机因人而起，也只有通过人自己的合理活动来克服。单纯地由于人的作用导致生态困境而拒斥人的活动，无异于_____。
填入划横线部分最恰当的一项是（ ）。
- A. 因小失大
B. 因噎废食
C. 等因奉此
D. 因循守旧
34. 随着电扇、空调的_____, 炎炎夏日中人们手摇蒲扇纳凉的情景已经很难看到了，但_____、瑰丽多彩的中国扇文化，却一直传承至今，成为人们记忆中绚丽无比的一道风景。
依次填入划横线部分最恰当的一项是（ ）。
- A. 出现 享誉中外
B. 普及 源远流长
C. 使用 喜闻乐见
D. 发明 异彩纷呈
35. 古人提倡“吾日三省吾身”，_____, 而今天有些人则不然，总是_____, 对比之下，实在不应该。
填入划横线部分最恰当的一项是（ ）。
- A. 修身养性 瑕不掩瑜
B. 兢兢业业 好大喜功
C. 闻过则喜 讳疾忌医
D. 博采众长 刚愎自用
36. 与欧洲建筑相比，中国庭院式的组群布局有其独特的艺术魅力。一般来说，一座欧洲建筑是较为_____的，中国的古建筑却像一幅长卷，必须一段段逐渐_____, 而不可能同时看到全景。从一个庭院到另一个庭院，每走一步，景色似乎都在_____, 给人留下深切的感受。
依次填入划横线部分最恰当的一项是（ ）。
- A. 一脉相承 呈现 更替
B. 一气呵成 领悟 延伸
C. 一目了然 展开 变换
D. 一览无余 欣赏 升华
37. 知识分子与权力之间应该保持一种怎样的关系呢？拥抱还是抵制？胡适的选择很特别，他在大方向上不反对国民党政权，但他终身不愿当官，他看重的是知识分子独立发表见解的_____。翻遍《胡适年谱》，不难发现，作为知识分子领袖，他一生与知识分子交往最多，其次是与国民党高层颇多交流，但几乎从无和新兴的企业家阶层交往的记录。抛开中产阶级而欲求民主、自由，无异于_____, 这大概是胡适的局限，也是其他自由主义者应该深思的问题。
填入划横线部分最恰当的一项是（ ）。
- A. 权力 刻舟求剑
B. 自由 南辕北辙
C. 权利 缘木求鱼
D. 权益 水中捞月
38. 为了满足不断被制造出来、被刺激起来的欲望，_____的商品就像阿里巴巴的山洞，成为_____购买欲的引擎。其实，拥有再多，也永远渴望货架上的下一个。
依次填入划横线部分最恰当的一项是（ ）。
- A. 五花八门 触动
B. 琳琅满目 触发
C. 丰富多彩 触及
D. 形形色色 触碰
39. 不少作家把人生比作登山，_____就是登上山顶略事休息徘徊的那一刹那。此前是“快乐地努力地向前走”，此后则“别有一番滋味”的“想回家”；此前是“路上有好多块绊脚石，曾把自己磕碰得鼻青脸肿”，此后则“前面是下坡路，好走得多”。“下坡路”也罢，“想回家”也罢，都是一种_____的心态。一切都不过如此，没什么稀奇的，不值得大惊小怪，也不值得苦苦追求。
依次填入划横线部分最恰当的一项是（ ）。
- A. 中年 过来人
B. 老年 过来人
C. 中年 成功者
D. 老年 成功者

40. 中国改革已进入攻坚期和深水区，需要解决的问题格外艰巨，都是难啃的硬骨头。这个时候就要一鼓作气，_____、畏葸不前不仅不能前进，而且可能_____。
依次填入划横线部分最恰当的一项是（ ）。
- A. 优柔寡断 半途而废
B. 三心二意 功败垂成
C. 迟疑不决 功亏一篑
D. 瞻前顾后 前功尽弃
41. 当我们在承受着某些心理痛苦——比如孤独、社会孤立、自我怀疑、负面情绪、觉得人生无意义时，怀旧可以起到应对机制的作用。这些烦恼使大脑开始筛选自己的记忆库，总结出一些有特定叙事特色的片段。我们通过怀旧，让过去的成功经历和亲密的人际关系重新浮出水面，那些时候我们的生活有安全感也有秩序。心理学界解释：“拟在向自己重申‘我做过很棒的事情’，也希望这句话能预测未来的发展。‘虽然我现在不甚确定，但看看我的过去，就知道我是个可爱的人。我命中注定要成就大事。’”
下列说法与原文不符的是（ ）。
- A. 怀旧会让我们逃避现实
B. 怀旧对人具有积极作用
C. 怀旧的作用机制非常复杂
D. 怀旧能使我们变得开心
42. 汽车是对环境影响较大的商品，汽车厂商支持环保事业、进行环保宣传，似乎是理所应当的。环保应当是汽车企业在发展中必须认真考虑的因素，但要求汽车企业没有利润甚至亏损来做环保，显然是不现实的，而且也不会持久。汽车企业在发展的同时采取新的技术措施，尽量减少对环境的污染，符合社会发展大趋势，才是长久之策。
这段文字的核心观点是（ ）。
- A. 环保与实现企业利润存在矛盾
B. 发展环保事业应该注重从实际出发
C. 技术革新是解决汽车影响环境问题的关键
D. 汽车企业应在发展的同时充分重视环境保护
43. 在古典传统里，和谐的反面是千篇一律：“君子和而不同，小人同而不和”，所以和谐的一个条件是对多样性的认同。中国人甚至在孔子之前就有了对于和谐的经典认识与体现。中国古代的音乐艺术很发达，特别是一些中国乐器，像钟、磬、瑟等各种完全不同的乐器按照一定的韵律奏出动听的音乐，但如果只有一种乐器就会非常单调。
对这段文字概括最准确的是（ ）。
- A. 和谐源于中国古典音乐
B. 差异是和谐的必要条件
C. 中国人很早产生了和谐观念
D. 音乐是对和谐的经典认识和体现
44. 写作事实上不但是为了向外发表，贡献社会，同时也是研究工作的最后阶段，而且是最重要、最严肃的阶段。不形成文章，根本就没有完成研究工作，学问也没有成熟。常有人说“某人学问极好，可惜不写作”，事实上，此话大有问题。某人可能学识丰富，也有见解，但不写作文，他的学问就只停留在简单看法的阶段，没有经过严肃的思考与整理，就不可能真正是系统的、成熟的。
这段文字主要强调了（ ）。
- A. 论文写作的重要性
B. 科学研究的首要目的
C. 研究工作的评价标准
D. 知识与实践的内在联系

45. 徽州文化具有自然与人文、物质文化遗产与非物质文化遗产相融合的整体性特征，独特而集中。村落依山而建，讲究水系与自然的和谐，目连戏和村落、宗族信仰、文化活动紧密联系，徽剧演出的戏台就是村落建筑的组成部分；文房四宝与古建筑中的“文气”融为一体；罗盘制作源于徽州人对堪舆风水的重视；医学与宗族以及山区的药材资源有密切关联；楹联匾额不仅突出了徽州文化的品位，也体现山区丰富的竹木资源……凡此种种，无不是其文化生态的整体性的体现。
这段文字意在说明（ ）。
- A. 徽州文化的突出特征
B. 徽州文化的组成部分
C. 徽州文化的传承关系
D. 徽州文化的存在基础
46. 世博会有一句专属名言：“一切始于世博会。”人类近现代工业文明各个时代的重大创新发明、生活方式，都由世博会催生和起步，小到电灯、电视、热狗、冰激凌、拉链，大到度假村、俱乐部、主题公园，都从世博会开始走进无数人的家庭，改变了无数人的生活。正因为“一切始于世博会”，能在世博会上得到一角展示空间已是难能可贵，世博会选择合作伙伴更是万里挑一，它象征着一个时代对一个品牌全方位的肯定。
对这段文字的主旨概括最准确的是（ ）。
- A. 说明世博会对人类文明进步的推动作用
B. 介绍世博会对人类生活产生的巨大影响
C. 强调参加世博会对品牌宣传的重要意义
D. 阐释“一切始于世博会”的来历和内涵
47. 实际上，泰坦尼克号上的救生船数量是符合英国当时的法律规定的，该项法律规定的救生船数量不是基于乘客人数，而是基于船的吨位。当时所有客船的救生船数量都远远低于需要的数量，配备救生船的目的不是用来装下全体乘客，而是预备在发生事故时将乘客转移到救援船上。在那时，国际通用的海事安全规则是客船上的救生船搭载人数应是船上总人数的三分之一，泰坦尼克号的救生船则可以搭载一半的乘客，白星公司还为此种“对乘客安全高度负责”的额外配置没有引起公众注意而感到委屈。
下列说法与本文相符的是（ ）。
- A. 白星公司唯利是图的做法导致泰坦尼克悲剧的发生
B. 英国当时的法律与国际通用的海事安全规则不一致
C. 泰坦尼克号配备的救生船数量超过法律规定的数量
D. 泰坦尼克号的悲剧从技术角度看是完全可以避免的
48. 网络不只发现问题，有时它还扮演了解决问题的线索提供者和监督者的角色。相对于各种监督管理的机制，网络的监督能力已经显出了超前的态势。似乎许多问题的端倪，总是先暴露在网络之上，然后才会被深究，继而解决处理。对此，我们应该清醒地认识到，网络的监督固然在目前发挥了显著作用，但这绝不是一个法治社会下正常的监督问责途径，也不应当成为一种主流的监督方式。如何充分发挥原有监督机制的应有作用，是摆在我们面前亟待解决的问题。
这段文字意在说明（ ）。
- A. 法制社会不能主要依靠网络进行有效监督
B. 网络相对于其他监督机制具有更为超前的监管能力
C. 网络监督在自我完善的基础上才能更好地发挥作用
D. 当今社会的一条重要监督途径是网络监督

49. 一个寒冷的冬天，纽约一条繁华的大街上，有一个双目失明的乞丐，那乞丐的脖子上挂着一块牌子，上面写着：“自幼失明”。有一天，一个诗人走近他身旁，他便向诗人乞讨。诗人说：“我也很穷，不过我给你点别的吧。”说完，他便随手在乞丐的牌子上写了一句话。那一天，乞丐得到很多人的同情和施舍。后来，他又碰到那诗人，很奇怪地问：“你给我写了什么呢？”那诗人笑笑，念那牌子上他所写的句子道：“春天就要来了，可我不能见到它。”
最适合这段文字标题的是（ ）。

- | | |
|-------|-------|
| A. | B. |
| 幸运的乞丐 | 温暖的冬天 |
| C. | D. |
| 春天的收获 | 诗歌的妙用 |

50. 清末学者康有为在《广艺舟双楫》中将晚清书法衰微的现象归咎为传统书法范本面目失真，这是承袭了清代中叶学者对书法范本的认识，与书法史的真实状况并不十分吻合，与书法史发展的实际趋势也多有出入。当代书法家启功先生则在《论书绝句》提出，这种令人生厌的“馆阁书”与朝廷在科举考试中标举卷面书写“黑大光圆”密不可分。那么，在不能废除“馆阁书”书写要求的前提下，士人即便有条件取法摹刻精良的书法范本，也不能从根本上改掉“馆阁书”的书写习惯，这在康氏写成《广艺舟双楫》之后的时代中得到了验证。

对这段文字的主旨概括最准确的是（ ）。

- | | |
|---------------------|---------------------|
| A. 批评康有为书法研究中存在的误区 | B. 探讨晚清书法艺术衰微不振的原因 |
| C. 强调科举考试对书法艺术的负面影响 | D. 分析书写模式与创作风气之间的关系 |

51. ①这些河谷高山群，北连亚洲腹地和青藏高原，南接亚洲南部热带地区，成为动植物南北扩散通道和东西交汇之地

②学界认为横断山脉是古老物种的庇护所和物种的演化中心

③在喜马拉雅山脉以东，有一系列南北走向的高山峻岭，这就是中外闻名的横断山地区

④因此，这里的动植物不仅种类多，而且特有种所占比例很高，亚种分化复杂，还有不少古老原始的种类

⑤当地民谣“一山有四季，几里不同天，隔山能说话，相见要一天”便是对这里地貌和气候的生动描述

⑥高山深谷纵列，海拔高差巨大，形成垂直多变的立体气候

将以上6个句子重新排列，语序正确的是（ ）。

- | | |
|-----------|-----------|
| A. ③⑥⑤①④② | B. ③⑥⑤④①② |
| C. ②③⑤④⑥① | D. ②③⑥⑤④① |

52. ①最早的单质碘便是法国人从海藻中发现的，海藻也是最早的碘生产原料

②我国大部分地区都缺碘，碘不足可能会引起甲状腺肿病和地方性克汀病

③近年来，随着人们对食品纯天然的追求，海藻碘盐越来越受欢迎

④碘在自然界中比较稀少，但是海洋中的藻类却有较高的含碘量

⑤碘是人体必需的微量元素之一，有“智力元素”之称

⑥因此，从1995年起，我国开始实施食盐强制加碘

将以上六个句子重新排列，语序正确的是（ ）。

- | | |
|--------|--------|
| A. | B. |
| ②⑤⑥③④① | ③①④⑤②⑥ |
| C. | D. |
| ④③①⑤⑥② | ⑤②⑥④①③ |

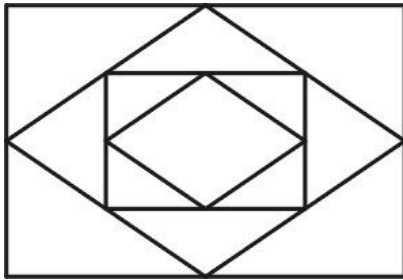
53. “天池”的最早出处大概是《庄子》，原义是指寓言中所说的海，但至少到了南北朝时，人们已开始用“天池”专指那些位于山原之上的湖泊。比如北魏郦道元《水经注》中就特别提到，山西宁武县西南的管涔山上，有一处俗名祁连汨池的湖泊，因其坐落在山原之上，当地人又称其为“天池”。近代以来，随着地理视野的扩大，越来越多景致各异的天池相继进入人们的视野。时至今日，提到天池，在中国知名度最高的有两处，一是吉林长白山天池，另一处则是位于新疆博格达峰下的天山天池。下列说法能在原文中得到印证的是（ ）。
- A. 《庄子》中提到的天池指的是天山天池 B. 郦道元首先用“天池”指称山原上的湖泊
C. 山西宁武县管涔山上的天池已经趋于干涸 D. “天池”现在的含义与《水经注》相一致
54. 在社会与生活步伐加快的今天，人们难得闲暇去仔细翻阅报刊来捕捉当下集体意识的火花、把握社会想象的脉搏。互联网上的搜索引擎为难以脱身的人们提供了方便，它已成为人们获取信息的重要手段。网民只需手指一点，即可了解社会当天所发生的和最受关注的热点。然而网络搜索以及与此相关的讨论，会因网络信息的不断更新而很快成为“历史”。探讨如何把这些作为社会发展轨迹的“暂时性”保留下来，以便现在和将来作为了解社会的独特窗口，将是一件富有创意的工作。如果这段文字是一篇文章的开头，接下来作者最可能（ ）。
- A. 引导大众科学、自觉地利用搜索引擎去了解社会
B. 介绍在收集、整理网络热点信息方面的某种尝试
C. 探讨如何使网络成为直观、直接了解社会的途径
D. 剖析以快速、零碎为特征的网络阅读的潜在危害
55. 在中国传统绘画中，作为使笔运墨的方法，笔墨有些像文言文。文言在秦代以前就是一种书面语言，然而即便在当时，文人们在日常生活中也使用“古白话”，不会使用文言文去说话。因此，
_____。同样，笔墨也成了文人画家隔离包括画工在内的广大民众的一道绘画语言的屏障。
- 填入划横线部分最恰当的一句是（ ）。
- A. 文言文成了读书人在特定圈子特定时候的特权
B. 除了现实世界，文人们还拥有另一个更丰富的世界
C. 文言文便有了一种特殊的韵味和魅力
D. 文言文成为中国文化的重要载体
56. 位于中国丝绸之路东道北段的宁夏回族自治区西吉县今日出土17枚铜币，经鉴定为古丝绸之路遗留的“贵霜王朝”钱币。与中国汉代同时代的中亚贵霜王朝，是兴起于中亚细亚的奴隶制国家，公元105至250年发展至鼎盛时期，被认为是当时欧亚四大强国之一，与汉朝、罗马、安息并列。“贵霜”钱币是古丝绸之路具有重要历史价值的一种钱币，采用希腊打压法制造，质地有金、银、铜等材质。钱币正面往往以文字、人物与图案设计并重，形状近似圆形或椭圆形。此前在楼兰遗址及和田地区曾出土数十枚贵霜钱币。
- 下列说法与原文相符的是（ ）。
- A. 我国境内首次发掘出贵霜钱币 B. 贵霜王朝兴起于公元一世纪左右
C. 贵霜王朝曾参与古丝绸之路的贸易 D. 贵霜钱币采用当时最流行的铸币技术
57. 历史学家有责任把人物的原貌和事件的真相尽可能准确、完整地向读者讲清楚。说“尽可能”，是因为受史料的局限，有些人物和事件无法核实，难以还原事实真相，只能根据掌握的史料做出推断。历史不是自然科学，不能通过公式计算获得精确的数据和结论；对人物和事件的叙述，对动机和起因的推论，对结果和影响的分析，都需要历史学家作出主观的评判。
- 以上文字重点阐述的是（ ）。
- A. 自然科学和历史学的研究方法大不相同 B. 历史研究常常因史料限制而无法还原史实
C. 历史学家进行推理判断必须依据史料 D. 历史研究需要以史料为基础进行主观评判

58. 一些备受雾霾困扰的人们选择逃离，尤其是退休老人，那些环境宜居、生态良好的二三线城市成为他们的主要目的地。与此同时，也有少量年轻人选择移民海外。刚过30岁的大学教师李文就在今年初踏上了赴加拿大的移民之路。但不少市民和专家表示，逃离只是极少数人的选择，不能从根本上解决问题，面对雾霾，人人行动起来，积极参与治理，从自己做起，从身边的事做起才是大道。这段话的主题是（ ）。
- A. 雾霾的治理办法
B. 面对雾霾的逃离
C. 人们面对雾霾的不同态度
D. 治理雾霾需要人们积极行动
59. 每个年轻人都要经历社会化过程。正道直行固然有一种简约之美，但在参差多态的社会里，仅有这一招是远远不够的。灵动如蛇固然是聪明而富有效率的，但如果没有内心的方圆和规矩，纯粹的机会主义者行而不远。因而，社会这位无处不在的严师总是教化人们，要在坚持原则和事急从权之间找到一个平衡点，在无伤大雅和誓不低头之间找准分寸感。最能体现这段话主旨的是（ ）。
- A. 歧路纷纷，直道而行
B. 处世之道的选择
C. 过于锋芒毕露不利于年轻人的成长
D. 参差多态方为世界之美
60. 在社会生活中，每一个人都渴望得到别人的欣赏，同样，每一个人也要学会欣赏别人。欣赏与被欣赏是一种互促的力量源泉，欣赏必然是有愉悦人心，仁爱之怀，成人之美之善念；被欣赏必然产生自尊之心，有进之力，向上之志。因此，让我们在生活中多一些欣赏。最能概括这段文字的是（ ）。
- A. 欣赏与被欣赏
B. 欣赏是一种善良
C. 欣赏是一种理解
D. 我们要学会欣赏

第三部分 数量关系

在这部分试题中，每道题呈现一段表述数字关系的文字，要求你迅速、准确地计算出答案。
请开始答题：

61. 某高校对一些学生进行问卷调查。在接受调查的学生中，准备参加注册会计师考试的有63人，准备参加英语六级考试的有89人，准备参加计算机考试的有47人，三种考试都准备参加的有24人，准备选择两种考试参加的有46人，不参加其中任何一种考试的有15人。问接受调查的学生共有多少人？（ ）
- A. 120
B. 144
C. 177
D. 192
62. 某商店花10000进了一批商品，按期望获得相当于进价25%的利润来定价。结果只销售了商品总量的30%。为尽快完成资金周转，商店决定打折销售，这样卖完全部商品后，亏本1000元。问商店是按定价打几折销售的？（ ）
- A. 九折
B. 七五折
C. 六折
D. 四八折
63. 甲和乙进行打靶比赛，各打两发子弹，中靶数量多的人获胜。甲每发子弹中靶的概率是60%，而乙每发子弹中靶的概率是30%，则比赛中乙战胜甲的可能性（ ）。
- A. 小于5%
B. 在5%~10%之间
C. 在10%~15%之间
D. 大于15%
64. 小王近期正在装修新房，他计划将长8米、宽6米的客厅按右图所示分别在各边中点连线形成的四边形内铺设不同花色的瓷砖，则需要为最里侧的四边形铺设多少平方米的瓷砖？（ ）



- A. 3
B. 6
C. 12
D. 24
65. 从1, 2, 3, …, 30这30个数中，取出若干个数，使其中任意两个数的积都不能被4整除，问最多可取几个数？（ ）
- A. 14个
B. 15个
C. 16个
D. 17个
66. 为加强机关文化建设，某市直机关在系统内举办演讲比赛，3个部门分别派出3、2、4名选手参加比赛，要求每个部门的参赛选手比赛顺序必须相连，问不同参赛顺序的种数在以下哪个范围之内？（ ）
- A. 小于1000
B. 1000~5000
C. 5001~20000
D. 大于20000

67. 甲、乙、丙三人共同完成一项工程，他们的工作效率之比是5:4:6。先由甲、乙两人合做6天，再由乙单独做9天，完成全部工程的60%。若剩下的工程由丙单独完成，则丙所需要的天数是<
- A. 9
B. 11
C. 10
D. 15
68. 一个圆形草地中央有一个与之同心的圆形花坛，在花坛周围和草地周围上各有3个不同的点，安放了洒水的喷头。现用直管将这些喷头连上，要求任意两个喷头都能被一根水管连闸，问最少需要几根水管？（一根水管上可以连接多少个喷头？）（ ）
- A. 5
B. 8
C. 20
D. 30
69. 甲乙两地相距20公里，小李、小张两人分别步行和骑车，同时从甲地出发沿同一路线前往乙地，小李速度为4.5公里/小时，小张速度为27公里/小时。出发半小时后，小张返回甲地取东西，并在甲地停留半小时后再次出发前往乙地。问小张追上小李时，两人距离乙地多少公里？（ ）
- A. 8.1
B. 9
C. 11
D. 11.9
70. 某游乐园提供打折的团体门票。当团队人数低于50时，票价为10元/人；团队人数在51-100时，票价为8元/人；团队人数超过100时，票价为5元/人。某校甲班有50多人，乙班不足50人，如果以班为单位分别购买门票，两个班一共应付944元；如果两个班联合起来作为一个团体购票，一共要付530元。问乙班有多少人？（ ）
- A. 46
B. 47
C. 48
D. 49
71. 小王在每周的周一和周三值夜班，某月他共值夜班10次，则下月他第一次值夜班可能是几号？（ ）
- A. 2
B. 3
C. 4
D. 5
72. 老王和老赵分别参加4门培训课的考试，两人的平均分数分别为82和90分，单个人的每门课程成绩都为整数且彼此不相等。其中老王成绩最高的一门和老赵成绩最低的一门课程分数相同，问老赵成绩最高的一门课程最多比老王成绩最低的一门课程高多少分？（ ）
- A. 20
B. 22
C. 24
D. 26
73. 设有编号为1, 2, 3, ..., 10的10张背面向上的纸牌，现有10名游戏者，第1名游戏者将所有编号是1的倍数的纸牌翻成另一面向上的状态，接着第2名游戏者将所有编号是2的倍数的纸牌翻成另一面向上的状态，..., 第n名 ($n \leq 10$) 游戏者，将所有编号是n的倍数的纸牌翻成另一面向上的状态，如此下去，当第10名游戏者翻完纸牌后，那些纸牌正面向上的最大编号与最小编号的差是（ ）。
- A. 2
B. 4
C. 6
D. 8
74. 某木匠加工2张桌子和4张凳子共需要10个小时，加工4张桌子和8张椅子需要22个小时，如果该木匠加工桌子、凳子和椅子各10张，共需多少个小时？（ ）
- A. 47.5
B. 50
C. 52.5
D. 55

75. 在某公司年终晚会上，所有员工分组表演节目。如果按7男5女搭配分组，则只剩下8名男员工；如果按9男5女搭配分组，只剩下40名女员工。该公司员工总数为（ ）人。

A. 446

B. 488

C. 508

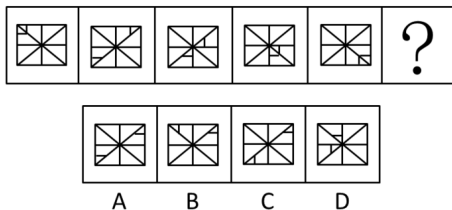
D. 576

第四部分 判断推理

一、图形推理。请按每道题的答题要求作答。

请开始答题：

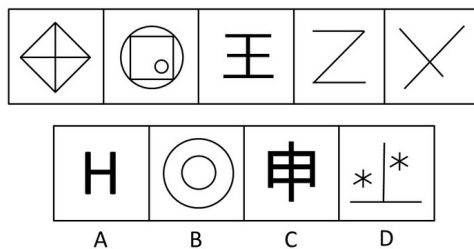
76. 从所给的四个选项中，选择最合适的一个填入问号处，使之呈现一定的规律性（ ）。



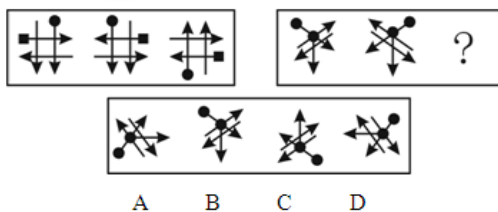
77. 从所给四个选项中，选择最合适的一个填入问号处，使之呈现一定的规律性（ ）。



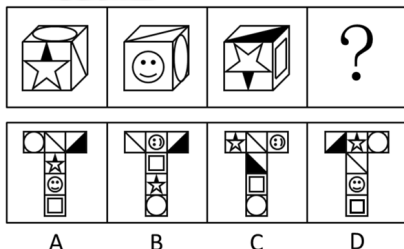
78. 从A、B、C、D四个选项中选出最合适的一个，使得它保持第一行图形所呈现的规律性（ ）。



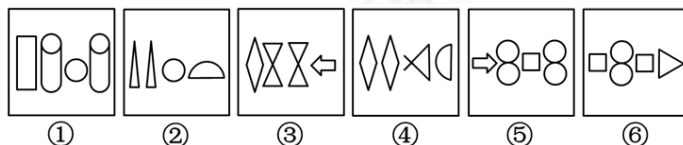
79. 从所给的四个选项中，选择最合适的一个填入问号处，使之呈现一定的规律性（ ）。



80. 从所给四个选项中，选择最合适的一个填入问号处，使之符合所给的题干所示（ ）。



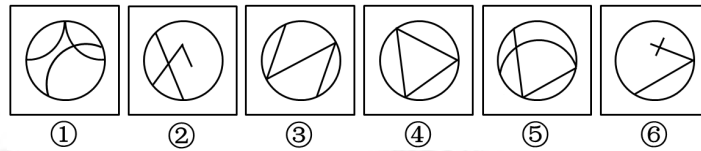
81. 把下面的六个图形分为两类，使每一类图形都有各自的共同特征或规律，分类正确的一项是（ ）。



- A. ①③④, ②⑤⑥
C. ①②⑥, ③④⑤

- B. ①⑤⑥, ②③④
D. ①②④, ③⑤⑥

82. 把下面的六个图形分为两类，使每一类图形都有各自的共同特征或规律，分类正确的一项是（ ）。



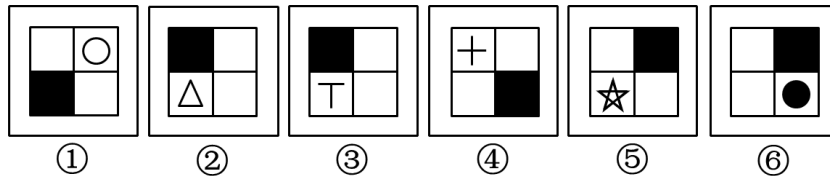
- A. ①②③, ④⑤⑥
B. ①③⑤, ②④⑥
C. ①②⑥, ③④⑤
D. ①④⑥, ②③⑤

83. 把下面的六个小图形分为两类，使每一类图形都有各自的共同特征或规律，分类正确的一项是（ ）。



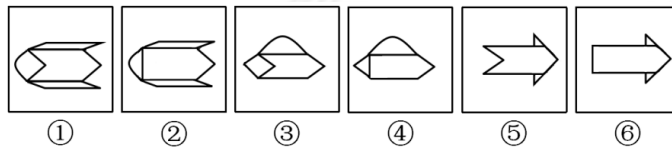
- A. ①②③, ④⑤⑥
B. ①④⑥, ②③⑤
C. ①②⑤, ③④⑥
D. ①⑤⑥, ②③④

84. 把下面的六个图形分为两类，使每一类图形都有各自的共同特征或规律，分类正确的一项是（ ）。



- A. ①②③,④⑤⑥
B. ①③⑤,②④⑥
C. ①④⑤,②③⑥
D. ①④⑥,②③⑤

85. 把下面的六组图形分为两类，使每一类图形都有各自的共同特征或规律，分类正确的一项是（ ）。



- A. ①②⑤, ③④⑥
B. ①③⑥, ②④⑤
C. ①③④, ②⑤⑥
D. ①③⑤, ②④⑥

二、定义判断。每道题先给出定义，然后列出四种情况，要求你严格依据定义，从中选出一个最符合或最不符合该定义的答案。注意：假设这个定义是正确的，不容置疑的。

请开始答题：

86. 绿色公关是指企业以生态与经济可持续发展观念影响公关，选择具有“绿色”特征的媒体开展传播活动，以“绿色”为特色塑造企业形象，赢得公众的信任与支持，给企业带来更多便利和竞争优势的一系列公关活动。

根据上述定义，下列属于绿色公关的是（ ）。

- A. 某快餐企业推出了“种植一棵树”的宣传活动，并倡导减少包装以节约资源，创造了良好的经营环境和社会氛围
B. 某软件公司推出一款绿色软件，无需安装即可使用，移除后也不会有任何残留记录留在电脑里，受到了很多用户的欢迎
C. 某小区居委会按照当地政府的要求进行垃圾分类宣传，在小区举办垃圾分类知识竞赛，现场发放不同颜色的垃圾袋供居民使用，受到大家的欢迎
D. 人民网举办了以“发展低碳经济引领绿色潮流”为主题的“2010首届低碳中国年度创新论坛”，揭晓了2010年低碳中国领军人物、领军品牌、十大创新技术产品等十多个奖项

87. “公众参与”是一种有计划的行动。它通过政府部门与公众之间双向交流，使公民们能参加行政决策过程并且防止和化解公民和政府机构与开发单位之间、公民与公民之间的冲突。
下列选项与上述定义最不符合的是（ ）。
- A. 某市宣传部发布倡议书，号召全体市民“绿色出行”，十万人回应支持
 - B. 某市政府公开新建垃圾填埋选址方案，收到10万条反对意见而缓行
 - C. 某县政府拟在工业园区内引进两条茶籽油生产线，组织附近村民座谈
 - D. 居民多次向某市人大投诉规划局违规审批项目，该项目在实施前被叫停
88. 偶然防卫是指在客观上被害人正在或即将对被告人或他人的人身进行不法侵害，但被告主观上没有认识到这一点，出于非法侵害的目的而对被害人使用了武力，客观上起到了人身防卫的效果。
根据上述定义，下列行为不属于偶然防卫的一项是（ ）。
- A. 甲与乙积怨很深，某日发生冲突后，甲回家拿了手枪打算去杀乙，两人在路上正好碰上，甲先开枪杀死了乙，但开枪时不知乙的右手已抓住口袋中的手枪正准备对其射击
 - B. 甲正准备枪杀乙时，丙在后面对甲先开了一枪，将其打死。而丙在开枪时并不知道甲正准备杀乙，纯粹是出于报复泄愤的目的杀甲，结果保护了乙的生命
 - C. 甲与乙醉酒后发生激烈冲突，两人相互厮打至马路上，正当甲要捡起路边砖头击打乙时，围观人群中有人喊“警察来啦”，甲受惊吓不慎跌落路边河沟溺水身亡，乙安全无事
 - D. 甲身穿警服带着电警棍，冒充警察去“抓赌”，甲抓住乙搜身时，乙将甲打伤后逃离，甲未能得手
89. 政府采购就是指国家各级政府为从事日常的政务活动或为了满足公共服务的目的，利用国家财政性资金和政府借款购买货物、工程和服务的行为。政府采购不仅是指具体的采购过程，而且是采购政策、采购程序、采购过程及采购管理的总称，是一种对公共采购进行管理的制度。
根据上述定义，下列不属于政府采购的是（ ）。
- A. 某市政府规定，单笔超过一定金额的办公用品必须报有关部门集中采购
 - B. 某市政府为方便市民出行，租用电信公司的短信平台给市民发送免费短信
 - C. 某县政府为改善当地教育条件，拨专项资金给某小学翻修校舍，并规定必须严格按招标程序进行
 - D. 某市政府通过公开竞标方式选择一家酒店作为指定接待酒店
90. 析词：只为了表达特殊的需要，临时把某个词拆开使用的修辞手法。
下列属于析词的是（ ）。
- A. 谈笑有鸿儒，往来无白丁
 - B. 上下四方曰宇，古往今来曰宙
 - C. 教学要避免疏而不导，启而不发
 - D. 不爱家何以爱国，不孝父母何以爱人
91. 无影灯效应：指通过诸多要素互相作用而形成的一种整体性机制，可把某问题的不完全或缺点部分减到最低限度，甚至消失，并最终使这一问题得到很好解决。
下列不属于无影灯效应的是（ ）。
- A. 某省为了杜绝医药回扣致使患者看病贵的问题，加大医药采购监督力度，开设了专门的患者热线，在每家医院的咨询服务台公布了卫生部门的举报电话
 - B. 某城市为了形成大力发展绿色生态文明的有效机制，充分集中民众智慧，成立了公民监督委员会和环境保护组织等，让广大人民群众更好地建言献策并发挥监督作用
 - C. 2012年中国网民数量突破5亿，越来越多的人利用互联网媒体充分获取和传播信息，信息和民意也得到广泛的立体传播，中国正在形成透明的信息空间和舆论力量
 - D. 某地方政府为治理公车私用顽症，特聘多名义务监督员，并配有数码相机，监督员可随时抓拍发现的疑车并将照片发送到相关网络，被拍者须对此作出合理的解释。

92. 实在判断：是判断的最简单的形式，这里是肯定地或否定地表明某一单个的事物的某种一般的性质（肯定判断：玫瑰花是红的；否定判断：玫瑰花不是蓝的；无限判断：玫瑰花不是骆驼）。
根据以上定义，下面哪种不是实在判断？（ ）
- A. 地球绕着太阳做圆周运动 B. 地球不是恒星
C. 地球是圆的 D. 地球不是圆的
93. 恐惧症：对某种物体或某种环境的一种非理性的、不适当的恐惧感。一旦面对这种物体或环境时，尽管当时并无危险，恐惧症患者仍会产生一种极端的恐惧感。
根据上述定义，下列属于恐惧症的是（ ）。
- A. 陈女士从小就胆小，一次去乡下办事经过一户农家的门口，冷不防一只体型壮硕的狼狗钻出来凶恶地盯着她，吓得她立刻尖叫着跑掉了。
B. 工程师小徐每次看到印有深海的图片时，就感觉自己像置身于深海之中，四周都是幽暗深邃的海水，感到呼吸困难、心跳加快，害怕得再也不敢看那些图片一眼
C. 晚饭后，有点醉意的老同事执意送大家回去，小李还没到小区门口就喊着要下车，因为他受不了那种害怕会出车祸的精神压力了
D. 看了一部日本恐怖片后，小钱感觉脑子里总是浮现电影里的恐怖场景，好几天都睡不好觉
94. 蘑菇长在阴暗的角落，得不到阳光，也没有肥料，自生自灭，只有长到足够高的时候才会开始被人类关注，可此时它自己已经能够接受阳光了。人们将这种现象称为“蘑菇效应”。
根据上述定义，下列属于蘑菇效应的是？（ ）
- A. 小刘是留学归来的MBA，一进公司就担任了部门经理
B. 演员小王初入行时常常几个月只为演一个小角色，后来终于成名，每天片约不断
C. 某单位给每个层级的管理者规定了一项制度，没有预先培养自己的接班人，就不能升迁
D. 小李工作后一直表现平平，一次偶然的的机会他得到领导赏识，在后来的一个大项目中被委以重任

三、

请开始答题：

95. 定制旅游：指由游客和旅游服务商共同商定旅游方案，以充分满足旅游个性化要求的旅游方式。
下列不属于定制旅游的是（ ）
- A.
某旅行社最近搜出了欧洲十日游，沿海五市一周游等产品，提前订好酒店、机票、景点门票等，游客觉得价格合适就可以购买成行
- B.
某在线旅游网站根据游客的个性预算、旅游目标等制订行程计划，与客户反复沟通，最终形成了客户满意的方案，并排除专人随行监管
- C.
某旅行社组织了一个美食旅游项目，应游客要求精心挑选几家有特色的美食店，预定好当地的个性民居，全程陪游，游客归来后都感到十分满意
- D.
小李同几个酷爱摄影的朋友策划了一个拍摄沙漠风光的活动计划，经过与旅行社多次讨价还价，终于成行，参与者过了一个很有意思的假期

四、类比推理。每道题先给出一组相关的词，要求你在备选答案中找出一组与之在逻辑关系上最为贴近，相似或匹配的词。

请开始答题：

96. 学生：军训：体能
A. 患者：治疗：健康
C. 干群：发展：国家
B. 农民：增产：粮食
D. 制度：改变：和谐
97. 冲突：解决：和谐
A. 吵架：爆发：混乱
C. 噪音：消除：安静
B. 生活：富裕：美好
D. 兴奋：镇定：放松
98. 灯光：黑暗
A. 财富：贫困
C. 笤帚：卫生
B. 墨镜：光明
D. 小草：绿化
99. 明镜：公正
A. 蚍蜉：自不量力
C. 木马：病毒
B. 麒麟：祥瑞
D. 貔貅：军队
100. 促销：利润：商场
A. 游戏：娱乐：游乐园
C. 检修：安全：铁路部门
B. 美化：绿化：城市
D. 诚信：美德：人类
101. 山涧：河流：大海
A. 员工：企业：集团
C. 城市：国家：地球
B. 草：草坪：草原
D. 狂风：闪电：暴雨
102. 班门弄斧 对于 () 相当于 () 对于 五谷丰登
A. 贻笑大方；风调雨顺
C. 无奇不有；国泰民安
B. 无妄之灾；国富民强
D. 东施效颦；天从人愿
103. 雪中送炭：火上浇油
A. 家喻户晓：默默无闻
C. 胸有成竹：不知所措
B. 凤毛麟角：多如牛毛
D. 锦上添花：落井下石
104. 创造：历史
A. 发展：经济
C. 发扬：光大
B. 和谐：社会
D. 生产：积累
105. 固若金汤：不堪一击
A. 指鹿为马：实事求是
C. 安居乐业：丰衣足食
B. 雪中送炭：锦上添花
D. 废寝忘食：发愤图强

五、逻辑判断。每道题给出一段陈述，这段陈述被假设是正确的，不容置疑的。要求你根据这段陈述，选择一个答案。注意：正确的答案应与所给的陈述相符合，不需要任何附加说明即可以从陈述中直接推出。

请开始答题：

106. 信任离不开互相尊重，信任是保持长期人际关系的基础，但是某些私人关系的维持，例如友谊，还需要有共同的爱好，长期的友谊离不开互相尊重和共同爱好的支持。
根据这段文字，可以知道（ ）。
- A. 在长期的人际关系中，相互尊重意味着信任
 - B. 仅由信任和互相尊重支撑的友谊不会持续太久
 - C. 建立在共同爱好基础上的友谊会比其他关系更持久
 - D. 由互相尊重和共同爱好支撑的私人关系总会持续很久
107. 发达国家中心脏病的发病率大约是发展中国家的三倍。有人认为，这主要归咎于发达国家中人们的高脂肪、高蛋白、高热量的食物摄入。相对来说，发展中国家较少有人具备生这种“富贵病”的条件。其实，这种看法很难成立。因为，目前发达国家的人均寿命高于70岁，而发展中国家的人均寿命还不到50岁。
以下哪项如果成立，最能加强上述反驳？（ ）
- A. 统计资料显示，心脏病患者相对集中在中老年年龄段，即45岁以上
 - B. 目前心脏病者呈年轻化趋势
 - C. 发展中国家人们的高脂肪、高蛋白、高热量食物的摄入量，无论是总量还是人均量，都在逐年增长
 - D. 相对发展中国家来说，发达国家的人们具有较高的防治心脏病的常识和较好的医疗条件
108. 政府应该不允许烟草公司将其营业收入中扣除广告费用。这样的话，烟草公司将会缴纳更多的税金。烟草公司只好提高自己的产品价格，而产品价格的提高正好可以起到减少烟草购买的作用。
以下哪项是题干论点的前提？（ ）
- A. 烟草公司不可能降低其他方面的成本来抵销多缴的税金
 - B. 如果它们需要付高额的税金，烟草公司将不再继续做广告
 - C. 如果烟草公司不做广告，香烟的销售量将受到很大影响
 - D. 烟草公司由此所增加的税金应该等于价格上涨所增加的盈利
109. 婚姻使人变胖。作为此结果证据的是一项调查结果：在13年的婚姻生活中，女性平均胖了23斤，男性平均胖了18斤。
为了做进一步的研究，支持这一观点，下列四个问题中应先做哪一个？（ ）
- A. 为什么调查的时间是13年，而不是12或者14年？
 - B. 调查中的女性和调查的男性态度一样积极吗？
 - C. 与调查中年龄相当的单身汉在13年中的体重增加或减少了多少？
 - D. 调查中所获得的体重将维持一生吗？
110. 随意挑选一组人去听一位演讲者对一大群注意力高度集中的听众所做的行政伦理学讲演。再随意挑选另一组人去听这位讲演者对一小群注意力不太集中的听众所做的同样内容的讲演。前一组人认为，该讲演者思考深入、自信；后一组人却认为，他的表达模糊、冗长。
题干中的信息最能够反驳以下哪一项断言？（ ）
- A. 人们对讲演者个人素质的判断主要取决于讲演者所做讲演的内容和方式
 - B. 如果第二组人听了该讲演者的第一次讲演，他们所作出的判断将会很不相同
 - C. 同一个社会行为，当被置于不同的社会语境中评价时，不同的人会得出不同的判断
 - D. 一个人对某位讲演者的讲演质量的评判，会受到其他人对这次讲演的反应的影响

111. 世卫组织指出，全世界的自杀率已经上升了60%，特别是在发展中国家，这种现象更为严重。大部分自杀事件发生在亚洲，该地区的自杀人数占全球总数的60%。中国、印度和日本由于人口较多，因此其自杀人数占到了总数的40%。此外，自杀已经成为15岁至34岁年轻人的第三大死因。
根据题干中的信息，可以确定下面哪一选项正确？（ ）
- A. 由题干信息，不能确定日本的自杀率上升幅度
B. 日本的青少年自杀问题很严重
C. 印度妇女自杀问题很严重
D. 中国的自杀率上升高于60%
112. 王涛的好朋友都喜欢歌手周某的歌。王涛在某咨询公司工作的同学都不喜欢歌手周某的歌。丽莎既是王涛的同学，也是他的好朋友，米蓝是王涛的同学但不在该咨询公司工作，贺宇是王涛的同学但不喜欢歌手周某的歌。
根据以上陈述，一定可以得出以下哪项？（ ）
- A. 米蓝喜欢歌手周某的歌
B. 王涛不在该咨询公司工作
C. 贺宇在该咨询公司工作
D. 丽莎不在该咨询公司工作
113. 表面上看，1982年大学毕业生与1964年的大学毕业生相像，他们相当保守：衣着良好并且对传统感兴趣，尊重他们的父母。但有一个根深蒂固的区别：大多数被调查的1982年的大学毕业生在大学一年级时宣称获得好的收入是他们决定上大学的一个重要原因。
上段文字最支持的结论是（ ）。
- A. 1964年的大学毕业生实际上比1982年的大学毕业生保守
B. 多数1964年大学毕业生在大学一二年级改变了他们上大学的目的
C. 少于一半的1964年大学毕业生在大学一年级时宣称上大学是为了增加他们的收入
D. 1964年的大学毕业生与1982年的大学毕业生相比较而言对于财政的关心是表面的
114. 工人对工作的不满意，不仅产生于工作环境和工资本身，而且很大程度上依赖于工人对工作的期望值与实际情况之间的差距。因此，大公司招聘员工，通过许愿来达到吸引工人的目的，是一种不明智的做法。
从以上观点中可以推出下列哪项结论（ ）。
- I. 只要工人的期望值足够低，那么，不论工作本身如何，工人的满意程度都会很高；
II. 只要工作环境舒适并且工资水平较高，那么不论工人期望值如何，工人都不会产生不满意的情绪；
III. 随着工人期望值的增加，尽管企业有效地改善了工作环境、提高了员工待遇，员工的不满意情绪仍有可能得不到消除。
- A. 只有 I
B. 只有 II
C. 只有 III
D. 只有 I、III
115. 兄弟姐妹四人，甲、乙、丙、丁。甲说：丁是最小的妹妹。乙说：兄弟姐妹中只有哥哥一个男孩。丙说：我是甲的姐姐。
如果上述都为真，以下推断正确的是（ ）。
- A. 甲排行第二，是男孩；乙排行第三，是女孩
B. 乙排行第二，是女孩；丙排行第一，是女孩
C. 丙排行第二，是女孩；丁排行最小，是女孩
D. 甲排行第二，是女孩；丙排行第一，是女孩

第五部分 资料分析

针对下列图、表或文字回答问题。你应根据资料提供的信息进行分析、比较、计算、处理。你可以在题本上运算。

请开始答题：

一、根据以下资料，回答问题。

2015年1-3月，国有企业营业总收入103155.5亿元，同比下降6%。其中，中央企业收入63191.3亿元，同比下降7%；地方国有企业收入39964.2亿元，同比下降4.2%。

1-3月，国有企业营业总成本100345.5亿元，同比下降5.1%，其中销售费用、管理费用和财务费用同比分别下降2.9%、增长2.3%和增长7.3%。其中，中央企业成本60216.5亿元，同比下降6.4%；地方国有企业成本40129.0亿元，同比下降3.1%。

1-3月，国有企业利润总额4997.3亿元，同比下降8%。国有企业应交税金9383.0亿元，同比增长0.13%。

3月末，国有企业资产总额1054875.4亿元，同比增长12%；负债总额685766.3亿元，同比增长11.9%；所有者权益合计369109.1亿元，同比增长12.2%。其中，中央企业资产总额554658.3亿元，同比增长10.5%；负债总额363304.0亿元，同比增长10.4%；所有者权益为191354.4亿元，同比增长10.7%。地方国有企业资产总额500217.1亿元，同比增长13.8%；负债总额322462.3亿元，同比增长13.7%；所有者权益为177754.7亿元，同比增长13.9%。

116. 2014年1-3月，国有企业营业总收入最接近（ ）。

- A. 12万亿元
- B. 11.5万亿元
- C. 11万亿元
- D. 10.5万亿元

117. 2015年1-3月，在销售费用、管理费用和财务费用中，占国有企业营业总成本的比重同比上升的有几项？（ ）

- A. 0
- B. 1
- C. 2
- D. 3

118. 2015年3月末，中央企业所有者权益占国有企业总体比重比上年同期约（ ）。

- A. 下降了0.7个百分点
- B. 下降了1.5个百分点
- C. 上升了0.7个百分点
- D. 上升了1.5个百分点

119. 2015年3月末，中央企业的资产负债率（负债总额÷资产总额）约在以下哪个范围内？（ ）

- A. 50%以下
- B. 50%~60%
- C. 60%~70%
- D. 70%以上

120. 能够从上述材料中推出的是（ ）。

- A. 2015年1~3月，中央和地方国有企业营业成本均低于同期营业收入
- B. 2014年1~3月，国有企业应交税金占同期营业总收入的一成以上
- C. 2015年3月末，国有企业资产总额同比增长不到12万亿元
- D. 2015年3月末，地方国有企业资产负债率高于上年同期水平

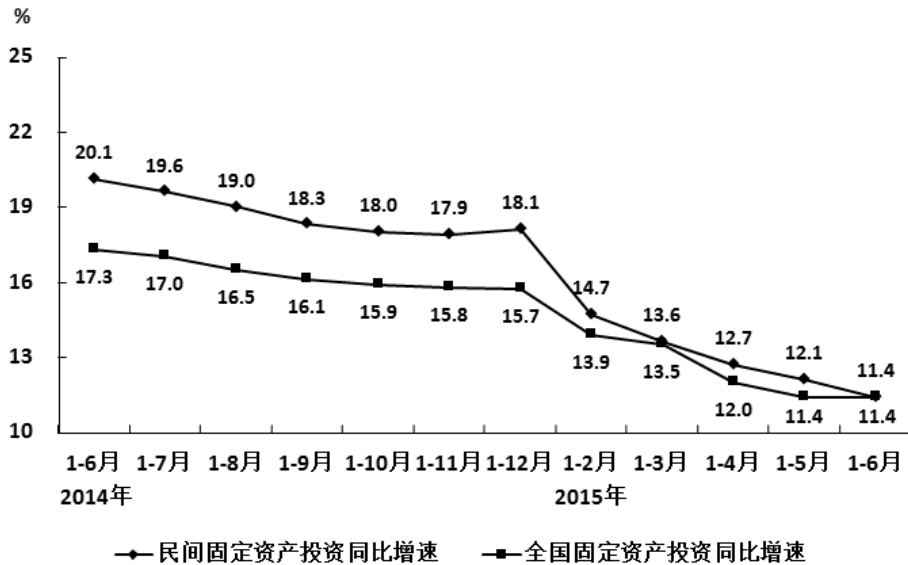
二、根据以下资料，回答问题。

2011年前十一个月，某省高新技术产业完成总产值3763.00亿元，实现增加值896.31亿元。增加值同比增长30.74%，比规模以上工业增加值高11.64个百分点，占规模以上工业增加值的比重达到25.32%。高新技术产业各领域的增加值如下图所示：<

三、根据以下资料，回答问题。

2015年1—6月民间固定资产投资154438亿元，占全国固定资产投资的比重为65.1%，比1—5月下降0.3个百

民间固定资产投资和全国固定资产投资同比增速



分点。

2015年1—6月第一产业民间固定资产投资4992亿元，同比增长31.4%；第二产业77298亿元，增长10.8%；第三产业72148亿元，增长10.9%。第二产业中，工业民间固定资产投资76464亿元，同比增长10.8%，增速比1—5月份回落0.4个百分点。其中，采矿业3092亿元，下降7.9%，降幅比1—5月份收窄2.1个百分点；制造业69519亿元，增长10.7%，增速回落0.6个百分点；电力、热力、燃气及水生产和供应业3853亿元，增长32.8%，增速回落1.4个百分点。

126. 2014年1—6月全国固定资产投资约为多少万亿元（ ）。

- A. 14
- B. 16
- C. 21
- D. 24

127. 2015年1—6月民间固定资产投资同比增速比上年同期回落多少个百分点（ ）。

- A. 4.3
- B. 5.9
- C. 6.7
- D. 8.7

128. 2015年上半年，三次产业中民间固定资产投资额占全国固定资产投资总额比重高于上年同期水平的有（ ）。

- A. 第一产业
- B. 第二产业
- C. 第二产业和第三产业
- D. 第一产业和第三产业

129. 与2013年上半年相比，2015年上半年全国固定资产投资约上升了（ ）。

- A. 11.4%
- B. 17.3%
- C. 28.7%
- D. 30.7%

130. 根据资料，下列说法正确的是（ ）。

- A. 2015年3—6月，各月的全国固定资产累计投资额同比增速逐月递减
- B. 2015年6月民间固定资产投资占全国固定资产投资的比重小于65.1%
- C. 2015年1—4月民间固定资产投资同比增速比1—3月回落1.5个百分点
- D. 2015年1—5月采矿业民间固定资产投资同比增速比制造业低1.3个百分点

四、根据以下资料，回答问题。

2011年，我国规模以上电子信息制造企业业务成本占主营业务收入的比重达到88.7%，比2010年提高0.6个百分点，行业中亏损企业2497个，同比增长36.7%，企业亏损面达16.6%，亏损企业亏损额同比增长52.9%。

2011年我国规模以上电子信息制造业发展状况

	单位	完成状况	同比增速 (%)
主营业务收入	亿元	74909	17.1
利润总额	亿元	3300	16.8
税金总额	亿元	1245	31
从业人员	万人	940	6.8
固定资产投资	亿元	8183	56
电子信息产品进出口总额	亿美元	11292	11.5
其中：出口额	亿美元	6612	11.9
进口额	亿美元	4680	11

	单位	完成状况	同比增速 (%)
手机	万部	113257.6	13.5
微型计算机	万台	32036.7	30.3
彩色电视机	万台	12231.4	3.4
集成电路	亿块	719.6	10.3
程控交换机	万线	3034	-3.2

131. 2011年我国规模以上电子信息制造业实现主营业务收入比上年增加约多少亿元? ()
- A. 6303
B. 10939
C. 12809
D. 18600
132. 按照2011年产量的同比增长率从低到高的排序, 以下正确的是 ()。
- A. 彩色电视机、微型计算机、手机
B. 彩色电视机、手机、集成电路
C. 手机、微型计算机、集成电路
D. 彩色电视机、集成电路、微型计算机
133. 2011年, 我国规模以上电子信息制造企业数量约为多少万家? ()
- A. 1
B. 1.5
C. 2
D. 2.5
134. 2011年, 我国规模以上电子信息制造业人均创造利润约比上年增长? ()
- A. 9%
B. 11%
C. 15%
D. 17%
135. 以下说法正确的是 ()。
- A. 2011年我国规模以上电子信息制造业整体呈亏损状况
B. 2010年我国规模以上电子信息制造业税金总额超过1千亿元
C. 2011年我国规模以上电子信息制造业主营业务成本在7万亿元以下
D. 2011年我国规模以上电子信息制造业进口额增量略高于出口额