

2019年黑龙江《行测》真题（公检法）（网络汇总版）

第一部分 常识判断

根据题目要求，在四个选项中选出一个最恰当的答案。

请开始答题：

1. 习近平总书记在中央政治局第十三次集体学习时强调，要精准有效处置重点领域风险，深化金融改革开放，增强金融服务_____能力，坚决打好防范化解包括金融风险在内的重大风险攻坚战，推动我国金融业健康发展。
A. 实体经济
B. 私营经济
C. 中小企业
D. 国有企业
2. 关于生态文明建设，下列法正确的是：
A. 蓝天保卫战，是全面建成小康社会的三大攻坚战之一
B. 加快建构生态文明体系是解决污染问题的根本之策
C. 生态环境安全，是经济社会持续健康发展的重要保障
D. 地方政府主要领导是本行政区域生态环境保护第一责任人
3. 2018年我国科技界取得了一系列重大成果，这些成果中不包括：
A. 第二艘航母出海试航
B. 嫦娥四号探测器发射成功
C. 造岛神器“天鲲号”下水
D. 国产大型水陆两栖飞机水上首飞
4. 下列关于仿生生物学的应用对应关系不正确的是：
A. 子弹头列车——翠鸟
B. 发光纤维——萤火虫
C. 维克罗尼龙搭扣——苍耳
D. 全天然空调系统建筑——非洲白蚁巢穴
5. 下列成语和人物的对应关系错误的是：
A. 口蜜腹剑——李义府
B. 十面埋伏——项羽
C. 程门立雪——杨时
D. 东床快婿——王羲之
6. 下列历史事件与人物搭配正确的是：
A. 车同轨，书同文——周武王
B. 烽火四起戏诸侯——周宣王
C. 一骑红尘妃子笑——唐睿宗
D. 锦帆未落干戈起——隋炀帝
7. 下列气体是人体能够产生的，能发挥抗炎、神经功能调节和血管松弛等作用，但若吸入过量会与血红素结合导致中毒的是：
A. 氨气
B. 硫化氢
C. 一氧化碳
D. 一氧化氮
8. 下列选项对“夏满芒夏暑相连”中节气的表述错误的是：
A. “小满”表明了降水的时间和强度
B. “芒种”反映了自然物候现象或农事活动
C. “立夏”“夏至”体现了寒来暑往的季节变化
D. “小暑”“大暑”表明了一年之中最热的时段
9. 下列有关工伤的说法正确的是：
A. 上下班途中遭受的交通事故伤害不可以定为工伤
B. 由于员工的重大过失造成的工伤，企业无需承担责任
C. 职工认为是工伤，但单位不认为是工伤的，由单位承担举证责任
D. 购买“五险”后，因工伤引起的所有费用可由工伤保险报销，公司不承担费用

10. 下列关于我国河流的说法不正确的是：
- A. 黑龙江是中国的内河
 - B. 长江最大的支流是汉江
 - C. 黄果树瀑布、桂林山水都位于珠江流域
 - D. “大漠孤烟直、长河落日圆”中的“河”指黄河
11. 下列有关京杭大运河的说法错误的是：
- A. 隋唐大运河运输最多的商品是茶叶和盐
 - B. “南水北调”的东线工程借助了京杭大运河
 - C. 明清大运河与隋唐大运河相比，不再经过洛阳
 - D. 是世界上开凿最早、长度最长的一条人工运河
12. 下列关于绘画作品的描述错误的是：
- A. 《富春山居图》描绘的是初秋的景色
 - B. 《吃土豆的人》是梵高早期的代表作
 - C. 《自由引导人民》取材于法国七月革命
 - D. 《虢国夫人游春图》描写的是杨玉环出游
13. 关于地球南北极，下列说法不正确的是：
- A. 南极是地球上唯一没有永久居民的大陆
 - B. 每年6—8月是最适合去北极旅行的季节
 - C. 中国在南极建立了长城站、黄河站和昆仑站
 - D. 雪龙2号是我国自主建造的首艘极地破冰船
14. 下列关于全国经济普查的说法错误的是：
- A. 根据《全国经济普查条例》的规定，经济普查每5年进行一次
 - B. 2019年1月1日，第四次全国经济普查现场登记工作正式启动
 - C. 普查取得的单位和个人资料，不作为对普查对象实施处罚的依据
 - D. 目的是全面调查我国第一、第二、第三产业的发展规模、布局和效益
15. 下列哪一种现象的物理原理不同于其他三项：
- A. 水中的手指变粗
 - B. 池水看起来比实际的浅
 - C. 只有瞄准鱼的下方才能叉到鱼
 - D. 小明在宁静的湖边看见“云在水中飘”
16. 下列关于我国地方性法规的表述，正确的是：
- A. 地方性法规特定情况下可由省、自治区和直辖市人民政府制定
 - B. 部分地方性法规可由设区的市的人民代表大会及其常务委员会制定
 - C. 地方性法规只能由省、自治区和直辖市人民代表大会常务委员会制定
 - D. 地方性法规必要时报全国人民代表大会常务委员会和国务院备案

第二部分 言语理解与表达

本部分包括表达与理解两方面的内容。请根据题目要求，在四个选项中选出一个最恰当的答案。

请开始答题：

17. 圈椅是明代家具中最为经典的制作。明代圈椅，造型古朴典雅，线条简洁流畅，制作技艺达到了_____的境地，“天圆地方”是中国人文化中_____的宇宙观，不但建筑受其影响，也_____到了家具的设计之中。
依次填入划横线部分最恰当的一项是（ ）。
A. 别有匠心 普遍 融合
B. 巧夺天工 特殊 融会
C. 炉火纯青 典型 融入
D. 入室升堂 独特 融化
18. 科学已经成为当下社会的主流命题，无论从事什么工作都无法忽视它、绕过它。因此从某种程度来说，科学与艺术，或者说理性与感性的边界正在_____。艺术展上艺术家们摆弄起了宇宙爆炸、量子世界，而不少科学家也乐于把科学仪器下观察到的景象捕捉下来，展示到人们面前，其精美程度丝毫不亚于艺术家的加工描摹。
填入划横线部分最恰当的一项是（ ）。
A. 消遁
B. 消失
C. 消除
D. 消弭
19. 某航天科工集团研制出的民航风切变预警系统，克服了预警难度大、精度低等现实问题，可以为飞机的起飞降落_____提供风切变预警信息，还能够提供机场未来48小时的天气预报。
填入划横线部分最恰当的一项是（ ）。
A. 即时
B. 及时
C. 实时
D. 适时
20. 打开书本，一股久违了的墨香扑面而来，摩挲纸张，淡淡的凹凸感非常舒服。味觉、视觉、触觉顿时都活泛起来，连脑细胞也显得格外活跃。读累了，就闭眼歇一歇，顺便回味刚读过的情节，思考作者的_____；看到精彩的描写和精辟的议论，就反复重读、吟咏再三，读到妙处更是_____。
依次填入划横线部分最恰当的一项是（ ）。
A. 春秋笔法 弹冠相庆
B. 言外之意 低头折节
C. 弦外之音 额手称庆
D. 微言大义 击节赞叹
21. 关于科学革命的讨论_____于十七世纪。不过，其时革命尚在_____地展开，相关讨论的焦点集中在科学的本性，而未有所谓“科学革命史”的理解。到十九世纪，现代科学的基本模式逐渐定型，一些学者便回到现代科学的源头做起了编史和整理工作。
依次填入划横线部分最恰当的一项是（ ）。
A. 滥觞 如火如荼
B. 起源 风起云涌
C. 溯源 轰轰烈烈
D. 发端 方兴未艾
22. 由于史料异常丰富、古今中西互相杂糅等因素，导致中国近代史愈研究愈错综纷纭，不知如何贯通。如果_____于从某一角度进行宏观叙述，又会自觉或不自觉地遗漏掉许多本不应忽视的人物、学说与史事，时移世易，便容易被有心之士以“恢复历史真相”为借口，将另一些或许本不能成为“主线”的因素聚焦放大，以史书为政论，_____，灌入自己心中的济世良方。
依次填入划横线部分最恰当的一项是（ ）。
A. 纠结 偷梁换柱
B. 拘泥 移花接木
C. 立足 避重就轻
D. 着眼 暗度陈仓

23. 说起乡愁，那是一种_____的情怀，住在心中的故乡常常鲜活在那里。故乡是安放你的灵魂、温暖你的寂冷的地方，是接纳你的疲惫、抚慰你的忧伤的地方。翻开一页页被繁忙弄乱的过往，记忆中的余香总_____于儿时的故乡。
依次填入划横线部分最恰当的一项是（ ）。
- A. 难以割舍 回荡
B. 与生俱来 氤氲
C. 永生难忘 徜徉
D. 刻骨铭心 徘徊
24. 马达加斯加这个被世界遗忘了很多年的孤岛，由于动画电影《马达加斯加》而意外走红，其实绝大部分人都没去过马达加斯加，只能从一些_____中构建自己心目中的那个世外桃源，和真实的马达加斯加往往_____。
依次填入划横线部分最恰当的一项是（ ）。
- A. 道听途说 背道而驰
B. 只言片语 相去甚远
C. 细枝末节 大相径庭
D. 遗文逸事 截然不同
25. 为应对全球气候变暖，各国科学家都在开展地球科学研究。最近，有科学家在《科学》上发表论文提出缓解温室效应的两种方案。其中一种方案是在稍低于卷云自然形成的上层大气中加入微小的沙尘颗粒，以_____卷云的形成。卷云不同于会反射阳光的白云，而更像覆盖在地球上的毯子，困住从地球向太空辐射的热量，地球也就越来越_____。
依次填入划横线部分最恰当的一项是（ ）。
- A. 减少 冷
B. 增加 冷
C. 减少 热
D. 增加 热
26. 连环画是大众艺术。然而，面对大众的需求，是迎合还是引导，也是连环画家必须面对的问题之一。回顾连环画从兴盛走向衰落的过程，不难发现，正是一些急功近利的出版商一味_____、迎合大众的喜好，重数量轻质量，导致大批读者和作者流失，造成了连环画长时间_____，最终淡出大众视野。
依次填入划横线部分最恰当的一项是（ ）。
- A. 揣摩 青黄不接
B. 琢磨 墨守成规
C. 研究 良莠不齐
D. 推敲 停滞不前
27. 纪录片《苏东坡》以苏东坡贬谪黄州四年的生活为横切面，_____其一生的心路历程，从文学、艺术、美食、情感等维度进行透视，多角度地_____其生命感悟、精神嬗变和艺术升华的过程，以及对中国传统文化产生的深远影响。同时，辅之以当今最新的研究成果，再现了一个最丰富、最接近本真的苏东坡形象。
依次填入划横线部分最恰当的一项是（ ）。
- A. 关照 阐释
B. 记载 解说
C. 记录 阐述
D. 观照 解读
28. 胰岛素是由胰岛分泌的一种激素，功能是促进细胞_____葡萄糖。如果胰岛细胞受到损害，不能分泌足量胰岛素，那么人体血糖含量就会升高。多余的血糖会进入尿中，这就是糖尿病。糖尿病是一种对人体危害很大的慢性病，对于糖尿病患者来说，注射胰岛素显然是最_____的疗法。
依次填入划横线部分最恰当的一项是（ ）。
- A. 合成 直接
B. 消耗 主流
C. 转化 简单
D. 分解 有效

29. 夏季天气炎热，人很容易犯困、无精打采，这时不妨吃几颗葡萄来帮你提神、消除疲乏之意。因为在葡萄中含有丰富的葡萄糖成分，且很容易被人体吸收利用，从而为大脑供给所需能量，快速恢复大脑活力。同时，葡萄中还含有较多的氨基酸，能对神经产生良好的 _____，帮助人体 _____ 衰弱的神经，这也是提神醒脑的有效途径。
依次填入划横线部分最恰当的一项是（ ）。
- A. 刺激 调理
B. 应激 调节
C. 激变 调整
D. 激发 调剂
30. 20多年过去，原始创新，集成创新，引进消化吸收再创新，中国迅速缩短了同发达国家在信息领域的差距，成为了拥有国民最多的网络大国，一大批颇具竞争力的网信企业 _____，一大批市场需求旺盛的新应用 _____，引领着经济的转型升级，也倒逼着治理体系体制机制的改革创新。
依次填入划横线部分最恰当的一项是（ ）。
- A. 如鱼得水 屡见不鲜
B. 异军突起 层出不穷
C. 崭露头角 比比皆是
D. 雨后春笋 数不胜数
31. 极光多姿多彩，变化万千，任何彩笔都很难绘出那在严寒的两极空气中嬉戏无常、变幻莫测的炫目之光。在自然界中还没有哪种现象能与之 _____。极光有时出现时间极短，犹如节日的焰火，在空中闪现一下就消失得无影无踪；有时却可以在苍穹之中 _____ 几个小时；有时像一条彩带，有时像一团火焰，有时像一张五光十色的巨大银幕，仿佛上映一场球幕电影，给人视觉上极美的享受。
依次填入划横线部分最恰当的一项是（ ）。
- A. 抗衡 映照
B. 媲美 辉映
C. 相较 迥迤
D. 匹敌 延宕
32. 互联网发展初期，传统媒体出于新闻传播和培育新渠道的目的 _____ 网络媒体进行转载，“拿来主义”成为各大平台的“潜规则”，但过去一年来，这个定律似乎正在被打破。网络媒体迎来内容创业的风潮，付费社区、音频问答、在线课程等知识付费产品表现抢眼，互联网内容付费 _____。
依次填入划横线部分最恰当的一项是（ ）。
- A. 支持 蔚然成风
B. 允许 方兴未艾
C. 默许 悄然兴起
D. 同意 深入人心
33. 资源稀缺会产生相应的认知机制，改变人们观察事物和做出决策的方式，长期的资源稀缺会形成稀缺心态，导致与稀缺资源有关的问题自动 _____ 更多注意力，形成注意力“聚焦”。
填入划横线处最恰当的一项是（ ）。
- A. 分散
B. 吸引
C. 集中
D. 分配
34. 选互联网新技术新应用对文化产业进行全方位、全角度、全产业链的改造，释放数字化对文化产品发展的放大、叠加和倍增作用，推动互联网、移动网与文化之间形成 _____ 的新形态。
填入划横线处最恰当的一项是（ ）。
- A. 唇齿相依
B. 休戚与共
C. 同舟共济
D. 水乳交融
35. 如果初创企业一味盲目地追求产品开发和获取早期客户的速度，而忽略了产品质量的话，到时往往会 _____，虽然表面看来产品是出来了，但是支撑产品的代码或硬件可能会变得难以维护和扩展，就算公司短期内看上去获得了成功，但产品里面的技术债务却积少成多，隐患也随之倍增，到时可能会 _____。
依次填入划横线部分最恰当的一项是（ ）。
- A. 过犹不及 功亏一篑
B. 事与愿违 积重难返
C. 欲速不达 作茧自缚
D. 得不偿失 于事无补

36. 将不能量化的诗歌（以及纯文学）评价标准和人工智能的算法标准拼接在一起，本来就是一件不伦不类的事。人工智能在科学研究、生产劳动等方面的贡献，足以证明其本领之强，_____。人类也完全没必要拿自己的优势去跟人工智能的缺点比较，即使科技再发达，想必在未来很长的一段时间内，诗歌与文学的世界依然是人类情感和灵魂最佳的栖息地，守卫好我们的心灵家园，依然要靠人类自身的智慧与创造力。
填入划横线部分最恰当的一项是（ ）。
- A. 毫无疑问将能够实现诗歌评价标准的量化 B. 完全可以取代人类智慧自主开展诗歌创作
C. 没必要和人类智慧在诗歌创作上一决高下 D. 却不能弥补人类智慧在诗歌创作上的缺陷
37. “上海精神”将“互信”排在首位，充分体现了“和合”精神，这是因为不管是一个国家内部还是国与国之间，都是信任为先。《论语》中，子贡向孔子问政，在“足食”“足兵”“民信”三者之间，如何做选择？孔子认为“信”是优先的价值选择，因为“民无信不立”。“互信”的观念，超越了国际上流行的一般国际关系理念，让“做好邻居”深入人心。上合组织多年来的发展也充分证明了这一点。从最开始对于边界问题的成功解决，到应对恐怖主义、分裂主义和极端主义威胁，再到当前强调求同存异、合作共赢，“互信”是基础。
这段文字介绍了（ ）。
- A. “互信”对现今国际关系理念的超越 B. 儒家思想对解决当前国际问题的启示
C. 上合组织在国际舞台上发挥作用的基础 D. “上海精神”强调“互信”的背景和意义
38. 中国接入国际互联网以来，互联网信息技术得到迅猛发展。在网络技术、移动芯片、智能终端、云计算、大数据、卫星导航等多个领域实现了重大突破，取得了一些显著的成就。网络技术自主创新能力显著增强，智能终端制造业加快赶超，不断培育新技术新应用形成新业态。但应该看到，与世界先进水平相比，我们还存在一定差距，目前世界局势波诡云谲，中国必须掌握核心技术，在新时代才能避免受制于人，掌握我国互联网发展的主动权。
这段文字意在说明（ ）。
- A. 核心技术突破才是一个国家科技实力的彰显
B. 我们与世界先进水平之间依然存在一定差距
C. 互联网发展的主动权应掌握在我们自己手里
D. 新时代更需突破互联网核心技术这个“命门”
39. 迄今为止，还没有任何一个通用智能系统能接近人类水平。“现有人工智能系统的通用性较差，这与其计算理论基础和系统设计原理有密不可分的关系。”图灵机模型取决于人对物理世界的认知程度，因此人限定了机器描述问题、解决问题的水平。冯·诺伊曼体系结构是存储程序式计算，程序也是预先设定好的，无法根据外界的变化和需求的变化进行自我演化。而我们的大脑却是一个出色的、能够长时间稳定工作的通用智能系统，不仅能举一反三，处理视觉、听觉、语言、学习、决策、推理、规划等各类问题，_____。
填入划横线部分最恰当的一项是（ ）。
- A. 还具有区别于其他高级物种的丰富情感。
B. 还能够主动调整与外界进行交流的方式。
C. 还可以在与自然的交互中不断提高认知的程度。
D. 还可以在学习和发育过程中不断自适应和进化。

40. ①凡是具有人文精神的作品，便是很好的教科书
②能培育人的认知能力和审美能力，提高人的精神素养，净化人的灵魂，给人以力量、智慧和愉悦
③早在先秦时代就有《诗经》的四言体和《楚辞》的骚体，尔后不断发展出各种体裁，到五四时期出现自由诗
④我国有“诗国”的美称，诗歌起源之早，数量之多，内容之丰富，艺术之精湛，对社会生活影响之大，在世界文化史上都是罕见的
⑤无论是山水诗、田园诗、边塞诗，还是言志诗、爱情诗、哲理诗
⑥诗歌是我国文化艺术的瑰宝

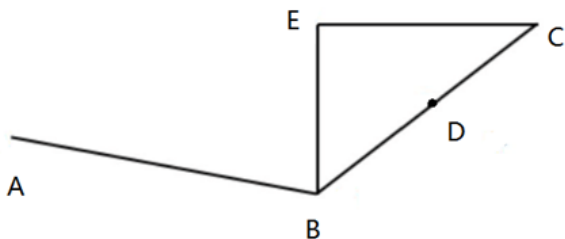
将以上6个句子重新排列，语序正确的是（ ）。

- A. ⑥①⑤②④③
B. ④③⑥⑤①②
C. ④③⑤②⑥①
D. ⑥③④①⑤②

第三部分 数量关系

在这部分试题中，每道题呈现一段表述数字关系的文字，要求你迅速、准确地计算出答案。
请开始答题：

41. 某公交站附近区域停放A型共享单车4辆，B型单车5辆，C型单车6辆，一公交车到站后下车的乘客随机选择其中13辆单车骑走，问B型和C型全部被骑走的概率在以下哪个范围内？（ ）
- A. 在10%以下
B. 在10%—15%之间
C. 在15%—20%之间
D. 在20%以上
42. 小林在距家1.5公里的工厂上班。一天，小林出发10分钟后，小林的父亲老林发现小林的手机没带，立即追出去，并在距离工厂500米的地方追上了他。如果老林追赶的速度比小林快6公里/小时，那么，下列关于小林速度X，求值所列方程正确的是（ ）。
- A. $\frac{1}{X} - \frac{1}{X+6} = \frac{1}{6}$
B. $\frac{1}{X} - \frac{1}{X+6} = 10$
C. $\frac{1}{X+6} - \frac{1}{X} = \frac{1}{6}$
D. $\frac{1}{X+6} - \frac{1}{X} = 10$
43. 某次田径运动会中，选手参加各单项比赛计入所在团体总分的规则为：一等奖得9分，二等奖得5分，三等奖得2分。甲队共有10位选手参赛，均获奖。现知甲队最后总分为61分，问该队最多有几位选手获得一等奖？（ ）
- A. 3
B. 4
C. 5
D. 6
44. 甲乙两人相约骑共享单车运动健身。停车点现有9辆单车，分属3个品牌，各有2、3、4辆。假如两人选择每一辆单车的概率相同，两人选到同一品牌单车的概率约为（ ）。
- A. 1/6
B. 2/9
C. 5/18
D. 1/3
45. 人行道ABC，BC长286cm，D为BC中点。AD直线距离为324cm，过B点做直线BE，过C点做垂线与BE交于E点，问AE最小距离为多少？（ ）



- A. 38cm
B. 168cm
C. 176cm
D. 181cm
46. 一家早餐店只出售粥、馒头和包子。粥有三种：大米粥、小米粥和绿豆粥，每份1元；馒头有两种：红糖馒头和牛奶馒头，每个2元；包子只有一种三鲜大肉包，每个3元。陈某在这家店吃早餐，花了4元钱，假设陈某点的早餐不重样，问他吃到包子的概率是多少？（ ）
- A. 30%
B. 35%
C. 40%
D. 45%

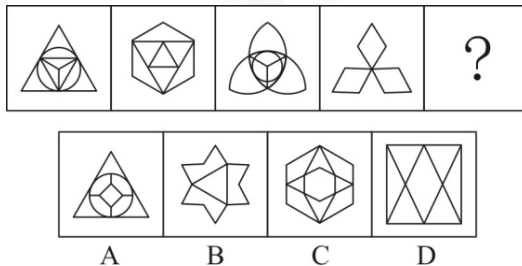
47. 太阳高度角是太阳光的入射方向和地平面之间的夹角。在正午时，太阳高度角为 $90^\circ - |\delta - \varphi|$ ， φ 为纬度， δ 为太阳赤纬。已知小陈的身高为180厘米，他所在地的纬度为 43° ，当日太阳赤纬为 13° 。那么，在正午时他的影子长度约为（ ）。
- A. 60厘米
B. 90厘米
C. 104厘米
D. 208厘米
48. 小张、小李和小王三人以擂台形式打乒乓球，每局2人对打，输的人下一局轮空。半天下来，小张共打了6局，小王共打了9局，而小李轮空了4局。那么，小李一共打了多少局？（ ）
- A. 5局
B. 7局
C. 9局
D. 11局
49. 某楼盘的地下停车位，第一次开盘时平均价格为15万元/个；第二次开盘时，车位的销售量增加了一倍、销售额增加了60%。那么，第二次开盘的车位平均价格为（ ）。
- A. 10万元/个
B. 11万元/个
C. 12万元/个
D. 13万元/个
50. 幼儿园老师设计了一个摸彩球游戏，在一个不透明的盒子里混放着红、黄两种颜色的小球，它们除了颜色不同，形状、大小均一致。已知随机摸取一个小球，摸到红球的概率为三分之一。如果从中先取出3红7黄共10个小球，再随机摸取一个小球，此时摸到红球的概率变为五分之二，那么原来盒中共有红球多少个？（ ）
- A. 5
B. 10
C. 15
D. 20

第四部分 判断推理

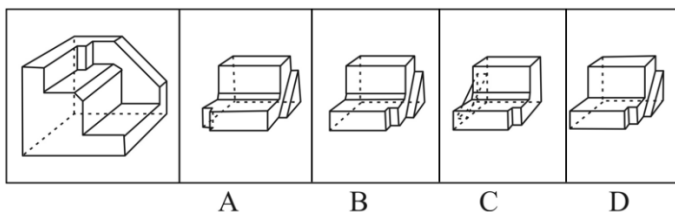
一、图形推理。请按每道题的答题要求作答。

请开始答题：

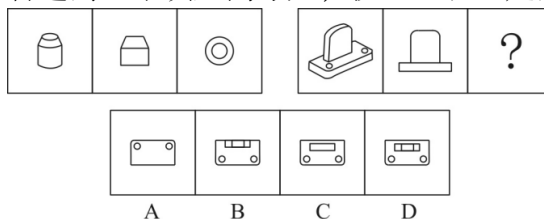
51. 从所给的四个选项中，选择最合适的一个填入问号处，使之呈现一定的规律性（ ）。



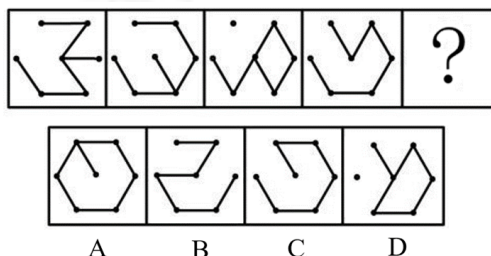
52. 正方体切掉一块后剩余部分如下图左侧所示，右侧哪一项是其切去部分的形状？（ ）



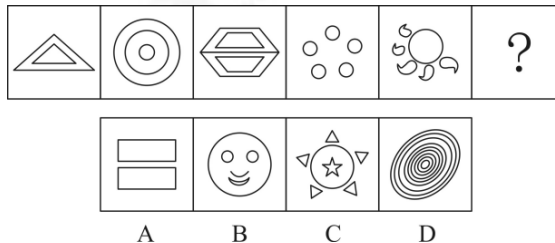
53. 从所给的四个选项中，选择最合适的一个填入问号处，使之呈现一定的规律性（ ）。



54. 从所给的四个选项中，选择最合适的一个填入问号处，使之呈现一定的规律性（ ）。



55. 从所给的四个选项中，选择最合适的一个填入问号处，使之呈现一定的规律性（ ）。



二、定义判断。每道题先给出定义，然后列出四种情况，要求你严格依据定义，从中选出一个最符合或最不符合该定义的答案。注意：假设这个定义是正确的，不容置疑的。

请开始答题：

56. 稻草人谬误，是在辩论或讨论中，有意或无意地曲解对方的论点，针对曲解后的论点（替身稻草人）进行攻击，然后宣称已推翻对方论点的一种错误的论证方式。
根据上述定义，下列属于稻草人谬误的是（ ）。
- A. 甲：“我认为人都是自私的。”乙：“我不认为所有的人都是自私的，但我也不认为所有的人都不是自私的。”
- B. 甲：“我认为小孩不应该在大街上乱跑。”乙：“把小孩关在家里，他们呼吸不到新鲜空气，岂不是更加愚蠢吗？”
- C. 甲：“为什么我最近脸上总是长痘痘？”乙：“因为你上火了。”甲：“你怎么知道我上火？”乙：“因为你脸上总长痘痘。”
- D. 甲：“学习语言多听是最重要的。只要每天都听，过几个月自然就能听明白了。”乙：“可是我天天在家听英语，已经听了好几年了，现在还是听不懂。”
57. 关怀强迫症指一个人特别需要别人依赖自己，总是爱向别人提供别人不需要的关怀。并且，这种人还强迫别人接受自己的关怀，从而使别人不能独立，当别人依赖自己的时候，他就会感到满足，感到自己有价值。这种症状会压抑人的神经，并同时给身边的亲朋好友甚至一般的同事带来诸多不便。
根据上述定义，下列属于关怀强迫症的是（ ）。
- A. 张某说：“我一天没见到儿子就会发疯”
- B. 李某连哄带骗让感冒的女儿吃下感冒药
- C. 刘某从小学到大学期间都住自己家里
- D. 王某在女儿就读的大学附近租房陪读
58. 细分市场是根据地理因素、人口因素、心理因素和行为因素等划分某一产品的市场之后形成的市场。细分市场定价是指针对同一商品或服务，在不同的细分市场上定以不同的价格。
根据上述定义，下列属于市场细分定价的是（ ）。
- A. 母亲节当天康乃馨的售价比其他花高
- B. 在中国理发的收费比在美国理发的收费低很多
- C. 同样一种水果，在拉萨的售价比在武汉的售价贵很多
- D. 同样的物品，从北京寄到天津的收费比从北京寄到广州低
59. 投射性认同指一个人诱导他人以一种既定的方式来作出反应的行为模式，体现在人际关系中，往往是甲方把内心中“好”或“坏”的客体投射到乙方身上，认为乙方“好”或“坏”，而乙方又接受了这一投射幻想，于是就以甲方所设想的方式来对待甲方，然后甲方又进一步验证了自己的假设，认为乙方就是他所认为的那样的人。
根据上述定义，下列选项属于投射性认同的是（ ）。
- A. 寒门亦可出贵子
- B. 严师方能出高徒
- C. 虎父果然无犬子
- D. 慈母自古多败儿
60. 交互抑制法主要是诱导患者暴露出导致神经症焦虑、恐惧的情境，并通过心理的放松状态来对抗这种焦虑情绪，从而达到消除焦虑或恐惧的目的。满灌疗法是鼓励患者直接接触引发恐惧、焦虑的情景，坚持到紧张感觉消失的一种快速行为治疗法。
下列对患乘车恐惧症的患者的治疗过程，使用了满灌疗法的是（ ）。
- A. 先试着让患者看汽车图片，进而坐上停止的汽车，然后坐上缓慢行驶的汽车，最后坐上快速行驶的汽车
- B. 让患者关注使自己焦虑、恐惧的思维活动，每当这些想法出现时，要求患者大声命令自己“停止”，从而使这些想法消失
- C. 将患者安置在汽车后座，驱车行驶数小时，使患者焦虑、恐惧的情绪逐渐减弱，直到患者完全习惯了乘车，不再感到恐惧
- D. 让患者想象自己正坐在一辆汽车的后座，想象产生较轻焦虑的情境，适应后再想象产生较高焦虑的情境，直到患者在最恐惧情境中能保持放松状态

61. 意志的活动过程会体现以下两大定律。其中，意志强度边际效应定律是指意志的强度随着自身行为的活动规模的增长而下降；意志强度时间衰减定律是指意志的强度随着自身行为的持续时间的增长而呈现负指数下降。
- 根据上述定义，下列选项最能体现意志强度时间衰减定律的是（ ）。
- A. 锲而舍之，朽木不折
B. 为山九仞，功亏一篑
C. 穷且益坚，不坠青云之志
D. 一鼓作气，再而衰，三而竭
62. 动机是人们行动的原因，它能唤起行动，使活动指向一定的目标。根据动机的来源可分为内在动机和外在动机，内在动机是指行为的目的是为了体验相应活动中带来的喜悦和满足；外在动机是指行为的目的是为了获得相应活动所带来的其他外在结果或者避免惩罚。
- 根据上述定义，下列行为中最可能体现内在动机的是（ ）。
- A. 为了保持身体健康，小赵坚持锻炼身体
B. 张老师非常热爱他的职业，很享受教书育人的过程
C. 小芳参加游泳比赛获得了第一名，她为自己感到骄傲
D. 为了不让父母失望，小明非常努力地学习，争取考上理想的学校
63. 消费滞后是指个人消费滞后于国家经济发展和个人家庭收入所应达到的平均消费水平。消费超前是指当下的收入水平不足以购买现在所需的产品或服务，以贷款、分期付款、预支等形式进行消费。
- 根据上述定义，下列属于消费超前的是（ ）。
- A. 职员小王以信用卡支付的形式在网上订购了火车票
B. 大学生小李通过某借贷平台购买了某知名品牌电脑
C. 退休工人老张名下有商品房和汽车，但坚持只用老式的直板手机
D. 青年教师小刘有十万元定期存款未到期，向同事借了八万元买车
64. 内隐记忆是指个体在无意识的情况下，过去经验对当前作业产生的影响，关于技术、过程或“如何做”的记忆。外显记忆是指需要有意识的努力才能使信息回复的记忆。
- 根据上述定义，下列属于外显记忆的是（ ）。
- A. 昨晚背诵的课文，今天老师检查时还能隐约记得
B. 曾经在法国居住过，多年后在街上还能无意中听懂法国人的交谈
C. 做英语阅读理解时能一眼认出“猫”这个单词
D. 会骑自行车到让人，即便很久不骑，再骑车时也毫不费力
65. 犯罪目的是指犯罪人希望通过实施犯罪行为达到某种危害社会结果的心理态度，犯罪目的直接体现犯罪故意的内容是犯罪动机的具体指向。
- 根据上述定义，下列说法正确的是（ ）。
- A. 甲报复乙，致乙重伤，甲的犯罪目的是报复他人
B. 甲嫉妒乙，偷乙的财产，甲的犯罪目的是占有乙的财物
C. 甲为兄弟义气杀人，巩固友情是甲的犯罪目的
D. 甲为吸毒资金实施抢劫，满足吸毒需要是甲的犯罪目的

三、类比推理。每道题先给出一组相关的词，要求你在备选答案中找出一组与之在逻辑关系上最为贴近，相似或匹配的词。

请开始答题：

66. 雪：霜
- A. 荷花：莲花
B. 国花：牡丹
C. 雨滴：露珠
D. 白鹤：仙鹤

67. 玻璃幕墙：光污染
 A. 汽车尾气：酸雨
 B. 海上风暴：海啸
 C. 火山喷发：地震
 D. 空气消毒：臭氧
68. 影视作品：电视剧
 A. 苹果：芒果
 B. 教师：职工
 C. 权利：金钱
 D. 树木：白杨
69. 杀鸡：儆猴
 A. 得陇：望蜀
 B. 唇亡：齿寒
 C. 居安：思危
 D. 凿壁：偷光
70. 投资：风险：收益
 A. 考试：作弊：提升
 B. 学习：疲劳：知识
 C. 决策：错误：正确
 D. 预警：误判：减灾
71. 老字号：新品牌：传承
 A. 老传统：新花样：质疑
 B. 老配方：新工艺：创新
 C. 老问题：新思考：评价
 D. 老物件：新东西：区分
72. () 对于 风险 相当于 精兵简政 对于 ()
 A. 亡羊补牢；效率
 B. 枕戈待旦；业绩
 C. 克己奉公；资源
 D. 曲突徙薪；成本
73. 巾帼 之于 () 相当于 () 之于 监狱
 A. 须眉；囚犯
 B. 英雄；犯罪
 C. 女子；铁窗
 D. 头饰；惩罚
74. 荷花 对于 () 相当于 () 对于 地瓜
 A. 荷叶；红薯
 B. 池塘；土地
 C. 莲藕；中药
 D. 芙蕖；甘薯

四、逻辑判断。每道题给出一段陈述，这段陈述被假设是正确的，不容置疑的。要求你根据这段陈述，选择一个答案。注意：正确的答案应与所给的陈述相符合，不需要任何附加说明即可以从陈述中直接推出。

请开始答题：

75. 近年来，意大利面被冠上导致肥胖的坏名声，因此很多人在面对这种地中海饮食时，都抱有一种又恨又爱的纠结心情。然而，意大利地中海神经病学研究所通过对2.3万人的研究发现，意大利面不像很多人想象的那样会导致体重增加。而且，意大利面非但不会导致肥胖，还可以起到相反的效果——降低体脂率。研究结果显示，如果人们能够适量摄入，并保证饮食多样性，意大利面对人们的身体健康大有裨益。
- 以下哪项如果为真，最能支持上述结论？ ()
- A. 面条中所含碳水化合物是导致肥胖的重要因素
 B. 没有研究显示意大利面会导致人群肥胖率上升
 C. 地中海饮食采用的橄榄油对身体健康大有益处
 D. 酌量食用意大利面能够维持人们理想的体脂率

76. 为什么有人乐于参加社交活动、结交朋友，有人却对此避之不及？有研究人员指出，与其他人相比，CD38基因表达量较高，CD157基因序列存在特定变异的人更乐于社交，所以两种基因影响了人的社交能力，但是，有反对者提出，人的社交能力是由位于人类4号染色体长臂1区的催产素决定的，不论是男性还是女性的大脑都能合成这种激素，它对人的社交能力有着重要影响。
- 以下哪项如果为真，最能削弱反对者的观点？（ ）
- A. CD38和CD157基因控制着催产素的分泌
 - B. 催产素的分泌影响着人的共情能力、信任和慷慨程度等
 - C. 上述两种基因中哪一种对人的社交能力影响更大还不确定
 - D. 基因表达是否能影响行为，在很大程度上取决于人们所处的社会环境
77. 牙医在治疗龋齿时，先要去除牙齿龋坏的部分，再填充材料以修补缺损的牙体。但是，10%至15%的补牙会失败，且所用的填充物并不具备使牙齿自愈的功能，甚至还有副作用。有鉴于此，研究人员研发出一种用合成生物材料制成的填充物，可以刺激牙髓中干细胞的生长，修复受损部位。这种填充物能刺激干细胞的增殖，并分化成牙本质。如果未来补牙的填充物都用这样的再生材料制成，将降低补牙失败率，也可减少蛀牙患者治疗牙髓之苦。
- 由此可以推出（ ）。
- A. 未来人们将不再患上蛀牙病
 - B. 未来人们将不再受龋齿困扰
 - C. 新研发的补牙填充物能刺激受损牙齿自愈
 - D. 新研发的补牙填充物能促进牙本质的生长

第五部分 资料分析

针对下列图、表或文字回答问题。你应根据资料提供的信息进行分析、比较、计算、处理。你可以在题本上运算。

请开始答题：

一、2017年我国成年国民图书阅读率为59.1%，比上年增加0.3个百分点；报纸阅读率为37.6%，比上年降低2.1个百分点；期刊阅读率为25.3%，比上年增加1个百分点。

2017年我国成年国民数字化阅读方式（网络在线阅读、手机阅读、电子阅读器阅读、平板电脑阅读等）的接触率为73.0%。其中，网络在线阅读接触率为59.7%，比上年增加4.4个百分点；手机阅读接触率为71.0%，比上年增加4.9个百分点；电子阅读器阅读接触率为14.3%，比上年增加6.5个百分点；平板电脑阅读接触率为12.8%，比上年增加2.2个百分点。

传统纸质媒介中，2017年我国成年国民人均每天阅读纸质图书时长为20.38分钟，人均每天阅读报纸时长为12.00分钟，人均每天阅读期刊时长为6.88分钟。

2013年至2017年我国成年国民各类出版物人均阅读量

| | 2013年 | 2014年 | 2015年 | 2016年 | 2017年 |
|---------|-------|-------|-------|-------|-------|
| 纸质图书（本） | 4.77 | 4.56 | 4.58 | 4.65 | 4.66 |
| 电子书（本） | 2.48 | 3.22 | 3.26 | 3.21 | 3.12 |
| 报纸（份） | 70.85 | 65.03 | 54.76 | 44.66 | 33.62 |
| 期刊（份） | 5.51 | 6.07 | 4.91 | 3.44 | 3.81 |

78. 2016年我国成年国民报纸阅读率比期刊阅读率高：

- A. 11.1个百分点
- B. 12.3个百分点
- C. 15.4个百分点
- D. 17.5个百分点

二、2017年我国成年国民图书阅读率为59.1%，比上年增加0.3个百分点；报纸阅读率为37.6%，比上年降低2.1个百分点；期刊阅读率为25.3%，比上年增加1个百分点。

2017年我国成年国民数字化阅读方式（网络在线阅读、手机阅读、电子阅读器阅读、平板电脑阅读等）的接触率为73.0%。其中，网络在线阅读接触率为59.7%，比上年增加4.4个百分点；手机阅读接触率为71.0%，比上年增加4.9个百分点；电子阅读器阅读接触率为14.3%，比上年增加6.5个百分点；平板电脑阅读接触率为12.8%，比上年增加2.2个百分点。

传统纸质媒介中，2017年我国成年国民人均每天阅读纸质图书时长为20.38分钟，人均每天阅读报纸时长为12.00分钟，人均每天阅读期刊时长为6.88分钟。

2013年至2017年我国成年国民各类出版物人均阅读量

| | 2013年 | 2014年 | 2015年 | 2016年 | 2017年 |
|---------|-------|-------|-------|-------|-------|
| 纸质图书（本） | 4.77 | 4.56 | 4.58 | 4.65 | 4.66 |
| 电子书（本） | 2.48 | 3.22 | 3.26 | 3.21 | 3.12 |
| 报纸（份） | 70.85 | 65.03 | 54.76 | 44.66 | 33.62 |
| 期刊（份） | 5.51 | 6.07 | 4.91 | 3.44 | 3.81 |

79. 2016年我国成年国民数字化阅读四个方式的接触率按从高到低排列正确的是：

- A. 网络在线阅读 > 手机阅读 > 电子阅读器阅读 > 平板电脑阅读
- B. 手机阅读 > 网络在线阅读 > 电子阅读器阅读 > 平板电脑阅读
- C. 网络在线阅读 > 手机阅读 > 平板电脑阅读 > 电子阅读器阅读
- D. 手机阅读 > 网络在线阅读 > 平板电脑阅读 > 电子阅读器阅读

80. 2017年我国成年国民阅读一本纸质图书平均约需要：

- A. 20.8小时
- B. 22.3小时
- C. 24.1小时
- D. 26.6小时

81. 2013年至2017年我国成年国民人均期刊阅读量超过这五年平均水平的年份有:

- A. 2个
B. 3个
C. 4个
D. 5个

82. 能够从上述资料中推出的是:

- A. 2013年至2017年我国成年国民人均电子书阅读量逐年上升
B. 2016年我国成年国民图书阅读率低于当年网络在线阅读接触率
C. 2014年至2017年我国成年国民人均期刊阅读量, 增长率最高的年份为2017年
D. 2017年我国成年国民人均每天阅读纸质图书时长低于阅读报纸与阅读期刊时长之和

三、根据以下资料, 回答问题。

(注: 顺差是指在国际收支上, 一定时期内收入大于支出的差额; 逆差指的是在国际收支上, 一定时期内支出大于收入的差额; 表中同比数据为正的代表同比增长, 同比数据为负的代表同比下降)

2011年-2017年我国服务进出口统计(金额单位: 亿元人民币)

| 时间 | 进出口额 | | 出口额 | | 进口额 | |
|-------|-------|-------|-------|-------|-------|-------|
| | 金额 | 同比(%) | 金额 | 同比(%) | 金额 | 同比(%) |
| 2017年 | 46991 | 6.9 | 15407 | 10.7 | 31584 | 5.17 |
| 2016年 | 43947 | 7.9 | 13918 | 2.2 | 30030 | 10.7 |
| 2015年 | 40745 | 1.7 | 13617 | 1.2 | 27127 | 2.0 |
| 2014年 | 40053 | 18.3 | 13461 | 3.4 | 26591 | 27.9 |
| 2013年 | 33814 | 11.2 | 13020 | 2.5 | 20794 | 17.3 |
| 2012年 | 30422 | 2.2 | 12699 | -4.5 | 17722 | 8.0 |
| 2011年 | 28875 | 15.4 | 12936 | 7.7 | 15939 | 22.5 |

2017年我国服务分类进出口统计(金额单位: 亿元人民币)

| 服务类别 | 进出口 | | 出口 | | 进口 | |
|-------------|-------|-------|------|-------|-------|-------|
| | 金额 | 同比(%) | 金额 | 同比(%) | 金额 | 同比(%) |
| 加工服务 | 1235 | -1.0 | 1223 | -1.0 | 12 | 14.2 |
| 维护和维修服务 | 554 | 18.1 | 401 | 20.0 | 153 | 14.3 |
| 运输 | 8784 | 15.6 | 2506 | 12.0 | 6278 | 17.3 |
| 旅行 | 19826 | -2.2 | 2615 | -11.0 | 17210 | -0.8 |
| 建筑 | 2197 | 57.8 | 1618 | 92.0 | 579 | 5.4 |
| 保险和养老金服务 | 976 | -13.9 | 273 | -1.0 | 703 | -18.0 |
| 金融服务 | 359 | 3.0 | 250 | 17.0 | 109.0 | -19.1 |
| 知识产权使用费 | 2252 | 34.7 | 322 | 315 | 1930 | 21.2 |
| 电信、计算机和信息服务 | 3171 | 22.1 | 1876 | 6.0 | 1295 | 55.0 |
| 其他商业服务 | 7051 | 4.8 | 4157 | 8.0 | 2895 | 0.4 |
| 个人、文化和娱乐服务 | 237 | 23.9 | 51 | 4.0 | 186 | 30.8 |
| 别处未提及的政府服务 | 348 | 28.5 | 115 | 43.0 | 233 | 22.3 |

83. 2011年至2017年, 我国服务进出口逆差最大的年份是:

- A. 2017年
B. 2016年
C. 2015年
D. 2014年

84. 2016年我国保险和养老金服务进出口额约为:

- A. 857亿元人民币
B. 1112亿元人民币
C. 1134亿元人民币
D. 1158亿元人民币

85. 按照2017年的同比增速, 2018年知识产权使用费出口额约为:

- A. 992亿元人民币
B. 1014亿元人民币
C. 1336亿元人民币
D. 1588亿元人民币

