

2020年联考行测模考第15期

第一部分 常识判断

根据题目要求，在四个选项中选出一个最恰当的答案。

请开始答题：

1. ()是中国共产党最鲜明的品格。必须以党章为根本遵循，把党的政治建设摆在首位思想建党和制度治党同向发力。
A. 爱岗敬业，艰苦奋斗
B. 遵纪守法，扬善惩恶
C. 勇于自我革命，从严管党治党
D. 追求远大理想，坚定崇高信念
2. 中共十九大报告指出，“我国社会主要矛盾的变化，没有改变我们对我国社会主义所处历史阶段的判断”，社会主义建设中（ ）是党和国家的生命线、人民的幸福线。
A. 按劳分配原则
B. 党的群众路线
C. 党的基本路线
D. 四项基本原则
3. 习近平强调，实体经济健康发展是防范化解风险的基础，要注重在稳增长的基础上防风险，强化（ ）的逆周期调节作用，确保经济运行在合理区间，坚持在推动在高质量中防范化解风险。
A. 财政政策、货币政策
B. 就业优先政策
C. 经济政策、法律政策
D. 宏观经济、微观经济
4. 以下说法不正确的是：
A. 以公正监管促进公平竞争
B. 公平竞争市场是市场顺利运行的重要条件
C. 公正监管是公平竞争的保障
D. 监管越详细越具体，监管越有力有效
5. 下列哪些是《宪法》规定全国人民代表大会可行使的职权是：
①修改宪法
②选举国家监察委员会主任
③批准省、自治区和直辖市的建置
④审查和批准国民经济和社会发展计划和计划执行情况的报告
A. ①②③
B. ②③④
C. ①②④
D. ①②③④
6. 2020年4月4日，国务院联防联控机制召开新闻发布会，介绍做好疫情期间粮食供给和保障工作情况。农业部负责人表示，保证粮食安全，关键是巩固提升粮食综合生产能力，确保需要的时候就能产得出、供得上。农业农村部高度重视粮食产能建设，围绕落实（ ）战略，突出抓好良田、良种、良机、良技四个关键点。
A. 藏粮于地、藏粮于技
B. 谷物基本自给，口粮绝对安全
C. 农村三产融合
D. 乡村振兴
7. 2020年4月3日，中央农办、农业农村部召开全国村庄清洁行动春季战役推进视频会。会议指出，2020年是农村人居环境整治三年行动收官之年，要以（ ）为主题，从各地实际出发拓展优化“三清一改”内容，逐步完善长效保洁机制，推动村庄清洁行动常态化、制度化、持续化。
A. 净化人居环境，倡导健康生活
B. 干干净净迎小康
C. 清洁村庄、助力乡村振兴
D. 换新貌、奔小康

8. 2020年4月，商务部就我国粮食供应情况等答记者问时表示，我国是世界第一大粮食生产国和消费国。我国口粮年均消费量为2亿多吨，2019年我国（ ）三大主粮库存结余2.8亿多吨，完全可以实现自给自足。
- A. 小麦、玉米、大米
B. 小麦、玉米、大豆
C. 小麦、大豆、花生
D. 玉米、大米、大豆
9. 2020年4月，国家卫生健康委办公厅印发《关于组织开展2020年世界卫生日活动的通知》。通知指出，2020年是国际护士和助产士年，中国宣传主题为（ ）。
- A. 支持护士和助产士
B. 致敬医护，共抗疫情
C. 维护人人健康，迈向全面小康
D. 全民健康覆盖
10. 2020年4月3日，杭州2022年第19届亚运会吉祥物于线上正式向全球发布。下列关于吉祥物说法错误的是（ ）。
- A. 吉祥物是一组承载深厚底蕴和充满时代活力的机器人，组合名为“江南忆”
B. 吉祥物“琮琤”名字源于莫角山古城遗址出土的代表性文物玉琮
C. 吉祥物“莲莲”名字源于西湖中无穷碧色的接天莲叶
D. 吉祥物“宸宸”名字源于京杭大运河杭州段的标志性建筑拱宸桥
11. 2020年4月4日，庚子年清明节，全国各地各族人民深切悼念抗击新冠肺炎疫情斗争牺牲烈士和逝世同胞。习近平等党和国家领导人在首都北京参加悼念。全国和驻外使领馆下半旗志哀，下列关于下半旗说法不正确的有（ ）。
- A. 下半旗时，应当先将国旗升至杆顶
B. 下半旗时，将国旗降至旗顶与杆顶之间的距离为旗杆全长的三分之一处
C. 下半旗时，将国旗降至旗顶与杆顶之间的距离为旗杆全长的二分之一处
D. 降下时，应当先将国旗升至杆顶，然后再降下
12. 2016年10月25日，国务院发布了《“健康中国2030”规划纲要》，纲要指出“切实解决影响人民群众健康的突出环境问题”，“努力减少公共安全事件对人民生命健康的威胁”。这就要求政府切实履行好（ ）。
- ①环境立法职能，完善法律法规
②维护社会治安和社会秩序的职能
③推进生态文明建设的基本职能
④保障民主职能，防止权力过于集中
- A. ①③
B. ①④
C. ②③
D. ②④
13. “梨花风起正清明，游子寻春半出城。”又是一年清明时，下列关于清明说法错误的是（ ）。
- A. 清明节被列入第一批国家级非物质文化遗产名录
B. 清明是二十四节气之一，时间是农历4月5日
C. 扫墓祭祖与踏青郊游是清明节的两大礼俗主题
D. 清明节与春节、端午节、中秋节并称为中国四大传统节日
14. 下列有关文学常识的表述，正确的是（ ）。
- A. 宋词分豪放、婉约两大流派，前者以苏轼为代表，后者以柳永为代表。辛弃疾的词以沉雄豪放见长，但他的《清平乐·茅檐低小》却很清新活泼
B. 《琵琶行》里“座中泣下谁最多，江州司马青衫湿”的“江州司马”指的是杜牧
C. 吴沃尧是清末著名作家，长篇小说《官场现形记》是他的代表作品
D. 关汉卿是元代著名戏剧家，他的作品《长生殿》是元杂剧的名作

15. 下列诗句中没有运用拟人的修辞手法的是（ ）。
- A. 一水护田将绿绕，两山排闥送青来
B. 落红不是无情物，化作春泥更护花
C. 蓬山此去无多路，青鸟殷勤为探看
D. 可怜九月初三夜，露似珍珠月似弓
16. 关于各种镜子的使用中，下列说法中正确的是（ ）。
- A. 汽车后视镜是凹透镜
B. 老花镜是凹透镜
C. 牙科医生观察口腔牙齿时，使用的是小镜子是凹面镜
D. 近视镜是凹透镜
17. 下列中国古籍与其作者、作者所在朝代对应有误的一项是（ ）。
- A. 《水经注》——郦道元——北魏
B. 《梦溪笔谈》——沈括——北宋
C. 《齐民要术》——贾思勰——北魏
D. 《千金要方》——张仲景——东汉
18. 下列关于核酸的说法中不正确的是（ ）。
- A. 核酸包括脱氧核糖核酸（DNA）和核糖核酸（RNA）两大类
B. 核酸由C、H、O、N四种元素组成
C. 绝大多数生物的遗传物质是DNA
D. 烟草花叶病毒、流感病毒、SARS病毒的遗传物质是RNA
19. 关于法的规范作用，下列哪一说法是正确的？
- A. 陈法官依据诉讼法规定主动申请回避，体现了法的教育作用
B. 法院判决王某行为构成盗窃罪，体现了法的指引作用
C. 林某参加法律培训后开始重视所经营企业的法律风险防控，反映了法的保护自由价值的作用
D. 王某因散布谣言被罚款300元，体现了法的强制作用
20. 兹有四个事例：
- ① 张某驾车违章发生交通事故致搭车的李某残疾；
② 唐某参加王某组织的自助登山活动因雪崩死亡；
③ 吴某与人打赌举重物因用力过猛致残；
④ 何某心情不好邀好友郑某喝酒，郑某畅饮后驾车撞树致死。
- 根据公平正义的法治理念和民法有关规定，下列哪一观点可以成立？
- A. ① 张某与李某未形成民事法律关系合意，如让张某承担赔偿责任，是惩善扬恶，显属不当
B. ② 唐某应自担风险，如让王某承担赔偿责任，有违公平
C. ③ 吴某有完整意思能力，其自担损失，是非清楚
D. ④ 何某虽有召集但未劝酒，无需承担责任，方能兼顾法理与情理

第二部分 言语理解与表达

本部分包括表达与理解两方面的内容。请根据题目要求，在四个选项中选出一个最恰当的答案。

请开始答题：

21. 绿色包装不再只是一个行业问题，还是一个综合性的社会问题，解决这些问题，邮政管理部门和邮政快递企业_____，同时也需要社会各方共同参与、广泛支持，形成强大合力。
填入划横线部分最恰当的一项是（ ）。
- A. 并驾齐驱
B. 奋不顾身
C. 义不容辞
D. 首当其冲
22. 前苏联教育家马卡连柯说：“学生可以原谅教师的严厉、刻板、甚至_____，但不能原谅他的不学无术”。为了提高班主任的文化素质，要求班主任通过进修学习，使理论水平和科研水平不断提高。
填入划横线部分最恰当的一项是（ ）。
- A. 精益求精
B. 吹毛求疵
C. 精雕细琢
D. 千锤百炼
23. 央视“3·15晚会”曝光了众多网络刷单的黑幕，多个电商平台成为刷单重灾区。由于生意火爆，不少刷单群换了个“马甲”，照样“_____”。这不仅误导消费者，也扰乱了市场竞争秩序，对行业的整体信誉损害极大。
填入划横线部分最恰当的一项是（ ）。
- A. 声名鹊起
B. 每况愈下
C. 如鱼得水
D. 风生水起
24. 文化是城市的灵魂。城市历史文化遗存是前人智慧的_____，是城市内涵、品质、特色的重要标志。北京把老城区改造提升同保护历史遗迹、保存历史文脉统一起来，让传统建筑融入城市肌理，不仅留住了历史文化底蕴，也为老城文化发展注入了新活力。实践证明，历史文化和现代生活完全可以_____。
依次填入划横线部分最恰当的一项是（ ）。
- A. 积淀 融为一体
B. 传承 合二为一
C. 沉积 交相辉映
D. 继承 珠联璧合
25. “速成”是匠心的克星，欲养匠心，必戒“速成心”。多少_____、速生速朽的物事告诉我们，急于求成于事无益，_____更难立身。唯养一颗匠心，不迷于声色，不惑于杂乱，沉潜自己、专注一事，方能有所成、有所立。
依次填入划横线部分最恰当的一项是（ ）。
- A. 转瞬即逝 气急败坏
B. 粗枝大叶 唯利是图
C. 昙花一现 追名逐利
D. 粗制滥造 急功近利
26. 短视频只有15秒，随手刷刷，大量现场信息纷纷涌来；读了两篇家具市场分析文章，许多关于装修指南、房屋设计的推送，_____……如今，借助大数据、智能算法等技术，信息传播的效率和精准度大大_____。甚至有人认为，在博取眼球、争夺流量上，当下已经进入了一个“比拼技术的时代”。
依次填入划横线部分最恰当的一项是（ ）。
- A. 不一而足 提高
B. 蜂拥而至 增强
C. 比比皆是 改善
D. 接踵而至 提升

27. 假日期间北京、天津、海南等传统国庆长线旅游目的地旅游接待人次和收入稳步_____。湖北、湖南等中部省份天气较好，适宜游客出行，旅游接待人次和收入增长较快。同时，在“一带一路”政策的带动下，丝路旅游经济发展迅速，内蒙古、甘肃、新疆等省份旅游市场迎来_____。依次填入划横线部分最恰当的一项是（ ）。
- A. 攀升 激增
B. 提升 井喷
C. 提高 回暖
D. 前进 春天
28. 不安分，这是90后一代的特征。它有激情的一面，代表着理想、个性、敢闯敢拼；它也有_____的一面，意味着一时兴起、缺乏耐性与耐心。年轻人有想法、渴望成功固然是好事，但_____、眼高手低也是大忌。有些人工作没多久，大事做不来，小事又不愿做，甚至连工作环境都没熟悉，就深感屈才、动辄辞职，令人咋舌。依次填入划横线部分最恰当的一项是（ ）。
- A. 消极 舍本逐末
B. 消沉 缘木求鱼
C. 躁动 好高骛远
D. 浮躁 华而不实
29. 《永远在路上》反映党的十八大以来，党中央把全面从严治党提升到“四个全面”战略布局高度，正风肃纪，锲而不舍纠“四风”，赢得党心民心；反腐惩恶，整治群众身边的腐败问题，_____党执政的政治基础，着力_____不敢腐、不能腐、不想腐的体制机制，使不敢腐的震慑作用得到发挥，不能腐、不想腐的效应初步显现，反腐败斗争压倒性态势正在形成。依次填入划横线部分最恰当的一项是（ ）。
- A. 提高 改善
B. 夯实 完善
C. 增强 搭建
D. 厚植 构建
30. 在香港，没什么能像咖啡一样使人“_____”了。这里的咖啡融合了牙买加、弗洛雷斯、哥斯达黎加和埃塞俄比亚等地不同的风味，成为人们_____的话题。浓缩咖啡、卡布奇诺、拿铁等意大利名词和叫法同时又增添了咖啡的异域风情。但是就在前几年，大部分香港人还不习惯喝咖啡，就算喝也是喝速溶咖啡。依次填入划横线部分最恰当的一项是（ ）。
- A. 趋之若鹜 津津乐道
B. 精神振奋 常说常新
C. 老生常谈 众所周知
D. 乐此不疲 可歌可泣
31. 营销和推广很重要，但无所不用其极地推广，却不下功夫做好基本的东西，无疑是_____。这样简单的道理创业公司不是不明白，只是投机心理和资金回报压力，让一些人选择了对基本的东西_____。依次填入划横线部分最恰当的一项是（ ）。
- A. 因噎废食 熟视无睹
B. 贪小失大 充耳不闻
C. 本末倒置 视而不见
D. 舍本求末 冷眼旁观
32. 发挥党建优势，不创新就没有出路。基层党建不是短期行为，更非_____的、虚化的工作。把党建指标从定性的变成定量的、从零散的变成_____的，税收业务开展到哪里，党建工作就延伸到哪里。基层党组织的先进性，得以在执法办案和纳税服务中来检验。依次填入划横线部分最恰当的一项是（ ）。
- A. 具体 集体
B. 抽象 系统
C. 笼统 密集
D. 模糊 整体

33. 20世纪50年代是焦虑的时代。这种情绪基调是弗洛伊德奠定的。他亲眼目睹了一个井然有序的世界在顷刻间_____，而新世界又处于_____的状态。当旧的价值体系被破坏，而新的还没建立起来时，那个时代就会充满焦虑和_____。
- 依次填入划横线部分最恰当的一项是（ ）。
- A. 分崩离析 初始稚步 动荡
B. 土崩瓦解 百废待兴 不安
C. 溃不成军 星星之火 忐忑
D. 灰飞烟灭 方兴未艾 担忧
34. 中国的二次元文化想要健康发展，对主流文化产生积极作用，缺的是具有深刻精神内涵和正确价值导向的精品力作，以及能在_____的创作环境中独善其身、潜心钻研、全情投入，在_____艺术底线和创作规律的同时，勇于创新突破的创作者。
- 依次填入划横线部分最恰当的一项是（ ）。
- A. 低迷 保持
B. 功利 遵从
C. 良好 秉持
D. 浮躁 坚守
35. 过往的微信营销通常只着重于向受众_____新书信息、发布书摘或书评等，而忽视了销售这一环，所以只能叫宣传，不能叫真正意义上的营销。此次营销实战，我们捆绑宣传与销售，利用微信公众号的专业化、_____特色，使小众图书准确地找到自己的受众群体和细分市场，有效解决传统营销渠道与方式的诸多_____。
- 依次填入划横线部分最恰当的一项是（ ）。
- A. 推送 精细化 冲突
B. 传递 信息化 问题
C. 传播 分众化 弊病
D. 提供 精准化 瑕疵
36. 春节假期结束，又迎来了一波“跳槽”高峰。可是，新的工作真的会像设想的那样“钱多事少离家近”吗？同事间的人际关系果真会因为换了份工作而改变吗？其实未必。跳槽之前，还需三思。换个角度看，工作上的挫折或许是生活给你的善意提醒：工作拖拉被骂，就提高工作效率；人际关系紧张，就主动思考缓和；业绩一般，就反思工作方法……有人遇到挫折就放弃努力，而有人选择和困难“怼”到底。因为暂时的不如意就选择拍屁股走人，可能会让你错过最重要的职业积累期。如果想通过跳槽或辞职逃避本应付出的努力，到头来还是会像飞盘回转，自食苦果。
- 这段文字意在说明（ ）。
- A. 工作中遇到的挫折反而有助于提升自我
B. 长久的“金饭碗”要靠持续积累的专注
C. 莫用“跳槽”掩盖自己逃避努力的真相
D. 与其幻想换个工作不如和困难斗争到底
37. 稳住农民收入持续增长的好势头，要多渠道着手，传统动能和新兴动能都有发挥空间。从传统动能看，进一步深化农村改革，创新农业支持保护体系，构建更紧密的利益联结机制，稳住农民发展生产的预期，努力筑牢农业内部增收基础。从新兴动能看，农村电商、休闲农业和乡村旅游等新产业、新业态发展迅猛，返乡、下乡的创业者们已经成为带动农业转型升级的一支重要力量。眼下最关键的是，让传统动能和新兴动能提升结合，形成更加强劲、更有效率、更可持续的混合动能，为农民收入稳定增长提供澎湃动力。
- 这段文字主要说明（ ）。
- A. 多渠道联动稳住农民收入持续增长势头
B. 传统动能和新兴动能对农业的优势
C. 农业转型升级离不开深化改革
D. 混合动能助力农民收入稳定增长
38. 商业是人类最古老的行业。数万年前我们的祖先就开始通过交换物品来丰富自己的生活，尽管那时候还没有所谓的“货币”。任何匮乏的年代都无法阻止我们买东西，因为这已成为本能。在商业运行了几万年后，它又一次开始转型。借助于互联网、大数据与智能化等技术，你可以在任何地方买到任何商品，无论线上还是线下都可以成为商品的展示和销售空间。
- 下列说法正确的是（ ）。
- A. 商业运行每几万年就会经历一次转型
B. 物质的匮乏使得商业活动成为人类本能
C. 货币并不是人类进行商业活动的前提
D. 互联网的发展刺激了线上商品的销售量

39. 历史上有个公仪休“拔葵去织”的故事。公仪休任鲁国相，相当于小国的总理。他知道家里种菜就都拔掉，说自己有了俸禄，还要种菜，这不是与菜农争利吗？他看到妻子织布，就将妻子休了，原因就是妻子与女红争利。董仲舒也有一个形象的比喻，马有上齿就没有角，牛长角则没有上齿；还有鸡、鸭，带翅膀的就长两条腿，猪、羊，有四条腿就不带翅膀。他以此寓意天道，只能有一份，不能双份都拿。所以为官做宰、出将入相，就不应该再与民争利，抱着家财万贯的发财念想。下列说法与作者观点不符的一项是（ ）。
- A. 取之有度，用之有节，则常足
B. 为官发财，应当两道
C. 受禄之家，食禄而已，不与民争业
D. 官多一分廉，民增一分福
40. 从美索不达米亚最古老的城市开始，城市化一直意味着一种能量聚集，将政治功能、经济功能、文化功能、社会功能以及消费功能高密度地凝聚在地域中心。在聚集过程中，一个突出的现象是人口从农村向城市转移。尽管城市就像一个机器那样运转，长期以来政府的目标就是追求增长——更多的人口、更多的就业机会和更多的房地产开发，但是增长并非一条直线向上，而是随时间呈现增速缓慢——加速——再缓慢的“S”形曲线，而且不同阶段资源聚集的方向也不一致。这段文字意在说明（ ）。
- A. 人口从农村向城市转移是城市化的主要特征
B. 政府的发展目标就是追求人口以及资源增长
C. 应主动引导乡村朝着积极的城市化方向发展
D. 城市化的发展路径和发展速度并非一成不变
41. 心理学家认为，在突发灾难面前，人们通常会经历双重的崩塌。第一层是物理世界的崩塌，你觉得这个世界不再安全。第二层则是心理世界的崩塌，我们之前形成的关于自己、关于这个世界的概念系统会遭到严峻的挑战。比如，我们在日常生活中应对风险的信心会遭到重击。同样遭到重创的，还有一个人的价值感，即一个人认为自己的世界是可以理解的，人生是有价值的，以及有意义的。也就是说，这种时候，很多人不得不面对一个现实，之前我们关于世界的那些已知的、舒适的假设都不成立了。文段接下来最有可能讲的是（ ）。
- A. 我们面对灾难后内心的创伤
B. 人在面临灾难所经历的双重崩塌
C. 我们必须建立一个新的假设
D. 我们常愤怒于自己的无能为力
42. 在当下中国，对个人信息的各种商业利用已远远走在了隐私保护前面。登录电商网站，推荐商品多是依据浏览痕迹；打开微博微信，广告投放定向植入；打开理财客户端，首页也因人而异……通过对浏览记录、点击频次的统计分析，从中挖掘出性别、职业、喜好、消费能力等信息，被不少企业视为理所当然的商机。然而，在隐私保护方面鲜有人投入同等的关注，这无疑潜藏着巨大的风险。对这段文字概括最为准确的一项是（ ）。
- A. 个人应学会保护自己的隐私
B. 政府应出台法律保护公民隐私
C. 商业发展导致公民信息泄露
D. 忽视隐私保护存在巨大风险
43. 当“北上广”能够与纽约、伦敦等国际大都市比肩而立，西部还有许多孩子为营养午餐发愁；“先富起来”的群体消费让欧洲发出“谢谢中国”的感叹，大多数低收入人群还在为基本生存奔波；发展方式转变尚未完成，环境保护已经成为群体性事件新诱因……社会转型期的各种矛盾相互交织，使得帕累托最优的改革路径日益难以实现。在利益权衡中盘活改革增量，离不开敢为天下先的“创新意识”。这段文字意在说明（ ）。
- A. 环境保护已经成为群体性事件新诱因
B. 盘活改革增量离不开“创新意识”
C. 社会转型期的矛盾使得改革难以实现
D. 创新才能解决低收入人群的生存奔波

44. ①中国的茶俗以大众文化为主流
 ②茶社要雅致，茶叶需上品，入茶之水最好是甘冽的山泉
 ③历来的研究者在饮茶著述中，他们试图交给人们一种优雅的饮茶方式
 ④文人雅士在饮茶上另有讲究
 ⑤茶馆茶客盈门，就会完全足以说明这一点
 ⑥而且主宾身份情趣要相宜，饮茶或伴有诗文唱和，或书画助兴，会心赏鉴
 将以上6个句子重新排列，语序正确的是（ ）。
- A. ①⑤④③②⑥
 B. ②①⑤④③⑥
 C. ④③①②⑤⑥
 D. ⑤①④③②⑥
45. ①扶贫绝不是要“奖励”贫穷，而是要改变贫穷，让想要走出贫困的人得到帮助
 ②好像贫穷是一种美德，以至于越穷越有理，有点不如意的事，就去找政府“碰瓷”
 ③当脱贫成为基层干部的绝对任务，就会有人躺在穷底子上等着别人去给他按摩——我是穷人我怕谁
 ④这样的扶贫，事实上已经变异成了“奖励”贫穷
 ⑤正如装睡的人你永远也叫不醒，“安于贫穷”的人你同样永远帮不了
 ⑥说白了，扶贫最多只能改变贫困的外因，而内因是很难改变的
 将以上6个句子重新排列，语序正确的是（ ）
- A. ④⑤③⑥②①
 B. ①⑥⑤③④②
 C. ④⑤①②⑥③
 D. ①⑥②⑤③④
46. 大部分沉没的声音背后，都有未被满足的诉求，都有被压抑、待纾解的情绪。儿子车祸致残，云南父亲欲法院“自爆”走上极端维权之路；幼女身患绝症，湖北母亲参与“跪行救女”网络炒作……让舆论哗然的事件，都肇始于被忽视的声音。不可倾诉、不被倾听、不能解决，如果不主动“打捞”，太多声音沉没，难免会淤塞社会心态，导致矛盾激化。
 这段文字主要想表达的内容是（ ）
- A. “沉没的声音”背后有未被满足的诉求
 B. 网络炒作都肇始于被忽视的声音
 C. 应积极主动倾听那些“沉没的声音”
 D. 忽视“沉没的声音”必定会导致矛盾激化
47. 说到译制片式微，很多人将之归因于_____。这种说法其实经不起推敲。根据教育部网站发布的数据，包括普通高教、成人高教、网络本专科教育在内，我国大专以上学历人口约为1.4亿人左右，占全国人口比例约为10%。这说明，真正可以欣赏原汁原味英语原版电影的人是少数。很多非英语版本不看的电影观众，离开了中文字幕仍然不知所云。
 填入划横线处最恰当的一项是（ ）。
- A. 观众在生活方式上崇尚西化，使得本土出品乃至只是经过本土化改造的舶来品缺少市场
 B. 电影越来越成为“城市人”的专利，电影在全体国民中的覆盖率急剧降低
 C. 现有的译制片大多数制作粗糙，有量而无质
 D. 电影观众英语水平日益提高，不再需要译制片
48. 相比于治理盗版来说，网络作家想就抄袭侵权事宜进行维权难度要更大，而难就难在界定上。作为一种通俗的类型文学，网络文学本身有一定的模式化特征，它要迎合大众的阅读欲望，写作方式上必然会有大量套路，文学创作中存在合理的“援引旧例”，那么如何判定一部作品是“抄袭”还是“借鉴”？并且，侵权是否成立取决于多个方面，在人物关系设定、情节桥段因果关系等创作维度，有足够具体的证据，才有可能胜诉。抄袭者在拼凑和借鉴之间打法律的“擦边球”，无形之中加大了取证的难度。
 这段文字意在强调（ ）。
- A. 网络文学写作套路化严重已成必然
 B. 网络文学难以划清抄袭与借鉴的边界
 C. 网络作家维权的主要障碍在于取证困难
 D. 界定问题使网络作家反抄袭比治盗版更难

49. 一个国家的军事战略能力，是从方方面面的基础能力累积出来的——比如定位和导航能力，毕竟一支军队如果连自己在哪儿，要往何处去都搞不清，那仗是没法打的。这方面的能力从古代发展到今天，早已从人力测绘手工描画的粗糙地图，发展到了高精度的卫星导航系统与数字化地形资料结合的地步。而且这些能力，也不仅仅应用于军事，它们对于一个国家的工业和经济发展、人民生活水平发挥的作用同样是无法替代的。目前世界上有多种卫星导航系统，其中影响力最大、市场占有率最高的，是美国的GPS系统；此外还有苏俄的格洛纳斯系统，欧洲的伽利略系统，中国的北斗系统。这几种导航系统，都是覆盖全球范围的（北斗一代不是，二代是）。
下列说法中符合文意的一项是（ ）。
- A. 美国的GPS系统是最先进的卫星导航系统
B. 中国的北斗一代系统是覆盖全球范围的导航系统
C. 国家的军事战略能力是从定位和导航能力积累出来的
D. 定位和导航能力对于一个国家有着极为重要的作用
50. 重金属对人体产生的影响是缓慢且长期的，一旦进入人体后，代谢十分困难。以铅为例，铅在生物体内具有蓄积性，铅的长期低浓度暴露可影响心血管、中枢神经等系统发育，胎儿和婴幼儿尤其对铅敏感。人体长期大量摄入铅含量超标的食品，会影响神经系统、智力发育等，危害人体健康。
这段文字主要说明的是（ ）。
- A. 铅对人体危害甚大
B. 重金属对人体的影响
C. 铅在重金属中对人体危害最大
D. 重金属会影响神经系统
51. 天下大事，必作于细。所有的大事都是由小事积累起来的。刚到工作岗位的年轻人，本身就处在一个沉淀的阶段，不能一心只想着做“质变”的突破性工作，而要注重“量变”的积累性工作。只有甘于扮演拾遗补缺、跑龙套的角色，保持脚踏实地的精神，才有可能收获不平凡。
以下最符合文段所强调的内容的是（ ）。
- A. 月满则亏，水满则溢
B. 山至高处人为峰，海到尽头天是岸
C. 不积跬步，何以至千里
D. 宝剑锋从磨砺出，梅花香自苦寒来
52. 明代是长城修建的鼎盛时期，从东到西共修了6300公里。金山岭长城所属的河北蓟镇段是其中最完整也最完整的一部分。蓟镇段长城沿着燕山山脉构筑，东起山海关，经喜峰口、古北口、慕田峪，到居庸关东北的四海冶，全长660多公里。在沿边九镇中，蓟镇具有特殊的重要地位，从东、西、北三个方面拱卫着京城。其中号称京师西大门的居庸关距京城只有50多公里，有京城铁门之称的古北口距京城也只有100多公里。这段边墙是维系京城安危的重要屏障，因此修建时也格外用心。它被研究长城的学者认为是长城的“代表作”。
下列说法与原文不符的是（ ）。
- A. 蓟镇段长城被学界称为长城的“代表作”
B. 金山岭长城是明长城中最完整最重要的部分
C. 蓟镇为明代沿边九镇之一
D. 蓟镇段长城对保卫京师具有至关重要的作用
53. 医生不喜欢“血荒”这个词。他们理解的“荒”是“绝对没有”，他们更愿意用“季节性血液紧张”来形容此时的处境。中国血液紧张的状况就一直难以缓解。用血紧张并不是中国独有的现象，国外也存在季节性缺血的问题。但为什么只有中国压力这么大？关键还是公民的无偿献血的觉悟不够。尽管我国的《献血法》明确界定了，无偿献血是由政府主导，各部门协调，全社会广泛参与的一项工作，但现行的政策体系还没能实现充分引导无偿献血工作成为整个社会的责任。要想缓解血荒带来的影响，一方面要提升各医院的精细化用血水平，完善血液库存预警系统；另一方面则是加大无偿献血的宣传，从体制上强调无偿献血是整个社会的责任。
这段文字意在说明（ ）。
- A. 要通过医院精细用血和无偿献血来缓解血荒
B. 政策体系应努力引导无偿献血成社会性责任
C. “血荒”并非绝对没有而是季节性血液紧张
D. 应该加大宣传力度并从体制上强调无偿献血

54. 女性生育不仅是个人的事、家庭的事，也是社会的事、国家的事。社会事务，还得由全社会共同治理。比如，完善生育保险制度，给女性增加一份制度上的保障；比如，延长男性产假或者男性陪产假，让男性承担起更多的育儿成本；再比如，给予企业财政补贴和税收优惠，由财政承担一部分企业可能的“性别亏损”。当然，还有很重要的一点，就是畅通救济渠道，对于辞退“三期”（怀孕期、产期、哺乳期）女员工的企业，要坚决惩处。只有探索出一条生育成本社会共担的新路子，怀孕才不会成为更多职场女性的“难言之隐”。

这段文字的主旨是（ ）。

- A. 企业应探索新方法解决职场女性怀孕问题 B. 全社会共担发力为职场女性生育保驾护航
C. 保障女性生育需畅通救济渠道惩处违法企业 D. 解决职场对女性的性别歧视需完善各种制度

55. 社会保障一旦超越经济发展，就可能成为经济发展的负担。而经济发展受到影响，社会保障就会成为无源之水，民生改善很可能异化为“福利泡沫”。高福利推波助澜的欧债危机，便是前车之鉴。发展水平如此之高的欧洲国家尚且如此，刚刚迈入中等收入国家行列的中国，对于超越发展阶段的过高预期、脱离发展实际的夸张口号，自然更要保持警惕。事实上，人世间很多美好梦想，更多地要靠个人奋斗才能实现；生命里的辉煌，也只有通过每个人的不懈奋斗才能铸就。很多时候，社会保障的重点只是满足基本需求，它的主要功能，是为我们奋力一跃提供一个支撑。

这段文字的核心内容是（ ）。

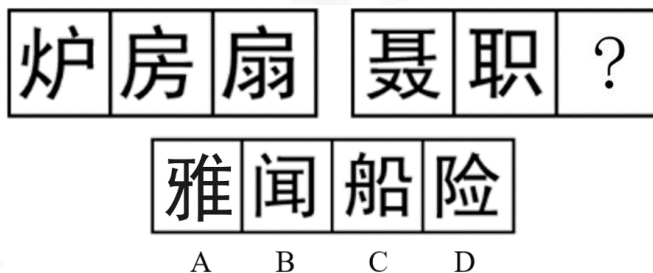
- A. 社会保障的重点是满足基本需求 B. 民生改善离不开每个人的不懈奋斗
C. 社会保障需警惕超越经济的发展 D. 个人的不懈奋斗比社会福利更有效

第四部分 判断推理

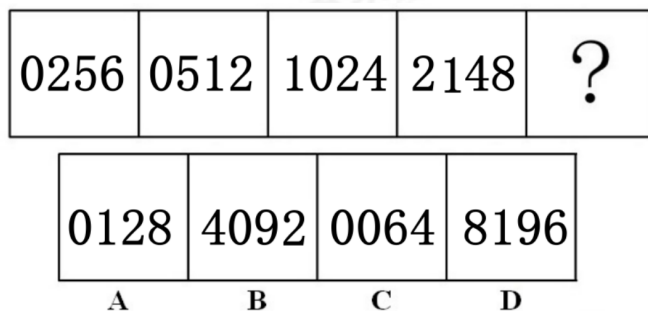
一、图形推理。请按每道题的答题要求作答。

请开始答题：


71. 从所给的四个选项中，选择最合适的一个填入问号处，使之呈现一定的规律性（ ）。



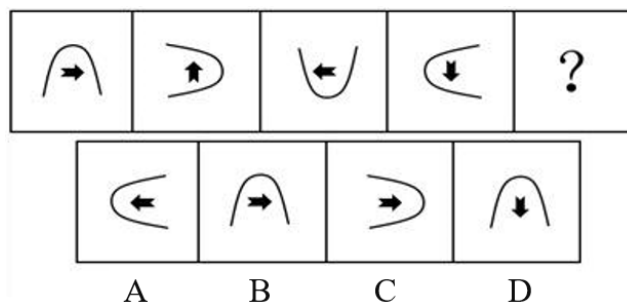
72. 从所给的四个选项中，选择最合适的一个填入问号处，使之呈现一定的规律性（ ）。



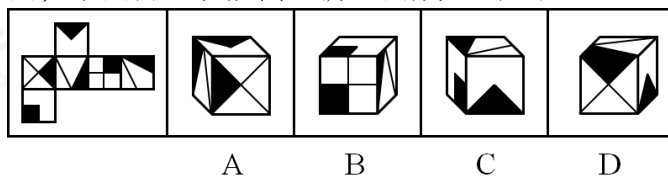
73. 从所给的四个选项中，选择最合适的一个填入问号处，使之呈现一定的规律性（ ）。



74. 从所给的四个选项中，选择最合适的一个填入问号处，使之呈现一定的规律性（ ）。



75. 左边给定的是纸盒的外表面，下面哪一项能由它折叠而成？（ ）



二、定义判断。每道题先给出定义，然后列出四种情况，要求你严格依据定义，从中选出一个最符合或最不符合该定义的答案。注意：假设这个定义是正确的，不容置疑的。

请开始答题：

76. 晕轮效应又称“光环效应”，属于心理学范畴，是指当认知者对一个人的某种特征形成好或坏的印象后，他还倾向于据此推论该人其他方面的特征。本质上是一种以偏概全的认知上的偏误。根据上述定义，下列不属于晕轮效应的是（ ）。
- A. 某位深受喜爱大众的明星代言某个商品，被推出的商品更容易得到大家的认同
 - B. 某位作家一旦出名，以前压在箱子底的稿件、作品就不愁发表、销售了
 - C. 某位学生的学习成绩并不好，但是他的所有老师依然认可他的努力
 - D. 某位女士喜欢阳光帅气的男主播，便认为该男主播没有任何缺点
77. 压抑和否定都属于逃避机制。压抑指个体在面对不愉快的情绪时，不知不觉有目的地遗忘。否定是一种比较原始而简单的防卫机制，其方法是借着扭曲个体在创伤情境下的想法、情感及感觉来逃避心理上的痛苦，或将不愉快的事件“否定”，当作它根本没有发生，来获取心理上暂时的安慰。根据上述定义，下列属于否定的是（ ）。
- A. 从火里逃生的小曲被送往医院后，醒来却遗忘了这段经历
 - B. 小孩子闯了祸，用双手把眼睛蒙起来，当做没有发生一样
 - C. 小亮的父亲有时会在地上扮马扮牛给自家孩子骑
 - D. 玩游戏的小金被指派稍后去买盐，之后小金却忘记了
78. 植物的生境包括许多环境要素，如大气浓度一项就包括氧气的浓度、二氧化碳的浓度、惰性气体的浓度等。直接作用于植物生命过程的那些环境要素称为生态因子。一般将生态因子分为非生物因子和生物因子两大类。非生物因子包括温度、湿度、日照等理化因素；生物因子包括生物之间的各种相互关系，如捕食、寄生、竞争和互惠共生等。根据上述定义，下列属于生物因子的是（ ）。
- A. 日照充足使向日葵籽粒充实饱满
 - B. 玉米田中杂草的滋生蔓延
 - C. 竹柏生长在湿润的土壤中
 - D. 睡莲能在水中生长
79. 共情是指体验别人内心世界的的能力。由人本主义创始人罗杰斯提出，却越来越频繁地出现在现代精神分析学者的著作中，不管是人性观还是心理失调的理论及治疗方法似乎都极为对立的两个理论流派，却在对共情的理解和应用上，逐步趋于一致。从这个角度来看，共情似乎为现代精神分析与人本主义的融合搭起了一座桥梁。根据上述定义，下列最不能体现共情的是（ ）。
- A. 推己及人
 - B. 设身处地
 - C. 以己度人
 - D. 将心比心
80. 角色中断，是常见的角色失调之一，是指在一个人前后相继承担的两种角色之间发生矛盾的现象。根据上述定义，下列属于角色中断的是（ ）。
- A. 杨医生连续好几天加班手术，最终倒在手术台前
 - B. 李阳由于各种身体原因，放弃了热爱的教师工作
 - C. 小华既要照顾弟弟，又要做作业，经常忙到半夜
 - D. 某军区领导刚退休时，常常想对其他人发号施令
81. 渠道成员激励是指制造商为促进渠道成员达成制造商营销目标的合作而采取的措施。从激励方式来分主要有两种：直接激励和间接激励。直接激励指的是通过给予物质或金钱奖励来肯定经销商在销售量和市场规范操作方面的成绩。间接激励指的是通过合作的方式帮助渠道成员进行销售管理，以提高销售的效率和效果来激发渠道成员的积极性和销售热情的一种激励手段。根据以上定义，下列不属于渠道成员激励的是（ ）。
- A. 每个季度末经销商总部会对各区域的销售代表进行培训指导，帮助其提升销售能力
 - B. 制造商在年底结算货款的基础上，给予批发商实际销量的3%作为奖励
 - C. 制造商定期帮助零售商整理货架，并在促销时为其设计吸引人眼球的商品陈列形式
 - D. 经销商根据制造商提供的广告文案和材料自行制定广告计划，制造商给予一定金额的补贴

82. 不当管理是指领导者对其直接下属持续性地表现出语言性或非语言性的敌意行为。这些行为主要包括两大类：一类反映了领导者的主动性不当管理行为，如嘲笑下属，说下属能力不足；另一类则反映了较为被动的不当管理行为，如对下属不理不睬等。
根据上述定义，下列选项中体现了主动性不当管理的是（ ）。
- A. 甲勤恳工作，一直深受领导喜欢，某次因错失一笔大订单被领导责骂
 - B. 领导认为人缘好的乙在搞小团体，多次在会议上明里暗里讽刺他
 - C. 某公司老板一直以冷面示人，即使业绩最优秀的丙也得不到他的赞扬
 - D. 丁刚进公司，工作上谨小慎微，可仍然有资历老的同事对他处处刁难
83. 动物通讯是动物间的信息交流，常表现为一个动物借助自身行为或身体标志作用于其他动物（同种或异种）的感觉器官从而改变后者的行为。信息以信号为载体发送出去，为各种外感受器所接受。所用信号有以下各种形式：①声音；②视觉形象；③化学物质；④触觉信号。
根据上述定义，下列不属于动物通讯的是（ ）。
- A. 侦察蜂用留在身上的花香来表示蜜源的性质，而蜜源的距离、方位等信息均用特殊的舞蹈动作来传递
 - B. 猫具有灵巧的肌肉骨骼系统以及超强的平衡感，这使它即使在空中也能迅速地调整自己安全着地
 - C. 许多蜥蜴背色与环境一致，在求偶时会立起身体显露出色彩鲜艳的腹部以吸引雌体或恐吓敌手
 - D. 蚱蜢遇到可疑情况时会跳来跳去，每跳一步之前发出一声声短促的卡嗒声，向同类传递预备起飞的信息
84. 诈骗罪是指以非法占有为目的，用虚构事实或者隐瞒真相的方法，骗取数额较大的公私财物的行为。诈骗罪侵犯的对象，仅限于国家、集体或个人的财物，而不是骗取其他非法利益。其对象，也应排除金融机构的贷款。
根据上述定义，下列属于诈骗罪的是（ ）。
- A. 王某利用电信运营商网络存在的漏洞，为自己手机非法充值2000元
 - B. 李某谎称未婚，以结婚为名向多名单身男子索要了数万元聘礼后逃跑
 - C. 张某冒充国家某部委领导，骗取某女的信任与之同居
 - D. 刘某低价出售其别墅时隐瞒了该别墅曾发生凶杀案的情况
85. 个性化营销就是企业面向消费者，直接服务于顾客，并按照顾客的特殊要求提供个性化产品的新型营销方式。它避开了中间环节，注重产品设计创新、服务管理、企业资源的整合经营效率，实现了市场的形成和裂变发展，是企业制胜的武器。
根据上述定义，下列不属于个性化营销的是（ ）。
- A. 甲公司的销售人员在推销产品时，针对不同年龄阶段的顾客制定了不同的广告词，使顾客产生对推销品强烈拥有的愿望
 - B. 乙公司提供的个人电脑都是迎合顾客需求的，顾客可以选择不同尺寸的显示器、不同品牌的微处理器或其他配件设备
 - C. 网站通过百分点个性化推荐系统，智能向用户展示符合其兴趣偏好和购买意图的商品，帮助用户更快速更容易找到所需要的商品
 - D. 网上书店的推荐软件能对顾客购买过的东西进行自动分析，然后因人而异地提出合适的建议，方便顾客下次能更容易买到想要的书

三、类比推理。每道题先给出一组相关的词，要求你在备选答案中找出一组与之在逻辑关系上最为贴近，相似或匹配的词。

请开始答题：

86. 电压：电势差
 A. 电流：电量
 C. 电容器：元件
 B. 电感：阻抗
 D. 地线：避雷线
87. 变色龙：见风使舵
 A. 笑面虎：趋炎附势
 C. 糊涂虫：百依百顺
 B. 井底蛙：外强中干
 D. 磨洋工：苟且怠惰
88. 琥珀：化石
 A. 劣迹：痕迹
 C. 钢琴：才艺
 B. 文物：修复
 D. 墨绿：颜色
89. 相离：相交
 A. 芦笋：竹笋
 C. 蒸馏酒：酿制酒
 B. 人工湖：天然湖
 D. 植物园：动物园
90. 布绒玩具：科教玩具：幼儿玩具
 A. 现金：支票：信用卡
 C. 敞篷车：越野车：牵引车
 B. 花瓶：瓷器：青花瓷
 D. 玻璃杯：咖啡杯：情侣杯
91. 借阅：归还：图书
 A. 复制：粘贴：文字
 C. 缴纳：查询：社保
 B. 购票：观看：演出
 D. 死机：重启：电脑
92. 齿轮：设备：钢铁
 A. 试剂：实验：硫酸
 C. 书籍：教材：纸张
 B. 干冰：舞台：烟雾
 D. 梁柱：房屋：木材
93. 仙人掌：沙漠：刺
 A. 行星：液态水：火星
 C. 打印机：打印店：墨盒
 B. 鲤鱼：大海：鳍
 D. 集装箱：木头：钉子
94. 蜜蜂对于（ ）相当于（ ）对于黄牛
 A. 花粉；牛黄
 C. 雄蜂；奶牛
 B. 蜂蜜；牛肉
 D. 黄蜂；水牛
95. 牢不可破对于（ ）相当于（ ）对于出众
 A. 坚定；卓尔不群
 C. 金汤；才高意广
 B. 胜利；青云直上
 D. 意志；泛泛之辈

四、逻辑判断。每道题给出一段陈述，这段陈述被假设是正确的，不容置疑的。要求你根据这段陈述，选择一个答案。注意：正确的答案应与所给的陈述相符合，不需要任何附加说明即可以从陈述中直接推出。

请开始答题：

96. 自2015年中间价形成机制改革以来，已经令人民币从锚定美元，快速逆转为很大程度上走向美元的镜像关系，除非贸易摩擦对美元指数和中国的国际收支结构产生实质性影响，否则难以冲击人民币汇率。只有人民币汇率稳定，才能证明人民币汇率未受到冲击。
由此可以推出（ ）。
- A. 人民币与美元呈镜像关系，贸易摩擦对美元指数和中国的国际收支结构产生实质性影响
B. 要想贸易摩擦对美元指数和中国的国际收支结构产生实质性影响，必须冲击人民币汇率
C. 贸易摩擦对美元指数和中国的国际收支结构并未出现实质性影响，说明人民币汇率稳定
D. 贸易摩擦对美元指数的影响可能并不明确，但人民币汇率对贸易摩擦会表现得更加敏感
97. 最近几年，类似熊孩子盗用父母银行卡或支付方式，大额充值游戏的情况越来越多，父母发现后，以孩子未经允许充值为理由要求游戏公司退还这部分充值，然而真正能得到游戏公司退还的情况却非常少见。
以下哪项如果为真，最能解释这一情况的是？（ ）
- A. 家长向游戏公司要求退款的行为是依法且正当的，游戏公司当然应及时全部退还
B. 游戏公司没有认真落实网络实名制，使得大量游戏账号充值无身份限制
C. 父母主张退款，需父母证明充值行为是孩子所为且家长不知情，而这确实难以证明
D. 除非游戏平台能证明充值行为系成年人所为，否则游戏公司都应全额退款
98. 一项研究发现，蒸桑拿可降低中风的风险。研究人员用15年时间追踪调查了生活在芬兰东部的1628名53岁至74岁的人。他们被分成3组，第一组人每周蒸桑拿1次，第二组每周蒸桑拿2至3次，第三组每周蒸桑拿4至7次。每周蒸桑拿4至7次的人比每周仅蒸桑拿1次的人罹患中风的风险低61%。结果表明，蒸桑拿越频繁，患中风的风险越低。
以下哪项如果为真，最能支持上述结论？（ ）
- A. 心脏病患者蒸桑拿，由于体力消耗较大，血液循环加剧，从而加重心脏的负荷，诱发心力衰竭
B. 桑拿浴的温度要比体温高出许多，不利于精子生长，或造成精子活力下降过多，导致男性不育
C. 蒸桑拿具有保健功效，对风湿症、关节炎、腰背痛、哮喘、支气管炎、神经衰弱均有一定疗效
D. 调查中即使剔除年龄、性别等与中风有关的风险因素，蒸桑拿与降低中风风险的关联依然存在
99. 商业学院要选两名队员去参加校级的游泳比赛，关于学院游泳队张、王、赵、林四位同学是否入选有如下意见：
(1) 张同学和赵同学都应该入选；
(2) 王同学成绩一直很稳定，应该入选；
(3) 张同学和王同学最多入选一个；
(4) 林同学最近身体状况不佳，不应该入选；
(5) 如果赵同学入选，则张同学未入选。
已知以上意见只有一条与选拔结果不符，由此可以推知（ ）。
- A. 王同学和张同学都能入选
B. 林同学和赵同学都未入选
C. 张同学和赵同学都能入选
D. 王同学和赵同学都能入选
100. 节假日该怎么过，是“忙几天”还是“躺几天”？虽然每个人都有自己的选择，但何者更有意义，其实一目了然。过年过节，让平日紧绷的神经得到放松自是理所应当，但必须警惕的是，怠惰懒散一旦成为习惯，就很容易陷入舒适的陷阱，丧失生活的斗志。事实上，与其在节假日里玩乐虚度、烦恼抱怨，不如多做一些有意义的事，让空闲的日子成为自身成长的缓冲区和加油站。
由此，可以推出（ ）。
- A. 是否丧失生活的斗志取决于个人的意志力
B. 只有奋斗的人生才称得上幸福的人生
C. 年轻人与其“躺下去”，不如“忙起来”
D. 过节的幸福感表现在一件件小事上

101. 近来“大数据杀熟”刷屏引发关注，不少用户突然发现，使用打车软件出行、通过订票网站预订电影票时，等级高的常客反而要支付更高的价格；而很少使用相关服务的“小白”顾客，却能享受到较低的价格，而这些变化从未有人通知。有数据研究专家认为，通过数据挖掘和算法分析算出用户对于某种产品或服务的价格敏感情况，从而制定差异化的价格很正常，因此，“大数据杀熟”对于消费者而言是合理行为。
- 以下哪项如果为真，最不能反驳上述观点？（ ）
- A. “大数据杀熟”行为已经构成违背消费者知情权的价格欺诈
 - B. “大数据杀熟”行为是利用忠实用户信息不对称，“劫”人钱财
 - C. 利用大数据定价本是无可非议，但不透明的差异化价格就是欺客
 - D. “大数据技术”本身是中性的，关键在于使用者用来做什么
102. 最新研究发现，雌雄差别越大，物种的灭绝风险就越高。在一个物种中，某些成员因为拥有有助于吸引配偶或增强繁殖竞争力的特征，因而拥有更高的繁殖成功率，这是出于性选择的考虑，其可能导致一个物种两性之间出现明显的身体差异，即“两性异形”。很多鸟类在羽毛颜色上出现了两性异形，有些物种则是在体型上存在两性异形现象。研究者对生活在晚白垩纪的介形亚纲动物进行了比较，他们发现那些雌雄差异最大的物种也是最容易灭绝的，灭绝风险甚至能比其它物种高10倍。
- 以下哪项结果为真，最能支持上述研究结论？（ ）
- A. 在大自然中，有机体能否成功繁殖比能否长期生存更为重要
 - B. 雌雄差异较大的物种可用于其他生存功能的资源可能就变少
 - C. 雄性哺乳动物的体型通常比雌性大，但蜘蛛等其它动物则相反
 - D. 研究存在局限性，只考虑到依赖于灭绝风险指标而非实际物种
103. 在西安市咸新区境内的古代墓地“意外”发现龟甲。据了解，古人以动物的骨、甲制成占卜的器具，根据骨、甲上的“兆纹”判断事情的凶吉，盛行于夏商周三代，这些龟甲极有可能是巫师占卜工具。专家推测，这座墓葬的主人是当时一位“巫师”级人物。
- 以下哪项如果为真，最能反驳专家推测？（ ）
- A. 该龟甲的外面对应有兆纹，侧面有被火灼烧过的痕迹，这是一件使用过的占卜器具
 - B. 通过龟甲上残存的凿孔、花纹及其排列方式判断，这是西周时期的古物
 - C. 这些龟甲整体略呈弧形，表面刻有骆越文化时期的文字，属于一种稀有的古代货币
 - D. 在竖穴墓道洞室墓中，墓主人的头朝向西，其下肢弯曲，属于比较典型的秦人葬俗
104. 《关于实施中华优秀传统文化传承发展工程的意见》专门要求，“把中华优秀传统文化全方位融入思想道德教育、文化知识教育、艺术体育教育、社会实践教育各环节，贯穿于启蒙教育、基础教育、职业教育、高等教育、继续教育各领域。”各个学校为推广优秀传统文化，开展了各种样式的大型活动。某校长认为，课堂是传统文化传承的主阵地，应该让传统文化不仅走进学校，更要走进课堂。
- 以下哪项如果为真，最能支持校长的观点？（ ）
- A. 传统文化在课堂的传承更加长效、全面、系统、可持续
 - B. 课堂教育往往过度强调技能，忽略传统文化内涵的挖掘
 - C. 不同地区的学校对于弘扬传统文化尚无统一的实施规划
 - D. 课堂传授新型文化可以真正地启迪学生，感悟文化之美

105. 吴涛、张彬、李炎、陈磊、高鑫是大学同学，大学毕业后每个人选择一个城市去旅行。

已知：

- ①吴涛和李炎选择的城市是一样的；
- ②如果陈磊去大理，张彬就去拉萨；
- ③吴涛和张彬至少一人去杭州；
- ④他们五人中，至少有一人去三亚；
- ⑤高鑫或者去三亚或者去大理。

如果5人中，只有一人去杭州，至多有多少人去三亚？（ ）

- A. 1
- B. 2
- C. 3
- D. 4

二、二、根据以下资料，回答问题。

2019年，全区规模以上工业实现总产值5716.6亿元，同比下降6.3%，降幅较上半年收窄4.1个百分点。其中，属地规模以上工业实现产值3563.6亿元，同比下降6.6%，降幅较上半年收窄4.3个百分点。从汽车生产来看，全区汽车产业实现工业产值4073.9亿元，同比下降8.0%。汽车零部件制造业实现产值1920.8亿元，同比下降10.5%。1-11月，全区规模以上工业企业实现利润总额477.9亿元，同比下降20.9%。其中，属地规模以上工业企业实现利润223.4亿元，同比下降17.9%。

2019年，全区战略性新兴产业实现工业产值1182.4亿元，同比增长5.1%。2019年，全区四大新兴产业实现产值510.0亿元，同比增长10.1%，占全区属地规上工业总产值的14.3%，比重较去年同期提高2.3个百分点。

2019年，全区实现商品销售总额6887.6亿元，同比增长7.4%，增速较去年同期提高4.3个百分点。属地商品销售总额实现3990.0亿元，同比增长17.9%，增速较去年同期提高13.2个百分点。

111. 2017年全区规模以上工业实现总产值约为（ ）亿元。

- A. 6100
- B. 6240
- C. 6600
- D. 6800

112. 2018年，全区汽车产业实现工业产值较零部件制造业高约（ ）倍？

- A. 1
- B. 1.5
- C. 2
- D. 2.5

113. 2019年1-11月，非属地规模以上工业企业实现利润同比减少约（ ）亿元。

- A. 50
- B. 60
- C. 70
- D. 80

114. 2019年全区战略性新兴产业实现工业产值占规模以上工业总产值的比重同比（ ）。

- A. 提高约11个百分点
- B. 提高约3.2个百分点
- C. 降低约11个百分点
- D. 降低约3.2个百分点

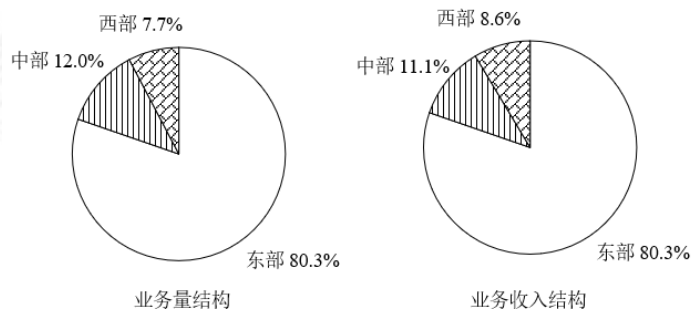
115. 下列说法，能够从资料中推出的是（ ）。

- A. 2019年前11个月全区规模以上工业企业月均实现利润高于全年平均利润
- B. 2019年全区战略性新兴产业实现工业产值占全区规模以上工业总产值约两成
- C. 2019年汽车零部件制造业实现产值超过整个汽车工业产值的一半
- D. 2018年全区商品销售总额同比增速较属地商品销售总额增速高1.6个百分点

三、三、根据以下资料，回答问题。

2018年上半年，全国快递服务企业业务量累计完成220.8亿件，同比增长27.5%；业务收入累计完成2745亿元，同比增长25.8%。其中，同城业务量累计完成50.9亿件，同比增长26.2%；异地业务量累计完成164.7亿件，同比增长27.5%；国际/港澳台业务量累计完成5.2亿件，同比增长43.1%。

6月份，全国快递服务企业业务量完成42.3亿件，同比增长24.2%；业务收入完成508.6亿元，同比增长21.1%。



2018年上半年全国快递服务企业业务量及业务收入分地区构成情况

116. 2017年6月份, 全国快递服务企业业务量约为 () 亿件。
 A. 47.3 B. 41.4
 C. 38.5 D. 34.1
117. 2018年上半年, 全国快递服务企业业务量中, 异地业务量约比同城业务量多多少倍? ()
 A. 0.92 B. 1.76
 C. 2.24 D. 3.24
118. 2018年上半年, 全国快递服务企业平均每件快递业务创造的收入同比增长约 () 。
 A. 1.3% B. -1.3%
 C. 1.9% D. -1.9%
119. 2018年上半年, 我国各地区快递服务企业平均每件快递业务创造的收入排序正确的是 () 。
 A. 西部>东部>中部 B. 中部>东部>西部
 C. 西部>中部>东部 D. 东部>中部>西部
120. 以下关于全国快递服务企业的说法中, 正确的是 () 。
 A. 2018年上半年, 同城快递业务量不足全部快递业务量的20%
 B. 2017年6月份, 全国快递业务收入达到450多亿元
 C. 2018年上半年, 国际/港澳台快递业务量同比增长超过1.4亿件
 D. 2018年上半年, 东部地区快递业务量超过中部地区的8倍

四、四、根据以下资料, 回答问题。

2017年, 邮政行业业务收入 (不包括邮政储蓄银行直接营业收入) 累计完成6622.6亿元, 同比增长23.1%; 业务总量累计完成9763.7亿元, 同比增长32%。

12月份, 全行业业务收入完成653.9亿元, 同比增长20.6%; 业务总量完成1014.1亿元, 同比增长29.7%。

2017年邮政行业业务运行情况

指标名称	单位	12月份		同比增长 (%)	
		累计	当月	累计	当月
邮政行业业务收入	亿元	6622.6	653.9	23.1	20.6
1.邮政寄递业务	亿元	353.9	31.0	14.8	18.3
2.快递业务	亿元	4957.1	519.8	24.7	20.8
邮政行业业务总量	亿元	9763.7	1014.1	32.0	29.7
1.邮政寄递业务	万件	2361976.5	206362.9	1.4	3.0
其中: 函件	万件	314844.2	25799.0	-13.0	-4.5
包裹	万件	2658.0	278.4	-4.9	-4.8
订销报纸数	万份	1770567.2	150197.0	-1.6	-3.4
订销杂志数	万份	79177.1	6383.6	-7.0	-3.9
汇兑	万笔	3743.7	290.6	-35.5	-39.3
2.快递业务	万件	4005591.9	420037.7	28.0	23.7
其中: 同城	万件	926813.3	97313.8	25.0	27.1
异地	万件	2996248.8	313511.6	28.9	22.3
国际/港澳台	万件	82529.8	9212.3	33.8	38.8

121. 2017年邮政行业业务收入中, 除邮政寄递业务和快递业务之外的其他业务收入所占比重约为 () 。
 A. 27.2% B. 19.8%
 C. 76.8% D. 80.2%

122. 与2016年相比, 2017年邮政行业业务总量平均每月增长约()亿元。
- A. 197.2
B. 100.3
C. 260.2
D. 813.6
123. 2016年前11个月, 快递业务收入约为()亿元。
- A. 3545
B. 4447
C. 4260
D. 3782
124. 2017年邮政寄递主要业务中, 12月业务量同比增速与全年同比增速相差最大的是()。
- A. 汇兑
B. 订销杂志数
C. 订销报纸数
D. 函件
125. 下列说法中, 正确的是()。
- A. 2017年前11个月, 邮政行业业务收入同比增速不足20%
B. 2016年, 异地快递业务量超过同城快递业务量的3倍
C. 2017年12月订销杂志数超过前11个月的平均值
D. 2016年, 邮政寄递业务中包裹累计业务量超过2800万件